

Сьогодні
07.11.2023

Урок
№ 39-4

Всім.pptx
Нова українська школа



Читання і запис трицифрових чисел. Складена задача на знаходження суми двох добутків

У класі стало тихенько,
Усі сидять рівненько,
Вчитель до вас
усміхається,
Наш урок
розпочинається



200

199



135

134



137

136



130

129



150

149



167

166





РУХЛИВА ВПРАВА!



Сьогодні
07.11.2023

**Робота із
підручником
«Математика»
А.Заїка,
с. 82-83, частина
1.**



Сьогодні
07.11.2023

Прочитай числа в нумераційній таблиці. Поясни записи сум.
Допиши за зразком третю суму

Сотні	Десятки	Одиниці
1	3	7
3	4	5
8	6	2

$$137 = 1 \text{ сот.} + 3 \text{ дес.} + 7 \text{ од.}$$

$$345 = 3 \text{ сот.} + 4 \text{ дес.} + 5 \text{ од.}$$

$$862 = \boxed{8} + \boxed{6 \text{ дес.}} + \boxed{2 \text{ од.}}$$

СОТ.



Сьогодні
07.11.2023

Прочитай трицифрові числа. Скільки сотень, десятків та одиниць у кожному з них? Запиши рівності



149, 150, 222, 471, 583, 794

149 = 1 сот. + 4 дес. + 9 од.

150 = 1 сот. + 5 дес.

222 = 2 сот. + 2 дес. + 2 од.

471 = 4 сот. + 7 дес. + 1 од.

583 = 5 сот. + 8 дес. + 3 од.

794 = 7 сот. + 9 дес. + 4 од.



Класна робота

100 100 100 100 100 100

Запиши каліграфічно десять десятків

Сьогодні
07.11.2023

Запиши числа цифрами. Прочитай їх

а) 2 сот.

9 сот. 1 дес. 3 од.; 9 сот. 9 дес. 9

од.

б) двісті сорок вісім; триста двадцять три; п'ятсот шістдесят дев'ять; сімсот сімдесят сім;



235

324

540

913

999

248

323

569

777

770



Полічи від 100 до 200 десятками.
Полічи від 200 до 100 (за
спаданням).



Сьогодні
07.11.2023

Обчисли вирази

$$200 + 3 = 203$$

$$300 + 5 = 305$$

$$200 + 10 = 210$$

$$300 + 50 = 350$$

$$400 - 200 = 200$$

$$700 + 100 = 800$$

$$500 - 100 = 400$$

$$600 + 400 = 1000$$

Сьогодні
07.11.2023

Порівняй. Запиши числові нерівності. Прочитай їх

$$300 + 200 > 300$$

$$500 + 300 > 700$$

$$400 - 100 < 400$$


$$500 - 300 = 200$$

$$29 + 16 = 44 + 1$$

$$5 \cdot 9 = 45 + 0$$

Сьогодні
07.11.2023

Сторона квадрата — відрізок АВ. Обчисли периметр квадрата, якщо АВ = 5 см; АВ = 7 см; АВ = 10 см.



$$P = 5 \cdot 4 = 20 \text{ (см)}$$

$$P = 7 \cdot 4 = 28 \text{ (см)}$$

$$P = 10 \cdot 4 = 40 \text{ (см)}$$

Сьогодні
07.11.2023

Домашнє завдання



На сторінці підручника 83
скласти задачу №323, розв'
язати вирази №324, творче
завдання №325.

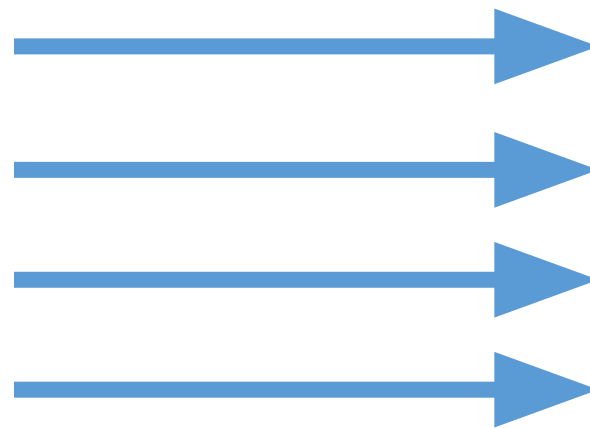
У зошиті на сторінці 29
виконати завдання .

*Короткий запис у щоденник
С.83, №323, №324, №325
З.с.29*

Сьогодні
07.11.2023


Упиши. Поясни значення цифр. Прочитай числа

Сотні	Десятки	Одиниц і
1	0	1
1	0	8
2	3	0
3	5	4



Число
101
108
230
354

Число
203
415
560
789



Сотн і	Десятки	Одиниц і
2	0	3
4	1	5
5	6	0
7	8	9

