



Ensino Médio

3ª Série



PROFESSOR(A):

**ADRIANO
RAMALHO**



DISCIPLINA:

GEOGRAFIA



CONTEÚDO:

**FORMAÇÃO
TERRITORIAL
BRASILEIRA**



DATA:

12/04/2022

FORMAÇÃO E ORGANIZAÇÃO DO TERRITÓRIO BRASILEIRO

Os primeiros núcleos urbanos surgiram no litoral em decorrência do modo de ocupação do território brasileiro.



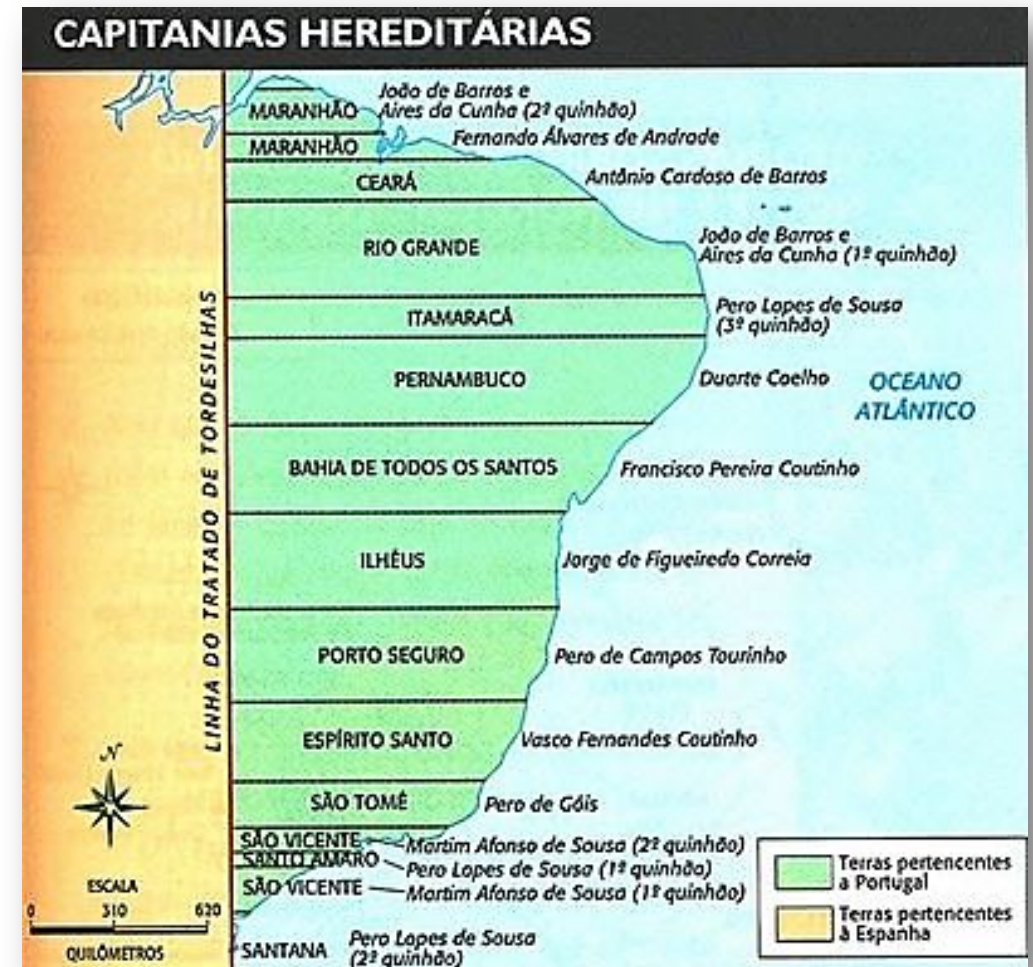


BONDE ELÉTRICO COMEÇA A CIRCULAR NO CENTRO DO RIO

PONTE ESTAIADA SOBRE O RIO TIETÊ



Até o século XVI, o Brasil possuía apenas a área estabelecida pelo Tratado de Tordesilhas, assinado em 1494 por Portugal e Espanha. Esse tratado dividia as terras da América do Sul entre Portugal e Espanha.



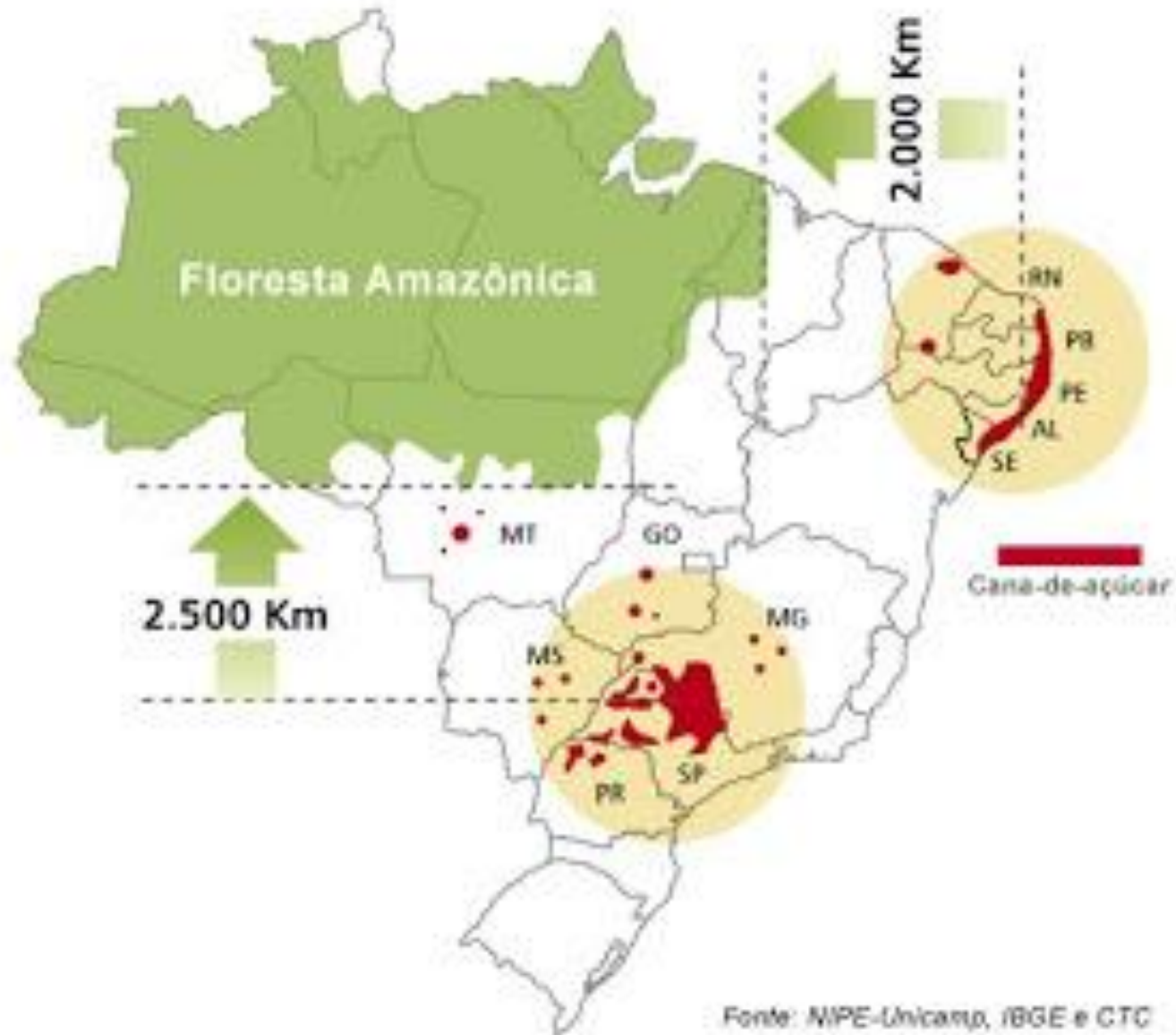


No século XVI

A ocupação limitava-se ao litoral, a principal atividade econômica desse período foi o cultivo de **CANA** para produzir o açúcar, as propriedades rurais eram grandes extensões de terra, cultivadas com força de trabalho escrava.



CANA DE AÇÚCAR















Século XVII e XVIII

Foram marcados pela produção pastoril que adentrou a oeste do país e também pela descoberta de jazidas de **OURO E DIAMANTE** nos estados de Goiás, Minas Gerais e Mato Grosso. Esse período foi chamado de aurífero e fez surgir várias cidades.



As empresas empregam pessoas locais, mas o Brasil não leva muita vantagem pois os impostos são baixos para estas empresas e elas têm controle da venda dos produtos extraídos em território nacional, ficando com o lucro das vendas e muitas vezes vendendo o produto extraído para os próprios brasileiros por um preço considerável.

Terra dourada

Mapa do ouro no país mostra que empresas estrangeiras detêm quase 100% do mercado brasileiro





Terra dourada

Mapa do ouro no país mostra que empresas estrangeiras detêm quase 100% do mercado brasileiro

■ Local ■ Empresa exploradora ■ País



*Projeto em fase de implantação

Fonte: Departamento Nacional de Produção Mineral (DNPM)

Século XIX

A atividade que contribuiu para o processo de urbanização foi a produção de **CAFÉ**, principalmente nos estados de São Paulo, Rio de Janeiro, Minas Gerais e Espírito Santo. Essa atividade também contribuiu para o surgimento de várias cidades.



Estados produtores

TIPOS DE CAFÉ

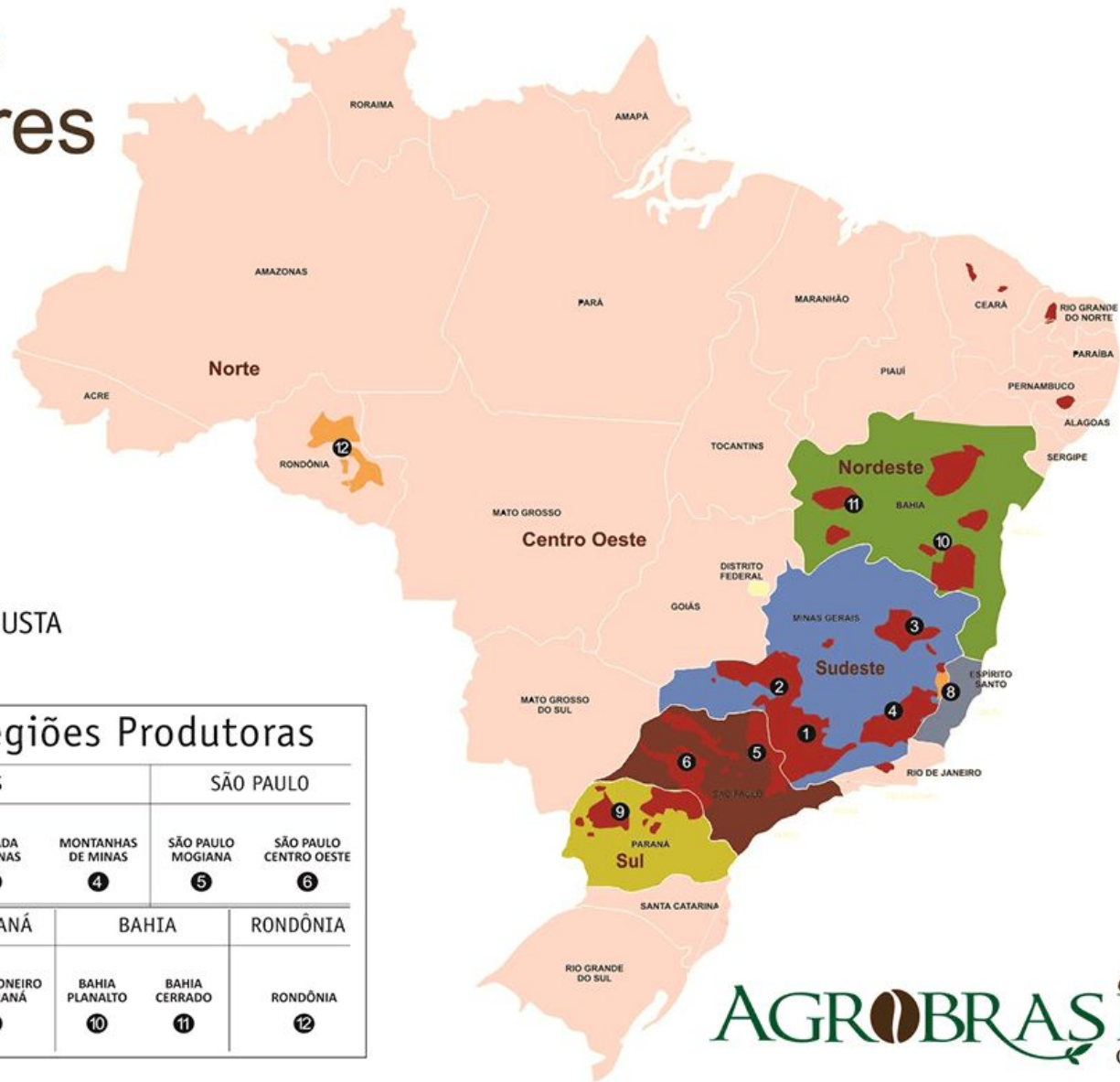


ARÁBICA



CONILON / ROBUSTA

MINAS GERAIS				SÃO PAULO	
SUL DE MINAS 1	CERRADO 2	CHAPADA DE MINAS 3	MONTANHAS DE MINAS 4	SÃO PAULO MOGIANA 5	SÃO PAULO CENTRO OESTE 6
ESPÍRITO SANTO		PARANÁ	BAHIA		RONDÔNIA
MONTANHAS DO ESPÍRITO SANTO 7	CONILON CAPIXABA 8	NORTE PIONEIRO DO PARANÁ 9	BAHIA PLANALTO 10	BAHIA CERRADO 11	RONDÔNIA 12









Século XX

A **INDUSTRIALIZAÇÃO** brasileira no período militar (1964 – 1985) tivemos fortes investimentos: transporte, energia e comunicação formando um parque industrial.





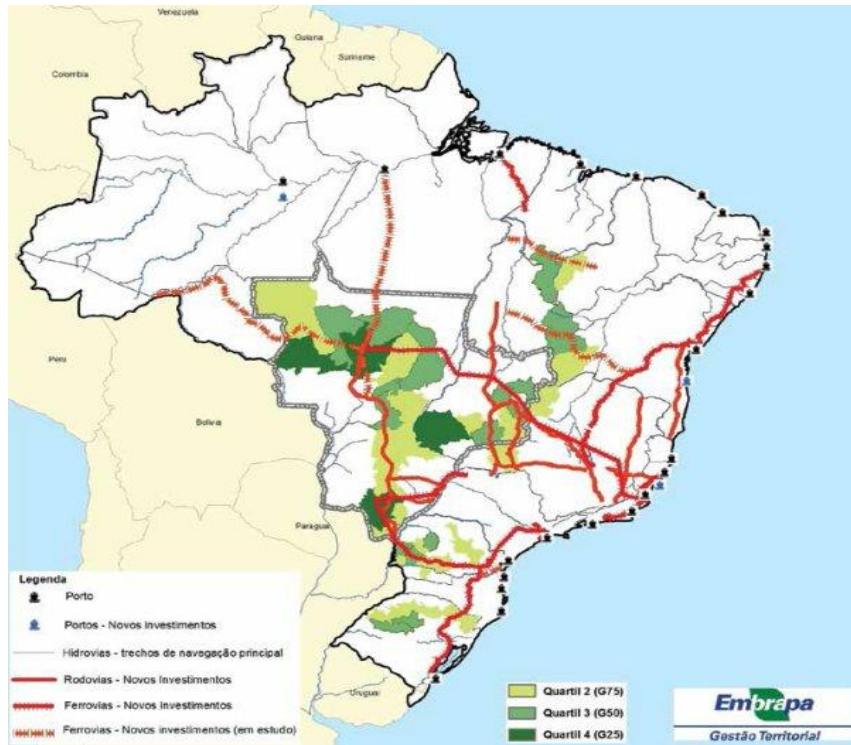




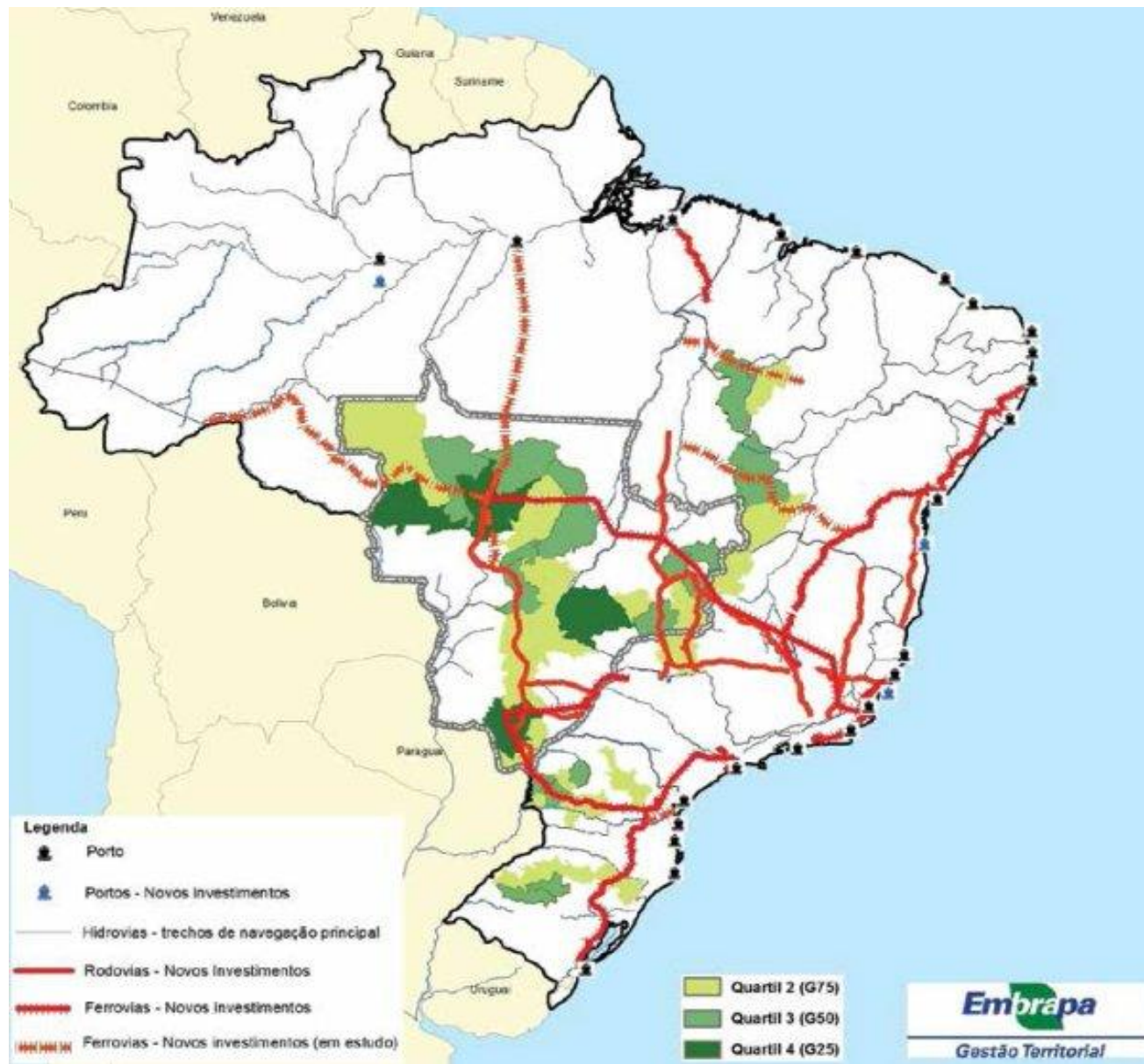


Século XXI

Neoliberalismo com as privatizações onde ocorreu a venda das empresas estatais desestatização Globalização. O campo começa a se modernizar cada vez mais e a produção de soja, trigo, arroz e milho se tornam muito importantes.



MAPA DO AGRONEGÓCIOS NO BRASIL



01- No Brasil colônia, a pecuária teve um papel decisivo na:

- a) ocupação das áreas litorâneas.
- b) expulsão dos assalariados do campo.
- c) formação e exploração dos minifúndios
- d) fixação do escravo na agricultura
- e) expansão para o interior

02- Ainda no século XVI, os colonizadores do Brasil organizaram expedições oficiais, conhecidas como entradas, com o propósito de:

- a) descobrir ouro e pedras preciosas e escravizar indígenas
- b) realizar caças a animais selvagens para exportar e vender na Europa
- c) retirar mudas de plantas raras e comercializar em outros países
- d) explorar ilhas importantes e domina-las para a formação de lugares turísticos
- e) comercializar produtos vindos da Europa com os indígenas

03- O tratado de Tordesilhas, firmado em 1494, dividiu as terras recém-descobertas entre:

- a) Itália e França
- b) Espanha e Portugal
- c) Alemanha e Inglaterra
- d) Espanha e Inglaterra
- e) França e Alemanha

04- Com Extensão territorial de 8.514.876 quilômetros quadrados, o Território brasileiro ocupa 48% do subcontinente sul-americano. Sua grande dimensão e localização proporcionam fronteiras com quase todos os países da América do Sul. Marque a alternativa que indica as duas únicas nações sul-americanas que não fazem fronteira com o Brasil.

- a) Argentina e Uruguai
- b) Equador e Chile
- c) Colômbia e Suriname
- d) Chile e Panamá
- e) Paraguai e Venezuela