



Phòng Giáo dục và Đào tạo quận Long Biên
Trường Tiểu học Phúc Lợi

TOÁN 4

Bài 9: Luyện tập chung (Tiết 1)

Năm học 2024 - 2025

TOÁN

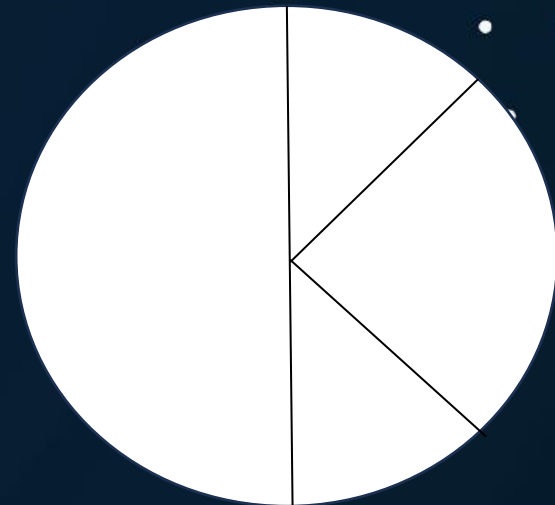

LUYỆN TẬP
CHUNG

(Trang 31)



KHỞI ĐỘNG

Thực hành tạo góc:
- Chuẩn bị 2 tờ giấy hình tròn, kích thước khác nhau.



TOÁN

LUYỆN TẬP
CHUNG

(Trang 31)



YÊU CẦU CẦN ĐẠT

1. Củng cố sử dụng đơn vị góc.

2. Củng nhận biết góc nhọn, góc vuông, góc tù và góc bẹt.

3. Vận dụng giải được các bài tập, bài toán thực tế liên quan đến đơn vị góc và nhận biết góc vuông, góc nhọn, góc tù và góc bẹt.



Chặng 1

Chặng 2

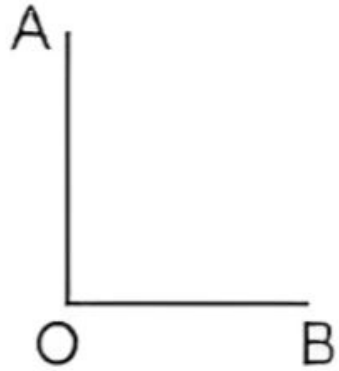
Chặng 3

Chặng 4

CHẶNG 1



Bài 1: Đo rồi nêu số đo của các góc sau:



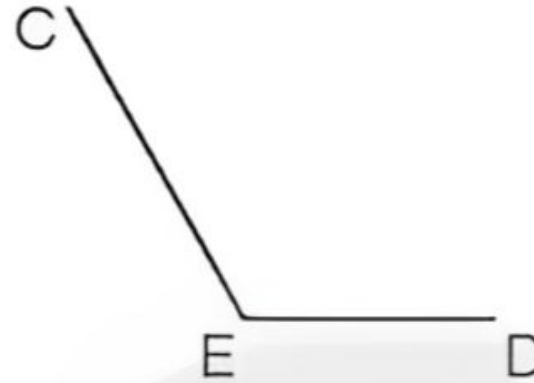
Góc đỉnh O, cạnh
OA, OB: 90°

**Góc vuông
có số đo
bằng 90°**



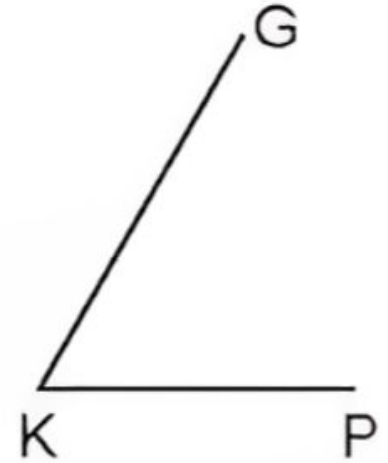
Góc đỉnh I, cạnh
IM, IN: 180°

**Góc bẹt có
số đo bằng
 180°**



Góc đỉnh E, cạnh
EC, ED: 120°

**Góc tù có
số đo lớn
hơn 90°**



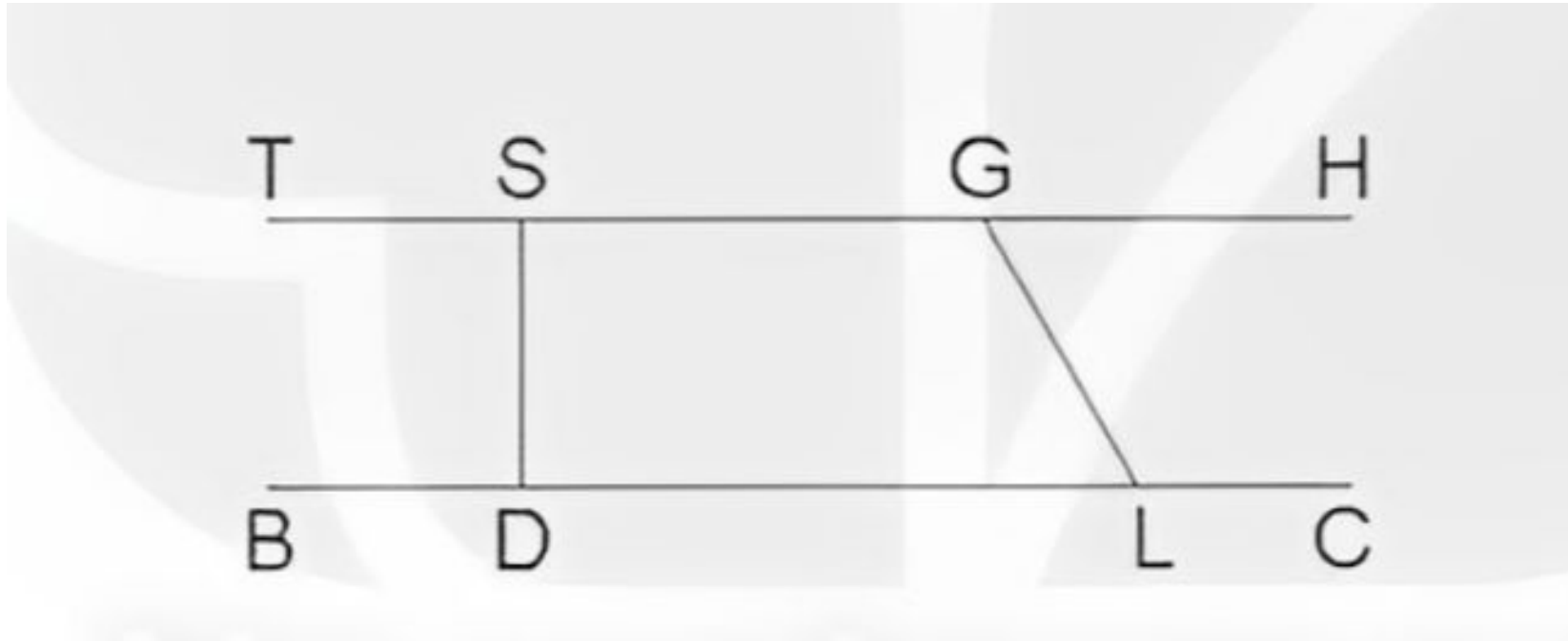
Góc đỉnh K, cạnh
KP, KG: 60°

**Góc tù có
số đo bé
hơn 90°**



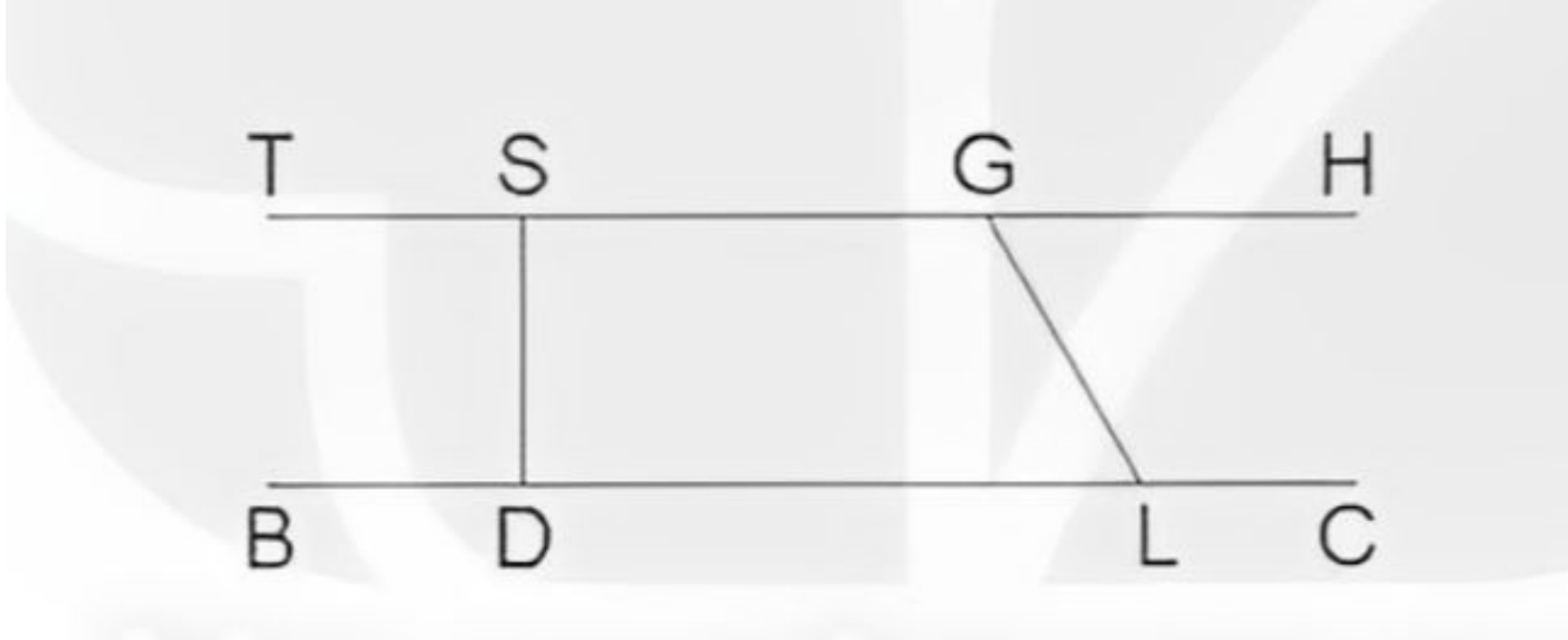
CHẶNG 2

Bài 2: Dùng thước đo góc để tìm số đo của các góc



- a) Góc đỉnh S, cạnh ST, SD. b) Góc đỉnh D, cạnh DS, DL.
c) Góc đỉnh G, cạnh GS, GL. b) Góc đỉnh L, cạnh LG, LC.

Bài 2:



a) Góc đỉnh S, cạnh ST, SD.

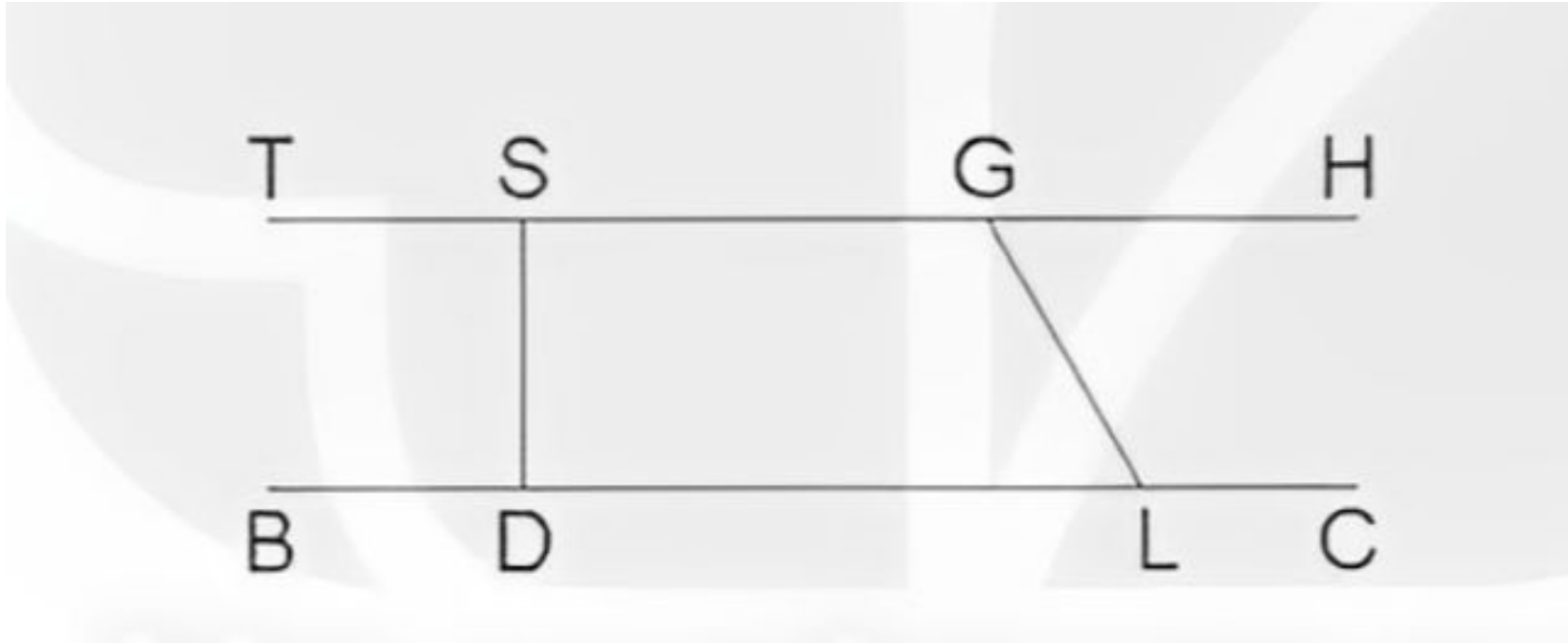
Góc đỉnh S, cạnh ST, SD: 90°



b) Góc đỉnh D, cạnh DS, DL.

Góc đỉnh D, cạnh DS, DL : 90°

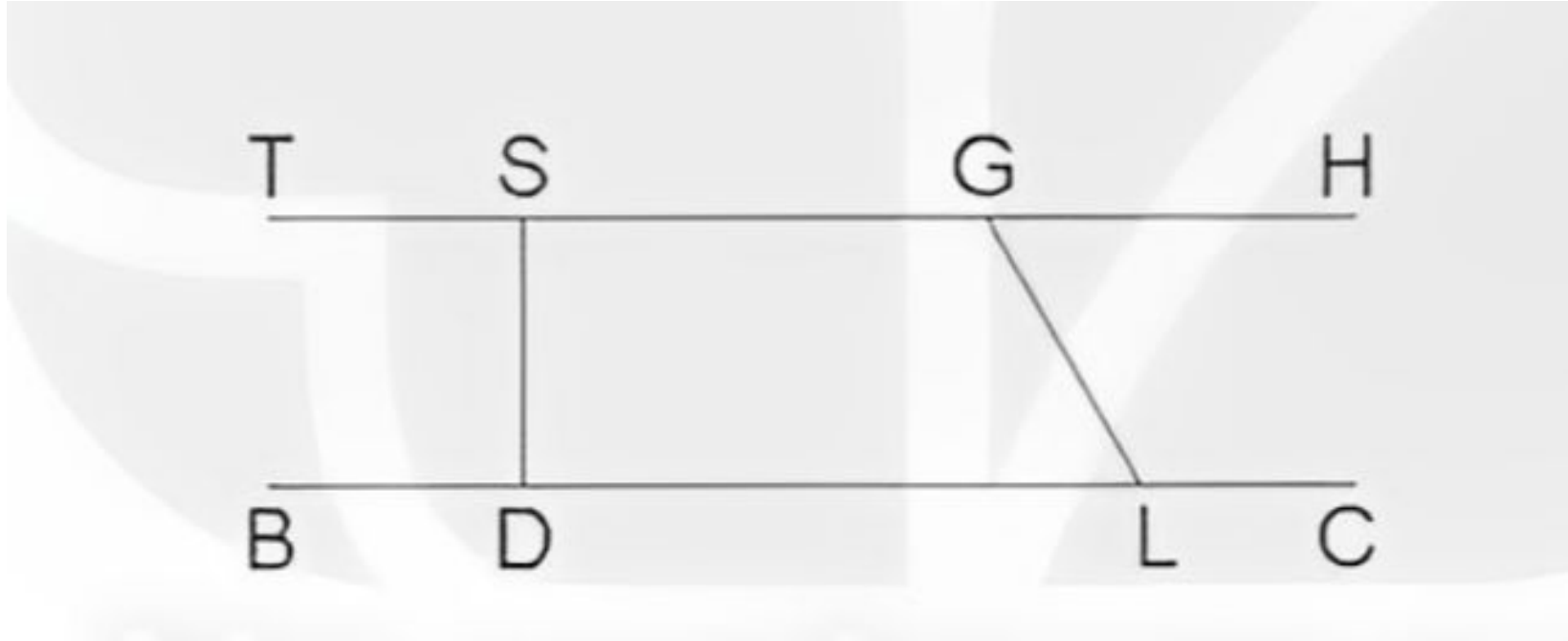
Bài 2:



c) Góc đỉnh G, cạnh GS, GL.

Góc đỉnh G, cạnh GS, GL : 120°

Bài 2:



d) Góc đỉnh L, cạnh LG, LC.

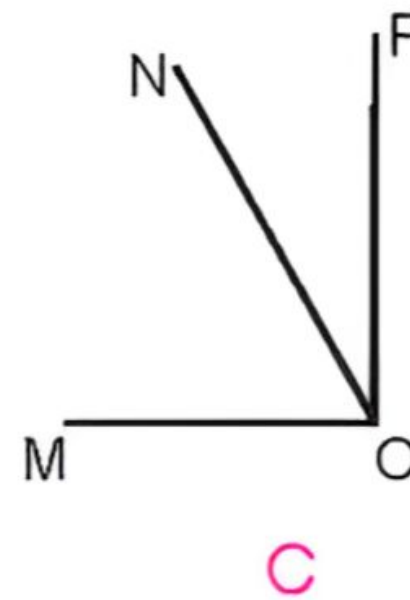
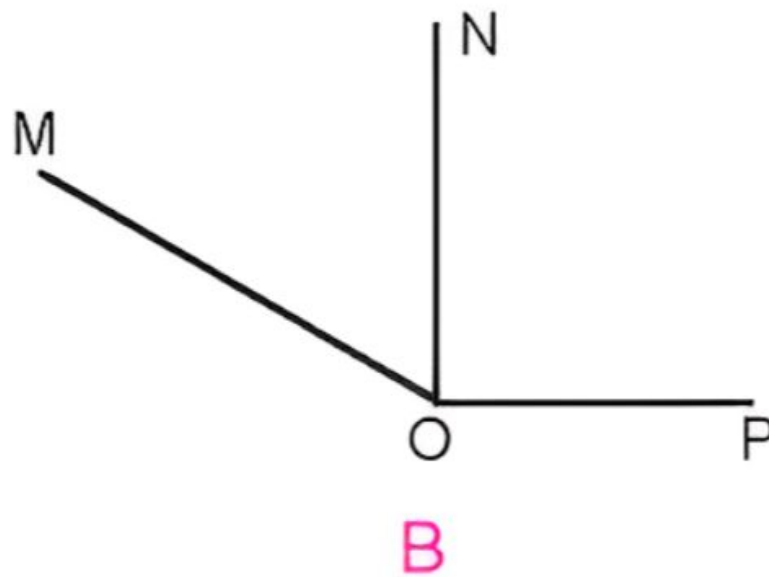
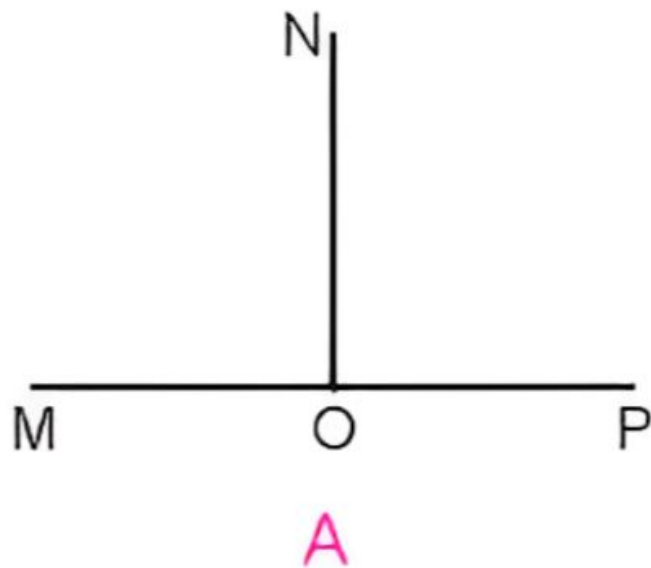
Góc đỉnh L, cạnh LG, LC : 120°



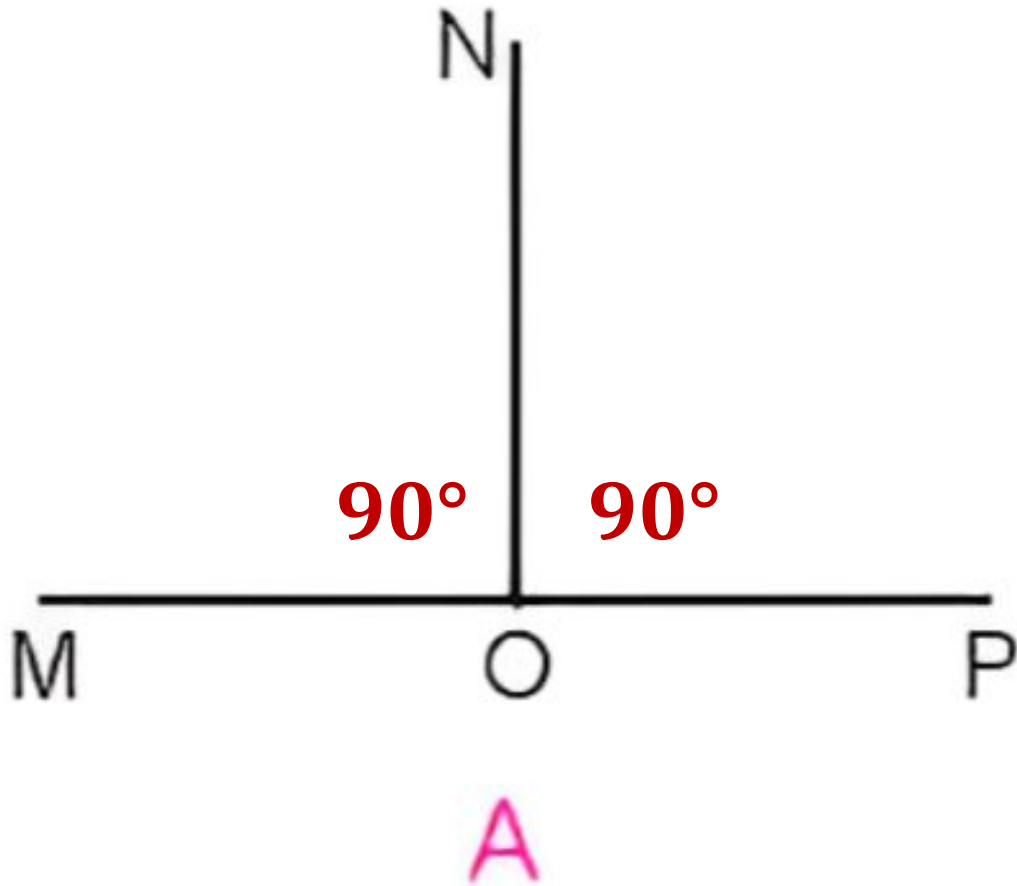
CHẶNG 3

Bài 3: Chọn câu trả lời đúng.

Bạn Rô-bốt vẽ góc đỉnh O; cạnh OM, ON có số đo 60° và góc đỉnh O; cạnh ON, OP có số đo 90° để tạo thành góc đỉnh O; cạnh OM, OP. Hỏi hình nào sau đây là hình Rô-bốt đã vẽ?

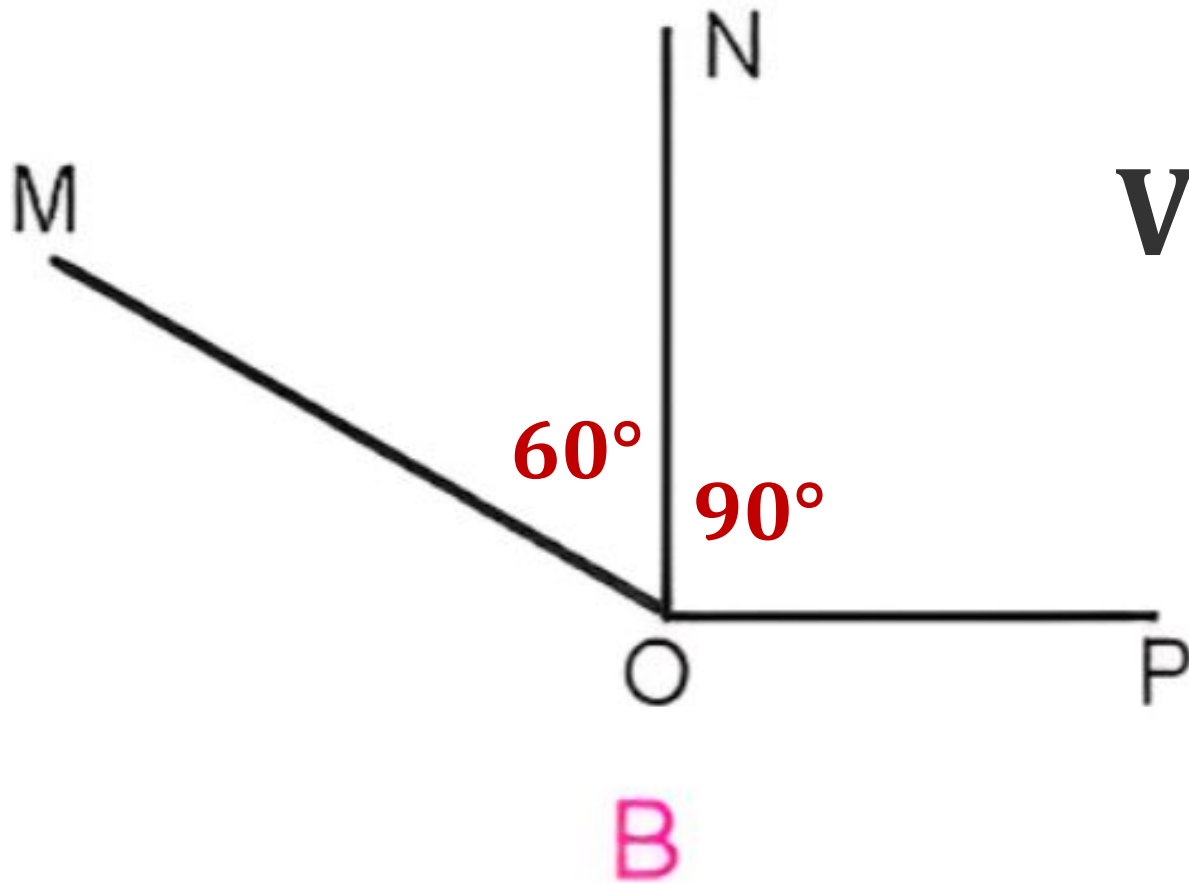


Bạn Rô-bốt vẽ góc đỉnh O; cạnh OM, ON có số đo 60° và góc đỉnh O; cạnh ON, OP có số đo 90° để tạo thành góc đỉnh O; cạnh OM, OP. Hỏi hình nào sau đây là hình Rô-bốt đã vẽ?



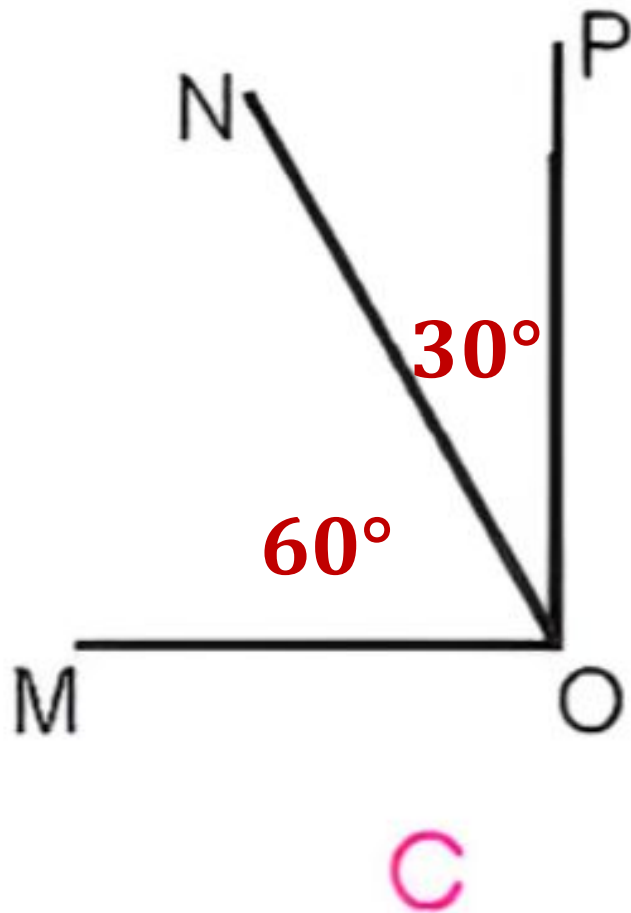
Vậy hình A có tổng số đo các góc là 180°

Bạn Rô-bốt vẽ góc đỉnh O; cạnh OM, ON có số đo 60° và góc đỉnh O; cạnh ON, OP có số đo 90° để tạo thành góc đỉnh O; cạnh OM, OP. Hỏi hình nào sau đây là hình Rô-bốt đã vẽ?



Vậy hình B có tổng số đo các góc là 150°

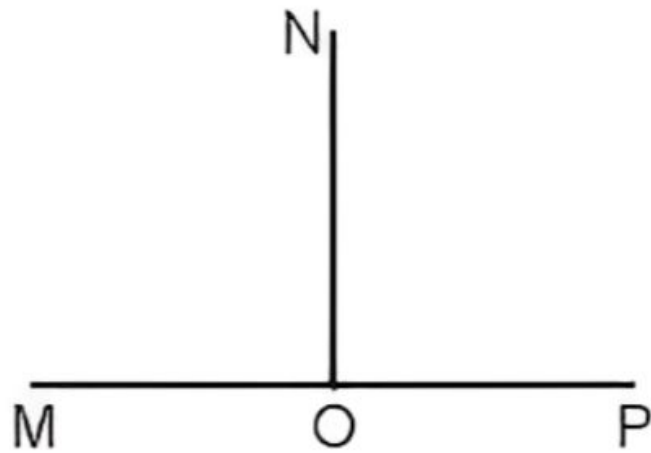
Bạn Rô-bốt vẽ góc đỉnh O; cạnh OM, ON có số đo 60° và góc đỉnh O; cạnh ON, OP có số đo 90° để tạo thành góc đỉnh O; cạnh OM, OP. Hỏi hình nào sau đây là hình Rô-bốt đã vẽ?



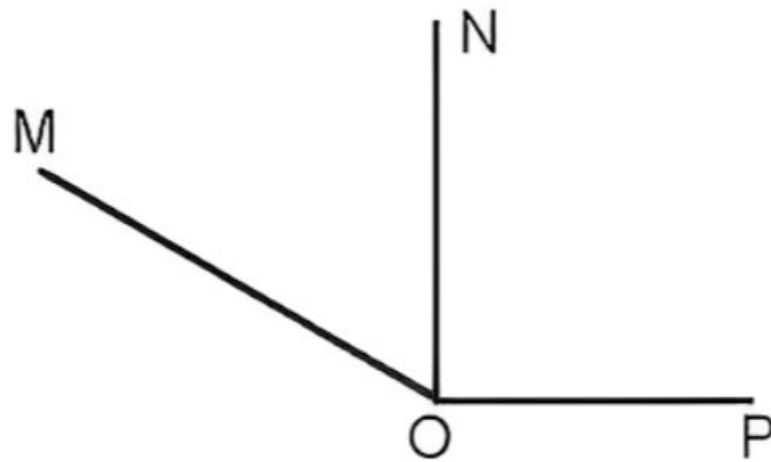
Vậy hình C có tổng số đo các góc là 90°

Bài 3: Chọn câu trả lời đúng.

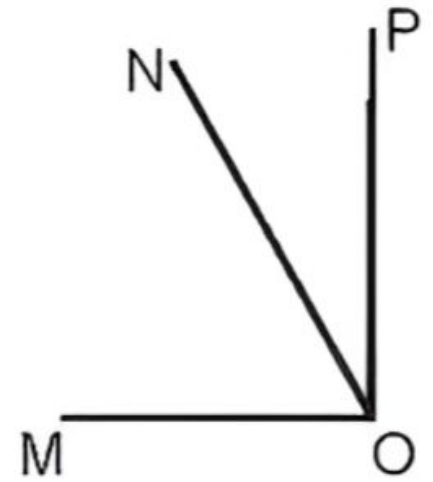
Bạn Rô-bốt vẽ góc đỉnh O; cạnh OM, ON có số đo 60° và góc đỉnh O; cạnh ON, OP có số đo 90° để tạo thành góc đỉnh O; cạnh OM, OP. Hỏi hình nào sau đây là hình Rô-bốt đã vẽ?



A



B



C



CHẶNG 4

Em hãy tìm một số hình ảnh về góc nhọn, góc tù, góc vuông có ở những đồ vật quanh em như: bàn ghế, ê ke, com pa,...



**CÙNG
CHIA
SẺ**



TAM BIỆT

