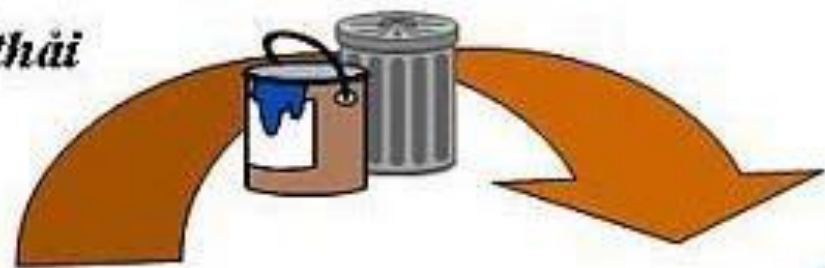


Chất thải



Chất thải



SẢN XUẤT



TIÊU DÙNG



Khai thác tài nguyên



Sử dụng tài nguyên

BÀI 28: MỐI QUAN HỆ GIỮA THIÊN NHIÊN VÀ CON NGƯỜI





Mối quan hệ giữa
con người và
thiên nhiên




Tác động của
thiên nhiên đến
sinh hoạt và sản
xuất



Tác động của
con người đến
thiên nhiên

1. Tác động của thiên nhiên đến sinh hoạt và sản xuất.



Hoạt động nhóm

Thời gian: 5 phút

Lấy ví dụ về tác động của thiên nhiên đối với :

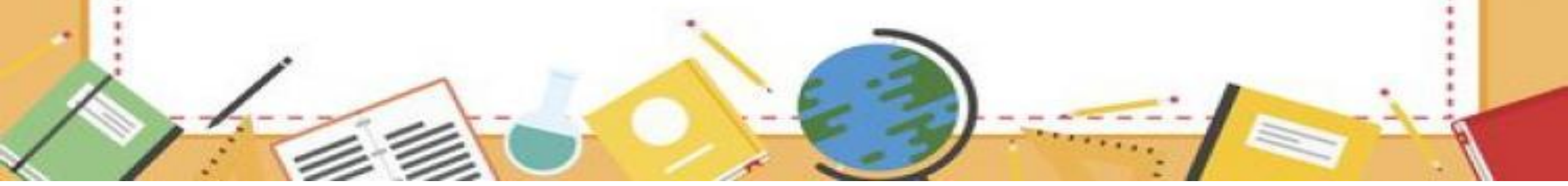
Nhóm 1: Nguồn nguyên liệu sản xuất

Nhóm 2: Nơi cư trú, mặt hàng sản xuất

Nhóm 3: Chứa đựng rác thải

Nhóm 4: Cung cấp, lưu trữ thông tin

Nhóm 5: Chống các tác nhân gây hại (tia cực tím,...)






Hoạt động nhóm
(Vòng mảnh ghép)
Thời gian: 5 phút

Lấy ví dụ về tác động của thiên nhiên đối với sản xuất và sinh hoạt

Lúa nước



Cà phê



Khai thác than





Khai thác dầu mỏ



Biển Mỹ Khê



Vịnh Hạ Long




Nông thôn




Thành thị

Đường bộ



Đường hầm



Đường biển



Đường hàng không

Khí thải công nghiệp




Ô nhiễm nước



Rác thải sinh hoạt



Lỗ thủng ozon Nam Cực




Băng tan



1. Tác động của thiên nhiên đến sản xuất và sinh hoạt.



- Trong đời sống hằng ngày, thiên nhiên cung cấp những điều kiện hết sức cần thiết (không khí, ánh sáng, nhiệt độ, nước,...) để con người có thể tồn tại
- Tác động của thiên nhiên đến sản xuất
 - + Đối với sản xuất nông nghiệp
 - + Đối với sản xuất công nghiệp
 - + Đối với giao thông vận tải và du lịch



2. Tác động của con người đến thiên nhiên.





Made with
VideoShow

PHIẾU HỌC TẬP

*** Tác động tích cực của con người đối với thiên nhiên:**

.....
.....
.....

*** Tác động tiêu cực của con người đối với thiên nhiên:**

- Biểu hiện:

.....
.....
.....

- Hậu quả:

.....
.....
.....

- Biện pháp khắc phục:

.....
.....
.....

Dựa vào nội dung SGK, hình 6,7 kết hợp với video GV cung cấp, hoạt động cặp đôi hoàn thành phiếu học tập.



2. Tác động của thiên nhiên đến sản xuất.

- Làm suy giảm nguồn tài nguyên.
- Làm ô nhiễm môi trường.
- Con người ngày càng nhận thức được trách nhiệm của mình với thiên nhiên và đã có những hành động tích cực để bảo vệ môi trường bằng cách trồng rừng, phủ xanh đồi núi, cải tạo đất, biến những vùng khô cằn, bạc màu thành đồng ruộng phì nhiêu



1

2

3

4

A top-down view of a white surface with various objects: a white mug with coffee in the top left, a gift box with a white ribbon in the top right, a yellow pen in the bottom right, and a bouquet of yellow roses and a butterfly in the bottom left.

Các thành phần của tự nhiên mà con người có thể khai thác và sử dụng được gọi là

A. điều kiện tự nhiên.

B. tài nguyên thiên nhiên.

C. yếu tố tự nhiên.

D. nhân tố tự nhiên.

Các nguồn tài nguyên thiên nhiên

- A. phân bố không đều trên Trái Đất.
- B. chỉ tập trung ở một số nước nhất định.
- C. phân bố đều trên Trái Đất.
- D. chỉ phân bố ở các nước phát triển.



Việc khai thác và sử dụng các nguồn tài nguyên thiên nhiên phụ thuộc vào

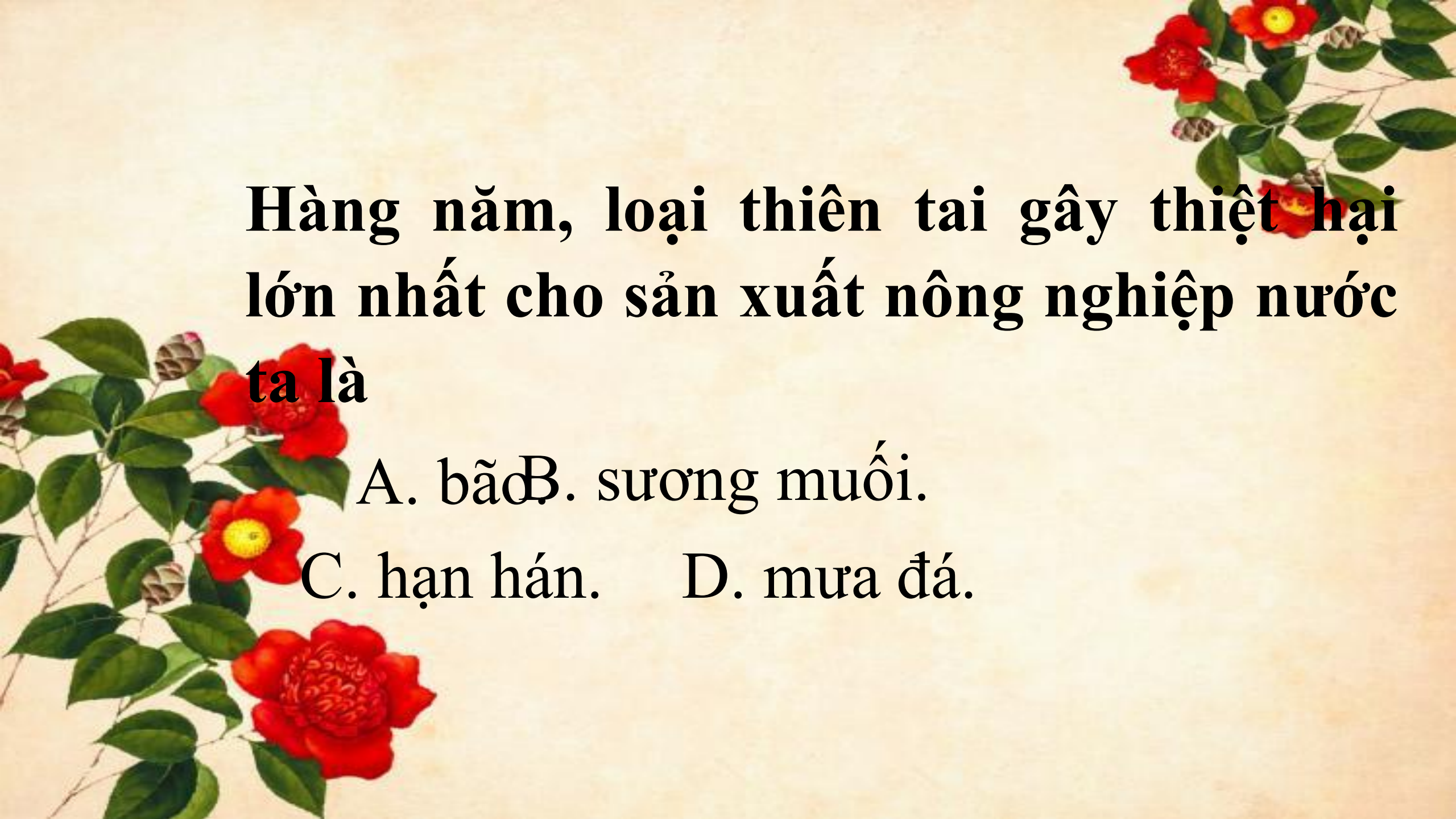
A. trình độ phát triển mỗi quốc gia.

B. số dân mỗi nước.

C. nhu cầu mỗi nước.

D. thị trường xuất khẩu.





Hàng năm, loại thiên tai gây thiệt hại lớn nhất cho sản xuất nông nghiệp nước ta là

A. bão B. sương muối.

C. hạn hán. D. mưa đá.



Thank
You

FOR
LISTENING