




Avec l'aide du guide de survie, accède au modèle et n'oublie pas de t'auto-évaluer.

81 Utiliser la proportionnalité
 @maths974.fr

2 pommes contiennent 120 calories
 3 pommes contiennent 180 calories

Combien contiennent de calories 5 pommes ?




CM1.AM.GM2

81 Utiliser la proportionnalité
 @maths974.fr

5 robes coûtent 185 €
 3 robes coûtent 111 €

Combien coûtent 2 robes




CM1.AM.GM2

81 Utiliser la proportionnalité
 @maths974.fr

9 mandarines pèsent 711 grammes
 11 mandarines pèsent 869 grammes


Combien pèsent 20 mandarines ?



CM1.AM.GM2

81 Utiliser la proportionnalité
 @maths974.fr

2 croissants pèsent 180 g
 3 croissants pèsent 270 g


Combien pèsent 1 croissant 

CM1.AM.GM2

81 Utiliser la proportionnalité
 @maths974.fr

6 sodas contiennent 240 g de sucre
 4 sodas contiennent 160 g de sucre


Combien contiennent de sucre 10 sodas ?



CM1.AM.GM2

81 Utiliser la proportionnalité
 @maths974.fr

8 paires de tong coûtent 56 €
 5 paires de tong coûtent 35 €

Combien coûtent 3 paires de tong 

CM1.AM.GM2