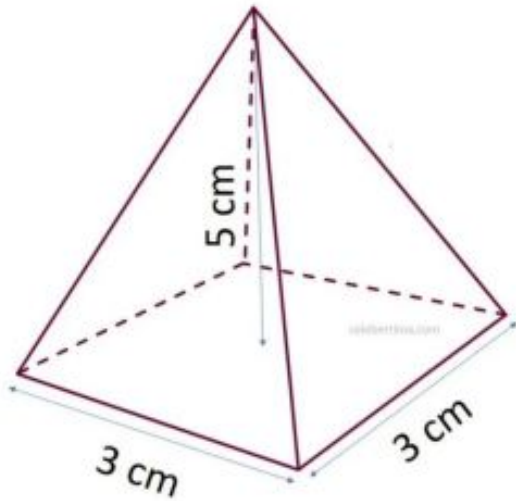


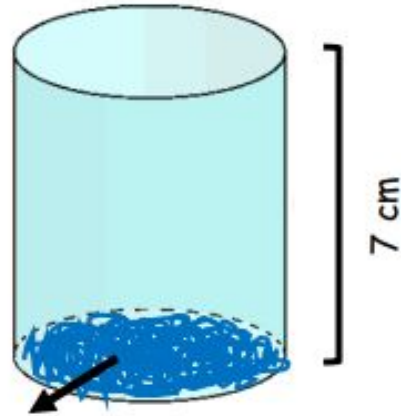
# Actividad

Halla el área de los siguientes cuerpos geométricos

1.

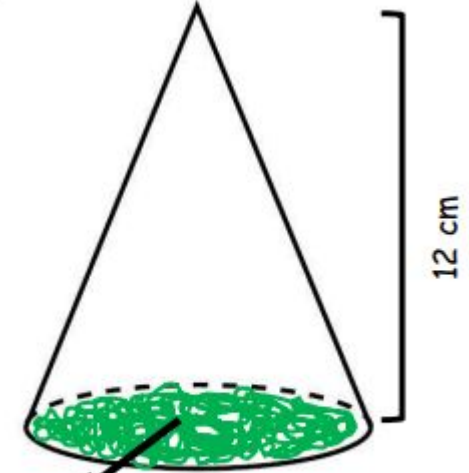


2.



Radio 4cm

3.



Radio 5cm

**Analiza y responde:**

Una familia de Barranquilla compró un estanque cilíndrico para el agua, el cual tiene en su base un círculo de radio 3 m y la altura es de 2 metros ¿Cuántos metros cúbicos de agua puede almacenar el estanque?