 <p>WEBSITE www.kherysuryawan.id PENILAIAN AKHIR SEMESTER TAHUN PELAJARAN 20../20..</p>	Nama :
	No. Absen :
	Nilai :
Mata Pelajaran : Tema 4 (PPKn, B.Indonesia, IPA, IPS, dan SBdP)	
Kelas : IV (EMPAT)	
Waktu : 90 menit	
Tanggal :	

PKN (3.1)	BI (3.5)	IPA (3.8)	IPS (3.3)	SBdP (3.1)
1,2,3,4,21,22	5,6,7,8,23,24	9,10,11,12,25,26	13,14,15,16,27,28	17,18,19,20,29,30

I. Berilah tanda silang (X) pada salah satu huruf a, b, c, atau d di depan jawaban yang tepat!

1. Bunyi sila pertama pancasila adalah

- A. Ketuhanan Yang Maha Esa C. Kemanusiaan yang adil dan beradab
 B. Persatuan Indonesia D. Keadilan bagi seluruh rakyat Indonesia

2. Berikut yang *tidak* termasuk makna dalam sila pertama adalah

- A. Percaya dan takwa kepada Tuhan Yang Maha Esa sesuai dengan agama dan kepercayaan masing - masing
 B. Saling menghormati dan bekerja sama antara pemeluk agama dan penganut kepercayaan yang berbeda - beda
 C. Saling menghormati kebebasan dalam menjalankan ibadah sesuai dengan agama dan kepercayaan masing - masing
 D. Memaksakan suatu agama atau kepercayaannya kepada orang lain

3. Perhatikan Gambar berikut !

1.  3. 
 2.  4. 

Dari gambar tersebut yang merupakan simbol sila ketiga pancasila di tunjukkan oleh nomor

- A. 1 C. 3
 B. 2 D. 4

4. Simbol rantai pada sila kedua yang tersusun dari mata rantai yang berbentuk segi empat dan lingkaran. Mata rantai yang saling berkaitan melambangkan bahwa manusia harus saling satu sama lain.

- A. jujur C. bersatu
 B. membutuhkan D. Berlawanan

5. Sebelum memberikan pendapat terhadap suatu cerita, sebaiknya kita memperhatikan unsur cerita tersebut. Berikut ini yang *bukan* merupakan unsur dalam cerita adalah... .

- A. pengarang
B. pesan moral
C. tokoh
D. tema

6. Ketika liburan tiba, Lani mengunjungi kakeknya. Kakek Lani tinggal di daerah pegunungan. Udara di sana terasa sejuk, berbeda dengan udara di tempat tinggal Lani. Setiap pagi, Lani tidak pernah bosan menemani kakeknya berjalan pagi. Tempat tinggal kakek Lani dekat perkebunan teh. Kakeknya sering mengajak Lani berjalan-jalan mengitari perkebunan teh. Lani diberitahu oleh kakeknya bahwa teh merupakan salah satu tanaman yang dapat tumbuh dengan baik di daerah berudara sejuk.

Tokoh utama dalam cerita tersebut adalah... .

- A. Lani dan petani
B. Lani dan kakek
C. Kakek dan petani perkebunan
D. Petani perkebunan

7. Pak Santosa adalah kepala sekolah yang bertugas di daerah pelosok kabupaten Jawa Tengah. Beliau lahir di Sukoharjo. Di sekolah ini, muridnya juga berasal dari berbagai daerah. Pak Santosa senang melihat murid- muridnya dapat belajar dan bermain bersama tanpa mempersoalkan asal- usul. Semua unik, baik sifat maupun kecerdasannya

Amanat yang ingin disampaikan dalam cerita tersebut adalah... .

- A. Bermainlah hanya dengan teman yang satu daerah denganmu
B. Belajar bersama hanya dengan satu teman saja
C. Dalam bekerjasama pilihlah teman yang kau sukai saja
D. Belajar dan bermain dengan semua teman tanpa melihat asal-usulnya

8. (1) Ayah pergi melaut pada malam hari
(2) Ayah tinggal di kampung nelayan
(3) Ayah bekerja sebagai nelayan tradisional
(4) Ayah pergi membawa sampan dan jaring untuk berlayar

Urutan yang benar kalimat di atas adalah... .

- A. (1)-(2)-(3)-(4)
B. (2)-(4)-(3)-(1)
C. (3)-(2)-(1)-(4)
D. (4)-(3)-(2)-(1)

9. Salah satu cara menjaga kelestarian hutan dengan melakukan.....

- A. penebangan hutan secara liar
B. reboisasi
C. pembabatan hutan
D. menggunakan kertas secara berlebihan

10. Perhatikan gambar berikut !



Akibat yang timbulkan dari kegiatan pada gambar tersebut...

WEBSITE : www.kherysuryawan.id

- A. Merusak keseimbangan ekosistem laut
B. Ikan mudah berkembang biak
C. Rumput laut sebagian punah
D. Sebagian ikan kecil-kecil mati

11. Mengolah sampah kertas menjadi kertas atau karton kembali disebut...

- A. Reduce
B. Reuse
C. Recycle
D. Replace

12. Perhatikan tabel berikut !

No	Bahan Baku
1.	Akar pohon
2.	Grafiti
3.	Daun
4.	Serat kayu





Merupakan bahan baku pembuatankertas di tunjukan nomor.....

- A. 1
B. 2
C. 3
D. 4

13. Jenis pekerjaan yang banyak dilakukan oleh masyarakat didaerah dataran tinggi adalah...

- A. Bertani
B. Nelayan
C. Berkebun teh dan kopi
D. Membuat garam

14. Gambar yang sesuai dengan jenis pekerjaan di daerah pantai adalah...

- A.  C. 
B.  D. 

15. Perhatikan jenis pekerjaan yang terlibat dalam pembuatan teh

- (1) Orang yang minum teh
(2) Petani teh dan buruh pabrik teh
(3) Pedagang yang menjual teh
(4) Orang mendistribusikan teh

Yang merupakan bagian dari produksi pembuatan teh ditunjukkan oleh nomor

- A. 1
B. 2
C. 3
D. 4

16. Perhatikan gambar berikut !



WEBSITE : www.kherysuryawan.id

WEBSITE : www.kherysuryawan.id

Gambar berikut adalah contoh kegiatan ekonomi yang memanfaatkan sumber daya alam dari

- A. hutan
- B. laut
- C. sawah
- D. pantai

17. Sebelum membuat gambar, sebaiknya kita membuat...gambar terlebih dahulu.

- A. sketsa
- B. judul
- C. deskripsi
- D. warna

18. “Gambar Beni detail sekali. Memiliki proporsi yang sesuai. Gambar ini mengajarkan kita untuk hidup rukun antar sesama”

Apresiasi tersebut sesuai untuk gambar berikut, yaitu....



19. Perhatikan gambar berikut !



Apresiasi yang tepat untuk gambar tersebut adalah

- A. Hasil gambarnya kurang menarik. Gambar pemandangan sawahnya kurang jelas
- B. Hasil gambarnya sangat bagus. Gambar pemandangan sawahnya sudah terlihat nyata
- C. Hasil gambarnya kurang jelas. Gambar pemandangan sawahnya masih terlihat samar-samar
- D. Hasil gambarnya sangat kurang jelas. Gambar pemandangan sawahnya sangat tidak nyata

WEBSITE : www.kherysuryawan.id

20. Perhatikan tabel berikut !

No	Objek Benda
1.	Gunung
2.	Sawah
3.	Pantai
4.	Pohon jati
5.	Pohon kelapa
6.	Laut

Yang termasuk objek benda yang biasa digunakan menggambar pantai ditunjukkan oleh nomor.....

- A.1, 2, 3 C.3, 5, 6
B. 2, 4, 5 D. 4, 1, 2

II. Isilah titik-titik di bawah ini dengan jawaban yang tepat!

21. Menganggap teman diskusi sebagai lawan adalah salah satu contoh sikap tidak baik yang bertentangan dengan sila ke..... Pancasila
22. Perhatikan gambar berikut !



Gambar tersebut merupakan lambang sila ke

23. Pamanku membuat meja dan kursi. Untuk menghasilkan kursi, awalnya paman membeli kayu, memotongnya, membentuk menjadi kursi, menghaluskan, lalu mengecatnya. Waktu yang dihabiskan

WEBSITE : www.kherysuryawan.id

untuk membuat kursi kurang lebih 1 minggu. Paman menjual meja dan kursi buatannya ke toko mebel. Di toko mebel itulah orang-orang bisa membeli meja dan kursi buatannya.

Dari cerita tersebut, pekerjaan paman adalah....

24. Seperti mendiang ayahnya, Dokter Raisa menjadi sosok yang dicintai warga desa. Ia menjadi teladan melalui dedikasi, tanggung jawab, dan kerendah-hatiannya dalam menolong warga. Apabila aku besar nanti, aku ingin seperti Dokter Raisa. Akan kukejar cita-citaku menjadi guru, dan aku akan kembali untuk membangun kampung halamanku.

Tokoh “aku” pada cerita tersebut ingin seperti dokter Raisa karena... .

25. **Perhatikan gambar berikut !**



Salah satu Penyebab terjadinya peristiwa pada gambar adalah.....

26. **Perhatikan gambar berikut !**



Salah satu manfaat dari sumber daya alam yang terdapat pada gambar tersebut adalah.....

27. Pak Agus setiap hari mengatur lalu lintas di jalan raya. Dia melakukan pekerjaan dengan penuh semangat dan bertanggung jawab. Jenis pekerjaan yang dilakukan pak Agus adalah sebagai.....

28. **Perhatikan gambar berikut !**



Gambar tersebut adalah salah satu contoh pekerjaan di daerah dataran ...

29. **Perhatikan gambar berikut !**



WEBSITE : www.kherysuryawan.id

Gambar tersebut menggunakan tehnik menggambar.....dimensi

30. Alat menggambar yang sering digunakan untuk tehnik arsir dan blok adalah...

KUNCI JAWABAN

I. Pilihan Ganda

- | | | | |
|------|-----|-------|------|
| 1. A | 6.B | 11. C | 16.A |
| 2. D | 7.D | 12. D | 17.A |
| 3. A | 8.C | 13.C | 18.B |
| 4. B | 9.B | 14.A | 19.B |

WEBSITE : www.kherysuryawan.id

WEBSITE : www.kherysuryawan.id

5. A 10.A 15.B 20.C

II. Esay

21. 3

22. sila ke 2

23. pengrajin kayu

24. membangun desanya/dedikasinya

25. Pengundulan hutan dan erosi atau curah hujan tinggi

26. Mencegah banjir, penghasil oksigen, menjaga kesuburan tanah

27. Polisi

28. Rendah

29. Tiga

30. Spidol, Krayon