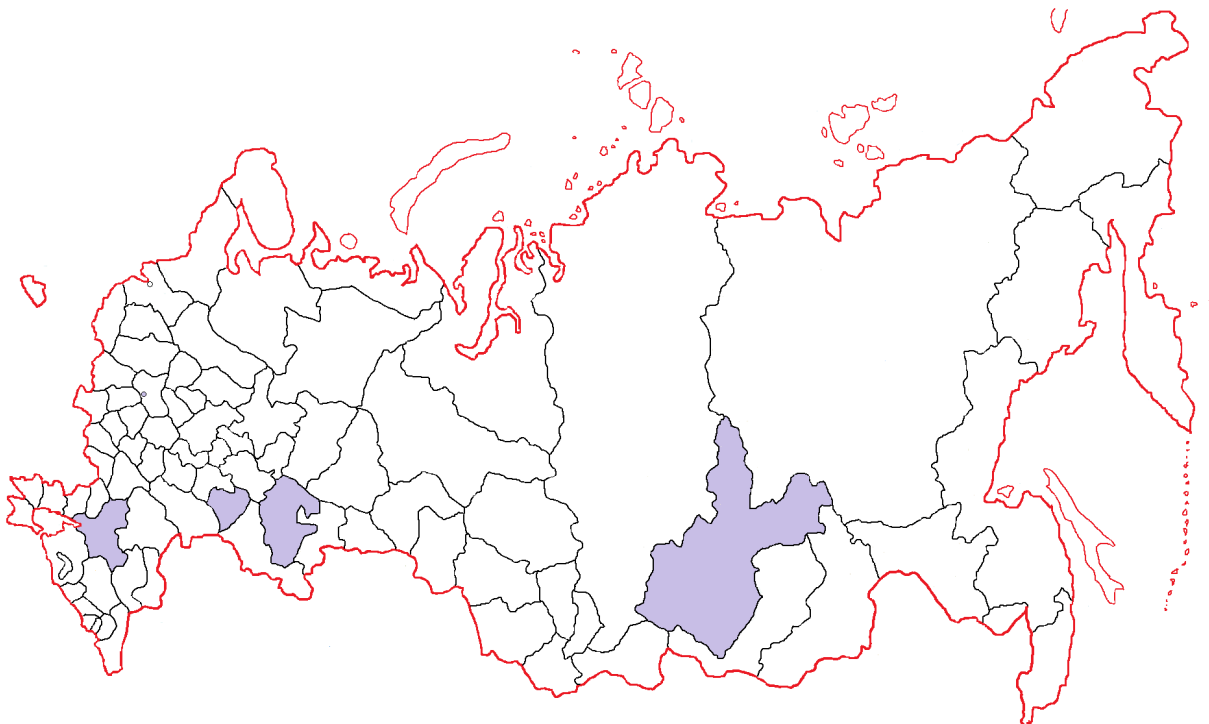


Констатирующая контрольная работа по географии за III триместр 9 класс
ДЕМОНСТРАЦИОННЫЙ ВАРИАНТ

На картосхеме выделена пятерка субъектов-лидеров РФ по виду деятельности



Определите название субъектов РФ, выделенных цветом, их специализацию и фактор, определивший направление специализации.

А. Субъекты Российской Федерации

Б. Отрасль специализации:

1. Изделия из дерева
2. Добыча металлических руд
3. Авиастроение, космос
4. Целлюлозно-бумажные изделия

В. Ведущий фактор, определивший направление специализации:

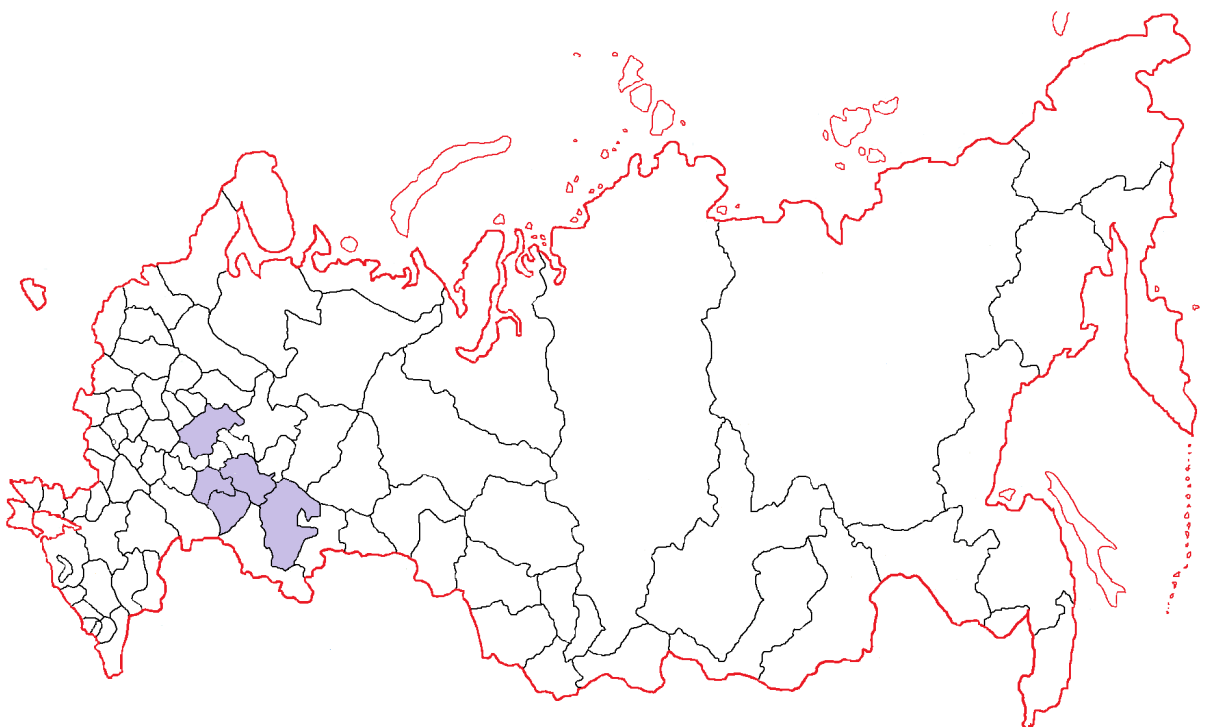
- | | |
|--------------------|---------------------------|
| 1. Сырьевой | 9. Экологический |
| 2. Потребительский | 10. Научный |
| 3. Климатический | 11. Трудовой |
| 4. Водный | 12. Транспортный |
| 5. Топливный | 13. Природных условий |
| 6. Энергетический | 14. Комбинирования |
| 7. Водный | 15. Военно-стратегический |
| 8. Кооперирования | |

Ответ запишите в таблицу.

Ответ:

А	Б	В

На картосхеме выделена пятерка субъектов-лидеров РФ по виду деятельности



Определите название субъектов РФ, выделенных цветом, их специализацию и фактор, определивший направление специализации.

А. Субъекты Российской Федерации

Б. Отрасль специализации:

1. Автомобилестроение
2. Животноводство
3. Производство и транспортировка нефти и газа
4. Сахарная свекла

В. Ведущий фактор, определивший направление специализации:

- | | |
|--------------------|---------------------------|
| 1. Сырьевой | 9. Экологический |
| 2. Потребительский | 10. Научный |
| 3. Климатический | 11. Трудовой |
| 4. Водный | 12. Транспортный |
| 5. Топливный | 13. Природных условий |
| 6. Энергетический | 14. Комбинирования |
| 7. Водный | 15. Военно-стратегический |
| 8. Кооперирования | |

Ответ запишите в таблицу.

Ответ:

А	Б	В

А – Омск

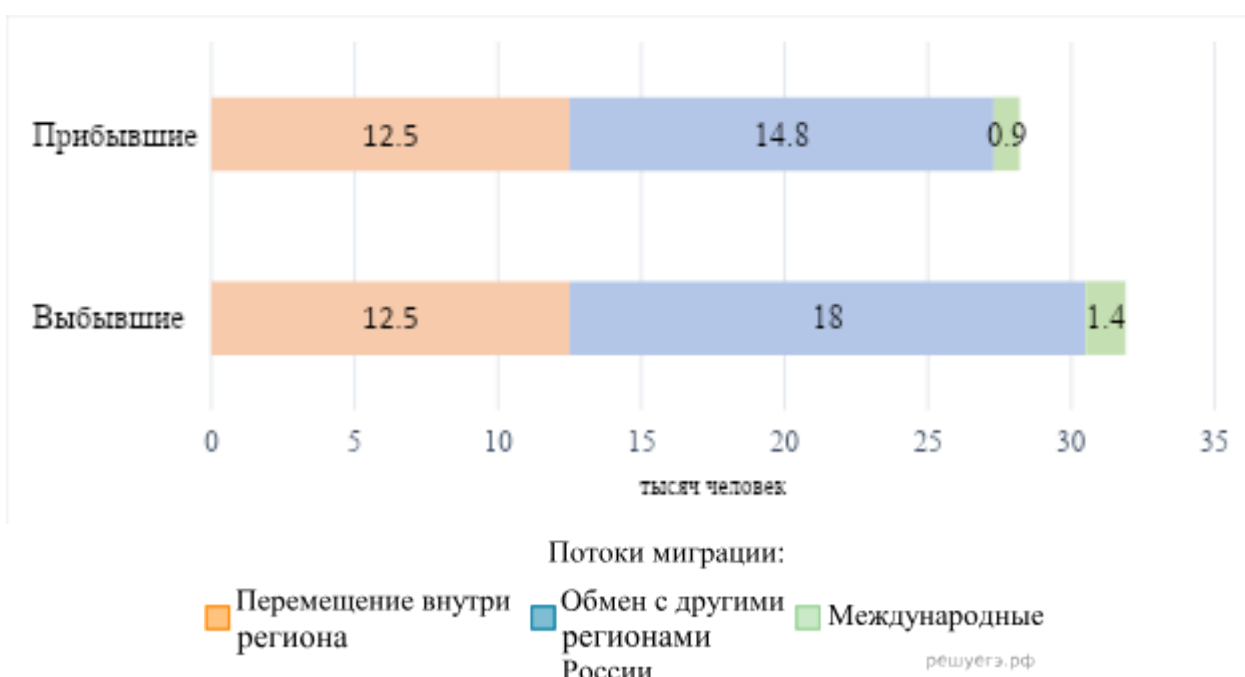
Б – Междуреченск

В – Архангельск

1. Расставьте перечисленные города в порядке увеличения их высоты над уровнем моря. Ответ запишите в виде порядка букв.
2. Расставьте перечисленные города в порядке увеличения долготы дня 22 июня. Ответ запишите в виде порядка букв.
3. Расставьте перечисленные города в порядке уменьшения угла падения солнечных 15 мая. Ответ запишите в виде порядка букв.
4. Расставьте перечисленные города в порядке увеличения численности жителей. Ответ запишите в виде порядка букв.
5. Расставьте перечисленные города в порядке уменьшения средней температуры июля. Ответ запишите в виде порядка букв.
6. Расставьте перечисленные города в порядке наступления астрономического полдня 23 сентября. Ответ запишите в виде порядка букв.

Используя данные диаграммы, определите величину абсолютного миграционного прироста населения регионе в 2006 г. Данные диаграммы — в промилле. Ответ запишите цифрами.

Распределение числа мигрантов в регионе по основным потокам передвижения в 2006 г.



На численность населения субъектов Российской Федерации заметное влияние оказывают как естественное движение населения, так и миграции. Проанализировав данные таблицы, определите величину миграционного прироста (убыли) населения региона в 2011 г. в чел. и %. Запишите решение задачи.

Численность и естественный прирост населения региона

Показатель	2010 г.	2011 г.	2012 г.
Численность постоянного населения на 1 января, чел.	2 841 016	2 833 550	2 831 073
Среднегодовая численность населения, чел.	2 837 570	2 832 312	2 833 176

Естественный прирост населения, чел., значение показателя за год

-4067

-4670

2978