

NAMA SD PENILAIAN AKHIR SEMESTER TAHUN PELAJARAN 2018/2019	Nama :
	No. Absen :
Mata Pelajaran : Tema 8	Nilai :
Kelas : 3 (Tiga)	
Waktu : 90 menit	
Tanggal :	

I. Berikantandasilang (x) pada jawaban yang benar !

PPKN

1. Lambang burung garuda pada Lambang negara Indonesia menggambarkan
 - a. Kebesaran dan kesucian
 - b. Kebesaran dan kekuatan
 - c. Keberanian dan kesucian
 - d. Keberanian dan kekuatan

2. Ada beberapa warna pada lambang negara Garuda Pancasila. Salah satu warnanya adalah warna kuning yang berarti
 - a. Kemurnian
 - b. Keberanian
 - c. Keabadian
 - d. Kemegahan



3. Pada silake 4terdapatlambang





b.



c.



d.



4.

Gambar di atas merupakan contoh sikap pengamalan sila ...

- a. Sila pertama
- b. Sila kedua
- c. Sila ketiga
- d. Sila keempat

BAHASA INDONESIA



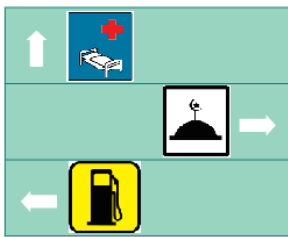
5.

Tanda gambar di atas berarti

- a. Dilarang parkir
- b. Kendaraan dilarang berhenti
- c. Kendaraan jalan terus
- d. Tidak boleh dilewati sepeda



6. artisimbollalulintasdisamping yang benaradalah
- a. Awas Jalan berkelok-kelok!
 - b. Dilarangmelewatijalanini!
 - c. Awas Jalan licin!
 - d. Awasdaerahlongsor!



7. Rani inginmenjenguk Susi yang sedangakitdirumahsakit. Untukmenujurumahsakitarah yangharusdilalui Raniadalah
- a. Belokkiri
 - b. Belokkanan
 - c. Lurusmengikutiarahjalan
 - d. Belokkirilalurusmengikutiarahjalan



8. Rani beragama Hindu, arah yang harusdilalui Rani untukmenujutempatibadahadalah
- a. Kekiri
 - b. Lurusmengikutiarahjalan
 - c. Kekanan
 - d. Kekirilalubelokkanan

MATEMATIKA

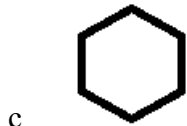
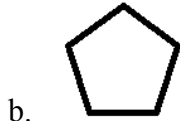


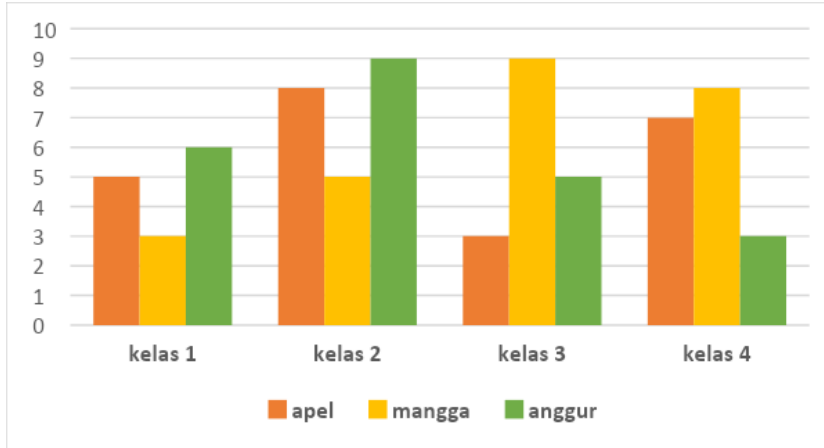
9.

Nama yang sesuai dengan sudut di atas adalah

- a. Sudut siku-siku
- b. Sudut lurus
- c. Sudut tumpul
- d. Sudut lancip

10. Bangun datar memiliki 4 sisi. Dua sisi yang berhadapan sama panjang. Memiliki 4 titik sudut. Semua sudut yang dimiliki merupakan sudut siku-siku. Gambar seperti petunjuk berikut yang benar adalah

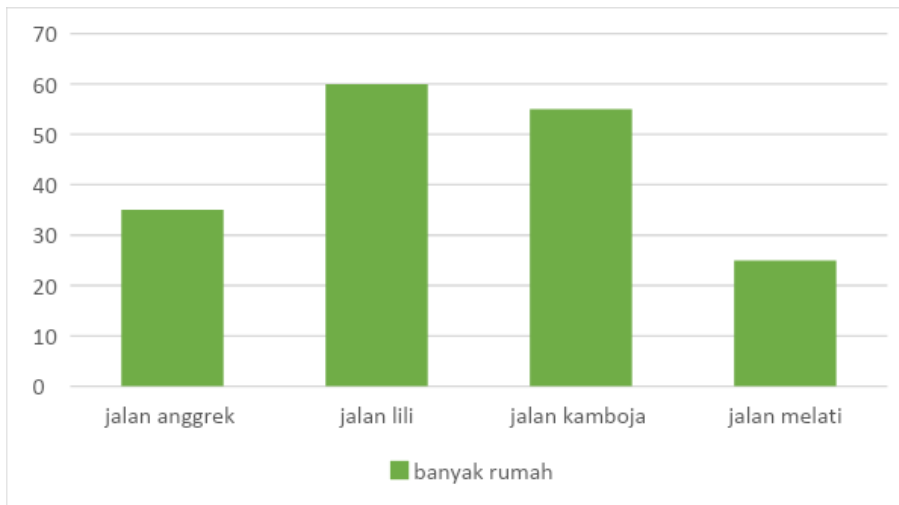




11.

Pernyataan yang sesuai dengan tabel di atas adalah, *kecuali*

- Ada 8 anak di kelas 4 yang menyukai mangga
- Ada 9 anak di kelas 2 yang menyukai apel
- Ada 3 anak di kelas 3 yang menyukai apel
- Ada 6 anak di kelas 1 yang menyukai anggur



12. Pernyataan yang sesuai dengan tabel di atas adalah

- Banyak rumah yang ada di jalan lili 60 rumah
- Banyak rumah yang ada di jalan kamboja 50 rumah
- Banyak rumah yang ada di jalan melati 15 rumah
- Banyak rumah yang ada di jalan anggrek 30 rumah

SBDP



13.

Alat yang dibawa untuk memeragakan gerak andi atas adalah

- a. 2 tempurung kelapa
- b. 2 piring plastik
- c. 2 kayu
- d. 2 baskom plastik



14.

gambar disamping merupakan contoh benda seni dengan hiasan

....

- a. Garis
- b. Titik
- c. Warna
- d. Bulat- bulat



15.

Gambar di atas merupakan manfaat dari ...


- a. Pohon mangga
- b. Pohon randu
- c. Pohon kelapa
- d. Pohon beringin

16. Lambang gerakan pramuka adalah

- a. Burung Garuda
- b. Padi dan kapas
- c. Pohon beringin
- d. Tunas kelapa

PJOK

17.



Gerakan membungkukkan badan di atas bertujuan untuk

- a. Melemaskan otot paha
- b. Melemaskan otot tangan
- c. Melemaskan otot kaki
- d. Melemaskan otot pinggang




18.

nama permainan tradisional di samping yang tepat adalah

- a. Ulartangga
- b. Galasin atau gobaksodor
- c. Jungkat- jungkit
- d. Lompattali

19. Salah satu permainan pramuka yang membutuhkan kerja sama adalah, *kecuali*

- a. Arungjeram
- b. lompat tongkat
- c. lompattali
- d. galasin



20.

Nama permainan di atas adalah

- a. Galasin
- b. Gobaksodor
- c. Ulartangga
- d. Jalaikan

II. Jawablah pertanyaan berikut dengan tepat!

PPKN

1. Sebutkan 5 sila yang ada dipancasila beserta lambangnya!
2. Perhatikan gambar dibawah ini!



Sebutkan agama dan tempat ibadah berdasarkan gambar diatas!

BAHASA INDONESIA



3. Sebutkan dan jelaskan warna beserta arti dalam lampu lalu lintas disamping!
4. Sebutkan 5 bidang dan warnanya dalam cakram khusus dalam pramuka!

MATEMATIKA

5. Perhatikan tabel dibawah!

50					
40					
30					
20					
10					
	Onde- onde	Kelepon	Dodol	Serabi	Kue lapis

Jumlah siswa dalam satu sekolah ___ siswa
 Jumlah anak yang suka onde-onde ___ siswa
 Jumlah anak yang suka kelepon ___ siswa
 Jumlah siswa yang suka dodol ___ siswa
 Jumlah siswa yang suka serabi ___ siswa

Jumlah siswa yang sukakue lapis ___ siswa

Makanan yang paling banyak diminati _____ = ___ anak

6. Buatlah diagram berdasarkan tabel di bawah ini!

k cabe	

Pembuatan diagram akan menggunakan tanda

Setiap mewakili 5 cabe

Tanda berarti 6 cabe



SBDP

7.



Apa nama tari gambar di atas dan jelaskan cara permainannya!

8. Teknik apa saja yang digunakan dalam pembuatan rumah-rumahan?

PJOK



9.

Jelaskancaramelakukanlatihankeseimbangansepertigambardiatas!



10.

Jelaskancarabermainpermainandiatas!

KUNCI JAWABAN


I. Pilihan Ganda

- | | |
|-------|-------|
| 1. B | 11. B |
| 2. D | 12. A |
| 3. C | 13. A |
| 4. A | 14. A |
| 5. B | 15. C |
| 6. C | 16. D |
| 7. C | 17. D |
| 8. C | 18. B |
| 9. D | 19. C |
| 10. C | 20. D |

II. Uraian

- Ketuhanan Yang Maha Esa = bintang
 - Kemanusiaan Yang Adil Dan Beradab = kepalabanteng
 - Persatuan Indonesia = pohonberingin
 - Kerakyatan Yang Dipimpin Oleh HikmatKebijaksanaanDalamPermusyawaratanPerwakilanrantai
 - KeadilanSosialBagiSeluruh Rakyat Indonesia = padi dan kapas
- Agama islam di masjid
 - Agama hindu di pura
 - Agama kristen di gereja
 - Agama khonghucu di klenteng
- Lampu merah menyala berarti kendaraan harus berhenti
 - Lampu kuning menyala berarti kendaraan harus siap-siap melaju atau berhenti
 - Lampu hijau menyala berarti kendaraan boleh melaju
- Kuning = bidang agama
 - Merah = bidang patriotisme dan seni budaya
 - Putih = bidang ketangkasan dan kesehatan
 - Hijau = bidang keterampilan dan teknik pembangunan
 - Biru = bidang sosial
- Jumlah siswa dalam satu sekolah 150 siswa
 - Jumlah anak yang suka onde-onde 40 siswa
 - Jumlah anak yang suka telepon 20 siswa

- Jumlahsiswa yang sukadodol **10** siswa
- Jumlahsiswa yang sukaserabi **30** siswa
- Jumlahsiswa yang sukakue lapis **50** siswa
- Makanan yang paling banyak diminati **kue lapis = 50** anak



6.

Pembuatan diagram akan menggunakan tanda
 Setiap mewakili 5 cabe
 Tanda berarti 6 cabe



7. Tari Tempurung

- Tepuk tangan ke depan atas dan ke bawah belakang.
Tepuk tangan sambil berjalan dalam barisan.
- Tepuk tangan dua kali di sebelah kiri dan sebelah kanan.
Tepuk tangan secara bergantian sebanyak empat kali.
- Jalan ke kiri dua langkah dan tepuk tangan satu kali. Lalu, jalan ke kanan dua langkah dan tepuk tangan satu kali. Lakukan gerakan tepuk tangan sambil melompat.
- Tepuk tangan di sebelah kiri bawah. Tepuk tangan di sebelah kanan bawah.
Tepuk tangan di sebelah kiri atas. Tepuk tangan di sebelah kanan atas sambil mengangkat kaki kiri. Lakukan sebanyak dua kali.
- Jalan ke kiri dua langkah dan tepuk tangan satu kali. Lalu, jalan ke kanan dua langkah dan tepuk tangan satu kali. Sambil melangkah tengokkan kepala ke kiri dan ke kanan secara bergantian. Lakukan sebanyak dua kali.
- Tepuk tangan ke depan atas dan ke belakang bawah.
Tepuk tangan dilakukan sambil berjalan membentuk lingkaran. Lalu, dengan gerakan yang sama berjalan keluar meninggalkan tempat menari.

8. -Memotong

- Menggunting
- Menempel
- Menyambung

9. 1. Berdiritegak.
 2. Angkat kaki kirimu.
 3. Berdirilahdengansatu kaki dan jagalahkeseimbangan.
 4. Bertahanlahsampaihitungankesepuluh.
 5. Angkat kaki kanan.
 6. Berdirilahdengansatu kaki dan jagalahkeseimbangan.
 7. Bertahanlahsampaihitungankesepuluh.
-
10. 1. Semuapeserta duduk membentuklingkaran. Posisi kaki menjulurkedalamlingkaran.
 2. Setiappesertaberpegangankuat. Dapat juga menggunakantaliuntukberpegangan. Lakukansesuaigambar. Semakinrapatjarakantarpemainakansemakinbaik.
 3. Semuapesertaberusahauntukberdirisecarabersamaan. Usahakankedua kaki tegak, tidakmenekuklutut.
4. Lakukanberulang-ulanguntukmelatihkekuatan kaki.