

Adı-Soyadı:

No:

Puan:

A. Aşağıdaki ifadelerde doğrulara (D), yanlışlara (Y) yazınız. (10 puan)

- (.....) Trafikte hoşgörölü, saygılı ve duyarlı olmak gerekir.
(.....) Gidilecek yere en kısa yoldan gidildiğinde en güvenli yol tercih edilmiş olur.
(.....) Bakımsız yollar trafik kazalarına sebep olur.
(.....) Çocuk güvenlik koltukları, yaş grubu ve kiloya uygun seçilmelidir.
(.....) Trafik işaret levhalarının hepsinin şekli aynıdır.
(.....) Trafik polisinin trafiği yönlendirdiği kavşaklarda trafik ışıklarına göre hareket edilmelidir.
(.....) Yaya kaldırımı olmayan yollarda banketten yürümek gerekir.
(.....) Toplu taşıma araçlarında yüksek sesle konuşmalıyız.
(.....) Özel aracımıza gösterdiğimiz özeni toplu taşıma araçlarına da göstermeliyiz.
(.....) Ulaşım araçları tercihi yapılırken varış süresi, güvenlik, ekonomiklik gibi özellikler göz önünde bulundurulur.

B. Aşağıdaki cümlelerde boş bırakılan yerleri uygun sözcüklerle tamamlayınız. (6 puan)
(Emniyet kemeri—kask— uçak—sürücü—durmadan—okul-)

- 1- Bisiklete binerken başımıza takmamız güvenliğimiz için önemlidir.
- 2- Otomobil ile yolculuk sırasında takmalıyız.
- 3- Okul önlerinde güvenli geçiş için geçitleri bulunur.
- 4- Yolculuk sırasında taşıtlar tam olarak taşıttan inilmemelidir.
- 5- sayesinde uzak yerlere kısa sürede gidilir.
- 6- Trafik kazalarının önlenmesi konusunda , yaya ve yolculara çok önemli görevler düşmektedir.

C. Aşağıdaki soruları yanıtlayınız. (Her soru 6 puan)

1)Trafikte geçiş üstünlüğü olan araçlar nelerdir?

.....
.....
.....

2)Trafik kazalarının nedenleri nelerdir?

.....
.....
.....

3)Üzeri açık taşıtlarda veya yük üzerinde yolculuk yapmanın sakıncaları nelerdir?

.....
.....
.....

4) Trafik kurallarına uyulması için neler yapılabilir?

.....
.....
.....

D. Aşağıdaki çoktan seçmeli soruları

cevaplayınız. (Her soru 5 puan)

1)Trafik kazalarının oluşumunda en büyük etken aşağıdakilerden hangisidir?

- A) Hava koşulları
B) Yollardaki çukurlar
C) Eski ve bakımı yapılmamış taşıtlar
D) Sürücülerin hatalı davranışları

2) Toplu taşıma aracının hangi kapısından inilmelidir?

- A) Ön sol kapısından
C) Ön sağ kapısından
B) Arka sağ kapısından
D) Bagaj kapısından

3)Çocuk güvenlik koltuğu aşağıdakilerden hangisiyle emniyete alınır?

- A) Emniyet kemeriyle bağlanarak
C) Yanlardan yastıklarla desteklenerek
B) Battaniye ile sıkıştırılarak
D) Başka bir yolcu tarafından tutularak

- 4) I. Alt ve üst geçitleri kullanmalıyız.
II. Trafik polisinin olduğu kavşaklarda trafik polisinin işaretlerine uymalıyız.
III. Duran araçların önünden, arkasından veya arasından geçmeliyiz.

Yukarıdakilerden hangisi karşıya geçmek için uymamız gereken kurallardandır?

- A) I B) I ve II C) II ve III D) I, II ve III

5)Aşağıdakilerden hangisi trafik kazalarının nedenlerinden değildir?

- A) Oyun oynamak için cadde ve sokakları tercih etmek.
B) Uykusuzken araç kullanmak.
C) Hız sınırlarına uymak.
D) Duran araçların önünden veya arkasından geçmek.

6)

- I. Toplu taşıma araçları ve diğer araçlara zarar verilmemelidir.
II. Toplu taşıma araçlarına zarar vermek ekonomik olarak bizi etkilemez.
III. Toplu taşıma araçlarına zarar verenler uyarılmalıdır.
IV. Toplu taşıma araçlarını korumak hepimizin sorumluluğudur.





Yukarıda verilen ifadelerden hangileri doğrudur?

- A) I ve II B) II ve III





C) I, III, IV

D) I, II, III ve IV





7) Aşağıdaki trafik işaret levhalarından hangisi uyarı amaçlıdır?

- A)  B) 
C)  D) 

8)Aşağıdaki trafik işaret levhalarından hangisi bilgilendirme amaçlıdır?

- A)  B) 
C)  D) 

9)Aşağıdaki trafik işaret levhalarından hangisi yasaklama amaçlıdır?

- A)  B) 
C)  D) 

10) Aşağıdakilerden hangisini gece yürüyüşlerinde yapmak tehlikelidir ve bir kazaya neden olabilir?

- A) Açık renkli giysi giymek
B) El feneri taşımak
C) Üzerinde yansıtıcı bulundurmak
D) Koyu renkli giysi giymek

11)Aşağıdakilerden hangisi taşıtlara binişlerde ve taşıtlardan inişlerde dikkat edilmesi gereken kurallardan değildir?

- A) Taşıtların kaldırım tarafındaki kapısından inmek.
B) Taşıtların yol tarafındaki kapısından inmek.
C) Taşıt tam durduğunda inmek.
D) Toplu taşıma araçlarına sıra ile binmek.

12)Aşağıdakilerden hangisi toplu taşıma araçlarından değildir?

- A) Vapur
B) Motosiklet
C) Tramvay

D) Otobüs