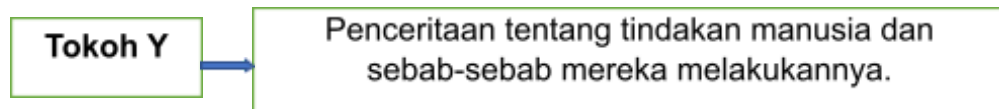


BAHAGIAN A (SOALAN OBJEKTIF)
30 SOALAN
PILIH JAWAPAN YANG BETUL

- 1 Apakah maksud sejarah menurut Kamus Dewan?
- A Peristiwa yang akan berlaku
 - B Cerita yang menarik untuk dibaca
 - C **Peristiwa yang benar-benar berlaku pada waktu lampau**
 - D Kisah-kisah dongeng yang telah berlaku pada waktu lampau

(SP 1.1.1)



- 2 Siapakah tokoh Y yang mengemukakan maksud sejarah di atas?
- A **Herodotus**
 - B Tun Sri Lanang
 - C Ibn Khaldun
 - D Muhd. Yusof Ibrahim

(SP 1.1.1)

- 3 Menurut Ibn Khaldun, sejarah menceritakan hal tentang
- A manusia dan alam sekitar
 - B manusia, haiwan dan tumbuhan
 - C manusia dan Tuhan yang menciptakan alam
 - D **manusia dan perbuatan yang berlaku dalam masyarakat tersebut**

(SP 1.1.1)

- 4 Antara berikut, manakah merupakan sumber pertama?
- A **Fosil**
 - B Buku
 - C Akhbar
 - D Majalah

(SP 1.1.2)

- ❖ Risalah
- ❖ Jurnal
- ❖ Ensiklopedia

5 Maklumat di atas merujuk kepada sumber Sejarah. Apakah persamaan antara bahan-bahan tersebut?

- A Sumber rujukan
- B Sumber pertama
- C Sumber kedua
- D Sumber arkeologi

(SP 1.1.2)

6 Naskhah tulisan tangan dipanggil sebagai

- A fosil
- B artifak
- C akhbar
- D manuskrip

(SP 1.1.2)

7 Antara berikut, yang manakah merupakan sumber yang asli dan belum ditafsir?

- A Filem dan dokumentasi
- B Laporan tahunan jabatan
- C Batu bersurat
- D Majalah

8 Apakah yang kamu faham mengenai kaedah arkeologi?

- A Kaedah temubual
- B Kaedah bahan bercetak
- C Kaedah gali cari harta karun
- D Kaedah gali cari artifak dan fosil

(SP 1.1.3)

9 Sekiranya kamu menemu bual guru untuk memperoleh maklumat sejarah, kamu telah melaksanakan

- A kaedah lisan
- B kaedah bertulis
- C kaedah arkeologi
- D kaedah pandang dengar

(SP 1.1.3)

10 Berikut merupakan tapak arkeologi yang terdapat di Malaysia **KECUALI**

- A Gua Niah, Sarawak
- B Bukit Tengkorak, Sabah
- C Arkib Negara, Kuala Lumpur
- D Candi Lembah Bujang, Kedah

(SP 1.1.3)

11 Apakah maksud Sebelum Masihi (SM)?

- A Zaman purba
- B Zaman dahulu kala
- C Zaman selepas kelahiran Nabi Isa
- D Zaman sebelum kelahiran Nabi Isa

(SP 1.1.4)

12 Berapakah tempoh masa bagi alaf?

- A 1 tahun
- B 10 tahun
- C 100 tahun
- D 1000 tahun

(SP 1.1.4)



- 13 Mengapakah peristiwa tersebut dianggap bermakna kepada negara kita?
- A Melambangkan perpaduan negara
 - B Tentera Jepun telah mengundur diri
 - C Negara bebas daripada penjajahan
 - D Pilihan raya umum diadakan


(SP 1.1.5)

- 14 Apakah nama tempat yang berfungsi menyimpan dan mempamerkan bahan tinggalan sejarah yang berharga?
- A Arkib
 - B Muzium
 - C Sekolah
 - D Hospital

(SP K.1.1.9)

- 15 Antara berikut, yang manakah **BUKAN** ahli keluarga asas?
- A Ibu
 - B Ayah
 - C Datuk
 - D Kakak

(SP 1.2.2)



16 Bagaimanakah cara untuk mengelakkan berlakunya situasi seperti dalam gambar tersebut dalam keluarga kita?

- A Mewujudkan sikap tolong-menolong
- B Tidak menjalankan peranan dengan bertanggungjawab
- C Sibuk dengan pekerjaan
- D Bercakap perkara yang menyinggungkan perasaan

(SP 1.2.3)

17 Antara berikut, amalan manakah yang perlu anda lakukan apabila ingin keluar dari rumah?

- A Keluar secara senyap-senyap dengan rakan anda
- B Meminta izin daripada bapa dan ibu terlebih dahulu
- C Keluar begitu sahaja tanpa meminta kebenaran bapa dan ibu
- D Menggunakan pintu belakang tanpa pengetahuan bapa dan ibu

(SP 1.2.3)

18 Apakah dokumen yang mengandungi keterangan mengenai butir-butir kelahiran?

- A Sijil kelahiran
- B Sijil kematian
- C Sijil perceraian
- D Sijil perkahwinan

(SP 1.2.4)

19 Siapakah yang bertanggungjawab menyelaras semua program akademik di sekolah?

- A Guru Besar
- B Guru Penolong Kanan Kokurikulum
- C Guru Penolong Kanan Pentadbiran
- D Guru Penolong Kanan Hal Ehwal Murid

(SP 1.3.4)

20 Nyatakan tanggungjawab murid di sekolah

- I Membuang sampah ke dalam tong sampah
- II Sentiasa mematuhi peraturan sekolah
- III Menyertai aktiviti gotong-royong mengindahkan kawasan sekolah

IV Menconteng dinding dan merosakkan kemudahan di sekolah

- A I, II, dan III
- B I, II dan IV
- C I, III dan IV
- D II, III dan IV

(SP K1.3.5)

21 Apakah maksud nombor lima angka pada alamat rumah anda?

- A Poskod
- B Poskad
- C Nama jalan
- D Nama negeri

(SP 1.4.1)

22 Kawasan daratan yang dikelilingi laut dikenali sebagai

- A pulau
- B tanah tinggi
- C tanah pamah
- D pinggir sungai

(SP 1.4.2)

23 Timbunan besar ais yang bergerak perlahan-lahan menuruni cerun atau merebak ke permukaan laut dikenali sebagai

- A salji
- B hujan
- C awan
- D glasier

(SP 2.1.1)

24 Nyatakan sebab berlakunya pencairan air batu.

- A Peningkatan air laut
- B Pembentukan pulau-pulau
- C Peningkatan suhu bumi
- D Pembebasan gas oksigen

(SP 2.1.1)

25 Kawasan tanah luas di Asia Tenggara yang menghubungkan daratan dengan kepulauan dipanggil sebagai

- A. benua
- B. Lautan
- C. jurang laut
- D. pentas sunda

(SP 2.1.4)

26 Antara berikut, yang manakah merupakan lokasi terawal masyarakat Zaman Paleolitik?

- I Tingkayu, Sabah
- II Gua Niah, Sarawak
- III Kota Tampan, Perak
- IV Gua Cha, Kelantan

- A I, II dan III
- B I, II dan IV
- C I, III dan IV
- D II, III dan IV

(SP 3.1.2)



27 Pemukul kulit kayu digunakan untuk _____ dan menghaluskan kulit kayu.

- A memotong
- B meleperkan
- C menetak
- D menebuk lubang

(SP 3.1.3)

28 Apakah kegiatan utama yang dijalankan oleh masyarakat Zaman Paleolitik?

- I Berdagang
- II Memburu binatang
- III Memungut hasil hutan
- IV Bercucuk tanam

- A I dan II
- B II dan III**
- C III dan IV
- D I dan IV

(SP 3.1.3)

29 Apakah persamaan di antara zaman Neolitik dan zaman Logam?

- I Menternak binatang
- II Berdagang secara tukar barang
- III Mengusahakan perlombongan
- IV Mengusahakan pertanian ladang

- A I dan II**
- B II dan III
- C III dan IV
- D I dan IV

(SP 3.1.3)

30 Antara berikut, yang manakah merupakan alatan batu yang dicipta oleh masyarakat Zaman Neolitik?

- I Beliung
- II Pemukul kulit kayu
- III Alat penetak
- IV Alat repihan

- A I dan II**
- B II dan III
- C III dan IV
- D I dan IV

(SP 3.1.3)


BAHAGIAN B

Jawab semua soalan

1. Padankan gambar di bawah dengan jawapan yang betul. (SP 1.1.2)

a. INCLUDEPICTURE
 "https://encrypted-tbn2.gstatic.com/images?q=tbn:ANd9GcSN7KakUz5UpZBjnNPgu9WwFEHBXXG5unf22MrNsTskGA-9ERSc" * MERGEFORMATINET

Lembah Bujang, Kedah

b. 

Gendang Dongson

c. INCLUDEPICTURE
 "http://images.says.com/uploads/story_source/source_image/216882/02c7.jpeg" * MERGEFORMATINET

Pemukul kulit kayu

3

2. Padankan istilah atau konsep masa berikut dengan pernyataan yang betul.
 (SP 1.1.4)

a. Tahun Masihi Jangka masa 10 tahun.

b.

Abad

Tempoh selama 1000 tahun.

c.

Tahun Hijrah

Tahun yang dikira mulai tarikh hijrah Nabi Muhammad SAW dari Makkah ke Madinah.

d.

Dekad

Tahun yang dikira mulai dari tarikh lahirnya Nabi Isa AS.

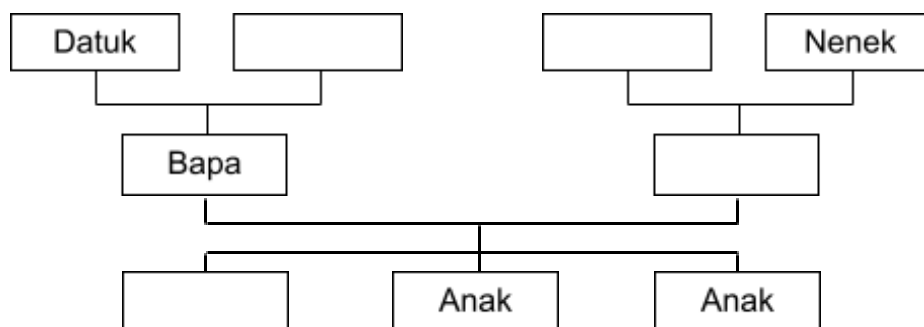
e.

Alaf

Jangka waktu 100 tahun.

5

3. Lengkapkan rajah salasiah keluarga di bawah. (SP 1.2.2)



4

4. Isi tempat kosong dengan jawapan yang sesuai berdasarkan pilihan jawapan yang disertakan. (SP K 1.3.7)

Sekolah merupakan tempat untuk mendapatkan(1)_____.

Sekolah melahirkan 2)_____ yang berilmu pengetahuan dan

