

LETRAMENTO EM MATEMÁTICA 6º ANO

(Aula do dia 09 de setembro)

Explicações de Polígonos e atividades

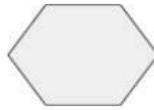

Escola: _____ Data: ____/____/____

Professor(a): _____ Turma: _____

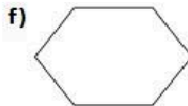
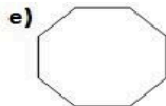
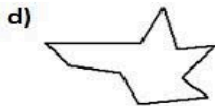
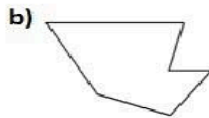
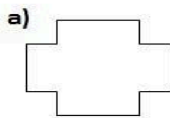
Nome: _____

Polígonos

1) Escreva o nome dos polígonos abaixo:



2) Classifique os polígonos em côncavos ou convexos.



a) _____

b) _____

c) _____

d) _____

e) _____

f) _____

3) Determine o número de lados, vértices e ângulos internos de cada polígono abaixo.

