



INSTITUTO DE EDUCAÇÃO HYPERLINK "HTTP://NERDPROFESSOR.COM.BR"

NERDPROFESSOR.COM.BR

AValiação de GEOGRAFIA

Professor: _____ Data: ____/____/____ VALOR: ____ PONTOS

Aluno(a): _____ Série: ____ Ano – Turma: ____ Turno: ____

LEIA ATENTAMENTE AS INSTRUÇÕES ABAIXO:

- ☐ Leia a prova atentamente;
- ☐ **Não esqueça seu NOME e TURMA;**
- ☐ Não peça nenhum material ao colega;
- ☐ **Serão anuladas as questões quando utilizado o uso de líquido corretivo, respondidas com grafite, assinaladas em duas ou mais alternativas e rasuradas**
- ☐ Redija sua resposta com caneta esferográfica de tinta **azul** ou **preta**; A letra deve ser legível;
- ☐ As questões abertas devem ser respondidas no espaço destinado a elas;
- ☐ Verifique o verso da prova, questões não respondidas nesta folha serão computadas como não respondidas. A prova será corrigida pelo total de questões nela contida;
- ☐ **É TERMINANTEMENTE PROIBIDO O USO DO CELULAR LIGADO OU SOBRE A CARTEIRA, ASSIM COMO QUALQUER OBJETO ELETRÔNICO.**

1 – Complete as frases do texto a seguir:








Mercado Comum do Sul, mais conhecido como _____ é uma organização intergovernamental fundada a _____ partir do Tratado de _____ assinado em 1991. Estabelece uma integração, inicialmente, econômica configurada atualmente em uma união aduaneira, na qual há livre-comércio intrazona e política comercial comum entre seus membros. Situados todos na América do Sul, são atualmente cinco membros plenos. Em sua formação original, o bloco era composto por _____, _____, _____ e _____, mais tarde, entrou outro país


sendo a _____. Encontra-se em fase de expansão, uma vez que a Bolívia aguarda a ratificação parlamentar de seu protocolo de adesão como membro pleno, documento que necessita ainda para sua vigência das aprovações legislativas na Bolívia, no Brasil e no Paraguai, os demais parlamentos já o aprovaram.

2 - Estão localizados na América do Sul e são chamados de países _____ por serem banhados pelos rios formadores da Bacia do Rio Prata. Além disso, possuem uma história em comum durante grande parte do período colonial. Esses três países: _____, _____ e _____, já participaram de uma mesma administração, e ambos possuem um passado de conflitos e cooperações com o Brasil.



3 – São chamados de países _____ por terem parte do seu território constituído pela Cordilheira dos Andes.

País	PIB (PPC) em milhões	PIB (PPC) per capita	População (2007)	IDH ^[73]
 Brasil	2.013.893	11.037	189.011.861	0,813
 Argentina	391.054	14.559	40.403.943	0,866
 Venezuela	223.430	8.125	26.085.281	0,844
 Uruguai	41.334	13.917	3.447.920	0,865
 Paraguai	34.014	5.638	6.667.884	0,761
Total Mercosul¹	2.703.655	—*	265.616.889	—*



Observe a tabela a seguir e responda:

Fonte: Banco do Mercosul – 2009

Por que o Brasil é considerado o Gigante do Mercosul?

5 – Observe as imagens:

CUBA



Haiti



Explique por que Cuba e Haiti são considerados os países mais pobres do continente americano.
