

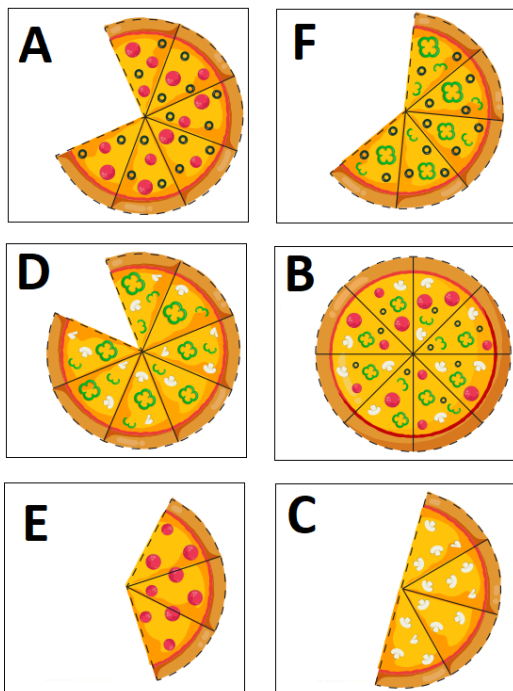
(BPW). A SEGUIR TEM OS HORÁRIOS QUE A SIRENE DA ESCOLA DE PAULINHO É ACIONADA.



QUAL É A SEQUÊNCIA CRONOLÓGICA QUE A SIRENE É ACIONADA?

- A) 11:00 – 10:00 – 9:00 – 8:00 – 7:00
- B) 9:00 – 8:00 – 7:00 – 11:00 – 10:00
- C) 7:00 – 8:00 – 11:00 – 10:00 – 9:00
- D) 7:00 – 8:00 – 9:00 – 10:00 – 11:00

(BPW). JUNINHO ADORA PIZZA E ESTAVA COM MUITA FOME.

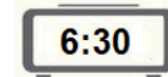
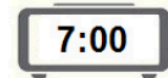
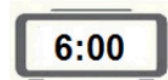



FONTE: <https://curtlink.com/OK3u7nN>

SABENDO QUE JUNINHO PEGAVA UM PEDAÇO DE CADA VEZ, QUAL É A SEQUÊNCIA CORRETA?

- A) B – D – A – F – C – E
- B) A – B – C – D – E – F
- C) F – C – E – B – D – A
- D) A – B – C – D – E – F

(BPW). ESTE É GABRIEL. ELE ESTÁ PRECISANDO DE AJUDA PARA ORGANIZAR OS HORÁRIOS.

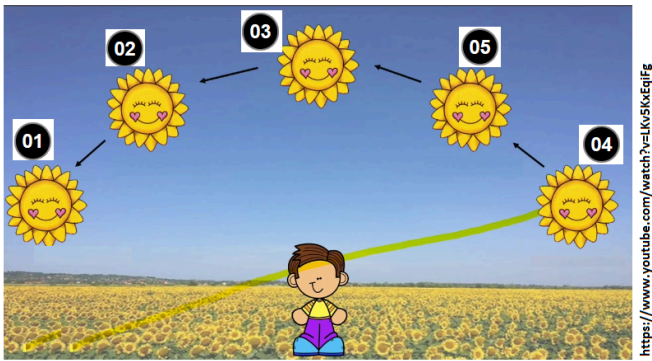


FONTE: <https://doceru.com/doc/s0ven51>

A RELAÇÃO CRONOLOGICA DOS ACONTECIMENTOS É:

- A) 1 – 6:00; 2 – 7:00 e 3 – 6:30
- B) 3 – 6:00; 2 – 6:30 e 1 – 7:00
- C) 2 – 6:00; 1 – 7:00 e 3 – 6:30
- D) 3 – 6:00; 1 – 7:00 e 2 – 6:30

(BPW). A FIGURA A SEGUIR REPRESENTA A POSIÇÃO DO SOL DURANTE UM DIA.



QUAL É A SEQUÊNCIA DE POSIÇÃO CRONOLÓGICA DURANTE DO DIA DO SOL?

- A) 3 – 2 – 1 – 4 – 5
- B) 1 – 2 – 3 – 5 – 4
- C) 4 – 5 – 3 – 2 – 1
- D) 1 – 4 – 2 – 5 – 3

(BPW). TODOS TÊM UMA ROTINA DIÁRIA. OBSERVE A SEGUIR, PARTE DA ROTINA DE PRISCILLA EM UM DIA.



QUAL É A SEQUÊNCIA CORRETA DE ACONTENCIMENTOS?

- A) 2 – 3 – 4 – 5 – 6 – 1
- B) 1 – 2 – 3 – 4 – 5 – 6
- C) 5 – 6 – 2 – 1 – 3 – 4
- D) 1 – 4 – 2 – 3 – 5 – 6

(BPW). TODOS TÊM UMA ROTINA DIÁRIA. OBSERVE A SEGUIR, A ROTINA DE LUCAS EM UM DIA.



QUAL É A SEQUÊNCIA CORRETA DE ACONTENCIMENTOS?

- A) 4 – 3 – 1 – 2
- B) 1 – 2 – 3 – 4
- C) 2 – 3 – 4 – 1
- D) 3 – 2 – 1 – 4

(BPW). TODOS TÊM UMA ROTINA DIÁRIA. OBSERVE A SEGUIR, A ROTINA DE PEDRINHO EM UM DIA.



QUAL É A SEQUÊNCIA CORRETA DE ACONTENCIMENTOS DESSE DIA DE PEDRINHO?

- A) 5 – 4 – 6 – 1 – 3 – 2
- B) 1 – 2 – 3 – 4 – 5 – 6
- C) 2 – 3 – 1 – 6 – 4 – 5
- D) 4 – 5 – 6 – 1 – 2 – 3

-----