

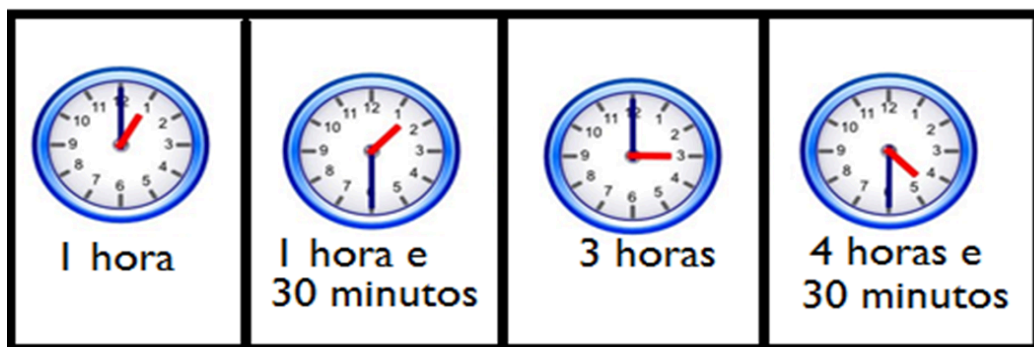
## MEDIDAS DE TEMPO

### Questão 1

Joana entra na escola a **1 hora da tarde**. A hora do recreio é **duas horas depois**. Que horas é o recreio de Joana?

- A) 1 hora.
- B) 1 hora e 30 minutos.
- C) 3 horas.
- D) 4 horas e trinta minutos.

Gabarito letra C

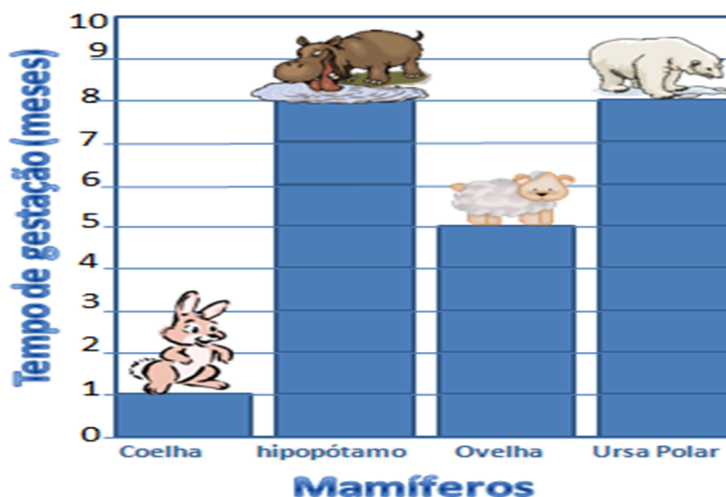


### Questão 2

Observe o gráfico que mostra o tempo que dura o estado de gestação de alguns mamíferos (em meses): **Qual dos mamíferos apresentados no gráfico tem uma gestação que dura 5 meses?**

- A) Coelha.
- B) Hipopótamo.
- C) Ovelha.
- D) Ursa polar.

Gabarito letra C



### Questão 3

Amanda trabalha numa doceria. Ela faz bolos deliciosos. Para não queimar o bolo, ela precisa marcar o tempo exato que a massa deverá ficar no forno. **Qual instrumento Amanda utiliza para marcar o tempo que o bolo fica no forno?**

- A) Bússola.
- B) Fita métrica.
- C) Régua.
- D) Relógio.

Gabarito letra D




© Can Stock Photo – csp6220228

### Questão 4

Há muito tempo, a humanidade percebeu que era dia quando o sol aparecia e era noite quando o sol sumia e, no céu escuro, brilhava a lua. Por que existe o dia e a noite?

- A) Porque a Terra fica parada.
- B) Porque a Terra gira.
- C) Por que o sol fica parado.
- D) Nenhuma das respostas anteriores

Gabarito letra B



**Questão 5**

A tabela abaixo mostra a época mais fácil para encontrar algumas frutas no Brasil. Observe-a e responda:

Quais são as frutas que podemos encontrar mais facilmente no mês de janeiro?

- A) Abacaxi e banana.
- B) Abacaxi e laranja.
- C) Banana e morango.
- D) Morango e laranja.

Gabarito letra A

Meses do ano	abacaxi	banana	laranja	morango
JANEIRO				
FEVEREIRO				
MARÇO				
ABRIL				
MAIO				
JUNHO				
JULHO				
AGOSTO				
SETEMBRO				
OUTUBRO				
NOVEMBRO				
DEZEMBRO				

**Questão 6**

Como se chama a estação em que, uma parte da Terra recebe menor quantidade de luz e calor do sol e, por isso, sentimos mais frio?

- A) Inverno.
- B) Outono.
- C) Primavera.
- D) Verão.

Gabarito letra A



**Questão 7**

No nosso dia a dia temos tempo para tudo. Tempo para ficar com os amigos, para estudar, para passear etc. O importante mesmo é saber aproveitar bem o nosso tempo. Observando a imagem abaixo, qual delas mostra o que levamos mais tempo fazendo?

- A) 1
- B) 2
- C) 3
- D) 4

Gabarito letra C



1

2

3

4

### Questão 8

Observando a natureza, o homem percebeu que o nosso planeta tem o seu próprio tempo. Mas a humanidade sentiu necessidade de criar maneiras de marcar o nosso tempo também. Observando as imagens abaixo, qual desses instrumentos servem para marcar a passagem do tempo?

- A) Ampulheta.
- B) Balança.
- C) Metro articulado.
- D) Termômetro.

Gabarito letra A



balança



termômetro



metro articulado



ampulheta

### Questão 9

O relógio.

O Relógio é o principal instrumento utilizado para medir a passagem do tempo. Ao contrário do que acontecia no passado, hoje nós temos uma infinidade de modelos. Observe que a imagem mostra alguns relógios. Qual das imagens corresponde a um relógio digital?

- A) 1
- B) 2
- C) 3
- D) 4

Gabarito letra C



### Questão 10

É aniversário de Mariana. Veja o convite que ela vai dar para os amigos: Quantas horas irá durar a festa de aniversário de Mariana?

- A) 2 horas.
- B) 4 horas.
- C) 6 horas.
- D) 8 horas.

Gabarito letra B



### Questão 11

André está fazendo um trabalho sobre meio ambiente. Ele fez uma pesquisa e descobriu o tempo que alguns resíduos levam para se decompor na natureza. De acordo com a tabela, quais são os dois resíduos que se decompõem mais rápido?

- A) Borracha e vidro.
  - B) Madeira e nylon.
  - C) Pano e Papel.
  - D) Plástico e metal.
- Gabarito letra C



**Questão 12**

Tiago, Taís, João e Sônia fazem aniversário no mesmo mês. Eles anotaram seus aniversários no calendário. Cada um usou um código de cor para representar o dia correspondente ao seu aniversário. Quais são os dias dos aniversários de **Tiago, Taís, João e Sônia**, nessa ordem?

- (A) 1, 9, 16 e 31
- (B) 9, 16, 1 e 31
- (C) 16, 1, 31 e 9
- (D) 31, 9, 1 e 16

Código de cor

- Tiago**
- Taís**
- João**
- Sônia**

D	S	T	Q	Q	Q	S
						1
2	3	4	5	6	7	8
9	10	11	12	13	14	15
16	17	18	19	20	21	22
23	24	25	26	27	28	29
30	31					

Gabarito letra B