

Soal UAS Matematika kelas 1 SD/MI

Berikut clubburung.com memberikan Soal UAS Matematika kelas 1 SD/MI

PETUNJUK UMUM

1. Tulis namamu di sudut kanan atas
2. Bacalah setiap soal dengan teliti.
3. Kerjakan dulu soal yang kamu anggap mudah.
4. Periksa kembali pekerjaanmu sebelum diserahkan pada pengawas.

A. Berilah tanda silang (x) didepan huruf a,b atau c didepan jawaban yang benar !

1. Jumlah jari tangan ada ...

- a. 5
- b. 10
- c. 20

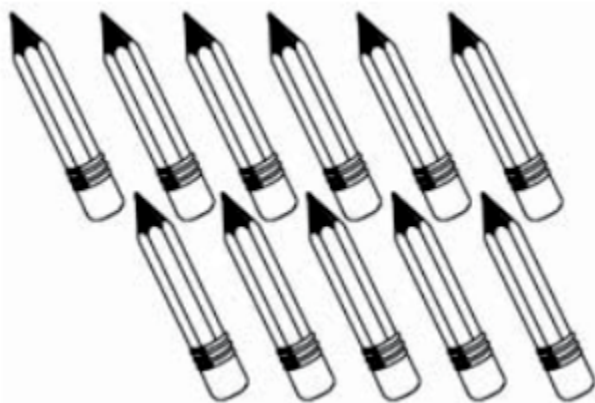
2. 6 adalah lambang bilangan ...

- a. lima
- b. enam
- c. tujuh

3. 12 adalah lambang bilangan ...

- a. sepuluh
- b. dua satu
- c. dua belas

4.



jumlah pensil di atas ada ...

- a. sepuluh
- b. dua belas
- c. sebelas

5. roni punya 5 buku

dina punya 10 buku

buku roni dari buku dina

- a. lebih banyak
- b. lebih bagus
- c. lebih sedikit

6. ali punya 15 permen

budi punya 21 permen

permen budi ... dari permen ali

- a. lebih banyak
- b. lebih sedikit

c. lebih enak

7. lambang bilangan dari 15 adalah ...

- a. lima puluh
- b. satu lima
- c. lima belas

8. ahmad punya sepuluh apel

beni punya tiga belas apel

soni punya sembilan apel

yang punya apel paling sedikit adalah

- a. soni
- b. ahmad
- c. beni

9. setelah angka 22 adalah angka ...

- a. 12
- b. 23
- c. 21

10. * 20 * 21 * 22 * 23 * * 25 * 26 * 27 *

titik-titik di atas berisi bilangan ...

- a. 21
- b. 32
- c. 24

11. urutan angka di bawah ini yang benar adalah ...

- a. 11 – 12 – 14 – 13 – 15
- b. 15 – 14 – 13 – 12- 11
- c. 11 – 12 – 13 – 14 – 15

12. sembilan belas jika ditulis angka adalah

- a. 9
- b. 29
- c. 19

13. $4 + 5 =$

- a. 7
- b. 8
- c. 9

14. $7 + 8 =$

- a. 14
- b. 15
- c. 16

15. $8 + 5 + 7 =$

- a. 20
- b. 21
- c. 19

16. $10 - 5 =$

- a. 5
- b. 6
- c. 4


17. $17 - 9 =$

- a. 10
- b. 11
- c. 12


18. $25 - 10 - 6 =$

- a. 7
- b. 8
- c. 9

19.




ditambah




- a. 17
- b. 18
- c. 19

20.



dikurangi



- a. 5
- b. 9
- c. 6

(Jika ingin mendownload soal ini, berikut linknya : [Download Soal UTS Matematika Kelas 1 SD Semester 1 \(Ganjil\) Dan Kunci Jawaban](#))

21. andi pula 5 pensil
andi membeli lagi 4 pensil
pensil andi sekarang jumlahnya ...

- a. 10
- b. 5
- c. 9

22. ibu membeli 10 telur
ibu membeli lagi 8 telur
jumlah telurnya sekarang adalah ...

- a. 17
- b. 18
- c. 19

23. budi punya 10 ekor ayam

kemudian ada 2 ayam budi yang mati
ayam budi jumlahnya sekarang ...

- a. 8
- b. 9
- c. 12

24. rani punya 15 permen
lalu rani memberikan 5 permenya kepada sinta
jumlah permen rani sekarang ada ...

- a. 10
- b. 20
- c. 11

25. di dalam aquarium ada 12 ikan
ikannya diambil 4 ekor
jumlah ikan di aquarium sekarang ada ...

- a. 6
- b. 8
- c. 16

B. JAWABLAH PERTANYAAN-PERTANYAAN BERIKUT INI DENGAN BENAR!

- 1. Lambang bilangan dari 21 adalah ...
- 2. lambang bilangan 18 adalah
- 3. tujuh belas jika ditulis angka adalah ...
- 4. dua puluh lima jika ditulis angka adalah ...
- 5. sebelum angka 20 adalah angka ...
- 6. jumlah cangkir di atas ada ...
- 7. jari kaki berjumlah ...
- 8. $6 + 7 = \dots$
- 9. $8 + 9 = \dots$
- 10. $12 - 5 = \dots$
- 11. $15 - 3 - 4 = \dots$
- 12. ahmad punya 10 roti
ahmad memakan 4 rotinya
jumlah roti ahmad tinggal

13. bagas punya 9 kelereng
bagas membeli lagi 9 kelereng
kelereng bagas sekarang ada

14. sinta punya 15 boneka
sinta memberikan bonekanya kepada rini 6 boneka
boneka sinta tinggal ...

15. tulislah angka 11 sampai 20

KUNCI JAWABAN SOAL ULANGAN TENGAH SEMESTER 1 MATEMATIKA KELAS 1 SD

A. JAWABAN

- 1. b. 10
- 2. b. enam
- 3. c. dua belas
- 4. c. sebelas
- 5. c. lebih sedikit

6. a. lebih banyak
7. c. lima belas
8. a. soni
9. b. 23
10. c. 24
11. c. 11 – 12 – 13 – 14 – 15
12. c. 19
13. c. 9
14. b. 15
15. a. 20
16. a. 5
17. b. 11
18. c. 9
19. b. 18
20. c. 6
21. c. 9
22. b. 18
23. a. 8
24. a. 10
25. b. 8

B. JAWABAN

1. dua puluh satu
 2. delapan belas
 3. 17
 4. 25
 5. 19
 6. 8
 7. 10
 8. 13
 9. 17
 10. 7
 11. 8
 12. 6
 13. 18
 14. 9
 15. 11, 12, 13, 14, 15, 16, 17, 18, 19, 20
-