


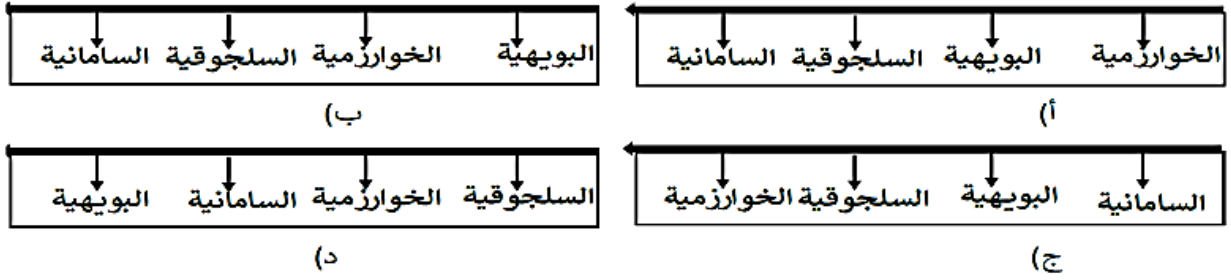
بسم الله الرحمن الرحيم

| | | | | |
|----------------------------|--|---|----|---|
| المادة : الحضارة الإسلامية | |  سُلْطَنَةُ عُومَانِ وَزَارَةُ التَّعْلِيمِ وَالتَّحْقِيقِ | 10 | وزارة التربية والتعليم |
| الصف : الحادي عشر | | | | المديرية العامة للتربية والتعليم بمحافظة الوسطى |
| الزمن : 40 دقيقة | | | | مدرسة وادي السيل للتعليم الأساسي (5 – 12) |
| | | | | اسم الطالب |
| التاريخ: | | اختبار قصير (1) | | |

السؤال الأول: اختار الإجابة الصحيحة من بين البدائل المعطاة (ثلاث درجات)

| |
|---|
| |
| 3 |

(1) الترتيب الزمني الصحيح لقيام الدويلات الإسلامية المستقلة في وسط آسيا من الأقدم إلى الأحدث



(2) الخليفة الراشدي الذي انتشر الإسلام في عهده في وسط آسيا

أ- ابوبكر الصديق ب- عمر بن الخطاب ج- عثمان بن عفان د- علي بن ابي طالب

(3) الدولة التي يقع فيها المعلم الواضح في الصورة المقابلة



(1) الصين (2) سيرلانكا

(ج) الهند (د) سنغافورة

السؤال الثاني: اجب عن الأسئلة الآتية (اربع درجات)

1. فسر : كان لوسط آسيا مكانة كبيرة في التاريخ الإسلامي

4

2. اذكر اثنين من أسباب فتح وسط آسيا

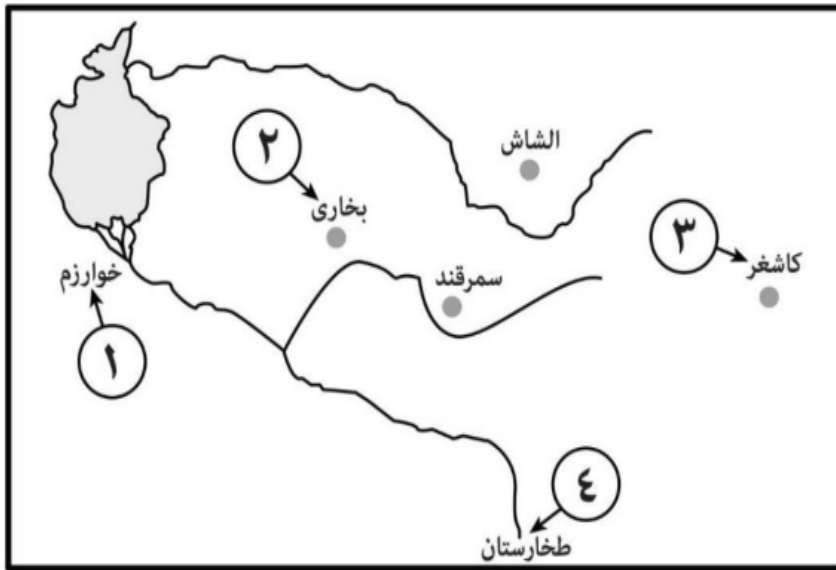
3. علل : شهد إقليم ما وراء النهر في ظل الحكم الإسلامي نهضة علمية زاهرة

4. اكتب المصطلح الدال على العبارة التالية

| المصطلح | العبارة |
|---------|--|
| | مزيج بين اللغات العربية والفارسية واللهجات الهندية |

3

السؤال الثالث: ادرس الخريطة التي أمامك جيداً ثم اجب عما يأتي:-



1. اكتب الأسماء التالية في موقعها

الصحيح على الخريطة

(أ) بحر آرال (ب) نهر جيحون

2. ضع دائرة حول اسم المدينة

التي أطلق عليها الرحالة العرب

(الباقوتة)

3. ما الرقم الصحيح الذي يشير إلى

المرحلة الأخيرة من مراحل فتوحات

قتيبة بن مسلم الباهلي لوسط آسيا

انتهت الأسئلة