

CICLO ESCOLAR 2021-2022

EVALUACIÓN DE DIAGNOSTICO

EVALUACION DE DIAGNOSTICO

NOMBRE DE LA ESCUELA: _____

NOMBRE DEL ALUMNO(A): _____

EL CASCABEL

Un día un conejo iba por el monte. En el camino, debajo de un árbol vio un cascabel.

_ ¿De quién será? –pensó intrigado el conejo.



De repente, apareció un gato y le preguntó.

-Oye conejo, ¿has visto un cascabel?

-¿Es éste? – respondió el conejo.




-¡sí! – contestó el gato muy contento.

El conejo le devolvió el cascabel al gato y desde entonces son muy amigos.


1-5.- Ordena según la historia

- ☐ Desde entonces, el conejo y el gato son muy amigos.
- ☐ Un día, un conejo iba por el monte.
- ☐ Entonces apareció un gato que buscaba un cascabel.
- ☐ De repente, el conejo encontró un cascabel.
- ☐ El conejo le devolvió el cascabel al gato


6.- Rodea dos pasos necesarios antes de preparar la exposición de un tema en clase.

 Elegir un tema de interés  Exponer el tema  Decidir a quién o a quiénes se les comunicará la información.

7-8.- Escribe en los círculos “L” si es un texto literario o “I” si es informativo.



9.- ¿Qué adjetivos calificativos son adecuados para describir a un elefante



- ☐ Pequeño, delgado y simpático.
- ☐ Grande, robusto y fuerte.
- ☐ Inteligente, gracioso y tragón.


10.- ¿Qué grupo de palabras está ordenada alfabéticamente?

☐ Mariana
Pablo
Alberto

☐ Carmina
Damián
Esteban

☐ José
Karla
Benito

11, 12.- Escribe un encabezado en las siguientes noticias.



Une con las columnas:

13. En él encontramos noticias.

Encabezado.

14. Texto que lleva fotos en la parte inferior.

Periódico.

15. Título de una noticia.

Pie de foto.

16. Ilumina la tarjeta donde se encuentre una nota informativa.

El color que tiene Sal solecito


una
estrella demuestra lo
caliente que es. Una
estrella azul es más
caliente que una
roja.

caliéntame un poquito,
por hoy, por mañana y
toda la semana.

La luna es redonda

y luminosa como
tus ojos hermosos.
Por eso te digo
ojitos de luna.

Observa y lee el texto siguiente, después rellena el círculo que tenga la respuesta correcta.



El cordoncito

México, SEP-CIDCLI,
2001, 24 páginas.
ISBN: 970-18-7187-1

"Anda que andarás, anda que andarás..." Paquito sale a buscar

fortuna sin saber muy bien qué es lo que debe encontrar. Pero como las cosas se aprenden en el camino, mientras anda por las calles de su barrio, Paquito entiende que para hacer fortuna basta a veces un simple cordón y un poco de ingenio.

17.- Este texto es:

☐

Una nota informativa

☐

Una reseña

☐

Una historieta

18.- ¿Qué datos le faltan?

☐

El nombre del libro

☐

El autor

☐

El personaje principal

19.- Lee y ordena correctamente la siguiente historia.

Al llegar se enteró de que la bella muchacha había muerto trágicamente; de inmediato fue a su lado y al mirar su cuerpo tendido sin vida, lo invadió la tristeza y cayó arrodillado a los pies de

En algún tiempo, un joven guerrero mexicano se enamoró de una doncella a la cual juró amor por la eternidad. Como todo buen hombre de su época, el valiente guerrero Popocatépetl tuvo que

Con el paso del tiempo, ambos jóvenes fueron cubiertos por las formaciones que la madre Tierra crea sobre su faz. Así la joven pareja quedó convertida en dos enormes volcanes bajo

su amada.
Obedeciendo a su
juramento, decidió
acompañarla por el
resto de su vida.



partir al campo de
batalla: a su regreso,
buscó a su amada
Iztaccíhuatl para
casarse con ella.



la protección de los
dioses, uno cerca del
otro, como eternos
enamorado.



20. ¿Qué tipo de texto es el siguiente?



FRESAS CON CREMA

Lava las fresas, escúrrelas y pártelas.
En una copa limpia pon la crema batida.
Agrega las fresas.



Cartel.



Cuento.



Instructivo.

MATEMÁTICAS

Lee el siguiente problema y responde correctamente.



Don Pepe tiene una pizzería, llamada PIZZA TOWN,

Vende las rebanadas  a \$8 pesos.

1.- Si la pizza completa tiene 10 rebanadas ¿Cuánto costará?_____

2.- Matías compró 5 rebanadas



¿Cuánto pagará?_____

3.- Al pagar dio un billete de \$100 pesos, ¿recibió cambio?_____ ¿Cuánto?_____

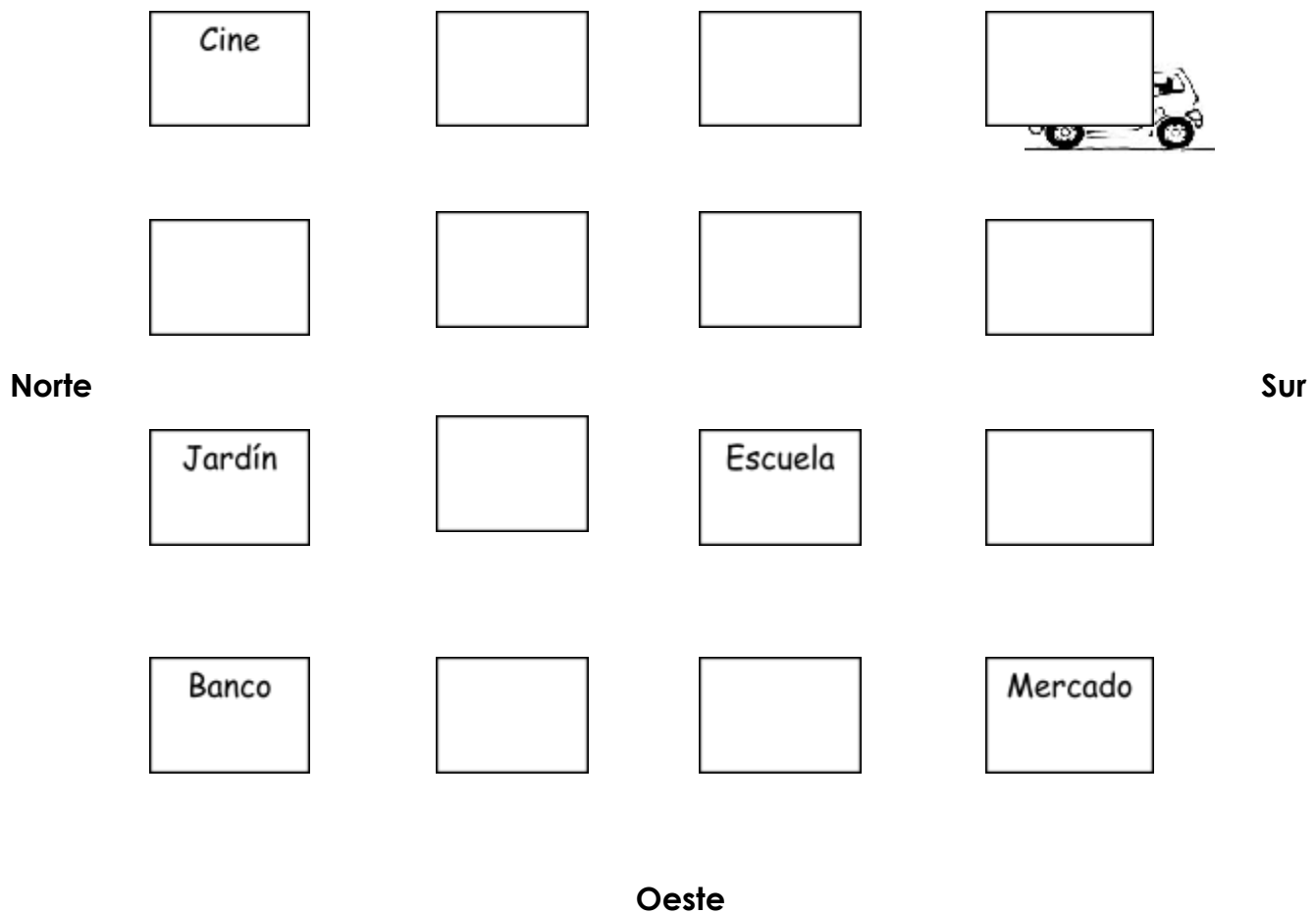
4.- Encierra los objetos que se deslizan en un plano inclinado.



5.- Ilumina la siguiente ruta en el plano y averigua a donde llegó la familia de José Luis.

El auto avanza 2 cuadras hacia el norte, 1 al oeste y 1 al sur.

Este



a) Llegaron a:



Cine



Mercado



Escuela

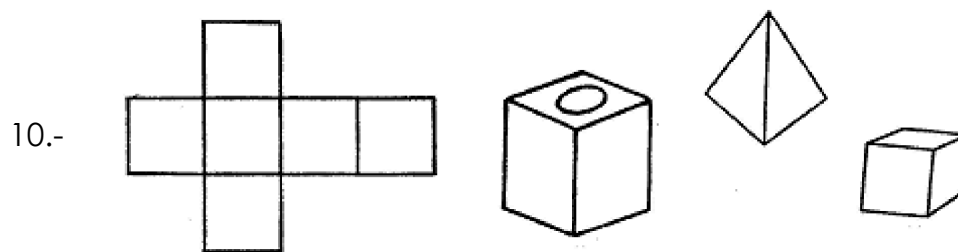
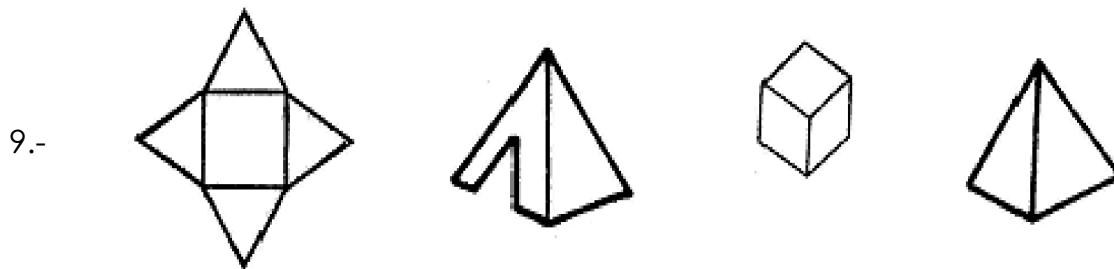
Compara las cantidades y escribe los signos $>$ $<$ $=$ sobre la línea que corresponda.

6.- 98 _____ 78

7.- 243 _____ 243

8.- 46 _____ 97

Tacha la figura que se pueden formar con los contornos que se muestran.



Observa cada grupo de número y ordénalos de menor a mayor

11.- 78, 22, 33, 97, 11, 28

12.- 15, 43, 76, 45, 93, 7

13.- 8, 24, 87, 30, 91, 2, 58

María y José han ahorrado todo el mes para poder comprarle un regalo a su mamá, observa los cuadros y contesta lo que se te pide.





14.- María reunió la cantidad de:

a) \$257

b) \$ 276

c) \$ 267

15.- José reunió la cantidad de:

a) \$257

b) \$ 276

c) \$ 267

16.- Si reúnen el dinero de los dos, ¿Cuánto tendrán para el regalo?

a) \$389

b) \$408

c) \$533

Julián tiene las siguientes naranjas, las cajas contienen 100 y cada bolsa tiene 10 naranjas.



17.- Escribe la suma que represente la cantidad de naranjas.


$$\boxed{} + \boxed{} + \boxed{} =$$

Don Guillermo elabora galletas para vender. Con 1 kilo de harina prepara 20 galletas y para venderlas las empaca en bolsas de 10 galletas cada una, para después vender cada bolsa en \$15 pesos.

18.- ¿Cuántas galletas puede preparar con 5 kilos de harina? _____

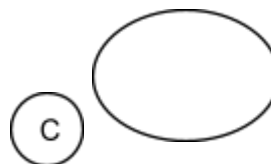

19.- ¿Cuántas bolsas necesita para empacar esas galletas? _____

20.- Si vende todas las bolsas de galletas, ¿Cuánto dinero tendrá? _____






CIENCIAS NATURALES

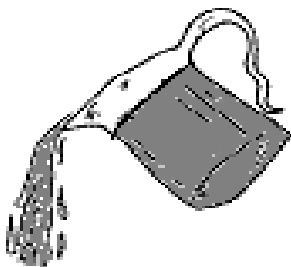
1.- ¿Qué tipo de alimentos debemos consumir para estar sanos?



2.- Tacha con color azul los animales acuáticos y de café los terrestres.



3.- Escribe el nombre de los siguientes estados del agua:




4.- Son ejemplos de recursos naturales

a) Algodón, petróleo y madera.

b) ropa, gasolina y sillas.

b) vacas, pasto y comida.

5.-Ordena el siguiente ciclo productivo de la leche pasteurizada.



6.-Encierra en un círculo verde el producto que se obtiene del campo y en un círculo rojo el que se obtiene de la industria.




INSTRUCCIONES: (7-10) Relaciona el dibujo con la recomendación para evitar ese accidente.



Debes evitar exponerte mucho tiempo a los rayos del Sol, porque te puedes quemar la piel severamente.



Evita jugar cerca de la estufa, sobre todo si alguien tiene calentando comida al fuego. Pues te puedes quemar.



Mantente alejado del lugar donde estén planchando en casa, pues la plancha genera calor que puede causar quemaduras.



Jugar con encendedores es demasiado peligroso, ya que además de accidentarte puedes ocasionar un incendio.

MI ENTIDAD

1.- Ilumina la entidad en la que vives.



2 a la 6.- Escribe sobre la línea si se trata del campo o la ciudad.

_____ Tiene hospitales y varias escuelas.

_____ Hay una gran población.

_____ Se caracteriza por tener pocos medios de transporte.

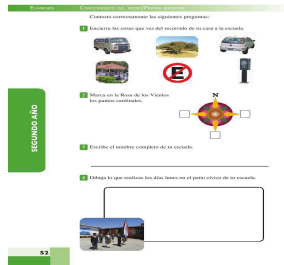
_____ Edificios y grandes construcciones.

_____ Su gente trabaja criando animales y sembrando productos.

7 y 8.- Mi comunidad se llama:

y es _____(una ciudad-campo)

9.- Escribe los puntos cardinales que faltan.



10.- Une cada símbolo con su significado:



Restaurante


Gasolinera

Estacionamiento

Aeropuerto

Zona arqueológica

11.- Encierra la imagen que se parece al lugar en el que vives.



12.- Son lugares donde podemos realizar las compras de víveres y suministros necesarios para nuestro hogar.

a) Mercado, tianguis y supermercados.

b)teatros, cines y parques.

c) talleres, bibliotecas y museos.

Escribe el nombre de los siguientes servicios públicos



13.-

14.-

15.- Escribe sobre las líneas los nombres de algunas tradiciones y costumbres de tu localidad.

Ejemplo: El día de muertos.

FORMACION CIVICA Y ETICA

Subraya la respuesta correcta:




1.- ¿Cuál de las siguientes acciones es una muestra de respeto hacia las personas con capacidades diferentes?

- a) Excluirlos de juegos
- b) Incluirlos en actividades cotidianas
- c) Burlarse de ellas.

2.- Subraya una acción que no favorece tu salud:

- a) Comer balanceadamente
- b) Practicar algún deporte
- c) Tomar refresco y comer golosinas

3.- Encierra la imagen que muestre la emoción que sientes si te enteras que ganaste un premio.



4.- Tacha la manera incorrecta de expresar tus emociones:



5 a la 7.- Relaciona con una línea el dibujo con el beneficio que te brinda cada persona.

Me cura cuando me enfermo
y protege mi salud.

Trae a mi localidad productos
que se elaboran en otros lugares.

Me quieren, me enseñan a cuidarme
y a apreciar a todas las personas.



INSTRUCCIONES: (8-10) Escribe las acciones que provocan un conflicto. En la línea inferior de cada caso, escribe cómo lo solucionas.

