

A. Kenal pasti pergerakan lokomotor dan bukan lokomotor, dan tulis jawapan pada kotak di bawah. (10 markah)

Meregang	Mengangkat tangan	Berlari
Skip	Mencongklang	Mengilas
Melompat	Membongkok	Berjalan
<p>Meringkuk</p> <div style="display: flex; justify-content: space-around; align-items: center;"> <div style="border: 1px solid black; border-radius: 50%; padding: 10px; text-align: left; width: 25%;"> pergerakan lokomotor adalah pergerakan yang berubah tempat asal. </div> <div style="border: 1px solid black; border-radius: 50%; padding: 10px; text-align: left; width: 25%;"> pergerakan lokomotor adalah pergerakan yang tidak berubah tempat </div> </div>		



1

2

3

6

7

8

4

9

5

10

B. Namakan pergerakan berikut. (5 Markah)


Melompat

Berjalan




Berlari

Menolak


Mengimbang




12




C. Padankan gambar dengan jawapan yang betul. (4 Markah)




Berlari



Melompat



Menolak



Mengimbang

D. Nyatakan pergerakan di bawah berdasarkan tahap kelajuan yang betul. (6 markah)

Menolak

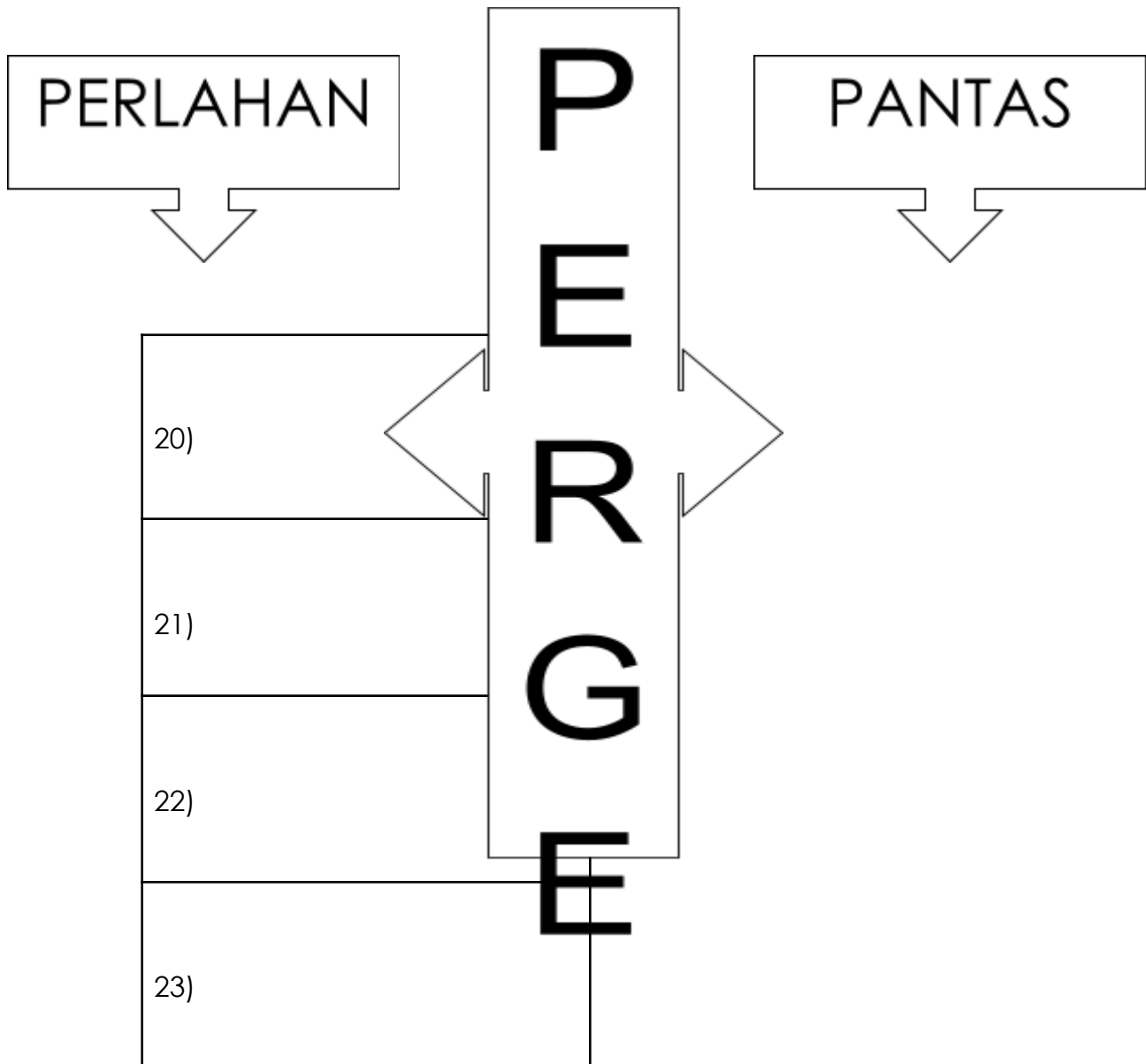
Melompat

Berlari

Berjalan

Menggelongsor sisi

Mengimbang



24)
25)

Bahagian 2 : Pendidikan Kesihatan

/25

A. Mengenal pasti perasaan yang wujud akibat perubahan yang berlaku dalam keluarga dan persekitaran. (6 markah)

Malu


Cemas

Bangga

Sedih

Marah

Takut



B. Isi tempat kosong dengan jawapan yang betul. (6 markah)



• Luka akan cepat _____ jika mendapat rehat yang cukup.

• Rehat yang cukup boleh mempercepatkan proses

C. Lorekkan sentuhan **selamat** atau **tidak selamat** pada situasi di bawah. (8 markah)

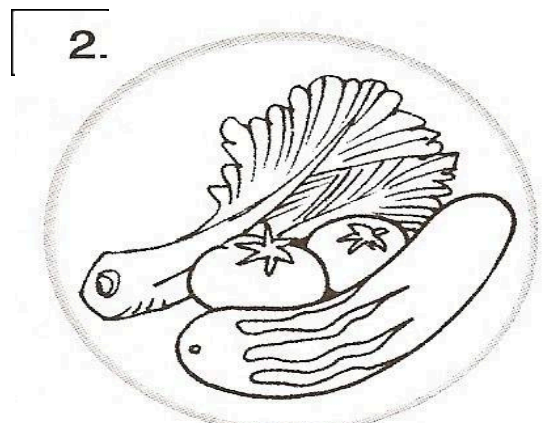

13	Situasi	Sentuhan	
14	Murid lelaki memeluk murid perempuan.	selamat	tidak selamat
15	Ibu memeluk dan mencium anaknya kerana berjaya dalam peperiksaan.	selamat	tidak selamat
16			

	Murid lelaki memegang alat genital murid perempuan.	selamat	tidak selamat
	Guru bersalaman dengan murid sambil mengucapkan tahniah kerana memenangi acara sukan.	selamat	tidak selamat
	Guru lelaki memeluk pinggang murid perempuan.	selamat	tidak selamat
	Abang memegang tangan adik perempuannya semasa melintas jalanraya.	selamat	tidak selamat
17	Abang membersihkan luka adik perempuannya.	selamat	tidak selamat
18	Murid lelaki menyentuh punggung murid perempuan.	selamat	tidak selamat

19

20


D. Warnakan **biru** makanan yang berkhasiat dan **merah** makanan yang tidak berkhasiat. (5 markah)




4.



6.



25.



- KERTAS SOALAN TAMAT -

Disediakan oleh :

.....
..
(PUAN SITI ZURAIDA BINTI
OSMAN)
GURU PENDIDIKAN JASMANI &
KESIHATAN TAHUN 2

Disemak oleh :

.....
.....
(PUAN ZARINA BINTI ISMAIL)
KETUA PANITIA PENDIDIKAN
JASMANI & KESIHATAN

Disahkan oleh :

.....
(
)



SEKOLAH KEBANGSAAN CONVENT
JALAN DATUK KUMBAR,
05300 ALOR SETAR, KEDAH.

PEPERIKSAAN PERTENGAHAN TAHUN 2017

PENDIDIKAN JASMANI & KESIHATAN

TAHUN 2

JANGAN BUKA KERTAS SOALAN INI SEHINGGA DIBERITAHU.

Arahan.

1. Kertas ini mengandungi dua bahagian.
2. Bahagian 1 – Pendidikan Jasmani dan Bahagian 2 – Pendidikan Kesihatan.
3. Jawab semua soalan.

KEGUNAAN PEMERIKSA		
BAHAGIAN	MARKAH PENUH	JUMLAH
1 PENDIDIKAN JASMANI	/25	/100
2 PENDIDIKAN KESIHATAN	/25	/100