



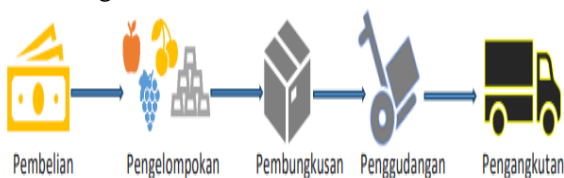
**PENILAIAN AKHIR TAHUN (PAT)
TAHUN PELAJARAN 2022/2023
MADRASAH TSANAWIYAH KOTA MALANG**

Mata Pelajaran : Ilmu Pengetahuan Sosial
Hari/Tanggal : Selasa, 06 Juni 2023

Kelas : 7 (Tujuh)
Waktu : 120 Menit

A. Pilihlah Jawaban yang Paling Benar!

- Berikut yang tidak menunjukkan alasan penyebab kelangkaan menjadi bagian dari masalah ekonomi, adalah
 - Karena kelangkaan menyebabkan kenaikan harga barang dan jasa
 - Karena kelangkaan menyebabkan permintaan pasar tidak terpenuhi
 - kelangkaan menyebabkan penggunaan sumber daya alam harus efisien
 - Kelangkaan menyebabkan barang-barang tidak laku, krena tidak dibutuhkan oleh masyarakat
- Faktor apa yang membuat manusia harus memilih dalam memenuhi kebutuhan mereka?
 - Adanya keinginan manusia yang tidak terbatas
 - Ketersediaan sumber daya alam yang melimpah
 - Kemampuan manusia dalam memproduksi barang dan jasa
 - Sebagian besar masyarakat adalah golongan ekonomi menengah ke bawah
- Bagaimana cara melakukan tindakan ekonomi rasional dalam memilih tempat berbelanja?
 - Memilih toko dengan merek terkenal
 - Memilih toko yang paling dekat dengan rumah
 - Memilih toko dengan harga yang paling rendah
 - Membandingkan harga, kualitas, dan layanan dari berbagai took
- Mengapa penting untuk melakukan tindakan ekonomi rasional ketika memilih tempat berbelanja?
 - Untuk mendapatkan harga terendah
 - Untuk memaksimalkan pengalaman berbelanja
 - Untuk menghindari membeli barang yang tidak diperlukan
 - Untuk mengoptimalkan penggunaan uang yang dihabiskan
- Perusahaan X berencana untuk memproduksi produk baru. Dalam mengambil keputusan untuk produksi, perusahaan perlu mempertimbangkan beberapa faktor seperti biaya produksi, permintaan pasar, dan risiko investasi. Sebutkan langkah-langkah yang dapat diambil oleh perusahaan untuk mengidentifikasi faktor-faktor tersebut dan memilih jenis produksi yang tepat.
 - Memilih jenis produksi yang paling murah
 - Membuat studi pasar dan riset biaya produksi
 - Mengikuti tren dan menghasilkan produk yang baru dan unik
 - Memproduksi produk yang paling banyak diminati oleh pasar
- Perhatikan gambar berikut!



Dari rangkaian gambar tersebut menunjukkan proses kegiatan ekonomi yakni kegiatan

- Produksi
- Investasi

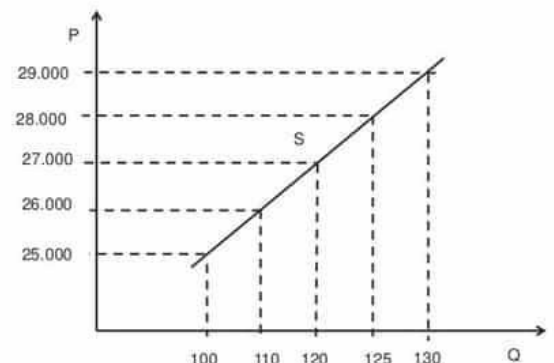
- Distribusi
- Konsumsi

7. Daftar belanja barang yang akan dibeli oleh Nanda sebagai berikut :

Daftar belanja	Jumlah	Perbandingan harga	
		Tukang sayur	Di Pasar
Tepung terigu	2 kg	Rp. 8.200,-/kg	Rp. 8.400,-/kg
Bayam	3 ikat	Rp. 600/ikat	Rp. 600/ikat
Kacang tanah	1 kg	Rp. 3.000/kg	Rp. 2.600/kg


Berbelanja di tukang sayur jauh lebih dekat dibandingkan dengan berbelanja di pasar. Jika untuk berbelanja ke pasar membutuhkan biaya transpot Rp. 1.200,-. Maka tindakan ekonomi yang rasional untuk menentukan tempat berbelanja yang tepat adalah

- Berbelanja di pasar dan di tukang sayur bukan merupakan tindakan yang rasional
 - Berbelanja di pasar dan di tukang sayur merupakan tindakan yang rasional
 - Di tukang sayur
 - Di pasar
8. Bagaimana kenaikan harga dapat mempengaruhi konsumen?
- Meningkatkan daya beli konsumen
 - Tidak ada pengaruh pada konsumen
 - Meningkatkan penghasilan konsumen
 - Meningkatkan kesulitan dalam memenuhi kebutuhan dasar
9. Dalam berita ekonomi yang dimuat dari berbagai surat kabar harga minyak goreng masih terus melambung tinggi, bahkan kenaikannya mencapai lebih dari 100% Perubahan tersebut menyebabkan permintaan minyak goreng dan penawaran minyak goreng ...
- Naik, naik
 - Naik, turun
 - Turun, naik
 - Turun, turun
10. Berdasarkan kurva diatas, kesimpulan yang tepat mengenai titik S adalah ...



- Pada tingkat harga Rp 26.000, jumlah barang yang ditawarkan dan diminta adalah 110 buah
- Pada tingkat harga Rp 27.000, jumlah barang yang ditawarkan adalah 120 buah

- C. Pada tingkat harga Rp 27.000, jumlah barang yang diminta adalah 120 buah
 D. Pada tingkat harga Rp 26.000, jumlah barang yang diminta adalah 110 buah
11. Berikut ini peran barang:
 1. Mendorong peran ekonomi suatu negara
 2. Memudahkan perusahaan mencari kerja
 3. Mengembangkan, meningkatkan, dan memperluas usaha
 4. Menyediakan bahan baku bagi pelaksana pembangunan
 5. Menggerakkan kegiatan ekonomi masyarakat melalui jual beli
 Dari pernyataan diatas yang termasuk peran penting pasar bagi pembagian ekonomi ialah...
 A. 1, 2, dan 3
 B. 2, 3, dan 4
 C. 3, 4, dan 5
 D. 2, 3, dan 5
12. Proses terbentuknya harga pasar dipengaruhi interaksi antara permintaan dan penawaran. Pernyataan yang benar berkaitan dengan terbentuknya harga pasar adalah ..
 A. Pada tingkat harga Rp 100.000,00 jumlah barang yang ditawarkan 1.000 unit dan 500 unit
 B. 150.000,00 jumlah barang yang diminta 750 unit dan jumlah barang yang dibutuhkan konsumen 750 unit
 C. Pada tingkat harga Rp 200.000,00 jumlah barang yang diminta 500 unit dan jumlah barang yang ditawarkan 500 unit
 D. Pada tingkat harga Rp 800.000,00 jumlah barang yang diminta 1.000 unit dan jumlah barang yang ditawarkan 500 unit
13. Harga produk A di sebuah pasar mengalami kenaikan. Pengaruh kenaikan harga di pasar terhadap produk A adalah ...
 A. Jumlah produk yang diminta bertambah dan jumlah produk yang ditawarkan berkurang
 B. Jumlah produk yang diminta berkurang dan jumlah produk yang ditawarkan bertambah
 C. Jumlah produk yang diminta sama dan jumlah produk yang ditawarkan
 D. Jumlah produk yang diminta bertambah dan jumlah produk yang ditawarkan bertambah
14. Akses internet yang tidak dibatasi tempat dan waktu sehingga bisa diakses kapanpun mendorong kegiatan berbelanja melalui pasar online menjadi lebih mudah. Kondisi ini keuntungan bagi distributor dalam melakukan pemasaran yaitu....
 A. Meningkatkan produksi barang/jasa
 B. Menjangkau pasar secara lebih luas
 C. Memudahkan dalam memenuhi kebutuhan
 D. Memudahkan dalam memesan bahan baku
15. Perkembangan Iptek dapat memberikan dampak positif di bidang ekonomi. Salah satu contohnya ditunjukkan dengan pernyataan...
 A. Pembayaran belanja secara cashless atau non tunai menggunakan uang elektronik
 B. Penggunaan kendaraan pribadi ketika bepergian sehingga meningkatkan polusi
 C. Pemanfaatan pasar online yang menjadikan seseorang malas bepergian
 D. Pendirian pabrik di pinggiran kota menyebabkan lahan pertanian makin sempit
16. Perkembangan Iptek dapat menunjang aktivitas manusia yang beragam berbagai keuntungan diperoleh dari perkembangan iptek tersebut berikut adalah dampak positif dalam perkembangan iptek *kecuali*
 A. memunculkan sifat konsumtif
 B. memudahkan kegiatan manusia dalam aktivitasnya
 C. mempersingkat jarak melalui sistem komunikasi jarak jauh
 D. menambah pengetahuan masyarakat dengan sistem informasi yang canggih
17. Adanya kemajuan iptek yang terjadi membuat adanya kemudahan dalam kehidupan, seperti adanya telekomunikasi, televisi, transportasi, dan lain sebagainya. Dengan adanya sistem penjualan melalui media sosial masyarakat dapat dengan mudah menemukan barang atau jasa yang menjadi kebutuhannya hal tersebut merupakan peranan iptek dalam ekonomi pada kegiatan... .
 A. Produksi
 B. Distribusi
 C. Konsumsi
 D. Retribusi
18. Bagaimana cara yang dilakukan oleh ekonomi kreatif agar mampu meningkatkan potensi yang dimiliki oleh daerah wisata?
 A. Melakukan pendirian hotel-hotel dengan konsep artistic
 B. Melalui pengembangan potensi wisata kuliner
 C. Melakukan peningkatan pendidikan bagi para pemandu wisata
 D. Melakukan promosi melalui video konten dan fotografi
19. Johan adalah pemuda tanggung penjual pakaian, yang mana sasaran penjualan pakaiannya adalah kaum remaja. Johan kemudian menerapkan suatu perkembangan pola pikir yang baru, dimana dirinya berinovasi untuk memproduksi baju full print, yang belum banyak orang memproduksi dan menjualnya. Sikap wirausaha Johan dalam cerita di atas adalah...
 A. Berani mengambil risiko
 B. Evisien dan penghematan biaya
 C. Semangat untuk mengatasi kesulitan yang dihadapi
 D. Memiliki daya kreasi, imajinasi dan kemampuan yang tinggi
20. Sebelum memproduksi baju full print, Johan melihat-lihat dan meriset produk yang laku dan laris di pasaran. Dia mengamati sedemikian rupa dan serinci mungkin apa yang diminati oleh konsumen di pasaran. Setelah mengamati dirinya terlintas akan membuat produk yang jauh lebih menarik lagi dari apa yang dijual laris dipasaran. Dalam ilustrasi tersebut, sikap wirausaha yang dikembangkan oleh Johan adalah... .
 A. Keberanian dalam mengambil risiko
 B. Memiliki cara analisis yang tepat, sistematis dan metodologis
 C. Semangat dan kemauan untuk mengatasi kesulitan yang dihadapi
 D. Kemampuan yang baik dalam memanfaatkan kesempatan yang ada
21. Keberadaan wirausaha dalam perekonomian membawa manfaat yang dapat dirasakan langsung. Di bawah ini adalah manfaat wirausaha dalam perekonomian, **kecuali**... .
 A. Meningkatkan pendapatan nasional
 B. Meningkatkan kesenjangan sosial
 C. Membuka lapangan kerja baru
 D. Meningkatkan taraf hidup

22. Berikut ini yang merupakan penyebab kelangkaan yang benar adalah ...
- Jumlah kebutuhan manusia tidak terbatas, sedangkan alat pemenuhan kebutuhannya terbatas.
 - Jumlah kebutuhan manusia terbatas, sedangkan alat pemenuhan kebutuhannya tidak terbatas.
 - Jumlah keinginan manusia terbatas, sedangkan alat pemenuhan kebutuhannya tidak terbatas.
 - Jumlah kebutuhan manusia tidak terbatas, sedangkan alat pemenuhan kebutuhannya mahal.
23. Air bersih di daerah pegunungan atau yang dekat sumber mata air merupakan barang yang mudah didapat. Namun, di kota-kota besar air bersih menjadi barang yang langka sehingga untuk mendapatkannya memerlukan pengorbanan yang tidak sedikit dengan mengeluarkan sejumlah uang. Hal yang terjadi selanjutnya:
- 1) Permintaan naik
 - 2) Permintaan turun
 - 3) Harga air bersih naik
 - 4) Harga air bersih turun
- Berdasarkan ilustrasi tersebut, maka pernyataan yang benar terdapat pada nomor... .
- 1) dan 3)
 - 1) dan 4)
 - 2) dan 3)
 - 2) dan 4)
24. Perhatikan pernyataan berikut ini!
- 1) Nomaden dan masih mengumpulkan makanan atau *food gathering*.
 - 2) Alat-alat yang dihasilkan terbuat dengan menggunakan batu kasar.
 - 3) Ditemukannya bukit-bukit kerang di pinggir pantai yang dikenal dengan nama *kjokkenmoddinger* atau sampah dapur.
 - 4) Menetap di gua-gua.
- Berdasarkan pernyataan di atas, merupakan ciri kehidupan pada masa... .
- Paleolitikum
 - Mesolitikum
 - Megalitikum
 - Neolitikum
25. Apa tujuan dibuatnya menhir pada masa pra-aksara?
- Sebagai tempat ibadah
 - Sebagai tempat pemakaman
 - Tempat tinggal para bangsawan
 - Sebagai tanda peringatan atau kenangan
26. Apa dampak dari migrasi bangsa-bangsa pada masa pra-aksara?
- Peningkatan keanekaragaman budaya dan percampuran antar bangsa
 - Hilangnya budaya asli dan bahasa daerah
 - Konflik dan perang antar bangsa
 - Penduduk dunia semakin padat
27. Mengapa jalur laut dipilih sebagai media penyebaran agama Hindu-Buddha?
- Lebih mudah dan cepat untuk sampai di tujuan
 - Karena jalur laut merupakan jalur perdagangan yang sibuk
 - Karena jalur laut merupakan jalur transportasi yang paling efektif pada masa itu
 - Karena agama Hindu-Buddha sudah ada di wilayah pesisir dan menyebar melalui jalur laut
28. Salah satu pengaruh tradisi Hindu dalam kehidupan politik masyarakat Indonesia kuno adalah...
- Sistem kekerabatan berdasarkan kasta
 - Kehidupan masyarakat yang demokratis
 - Munculnya pemerintah berbentuk kerajaan
 - Masyarakat mulai menetap karena bercocok tanam
29. Informasi berikut yang tidak berkaitan dengan kerajaan Kutai adalah ...
- Informasi tentang awal mula kerajaan adalah tujuh buah Yupa yang menjadi sumber utama untuk mengetahui sejarah Kerajaan
 - Sebuah kerajaan yang pernah berkuasa di wilayah barat pulau Jawa pada abad ke-4 hingga abad ke-7 M.
 - Merupakan kerajaan Hindu yang pertama di Indonesia setelah berkembangnya pengaruh dari India.
 - Memiliki raja-raja yang merupakan keturunan dari India
30. Perhatikan Gambar berikut!
- 
- Keberadaan masjid Kudus tersebut menunjukkan bahwa
- Masyarakat sulit menerima budaya asing
 - Penyebaran agama Islam dilakukan dengan cara damai
 - Pusat perkembangan agama Islam terletak di Pulau Jawa
 - Kebudayaan Islam tidak mampu menghilangkan kebudayaan lokal
31. N.J. Krom mengemukakan teori Waisya untuk menjelaskan proses masuknya Hindu-Budha ke Indonesia. Penjelasan yang tepat mengenai teori ini terdapat pada pernyataan
- Penyebaran agama Hindu-Budha dilakukan melalui kolonialisasi dan penaklukan oleh orang-orang India
 - Penyebaran agama Hindu-Budha dilakukan melalui perkawinan antara pedagang India dan wanita lokal
 - Agama Hindu-Budha disebarkan oleh kaum terdidik yang menempuh Pendidikan di India
 - Agama Hindu-Budha di bawa oleh orang-orang berkasta rendah dari India
32. Bacalah pernyataan berikut!
- "Salah satu pengaruh Hindu-Buddha juga ditandai dengan munculnya perbedaan yang tegas antar kelompok masyarakat. Dalam masyarakat Hindu, perbedaan ini disebut dengan sistem kasta. Sistem ini membedakan masyarakat berdasarkan fungsinya. Golongan Brahmana (pendeta) menduduki golongan pertama. Ksatria (bangsawan, prajurit) menduduki golongan kedua. Waisya (pedagang dan petani) menduduki golongan ketiga, sedangkan Sudra (rakyat biasa) menduduki golongan terendah atau golongan keempat". Berdasarkan uraian di atas adalah salah satu pengaruh Hindu Budha dalam bidang
- Pemerintah
 - Ekonomi
 - Budaya
 - Sosial
33. Para pedagang yang datang ke Indonesia ternyata tidak hanya berdagang saja. Mereka banyak yang menikah dengan wanita pribumi yang sebelumnya bukan pemeluk agama Islam tetapi kemudian menjadi seorang muslim, misalnya....

- A. Raden Rahmat dengan Putri Jeumpa
- B. Sunan Ampel dengan Putri Kawungaten
- C. Syarif Hidayatullah dengan Putri Kawungaten
- D. Sunan Gunung Jati dengan Nyai Gede Manila Putri Tumenggung Wilatikta

34. Perhatikan gambar berikut!



Para

Pedagang muslim yang menetap di Nusantara memanfaatkan kesenian untuk menyebarkan agama Islam. Gambar tersebut merupakan salah satu contoh media dakwah yang diperkenalkan oleh

- A. Sunan Muria
- B. Sunan Ampel
- C. Sunan Bonang
- D. Sunan Kalijaga

35. Para pedagang yang datang ke Indonesia ternyata tidak hanya berdagang saja. Mereka banyak yang menikah dengan wanita pribumi yang sebelumnya bukan pemeluk agama Islam tetapi kemudian menjadi seorang muslim, misalnya....

- A. Raden Rahmat dengan Putri Jeumpa
- B. Sunan Ampel dengan Putri Kawungaten
- C. Syarif Hidayatullah dengan Putri Kawungaten
- D. Sunan Gunung Jati dengan Nyai Gede Manila Putri Tumenggung Wilatikta

36. Perhatikan Pernyata berikut!

No	A	B
1	Hikayat	Kitab Sutasoma
2	Babat	Syair
3	Suluk	Kitab Negara Kertagama

Dari pernyataan di atas manakah yang merupakan peninggalan masa Islam di Indonesia

- A. 1A, 2B, 3A
- B. 1B, 2A, 3B
- C. 1A, 2A, 3A
- D. 1B, 2B, 3B

37. Majunya perekonomian di Kesultanan Samudera Pasai disebabkan oleh

- A. Sebagai daerah penghasil lada putih
- B. Sumber daya alam yang melimpah
- C. Daerah yang kaya akan cengkeh
- D. Memiliki letak yang strategis

38. Mengapa kegiatan ekonomi menjadi sarana yang efektif bagi para pedagang Muslim dalam menyebarkan agama Islam

- A. Kekayaan materi akan membuat orang lain tertarik untuk mengenal Islam
- B. Bisnis dapat menjadi platform untuk mengadakan diskusi keagamaan
- C. Pedagang memiliki akses yang luas ke berbagai komunitas dan wilayah
- D. Uang dapat digunakan untuk mempengaruhi orang lain secara finansial

39. Perjanjian Giyanti merupakan perjanjian yang mampu merubah pusat peradaban Tanah Jawa. Perjanjian tersebut dilakukan dengan melibatkan VOC. Dampak terjadinya perjanjian Giyanti bagi kesultanan Mataram adalah

- A. Wilayah kesultanan Mataram terpecah menjadi dua
- B. Pemerintahan Kesultanan Mataram tunduk kepada Belanda
- C. Perdagangan kesultanan Mataram dimonopoli oleh Belanda
- D. Daerah kekuasaan Kesultanan Mataram di Jawa timur dikuasai oleh Belanda

40. Latar belakang Kerajaan Samudra Pasai dijuluki sebagai daerah Serambi Mekkah adalah disebabkan karena ...

- A. Fisik masyarakat Kerajaan Samudra Pasai mirip dengan orang-orang Arab
- B. Berkembangnya budaya Syiah yang memiliki kesamaan dengan wilayah Iran
- C. Diterapkannya aturan-aturan hukum islam sehingga memiliki kesamaan dengan masyarakat Arab
- D. Banyaknya penggunaan nama-nama dari budaya Arab yang digunakan oleh masyarakat Kerajaan Samudra Pasai

B. **Jawablah pertanyaan berikut ini dengan jelas dan benar!**

41. Beberapa waktu yang lalu tingginya permintaan dan turunnya penawaran minyak goreng menyebabkan terjadinya kelangkaan dan kenaikan harga minyak goreng disebagian wilayah Indonesia. Sementara minyak goreng merupakan salah satu kebutuhan pokok yang paling dibutuhkan setiap harinya. Oleh sebabitu harus ada upaya pemerintah untuk mengatasinya. Sebutkan 3 upaya pemerintah agar tidak terjadi kelangkaan barang tersebut!

42. Bu Sari memiliki usaha tas dari bahan rajut. Setiap tahun permintaan produknya selalu bertambah sehingga Bu Intan membutuhkan lebih banyak benang. Bu Sari dapat memanfaatkan internet untuk memilih bahan baku benang dengan kualitas baik dan harganya terjangkau. Berdasarkan pernyataan tersebut jelaskan bentuk kegiatan konsumsi yang dilakukan oleh Bu Sari !

43. Desa Y merupakan penghasil bambu yang sangat terkenal hingga desa ini dijuluki "desa bambu". Mereka menggantungkan hidupnya dari hasil bambu terutama untuk kerajinan bahan dasar mebel, misal untuk meja, kursi dan perabot yang lain. Dengan kemampuan yang ada ternyata hasil perabot yang di buat belum mampu bersaing dengan pasar luar negeri. Bagaimana upaya yang bisa dilakukan agar karya penduduk mampu bersaing dengan pasar luar negeri, jelaskan!

44. Jelaskan usaha manusia zaman pra akasara dalam kehidupannya agar mampu beradaptasi dengan lingkungannya!

45. Berkembangkan ajaran Hindu Budha berdampak besar pada kehidupan sosial masyarakat Indonesia. Jelaskan satu pengaruh ajaran dalam bidang keagamaan yang masih diterapkan masyakat sampai sekarang!

