

SDN WEBSITE : www.kherysuryawan.id PENILAIAN TENGAH SEMESTER TAHUN PELAJARAN 20../20..		Nama :
		No. Absen :
Mata Pelajaran : Tema 6 Subtema 3 dan 4		Nilai :
Kelas : 2 (DUA)		
Waktu : 90 menit		
Tanggal :		

I. Berikan tanda silang (x) pada jawaban yang benar !


1. Di bawah ini yang bukan termasuk peraturan di sekolah adalah ...

- a. Mengikuti piket
- b. Berangkat pagi
- c. Memakai seragam
- d. Tidak pakai helm

2. Yanal dan edo bermain bola di halaman sekolah secara tidak sengaja yanal menendang bola mengenai pot bunga sampai pecah,pada cerita tersebut yanal melanggar peraturan di ...

- a. Di sekolah
- b. Di keluarga
- c. Di rumah
- d. Di masyarakat

3. Perhatikan gambar dibawah ini!



tanaman di sekolah sangat indah,hal ini disebabkan karena mentaati peraturan di sekolah,siapa yang harus mentaati peraturan di sekolah ...

- a. Kepala sekolah
- b. Siswa
- c. Guru
- d. Ibu kantin

4. Dengan menjaga lingkungan sekolah kita ikut serta dalam ...

- a. Mentaati aturan sekolah
- b. Mentaati aturan bermain
- c. Mentaati aturan rumah
- d. Mentaati aturan keluarga

5. Pada huruf tegak bersambung di bawah ini mana yang menggunakan tanda koma yang benar ...

- a. Yanal dan Edo, akan menjadi Polisi c. Yanal, dan Edo akan menjadi Polisi
b. Yanal dan Edo akan menjadi, Polisi d. Yanal dan Edo akan, menjadi Polisi

6. Pada kalimat di bawah kalimat mana benar dalam penggunaan koma ...

- a. Edo abu,dan yanal bermain layang - layang
b. Edo,abu dan yanal bermain,layang - layang
c. Edo abu dan yanal bermain layang - layang
d. Edo ,abu,dan yanal bermain layang - layang

7. Penggunaan titik pada huruf tegak bersambung di bawah yang benar ...

~~K~~ari ini terjadi banjir di kampung ku.

~~K~~ari ini terjadi banjir di kampung. ku

~~K~~ari ini terjadi banjir. di kampung ku

~~K~~ari ini. terjadi banjir di kampung ku

8. Perhatikan percakapan berikut

Yanal : "kenapa tanaman di kebun ku layu"

Abu : "ayo sebaik ya kita menyiram nya"

Yanal : "kenapa kita harus menyiram tanaman ?"

Abu : "supaya tanaman kita tumbuh subur"

Yanal : "baik ayo kita lakukan"

kalimat tanya yang sesuai untuk melengkapi percakapan berikut adalah ...

- a. "kenapa kita tidak cabut saja" b. "kenapa tidak kita ganti saja"
c. "kenapa kita harus menyiram tanaman" d. "apa yang harus kita siram"

9. Perhatikan cerita dibawah ini!

Siti : Mengapa tanaman harus diberi pupuk, Ayah?

Ayah : Supaya tanaman tumbuh subur.

Pupuk mengandung zat-zat yang dibutuhkan oleh tanaman.

Siti : Apakah tanaman cukup dipupuk saja, Ayah?

Ayah : Tentu saja tidak. Tanaman juga membutuhkan air.

Oleh karena itu, kita harus menyiram tanaman juga.

Siti : Kapan kita harus menyiram tanaman?

Ayah : Setiap hari kita harus menyiram tanaman.

Apakah kamu sudah melaksanakan tugasmu menyiram tanaman?

Siti : Baik, Ayah. Aku akan melaksanakan tugasku dengan baik, menyiram tanaman setiap hari.

Ada berapa kalimat Tanya di cerita tersebut ...

- a. 4 b. 2
c. 3 d. 1

10. Tanaman - Tumbuh ? - dimana – Kaktus

Susun lah kalimat di atas menjadi kalimat Tanya yang padu ...

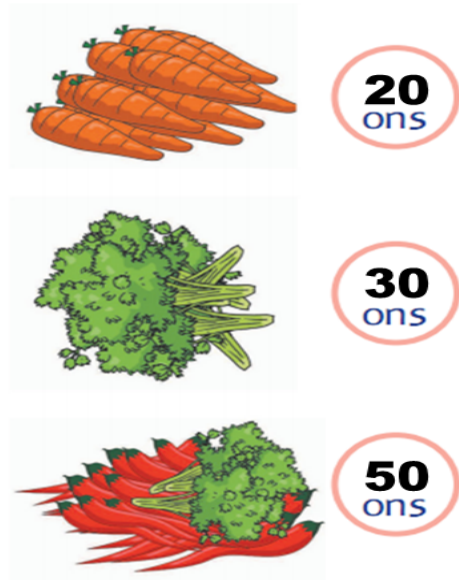
- a. Tanaman tumbuh ? Kaktus dimana b. Kaktus tumbuh? Dimana tanaman
- c. Dimana tanaman kaktus tumbuh? d. Tumbuh ?Dimana tanaman kaktus

11. Gambar timbangan di bawah menggunakan satuan ?



- a. Ml b. Kg
c. Gram d. Ons

12. Perhatikan gambar dibawah ini!



Hitung lah belanjaan di atas dalam hitungan kg...

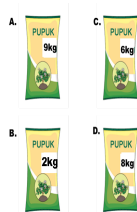
- a. 5kg b. 100ons
c. 9kg d. x10kg

13. Pada gambar di bawah Pupuk mana yang paling berat ...


- a. c.



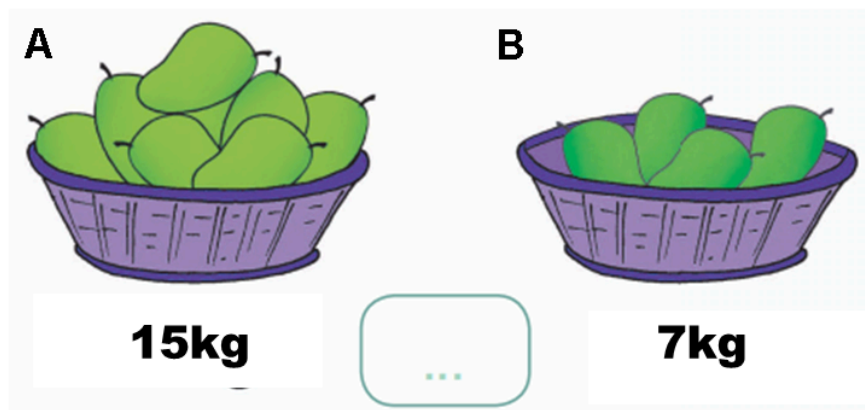
b.



d.



14. Perhatikan gambar dibawah ini!



Gambar mangga A lebih ... dari mangga B

a. <

b. =

c. >

d. 22

15. Perhatikan gambar di bawah ini!



Jika di ubah di dalam satuan bentuk ons adalah ...

a. 30 ons

b. 300 ons

c. 3 ons

d. 4 ons

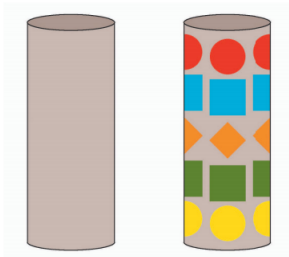
16. Cermati gambar dibawah ini!



Jika di ubah dalam bentuk satuan gram ...

- a. 500gram
- b. 50gram
- c. 300gram
- d. 30gram

17. Cermati gambar dibawah ini!



Bahan dari kerajinan di atas adalah ...

- a. Karton bekas
- b. Plastic
- c. Tanah liat
- d. Batu

18. Cermati gambar dibawah ini!



platisin di atas di bentuk dengan bentuk ...

- a. Tongkat
- b. Dahan
- c. Bunga
- d. Daun


19. Cermati gambar dibawah ini!



yanal melakukan gerakan menekuk kaki ke ...

- a. Samping
- b. Depan
- c. Belakang
- d. Bawa

20. Perhatikan gambar dibawah ini!



gerak di atas adalah gerakan ...

- a. Melompat
- b. Keseimbangan
- c. Berguling
- d. Berayun

II. Isilah titik titik dengan jawaban yang tepat !

1. Cermati gambar dibawah ini!



Bahan yang di gunakan untuk kerajinan di atas adalah ...

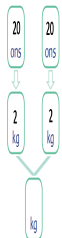
- 2. Platisin dapat dibuat menjadi karya seni ... dimensi
- 3. Menjaga kebersihan sekolah ,merawat tanaman,dan mengikuti upacara termasuk aturan di ...
- 4. dengan berjalan kan piket dengan rajin membuat kelas ...
- 5. "yanal pergi ke pasar membeli tomat bawang dan lombo"

Perbaiki kalimat di atas tersebut dengan titik(.) dan koma(,) ...

6. "yanal sedang membawa beras"

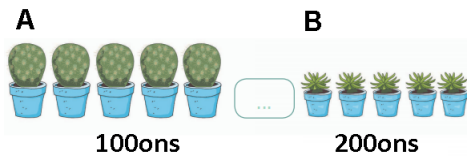
Buat lah kalimat Tanya untuk menanyakan yang dibawa yanal ...

7. Cermatilah gambar dibawah ini!



Berapa kg hasil terakhir ...

8. Cermatilah gambar dibawah ini!





Tanaman A ... dari tanaman B (berikan tanda kurang dari/lebih dari) ...

9. Cermatilah gambar dibawah ini!



Lani menirukan gerakan rumput yang tertiuip ...

10. Cermatilah gambar dibawah ini!



Gambar di atas adalah variasi gerak melompat ada berapa variasi gerak melompat di atas...

KUNCI JAWABAN

PILIHAN GANDA

- | | |
|-------|-------|
| 1. D | 11. D |
| 2. A | 12. D |
| 3. B | 13. A |
| 4. A | 14. C |
| 5. A | 15. A |
| 6. D | 16. A |
| 7. A | 17. A |
| 8. C | 18. C |
| 9. C | 19. B |
| 10. C | 20. A |

ISIAN SINGKAT

1. Kertas
2. 3
3. Di sekolah
4. Bersih

5. yanal pergi ke pasar membeli tomat,bawang,dan lombok.
6. Yanal apa yang sedang kamu bawa/apa yang kamu bawa
7. 4
8. <
9. Angin
10. 2