

**RESUELVE** los siguientes problemas.


Juana tiene una granja, para darle de comer a sus gallinas utiliza un bote vacío que pesa 220 gr. y el alimento que le echará pesa 65 gr.

1. ¿Cuánto es el peso del bote lleno de comida?

2. Si Juana necesita ocho botes para alimentarlas, ¿Cuánto pesan los ocho botes cuando están llenos?



4. Juana eligió a tres de sus gallinas y necesita calcular cuántos huevos le dan a la semana, así como la producción total de huevos, ayúdala completando la siguiente tabla.



Gallina	Producción de huevos diaria	Producción de huevos semanal
Gallina	8	
Gallina		28
Gallina	9	
Producción total		



5. Escribe un problema que lleve una multiplicación para resolverlo, utilizando las siguientes imágenes y compártelo con un compañero para que lo resuelva.

---



---



---




---




---



---



20 Kg.



5 Kg.





**¿Qué es el Plato del Bien Comer?**

Es una representación gráfica que muestra la clasificación de los grupos de alimentos. Orienta sobre la variedad de estos, como combinarlos y en que porción se deben consumir para favorecer la alimentación correcta.

Acuerdo nacional para la salud alimentaria pag 7

**ARMA un menú que contenga desayuno, comida y cena, teniendo en cuenta los tres grupos del Plato del Bien Comer.**

	Frutas y verduras	Leguminosas y productos de origen animal	Cereales
Desayuno			
Comida			
Cena			



**Comparte el menú con tus papás y comenten cómo pueden mejorarlo; Así mismo invítalos a revisar el menú de la casa para ver si incluye todos los grupos del Plato del Bien Comer.**

**VISITA:**

**<https://materialeducativo.org/>**

**&**

**<https://materialeseducativos.m>**

**X**