



Олимпиадные задания по математике 3 класс



1. Одно яйцо варится 4 минуты. Сколько минут варится 5 яиц?
А) 20 минут
Б) 4 минуты
В) 5 минут

2. На руках 10 пальцев.
Сколько пальцев на 10 руках?
А) 100
Б) 150
В) 50




3. Врач дал больной девочке 3 таблетки и велел принимать их через каждые полчаса. Она строго выполнила указание врача. На сколько времени хватило прописанных врачом таблеток?
А) на полчаса
Б) на полтора часа
В) на один час



4.

Из куска проволоки согнули квадрат со стороной 6 см. Затем проволоку разогнули и сделали из неё треугольник с равными сторонами. Какова длина стороны треугольника?



- А) 8 см
Б) 10 см
В) 12 см



5. Коля, Вася и Боря играли в шашки. Каждый из них сыграл всего 2 партии. Сколько всего партий было сыграно?

- А) 6 партий
- Б) 3 партии
- В) 5 партий

6. Сколько всего двузначных чисел можно составить из цифр 1,2,3 при условии, что цифры в записи числа повторяться не будут?

- А) 12,13, 21,23, 31,32
- Б) 12,13, 21,23, 31
- В) 13, 21,23, 31,32



7. Было 9 листов бумаги. Некоторые из них разрезали на 3 части. Стало 15 листов всего. Сколько листов разрезали?



- А) 6 листов
- Б) 5 листов
- В) 3 листа


8. В пятиэтажном доме Вера живёт выше Пети, но ниже Славы, а Коля живёт ниже Пети. На каком этаже живёт Вера, если Коля живёт на втором этаже?



- А) на четвёртом этаже
- Б) на третьем этаже
- В) на втором этаже

9. 1 резинка, 2 карандаша и 3 блокнота стоят 38 тенге. 3 резинки, 2 карандаша и 1 блокнот стоят 22 тенге. Сколько стоит комплект из резинки, карандаша и блокнота?

- А) 20 тенге
- Б) 15 тенге
- В) 30 тенге



10. Нильс летел в стае на спине гуся Мартина. Он обратил внимание, что построение стаи напоминает треугольник: впереди вожак, затем 2 гуся, в третьем ряду 3 гуся и т.д. Стая остановилась на ночлег на льдине. Нильс увидел, что расположение гусей на этот раз, напоминает квадрат, состоящий из рядов, в каждом ряду одинаковое количество гусей, причём число гусей в каждом ряду равно числу рядов. Гусей в стае меньше 50. Сколько гусей в стае?

- А) 38 гусей
- Б) 40 гусей
- В) 36 гусей