

(ESPM) Leia o texto, os dois casos apresentados abaixo dele e responda:

O termo globalização, com o significado que as pessoas conhecem hoje, foi cunhado em 1983 por Theodore Levitt, professor da Harvard Business School. Num artigo intitulado globalização dos mercados, Levitt, reconhecido por seus profundos conhecimentos em marketing, traçou um cenário

favorável para as grandes corporações (especialmente americanas e européias). Com um mundo mais integrado, essas empresas conquistariam novos mercados e se beneficiariam de excepcionais ganhos de escala, inclusive no que concerne a adoção de um marketing globalizado também baseado em

escala. Para evitar danos as multinacionais vem formando enormes estruturas de controle de suas peças publicitárias.

(Revista Exame, 29/08/2007)

Na Alemanha o nome do produto Vick é escrito Wick. Especialistas ouvidos por Exame dizem que a troca de uma letra evitou um problema: se fosse escrita com V a palavra seria - foneticamente - sinônimo de relação sexual.

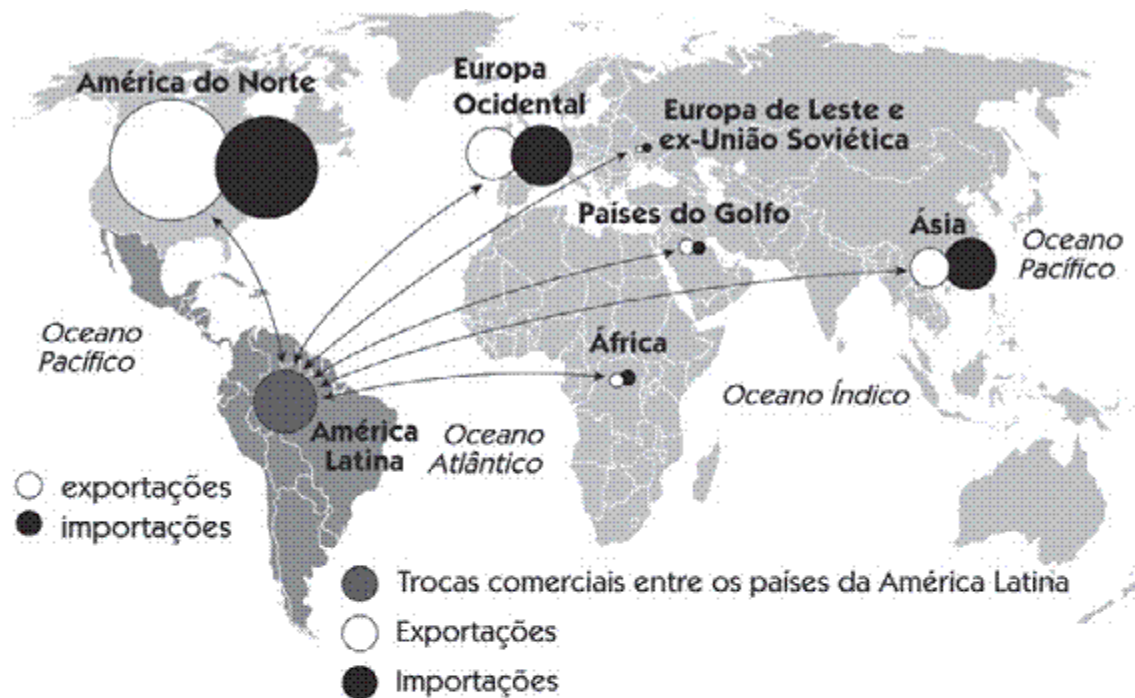




Recentemente, a Nike, uma das empresas mais globalizadas do planeta, foi surpreendida pela forte reação a uma de suas campanhas. O comercial de TV mostrava o jogador de basquete americano LeBron James, brigando com lutadores de Kung Fu e um par de dragões (e vencendo todos eles). Para os chineses, o comercial soou como chacota de um estrangeiro frente a símbolos nacionais.


- a) De uma forma geral a teoria de Levitt estava correta, porém os casos apresentados demonstram dificuldades em adotar um marketing globalizado, também baseado em escala, pois tropeços locais implicam danos globais.
- b) O enunciado e os casos apresentados apenas demonstram que o cenário traçado por Levitt, em seu artigo, é absolutamente favorável, com as empresas não enfrentando qualquer problema em suas campanhas.
- c) O texto e os casos apresentados demonstram que a globalização foi tão bem sucedida que hoje questões como nacionalismo, protecionismo e outros percalços foram totalmente superados.
- d) As empresas afinal concluíram pela impossibilidade de adotarem campanhas globais, pois os investimentos em criação, divulgação e prevenção de danos em escala global tornam tais campanhas inviáveis.
- e) Como resultado das situações apresentadas nos boxes, as empresas decidiram desprezar as especificidades de cada país, pois o consumidor tende a se identificar com um produto feito para o mundo inteiro.

(ESPM) O mapa abaixo expressa o desempenho comercial dos países latino-americanos.



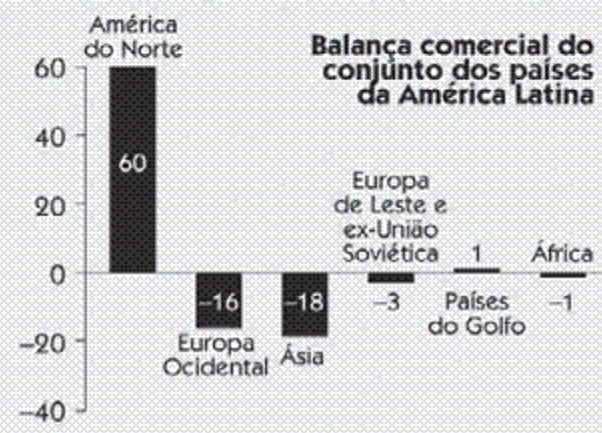
Comércio de mercadorias em 2001

(em milhares de milhões de dólares)



Fonte: Organização Mundial do Comércio (OMC).

Em milhares de milhões de dólares



(Le Monde Diplomatique, 2003)

De sua leitura, podemos concluir que:

- Os Estados Unidos orientam a pauta comercial da América Latina
- As relações Brasil-África tiveram forte incremento.
- A América Latina apresenta largo superávit comercial em relação à Europa.
- As trocas comerciais entre os países latino-americanos ocorrem no âmbito exclusivo das *commodities*.

e) Nos últimos anos, diminuíram substancialmente as exportações para os países asiáticos.

(Trevisan) A globalização pode ser descrita como um processo de difusão de idéias e valores, de formas de produção e de trocas comerciais que atravessam e rompem as fronteiras nacionais. As opções abaixo apresentam exemplos da teia global, à **EXCEÇÃO**:

- a) da intensa velocidade de propagação de idéias e da instantaneidade na transmissão dos acontecimentos mundiais;
- b) da ampliação dos fluxos de bens e de informações que circulam e interagem em escala mundial;
- c) da retração do controle territorial do Estado-Nação devido ao alargamento da ação das grandes corporações;
- d)** da simetria dos circuitos da mídia e da informação eletrônica com uma recíproca fertilização cultural;
- e) do aumento da velocidade e da eficiência dos sistemas multimodais de transportes e comunicações.

(Uemg) A expansão, em escala planetária, das atividades das multinacionais fez crescer entre essas empresas a disputa por partes cada vez maiores de um mercado consumidor atualmente integrado pelo processo de globalização. Assinale, a seguir, a alternativa em que **NÃO** foram apresentados elementos característicos das empresas multinacionais.

- a) Diminuição do tamanho das unidades de produção, com o uso de alta tecnologia.
- b) Otimização dos processos de produção, diminuindo, por exemplo, os desperdícios com matérias-primas.
- c) Aumento dos investimentos em *marketing* e propaganda, divulgando informações a respeito de serviços e produtos.
- d)** Concentração do processo produtivo e comercial em um único país.

(Ibmec) As principais Bolsas do mundo tiveram, a partir de julho, sucessivas quedas atribuídas à Crise Imobiliária nos Estados Unidos. Sobre essa crise, é correto afirmar que:

- a) O setor imobiliário e a construção civil nos Estados Unidos, que teve um grande boom nos últimos anos, não foram afetados pela crise. As ações desse segmento continuam a ser as mais indicadas pelos bancos e gestores de investimento.

b) A crise imobiliária foi encerrada com a quebra do Banco francês BNP Paribas que tinha vários fundos de investimento com recursos aplicados em créditos gerados a partir de operações hipotecárias nos Estados Unidos, arrastando outros bancos.

c) A crise encerrou-se em julho quando o Banco Central Europeu, o Federal Reserve (Estados Unidos) e o Banco do Japão anunciaram o investimento de 94,8 bilhões de dólares no mercado imobiliário americano, salvando várias empresas do setor e aumentando a oferta de crédito.

d) O principal temor diz respeito à oferta de crédito disponível, já que foi detectada uma alta inadimplência do segmento imobiliário americano, com um número grande de americanos que estão atrasando ou deixando de pagar a hipoteca da casa própria.

e) O Brasil foi atingido parcialmente pela crise na medida em que grandes corporações americanas e japonesas também investiram no mercado imobiliário brasileiro que vivia uma grande expansão nos últimos anos, com o grande crescimento da construção civil.

(Fuvest) “A União Européia (UE), composta por 27 países, apresenta um sistema político historicamente único, que vem evoluindo há mais de 50 anos”.

Adaptado de Pascal Fontaine, 2007.

a) Cite duas nações, membros da UE, que não aderiram à moeda única, o Euro. Explique o porquê dessa não-adesão.

b) Outros países europeus estão reivindicando sua entrada para a UE. Cite um desses países e explique um motivo para tal reivindicação.

c) Cite uma exigência para um país ser aceito no bloco da UE. Explique.

Resposta

a) Dos países signatários originais do Tratado de Nice, de 1999, não aderiram ao Euro: Reino Unido, Suécia e Dinamarca. Estes três países temiam pela perda da soberania sobre suas políticas monetárias. Também poderia ocorrer uma reestruturação de preços com base na concorrência direta de países que já adotaram o Euro, prejudicando alguns setores de suas economias. Os que aderiram posteriormente ao Tratado – Eslovênia, Eslováquia, Polônia, Hungria, Chipre, Malta, República Tcheca, Lituânia, Letônia e Estônia – em 2004 e a Bulgária e Romênia em 2007 admitem o Euro como moeda de circulação, mas ainda emitem suas próprias moedas.

b) A Turquia tem grande interesse em integrar os quadros da União Européia, pois receberia grandes investimentos. Sua economia seria dinamizada, mas o problema é que o país, apesar do esforço para a sua ocidentalização, não atende a requisitos mais elementares, pois ainda não é um Estado democrático pleno, ainda apresenta forte influência da religião islâmica em seu cotidiano político, além de problemas com minorias não-assimiladas plenamente, como os curdos; há também restrições européias que têm como origem rivalidades e preconceitos históricos (rivalidade greco-turca, mormente no que concerne à questão de Chipre) e o fato da maioria da Turquia localizar-se na Ásia (Oriente Médio).

c) As condições para a inclusão de um país no conjunto de tratados que formalizam a União Européia são:

- ser um Estado de Direito plenamente democrático, com separação entre poderes, transição de governos, sufrágio universal; laico, mas plural no que se refere a minorias, não havendo discriminação de gênero ou de ordem étnica;
- manter uma política monetária cambial e financeira austera, combater a corrupção e fortalecer as instituições democráticas;
- estabelecer uma política ambiental consonante com os demais membros da organização;
- estabelecer políticas migratórias de acordo com os demais membros.

(Ufpi) Uma das características do mundo atual é a criação de blocos econômicos, mercados comuns entre grupos de nações, com a finalidade de ampliar as relações entre os países membros e também com outros povos do mundo.

Com relação a esse assunto, aponte as afirmações verdadeiras (V) e as falsas (F):

- () São parceiros do acordo do livre comércio da América do Norte, conhecido como NAFTA, Estados Unidos, Canadá, México e Venezuela.
- () México e Venezuela integram o acordo conhecido como NAFTA, porque dispõem de petróleo em abundância para negociar favoravelmente os produtos industrializados de que necessitam.
- () A ALCA (Área de Livre Comércio das Américas) é uma proposta de integração nacional, com o intuito de abranger todos os países das Américas, exceto Cuba.

() Entre os bons resultados alcançados pela União Européia (bloco constituído pela maioria das nações da Europa) estão a integração econômico-monetária ou a criação da moeda única e o livre trânsito das pessoas residentes nos países membros.

() Na América do Sul, a criação do Pacto Andino, constituído pelo Chile, Peru e Bolívia, e o Mercosul, pelo Brasil e Argentina, propiciou áreas de livre comércio entre esses países, oportunizando a negociação com blocos econômicos.

Assinale a alternativa correta:

- a) F-F-V-V-F
- b) V-F-V-F-V
- c) V-V-F-F-V
- d) F-V-F-F-V
- e) F-V-F-V-F

(Ufpi - específica) Assinale com V (verdadeira) ou com F (falsa) cada uma das afirmações das questões a seguir:

Sobre as características do atual processo de globalização:

- 1 () Ocorre valorização dos territórios nacionais e de suas fronteiras políticas, favorecida pelo estabelecimento de zonas de livre comércio.
- 2 () Há formação de espaços transnacionalizados no interior de territórios nacionais, fragilizando o poder do Estado.
- 3 () Ocorre expansão de empresas multinacionais, fortalecendo todos os países pela globalização econômica.
- 4 () Tem acelerado as trocas comerciais e de informações entre os povos do mundo.

Resposta: FVFV

(Ufg) Os movimentos sociais contemporâneos são complexos, por confrontarem a estrutura social vigente. Por isso, necessitam compor forças organizando-se em rede. Nesse contexto, a rede atua como

- a) instrumento de solidariedade política entre grupos que questionam as desigualdades da globalização.
- b) elemento de análise dos grupos que sugere os caminhos para atingir as mudanças.
- c) meio de fortalecer uma ação questionadora organizada para formar uma consciência de cidadania.
- d) forma de criação de parcerias internacionais para potencializar a

intervenção política.

e) mecanismo de suporte financeiro de organizações que controlam as políticas dos lugares.

(Puc-mg) A economia globalizada caracteriza-se por extrema movimentação de capitais, que circulam diariamente por diferentes mercados financeiros do mundo. Em muitos casos, esses capitais direcionam-se para investimentos produtivos; porém, em grande parte, essa movimentação tem caráter especulativo, que pode devastar economias mais frágeis.

Entre as características que essa fase do Capitalismo apresenta, fase essa marcada pela supremacia do capital financeiro sobre o capital produtivo, é **INCORRETO** afirmar que ocorre:

- a) um amplo movimento de abertura econômica e de redução do papel regulador do Estado sobre os capitais privados.
- b) a formação de megablocos econômicos, que tendem a promover uma ampla abertura comercial e financeira entre seus membros.
- c) a universalização de direitos sociais, que se estendem ao conjunto das populações mundiais, uniformizando o processo de desenvolvimento.
- d) a redução do papel do Estado nas economias nacionais, por meio da privatização de empresas e atividades econômicas anteriormente exercidas por empresas estatais.

(Ufpe) As alternativas a seguir se referem aos aspectos do processo de integração nas diferentes fases de formação de um bloco econômico. Analise-as.

- () A Zona de Livre Comércio corresponde à fase em que as tarifas alfandegárias são reduzidas ou mesmo eliminadas e as mercadorias produzidas no âmbito dos países que compõem esta Zona, circulam livremente de um país para outro e para o exterior..
- () Na fase da União Aduaneira, além das mercadorias produzidas no âmbito do bloco circularem livremente de um país para outro, é estabelecida uma tarifa externa comum (TEC), para o comércio com os países que não formam o bloco. Esta fase é caracterizada, também, pela livre circulação de pessoas.
- () No Mercado Comum, além do livre comércio de mercadorias entre os países membros do bloco e da existência de uma TEC para o comércio

com países de fora do bloco, ocorre a existência no bloco, da livre circulação de pessoas, de serviços e de capitais.

() Na fase da União Monetária, o bloco tem características da fase de Mercado Comum, somando-se a estas, uma unificação institucional do controle do fluxo monetário e é estabelecida uma moeda única.

() A União Política representa a fase em que o bloco além de apresentar definições legais da União Monetária, tem unificada, as políticas de relações internacionais, defesa, segurança interna e externa.

Resposta: FFVVV

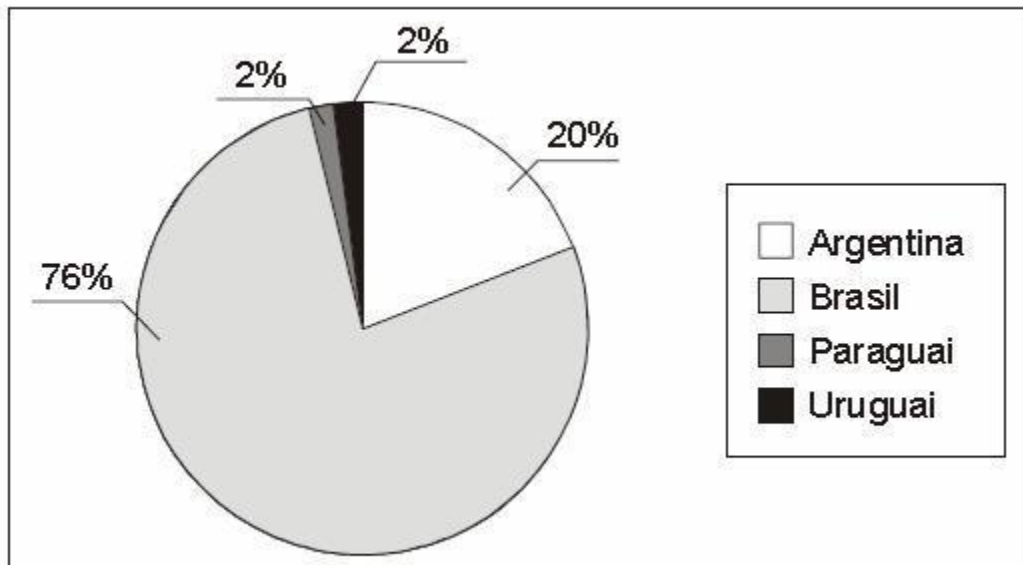
(Uft) Os conflitos mundiais da atualidade ocorrem, também, em função do domínio dos fluxos do comércio internacional, onde o intercâmbio entre países do capitalismo central e periférico são extremamente desiguais.

Tomando por base o texto é **INCORRETO** afirmar que:

- a) A formação dos blocos econômicos mundiais não proporcionou um crescimento eqüitativo para todos os países membros.
- b) A divisão internacional do trabalho influencia no intercâmbio do comércio mundial.
- c) Os países do capitalismo central estabelecem trocas desiguais com o mundo periférico, principalmente, pelo domínio científico-tecnológico.
- d) Os centros de poder, que compõem a nova ordem mundial, possuem um ator hegemônico, qual seja: os Estados Unidos, que controlam e comandam todos os demais países, evidenciando a monopolaridade da nova ordem mundial.**

(Unifor) Observe o gráfico.

Composição do PIB do Mercosul (2006)



(Almanaque Abril, 2007)

(Almanaque Abril, 2007)

A leitura do gráfico permite concluir que

- a) a composição econômica dos membros do Mercosul é muito heterogênea.
- b) o ingresso da Venezuela e da Bolívia no Mercosul não deve alterar as relações internas no bloco.
- c) dos atuais integrantes do Mercosul, o Brasil é que pode ser considerado industrializado.
- d) apesar das diferenças econômicas entre os membros, o Mercosul é um dos blocos mais atuantes do mundo.
- e) o aumento da participação do Mercosul na OMC (Organização Mundial do Comércio) deve alterar a atual disparidade interna no bloco.

(Unifor) Os mercados mundiais de produtos agrícolas são muito instáveis pois as variações de preços representam um risco para países

- a) como a China que, dependendo de importações de cereais, acabam criando grandes déficits na balança comercial pelo que desembolsam na compra dos produtos.
- b) tradicionalmente produtores como o Canadá e a Austrália que, exercendo grande domínio sobre os mercados, sentem-se ameaçados de perder a posição frente aos baixos preços.

c) tradicionalmente exportadores como a Argentina ou o México que, recebendo menor quantidade de divisas pelas exportações, têm dificuldades de investir em outros setores econômicos.

d) considerados subdesenvolvidos que, dependendo da exportação de alguns poucos produtos agrícolas, são prejudicados pelos baixos preços do mercado e pelas políticas protecionistas de alguns países desenvolvidos.

e) grandes importadores como os países da Europa Ocidental que, mesmo exercendo pressões sobre os produtores, são obrigados a pagar preços elevados pelos produtos e gerar crises de abastecimento.

(Umtm) Observe o mapa a seguir para responder a questão.



(Marcos Bernardino de Carvalho, Diamantino Alves Correia Pereira,
Geografias do Mundo – Redes e Fluxos.)

Os países destacados no mapa constituem

a) a OTAN (Organização do Tratado do Atlântico Norte) aliança militar anti-terrorista que reúne as maiores potências do Hemisfério Norte.

b) a Zona do Euro, que reúne países nos quais a moeda da União Européia pode circular e ser aceita junto com a moeda local.

c) os países da OCDE (Org. para a Cooperação e Desenvolvimento Econômico), cuja missão é auxiliar economicamente os países mais pobres do globo.

d) o G8 (Grupo dos Oito), bloco que une os sete países com as maiores economias do globo, além da Rússia, admitida em 1997 por sua importância geopolítica.

e) os países desenvolvidos industrializados, que se caracterizam pelo alto investimento em tecnologia e por apresentarem alto IDH (Índice de Desenvolvimento Humano).

(Fmtm) Considere o texto apresentado.

Lenovo é uma inovadora companhia de tecnologia internacional resultante da aquisição pelo Grupo Lenovo da Divisão de Computação Pessoal da IBM. As sedes executivas da Lenovo estão situadas em Purchase, New York, E.U.A., e as operações principais em Beijing, China, e Raleigh, North Carolina, E.U.A., com uma rede empresarial de vendas abrangendo 160 países. A companhia emprega mais de 19.000 pessoas no mundo inteiro.

(www.lenovo.com. Acessada em 15.10.2007.)

O conteúdo apresentado pode ser sintetizado com as seguintes palavras-chave:

- a) choque de civilizações, novos países industriais, tigres asiáticos, 2.^a Revolução Industrial.
 - b) Guerra Fria, crise do socialismo real, expansão das multinacionais, países em desenvolvimento.
 - c) 3.^a Revolução Industrial, capital transnacional, nova ordem mundial, globalização da economia.
 - d) países subdesenvolvidos, empresas multinacionais, mão-de-obra barata, recursos minerais.
 - e) blocos econômicos, dívida externa, abertura comercial, aliança militar.
- (Ufvjm) No final da década de 80 e ao longo da década de 90 do século XX, diversas modificações no quadro internacional foram verificadas, tornando-se corriqueiro o uso da expressão Nova Ordem Mundial..

Sobre essa Nova Ordem Mundial, **ASSINALE** a alternativa **INCORRETA**.

- a) A consolidação de megamercados como, por exemplo, a União Européia e o Nafta, com o intuito de alcançar maior integração regional e conseqüente expansão de mercados.
- b) O predomínio dos pressupostos do neoliberalismo, no qual se observa a ampliação do papel e do tamanho do Estado, seja como criador ou mesmo como gestor das atividades econômicas.
- c) A expansão do fundamentalismo religioso, tanto cristão quanto judaico e islâmico, procurando legitimar ações políticas voltadas para o resgate dos princípios fundamentais desses textos e sua aplicação no campo político.

d) A desterritorialização do capital em função do surgimento de um mercado financeiro global que transaciona bilhões de dólares em todo o mundo.

(Unipam) O consumismo, uma forte tendência da sociedade contemporânea, é fruto do capitalismo e da globalização. Em relação a essa prática que configura o espaço geográfico mundial, assinale a alternativa **INCORRETA**.

a) O estilo de vida consumista, com origem na sociedade norte-americana do século XX, influenciou o comportamento social em outros países capitalistas desenvolvidos, como também o da classe média de vários países em desenvolvimento. Além disso, a indústria norte-americana do entretenimento, por meio de suas produções cinematográficas e televisivas, acabou por interferir no modo de vida da população mundial, representados na maneira de vestir, na língua, nos hábitos alimentares e tecnológicos.

b) O desenvolvimento das forças produtivas, propiciado pela globalização, disponibiliza, cada vez mais, no mercado mundial, bens e serviços colocados à disposição dos consumidores, que constituem a contraparte demandante dessa oferta global. Esse processo de abertura cosmopolizante encontra limitações nas novas tecnologias de processamento de informações.

c) No sistema capitalista, a produção destina-se à comercialização. Dessa forma, as grandes estruturas comerciais, como, por exemplo, os magazines e shopping centers, se “estampam” de forte apelo e valor simbólico para fascinar a população de modo geral e, principalmente, os adolescentes, instigando-os a consumir cada vez mais.

d) As facilidades de crédito, oferecidas por operadoras de cartão e empréstimo pessoal, induzem a população trabalhadora a consumir cada vez. Isso estimula a produção, aumentando o lucro e a acumulação de capital.

(Inatel)

[...] A DIT é hoje mais determinada por companhias transnacionais que operam simultaneamente num número incalculável de países diferentes e também realizam freqüentemente suas transações internacionais no seio de seu grupo, de modo que as grandes empresas têm à sua disposição uma rede internacional de departamentos de sua propriedade. (

BENKO, 1999, p. 71).

A comparação entre a estrutura da antiga Divisão Internacional do Trabalho (DIT) e a descrita no texto permite afirmar:


- (01) Os países da América Latina que alcançaram sua independência política, frente à Portugal e à Espanha, nas três primeiras décadas do século XIX, passaram a depender economicamente da Inglaterra e de outros países europeus.
- (02) Os laços de dependência econômica dos países periféricos em relação aos países centrais garantiam que os primeiros usassem de autonomia para a manutenção de acordos políticos e diplomáticos com outros países de sua conveniência.
- (04) As empresas atuais continuam atreladas a seus países de origem em relação à sua diretoria, ao conhecimento técnico, às bases financeiras e à predominância da mão-de-obra.
- (08) A relação marcante entre centro e periferia, que caracterizou a antiga DIT, está diluída, atualmente, na “rede internacional de departamentos”, como referido no texto.
- (16) O Brasil, na antiga DIT, ocupava a posição periférica de produtor de matérias-primas e de consumidor de produtos industrializados pelos países centrais.
- (32) A referida operação simultânea em um número incalculável de países caracteriza a fase do capitalismo mais recente, denominada de “globalização”.

As alternativas corretas somam:

- a) 48
- b) 57**
- c) 54
- d) 58
- e) 62

Afirmativas corretas 1+8+16+32

(Inatel) Observe a figura abaixo:



- a) a expansão do agronegócio.
- b) o poderio da robótica.
- c) a vulgarização da internet.
- d) o fortalecimento do mercado interno.
- e) a mundialização do capital.

(Unifacs) Ele [Milton Santos] formulou essa idéia em 2001, no livro *Por uma outra globalização*, pouco antes de morrer. É o fundamentalismo que faz do consumo a grande característica da nossa sociedade. A economia se ancora nisso. O mundo está produzindo muito mais do que a sociedade tem capacidade de consumir. Esse processo está levando à destruição do planeta e à desigualdade social. Isso é o globalitarismo: a imposição de padrões consumistas, inclusive a quem não tem condições de consumir. Milton Santos comparou esse fenômeno ao nazismo e ao fascismo. (ELE formulou..., 2007, p. 9-10).

O conceito de globalização, defendido por muitos autores, extrapola o momento histórico atual.

Muitos intelectuais remontam a globalização ao período da

01) Expansão Marítima e Comercial, quando os países ibéricos, a partir dos princípios mercantilistas, estabeleceram relações comerciais com a Ásia, em busca de especiarias, com a África, para a realização do tráfico negreiro, e com a América, para a exploração de matérias-primas.

02) política imperialista do século XIX, quando os europeus, em busca de auferir maiores lucros com o tráfico negreiro, impuseram a colonização da África, que, atrasada do ponto de vista técnico e cultural, não resistiu à dominação europeia, incorporando seus valores culturais.

03) Primeira Guerra Mundial, quando os Estados Unidos, interessados em impor sua hegemonia econômica, apoiaram o processo de independência das colônias europeias na América, associado a uma política de colonização da Ásia, o que acirrou as tensões com os países europeus.

04) ascensão do nazismo e do fascismo, quando a Alemanha e a Itália, através da Conferência de Berlim, controlaram quase que completamente o território africano, impedindo que a França e a Inglaterra ali estabelecessem colônias, o que provocou a Segunda Guerra Mundial.

05) Guerra Fria, quando os Estados Unidos e a União Soviética buscaram estabelecer zonas de influência sobre o Terceiro Mundo, impondo regimes ditatoriais nessas regiões, o que evitou conflitos armados, que poderiam levar a uma possível guerra nuclear entre as superpotências.

Resposta: 01

(Unifacs) O conceito de globalização se tornou mais marcante após a divulgação do Consenso de Washington. Entre os princípios definidos pelo Consenso, encontra-se

- I. Disciplina Fiscal.
- II. Abertura Comercial.
- III. Estado Intervencionista.
- IV. Câmbio Fixo.
- V. Reforma Tributária.

A alternativa em que **todos** os princípios indicados foram definidos pelo Consenso de Washington é a

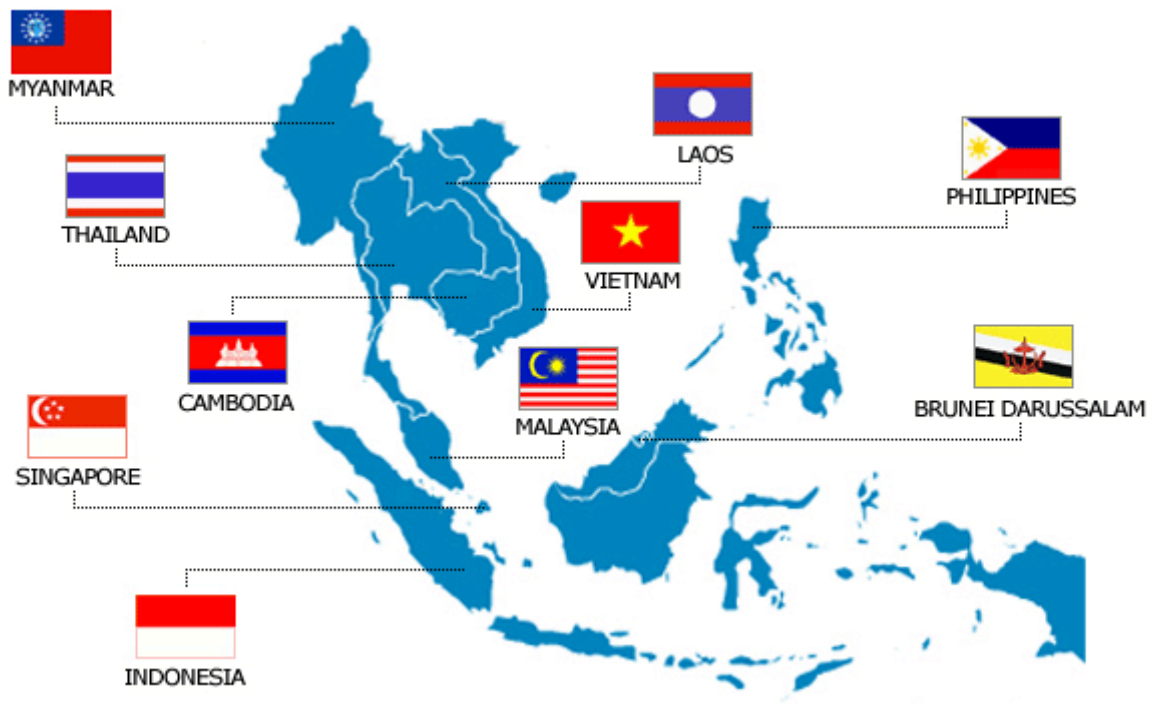
- 01) I e III.
- 02) II e IV.
- 03) I, II e V.

04) I, IV e V.

05) I, III, IV e V.

Resposta: 03

(Unics) Na figura a seguir (FERREIRA, M. P., 2007) está representado um dos atuais blocos econômicos que comandam o mercado comercial internacional e a nova divisão internacional do trabalho. Foi organizado em 1967 e tem como principal objetivo promover o desenvolvimento econômico, social e cultural; salvaguardar a estabilidade econômica e política e ser um fórum para resolver conflitos entre seus 10 países membros. Representa um mercado de 500 milhões de pessoas e um PIB de 800 bilhões de dólares. Indique a sigla que corretamente identifica esse bloco econômico.



Fonte: FERREIRA, M. P., 2007

- a) ALC - Associação Asiática de Livre Comércio
- b) CCM - Comunidade e Mercado Comum do Caribe
- c) ASEAN - Associação das Nações do Sudeste Asiático
- d) ALCA - Área de Livre Comércio das Américas
- e) APEC - Associação de Cooperação Econômica do Pacífico

(Unifei) Assinale a alternativa correta.

A União Européia (EU) entrou em vigor em novembro de 1992, de acordo com o chamado Tratado de Maastricht, assinado em dezembro de 1991. É constituída por um bloco de países europeus ocidentais que visa a:

- a) Estabelecer critérios para a redução da imigração e manter a alta qualidade de vida existente na Europa.
- b) Consolidar a economia entre os países membros, tornando-os um mercado único e altamente competitivo no mundo.
- c) Combater e erradicar o fundamentalismo religioso muçulmano, com a tomada de medidas anti-terroristas.
- d) Impedir o crescimento econômico de países emergentes, como a China, e competir com o forte e tradicional mercado norte-americano.

(Unifei) Estados Unidos, Canadá, Japão, França, Itália, Alemanha, Reino Unido e Rússia compõem o G-8 e são as principais potências econômicas, políticas e industriais do planeta. Somadas a esse grupo, as cinco principais economias emergentes formam o G8+5. Esses cinco países são:

- a) Brasil, Argentina, Taiwan, Austrália e China.
- b) Brasil, Argentina, Índia, África do Sul e Portugal.
- c) Brasil, México, Índia, África do Sul e China.
- d) Brasil, México, Taiwan, Austrália e Portugal.

(URCA) Sobre o Mercado Comum do Sul: Mercosul. Marque a opção que não está correta.

- a) O Mercado Comum do Sul (Mercosul) foi criado em 26/03/1991 com a assinatura do Tratado de Assunção no Paraguai. Os membros deste importante bloco econômico da América do Sul são os seguintes países: Argentina, Brasil, Paraguai, Uruguai e Venezuela (entrou em julho de 2006).
- b) Chile, Equador, Colômbia, Peru e Bolívia e México poderão entrar neste bloco econômico, pois assinaram tratados comerciais e já estão organizando suas economias para tanto. Participam até o momento como países associados ao Mercosul.
- c) No ano de 1995, foi instalada a zona de livre comércio entre os países membros. A partir deste ano, cerca de 90% das mercadorias produzidas nos países membros podem ser comercializadas sem tarifas comerciais.
- d) Em julho de 1999, um importante passo foi dado no sentido de integração econômica entre os países membros. Estabelece-se um plano de uniformização de taxas de juros, índice de déficit e taxas de inflação. Futuramente, há planos para a adoção de uma moeda única, a exemplo do fez o Mercado Comum Europeu.
- e) Atualmente, os países do Mercosul juntos concentram uma população

estimada em 311 milhões de habitantes e um PIB (Produto Interno Bruto) de aproximadamente 2 trilhões de dólares.

(Uneal) A associação de países com o objetivo de estabelecer relações comerciais privilegiadas entre si gera um **bloco econômico**. O NAFTA, um dos importantes blocos econômicos da atualidade, tem como membros:

- 1) EUA
- 2) Venezuela
- 3) México
- 4) Canadá
- 5) Reino Unido
- 6) Costa Rica.

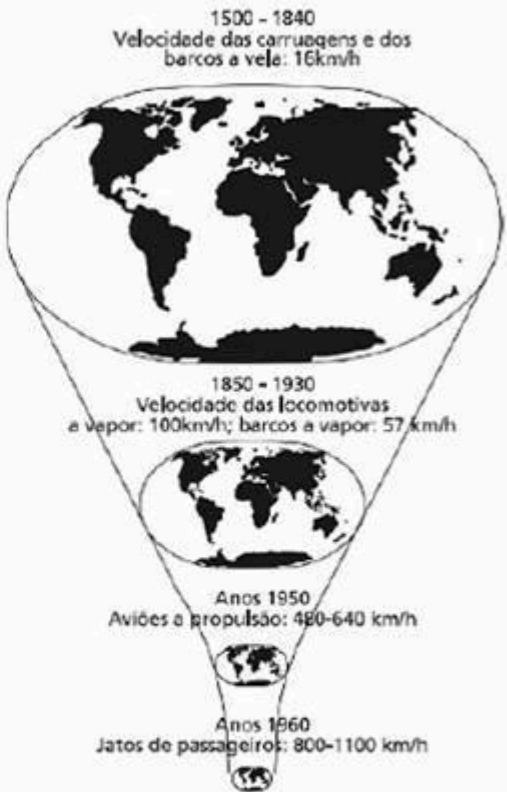
Estão corretas apenas:

- a) 1, 2, 3 e 5
- b) 2, 3, 4 e 6
- c) 2, 3 e 6
- d) 1, 3 e 4**
- e) 1, 2, 4 e 5

(Ufc) No final do século passado, a falência do socialismo real na Europa, o fim da Guerra Fria e a emergência dos blocos econômicos internacionais (NAFTA, UE etc.) principiaram uma nova ordem mundial que ficou conhecida como globalização. Sobre esta nova ordem mundial, é correto afirmar que:

- a) foi bloqueada pelo imperialismo associado ao capital financeiro.
- b) esgotou-se na revolução comercial mercantilista durante o Antigo Regime.
- c) trouxe uma nova dinâmica para a economia, tornando mais fluida a circulação do capital financeiro.**
- d) acabou com as fronteiras nacionais, dando total liberdade de locomoção às pessoas e mercadorias.
- e) tornou-se inevitável em decorrência do avanço de novas tecnologias de armazenamento e veiculação da informação.

(Ufmt) Leia os textos abaixo.

<p>Antes mundo era pequeno Porque Terra era grande Hoje mundo é muito grande Porque Terra é pequena Do tamanho da antena Parabolicamará É, volta do mundo, camará É, mundo dá volta, camará Antes longe era distante Perto só quando dava Quando muito ali de frente E o horizonte acabava (...) De jangada leva uma eternidade De Saveiro leva uma encamação De avião o tempo de uma saudade Pela onda luminosa Leva o tempo de raio Tempo que levava a Rosa Para arrumar o balaio (...) Esse tempo nunca passa Não é de ontem nem de hoje Mora no som da cabaça Não tá preso nem foge No instante que tange o berimbau. (...)</p> <p>(Trecho da música de Gilberto Gil - Parabolicamará)</p>	 <p>1500 - 1840 Velocidade das carruagens e dos barcos a vela: 16km/h</p> <p>1850 - 1930 Velocidade das locomotivas a vapor: 100km/h; barcos a vapor: 57 km/h</p> <p>Anos 1950 Aviões a propulsão: 480-640 km/h</p> <p>Anos 1960 Jatos de passageiros: 800-1100 km/h</p> <p>(HARVEY D. A condição pós-moderna. São Paulo: Edições Loyola, 1993, p. 220.)</p>
--	---

Com base nos textos e nos seus conhecimentos sobre o assunto, analise as afirmativas.

- I - Os textos referem-se ao avanço técnico-científico-informacional com a redução do tempo de deslocamento entre os lugares e expansão da produção e circulação das mercadorias sob a égide do capitalismo.
- II - O desenvolvimento dos meios de transportes, sobretudo o aumento da velocidade e capacidade, encurtou o tempo das viagens, gerando a noção de “encolhimento do mapa do mundo”.
- III - As possibilidades de comunicação entre as nações facilitaram os acordos comerciais e financeiros que reduziram as diferenças econômicas entre Norte-Sul.
- IV - O avanço técnico na infra-estrutura de transportes localizada no Hemisfério Sul dificultou o livre comércio entre os países subdesenvolvidos.

Estão corretas as afirmativas

- a) II e IV, apenas.
- b) I e III, apenas.
- c) I, III e IV, apenas.
- d) I e II, apenas.
- e) I, II, III e IV.

Leia o texto Disneylândia para responder as 2 próximas questões..

- 1 - “Filho de imigrantes russos casado na Argentina com uma pintora judia, casou-se pela segunda vez com uma princesa africana no México.
- 2 - Lanternas japonesas e chicletes americanos nos bazares coreanos de São Paulo.
- 3 - Imagens de um vulcão nas Filipinas passam na rede de televisão em Moçambique.
- 4 - Multinacionais japonesas instalam empresas em Hong-Kong e produzem com matéria prima brasileira para competir no mercado americano.
- 5 - Literatura Grega adaptada para crianças chinesas da comunidade européia.
- 6 - Relógios suíços falsificados no Paraguai vendidos por camelôs no bairro mexicano de Los Angeles.
- 7 - Turista francesa fotografada seminua com o namorado árabe na baixada fluminense.
- 8 - Filmes italianos dublados em inglês com legendas em espanhol nos cinemas da Turquia.
- 9 - Crianças iraquianas fugidas da guerra não obtêm visto no consulado americano do Egito para entrarem na Disneylândia.”

Disneylândia, In TITÃS, *Titanomaquia*, WEA, 1993.

(Unifal) Esses nove “versos” são do texto Disneylândia, cuja música é dos Titãs em parceria com Arnaldo Antunes. Marque a alternativa que apresenta características do espaço geográfico mundial no período atual da globalização e que podem ser identificadas nos versos enumerados acima.

- A) Todos os versos tratam de características do espaço geográfico mundial na década de 1990, quando se intensificou a globalização do capitalismo, mas essas características não existem mais.
- B) Os versos 3, 8, 6 e 9 referem-se à circulação de pessoas que buscam trabalho e melhores condições de vida, migrando dos países subdesenvolvidos para os países desenvolvidos. Os demais versos tratam todos da produção e circulação de bens materiais.
- C) Os versos referem-se a um mundo em movimento intenso, com maior circulação de pessoas, informações, capitais e de mercadorias, tanto bens

materiais como culturais, em diferentes lugares, países e regiões do globo. Porém o verso de número 9 contraria a idéia de “um mundo sem fronteiras”. D) Os versos 2, 4, 6 e 9 não estão relacionados ao fim das fronteiras nacionais para a livre circulação de mercadorias e pessoas pelo mundo.

(Unifal) Com base no texto Disneylândia, responda a questão abaixo.

Na letra da música Disneylândia são citados vários países, cidades, lugares e nacionalidades que integram alguns dos principais blocos econômicos regionais existentes no mundo. Dentre as alternativas abaixo, marque aquela que contém **apenas** os números de versos em que são citados **países ou cidades** do Mercosul ou do Nafta.

- a) 1, 2 e 6
- b) 1, 2, 3 e 6
- c) 1, 2, 4, 7 e 9
- d) 3, 4, 5 e 8

(Unifal) Para responder a questão, leia o fragmeto abaixo.

“Em 4 de outubro de 1957, quando os soviéticos colocaram em órbita o primeiro satélite artificial – Sputnik-1 –, o mundo vivia sob tensão constante. [...] Hoje, a Guerra Fria não existe mais, mas o clima no espaço ainda está longe de refletir o ambiente de interação globalizada que mudou a economia, a política e a ciência em terra firme. Ao contrário do que acontece em outras áreas tecnológicas, o país que quiser lançar satélites por conta própria hoje tem de aprender sozinho. “Os americanos não querem que a tecnologia de lançadores de satélites — que pode ser utilizada para lançar bombas — caia na mão de determinados países, mesmo que sejam amigos”, [...]. “Mesmo quando existe um projeto envolvendo vários países, como a Estação Espacial Internacional, a colaboração se dá mais pela divisão do trabalho do que pela transferência da tecnologia entre os países.” [...]. Hoje, apenas EUA, União Européia, Rússia, China, Índia e Japão são capazes de colocar satélites em órbita. Cada um aprendeu a fazê-lo sozinho.”

GARCIA, Rafael. 50 anos depois do Sputnik, espaço ainda vê Guerra Fria.
Folha de S. Paulo, 30/09/2007.

O fim da Guerra Fria entre os EUA e a URSS e o novo avanço do capitalismo com a globalização mundial estabeleceram uma nova ordem geopolítica.

Sobre esse assunto é correto afirmar que:

- a) houve a eliminação das fronteiras nacionais com a fusão de países em blocos econômicos regionais e o surgimento do domínio das tecnologias de ponta pelos novos países industrializados e subdesenvolvidos.
- b) surgiram áreas de livre comércio como reservas de mercado para multinacionais, disputas entre capitalismo e socialismo representadas por EUA e pela União Européia.
- c) houve a divisão do mundo em Primeiro Mundo (países capitalistas desenvolvidos), Segundo Mundo (países socialistas) e Terceiro Mundo (países capitalistas subdesenvolvidos e os de economia em transição do socialismo para o capitalismo).
- d) surgiram blocos econômicos regionais; novos centros de poder – como o Japão e a União Européia – e tensões entre interesses políticos e econômicos dos países desenvolvidos do Norte e subdesenvolvidos do Sul.

O texto abaixo, que aborda a questão da globalização, é referência para responder às 2 questões subseqüentes. Leia-o e encontre o valor de cada questão.

“(...) uma minoria social privilegiada acumulou grande riqueza em prejuízo da grande maioria da população. Essa nova ordem financeira internacional é nutrida pela pobreza humana e pela destruição do meio ambiente. Ela gera o *apartheid* social, estimula o racismo e os conflitos étnicos, solapa os direitos das mulheres e, freqüentemente, precipita países em confrontos destrutivos entre nacionalidades. Além disso, as reformas – visto que são aplicadas simultaneamente em mais de cem países – levam a uma globalização da pobreza, processo que aniquila a subsistência humana e destrói a sociedade (...)”

CHOSSUDOVSKY, Michel. A globalização da pobreza: impacto das reformas do FMI e Banco Mundial. São Paulo: Moderna, 1999.p. 27.

(Unifap)

(01) Movimentos contemporâneos de defesa dos direitos das minorias e de preservação do meio ambiente criticam alguns dos problemas descritos no

texto acima.

(02) Com o processo de globalização, intensifica-se o desmatamento para a expansão das atividades agropecuárias, aumentando os problemas ambientais, entre os quais estão, a diminuição da taxa de infiltração da água nos solos, a extinção de espécies e a alteração do modo de vida das comunidades.

(04) O enfraquecimento dos estados nacionais, causado, entre outras razões, pelos efeitos da globalização, democratiza a pobreza e as deficiências regionais, além de recrudescer, nos países desenvolvidos, conflitos étnicos e culturais.

(08) A questão de uma melhor distribuição dos recursos materiais entre as nações é de natureza econômica não perpassando questões de natureza política e ética.

Resposta: 7 (1+2+4)

(Unifap)

(01) O quadro descrito pelo texto relaciona-se com as transformações ocorridas no mundo entre o final do século XX e início do XXI, período marcado, entre outras coisas, pela crise do bloco socialista e pela expansão de políticas neoliberais.

(02) A globalização ocorre dialeticamente a um processo de fragmentação, verificada pela difusão das multinacionais pelo mundo e pelo aumento dos conflitos étnicos e culturais, que são formas de resistência ao processo de expansão do capitalismo ocidental e uma maneira de lutar em favor do socialismo e da proteção do meio ambiente.

(04) Uma das características do capitalismo financeiro atual é o financiamento das atividades econômicas em todos os setores de produção (indústria, comércio e agricultura) criando bolsões de miséria nos projetos por ele financiados, estabelecendo padrões e modos de comportamento alheios à cultura local.

(08) A globalização da sociedade humana se consoma sob a égide do modo de produção socialista e de seu estilo de vida social.

Resposta: 14 (1+5)

A Terceira Revolução Industrial — ou Revolução Técnico-Científica — começou a tomar forma no final da Segunda Guerra Mundial, mas os seus efeitos têm se manifestado em todo o mundo, de forma mais intensa, nas últimas três décadas. Sua repercussão atinge o conjunto das atividades econômicas, as relações sociais e as relações entre a sociedade e a natureza.

(LUCCI, E. A.; BRANCO, A. L.; MENDONÇA, C. **Território e sociedade no mundo globalizado**: geografia geral e do Brasil: ensino médio. São Paulo: Saraiva, 2005.p. 241).

Tomando como base a leitura do texto e os conhecimentos sobre a atividade industrial, cite **os principais efeitos positivos e negativos** provocados pela Revolução Técnico-Científica.

Resposta:

Efeitos positivos:

- Avanços nos sistemas de telecomunicações e transportes, reduzindo as distâncias.
- Desenvolvimento e utilização da informática, tanto nos equipamentos (hardware);quanto nos programas e sistemas operacionais (software);
- Desenvolvimento da micro-eletrônica e da robótica;
- Maior competitividade entre as empresas, exigindo, assim, melhor qualidade dos produtos;

Efeitos negativos:

- Desemprego de milhões de pessoas em todo o mundo, pois permite a produção de mais mercadorias e serviços com menor número de trabalhadores.
- Marginalização de alguns países periféricos.

(Ufba/Ufrb)

No contexto da economia mundial globalizada, a disputa econômica entre as empresas tem como palco o mercado mundial. Vivemos rodeados por produtos das mais diversas origens, fabricados por empresas multinacionais bastante conhecidas.

[Elas] ampliaram seus mercados, vendem produtos em praticamente todos os países, aumentaram o número de filiais em todo o globo e compraram muitas empresas em vários países, principalmente nos subdesenvolvidos.

(LUCCI, E. A.; BRANCO, A. L.; MENDONÇA, C. **Território e sociedade no mundo globalizado**: geografia geral e do Brasil: ensino médio. São Paulo: Saraiva, 2005, p. 128-129).

Considerando o texto, indique **três regiões geográficas** onde estão concentradas as maiores corporações industriais, financeiras e comerciais e

cite **duas vantagens** oferecidas pelos países que visam à instalação de empresas multinacionais em seus territórios.

Resposta:

As maiores corporações industriais, financeiras e comerciais estão concentradas nos Estados Unidos (Região dos Grandes Lagos, Extremo Oeste e Nordeste), Europa Ocidental (Vale do Reno, dentre outros), Japão, China e Coréia do Sul.

As funções agregadas pelos países visando a atuação das grandes empresas envolvem:

- Instalação de empresas estatais, ligadas principalmente ao setor de infra-estrutura, como o siderúrgico e o petroquímico.
- Construção e manutenção de equipamentos de infra-estrutura (rodovias, ferrovias, viadutos, portos, aeroportos, usinas e redes de distribuição de energia elétrica, etc.).
- Incentivos fiscais.

(Univates) A Organização Mundial do Comércio (OMC) estabelece normas para o comércio mundial e decide sobre eventuais divergências comerciais entre países.

O Brasil está tentando com a O M C:

- a) a sua interferência para a paulatina substituição do óleo diesel pelo biocombustível.
- b) a possibilidade de sobretaxar os calçados chineses.
- c) a redução das taxas alfandegárias de seus produtos pela União Européia.
- d)** a eliminação de subsídios agrícolas pelos Estados Unidos e União Européia.
- e) a eliminação das taxas alfandegárias pelos países ricos.

(Unicamp) A integração européia, cuja construção se iniciou como um projeto utópico no final da 2ª Guerra Mundial, é a causa de muitas e importantes transformações na estrutura política e econômica da Europa Ocidental contemporânea. Pode-se afirmar que é graças à integração que a Europa conheceu uma longa fase de prosperidade econômica, com a modernização de estruturas produtivas e a melhoria substancial dos padrões de vida das populações européias.

(Adaptado de Antonio Carlos Lessa, “ A Europa seus organismos e sua integração político-econômica. “In: Henrique Altemani de Oliveira e Antonio

Carlos Lessa (org), Política Internacional Contemporânea, São Paulo, Saraiva, 2006, p. 59).

a) O Tratado de Roma, assinado em 1957, instituiu a Comunidade Econômica Européia, um dos marcos da integração da Europa. Explique, sucintamente, os principais objetivos dessa integração.

b) O fim da Guerra Fria provocou grandes modificações nas relações internacionais. No caso da Europa, quais foram os dois principais desafios que o fim da Guerra Fria trouxe para a integração entre os países.

Resposta:

a)

Criar o mercado comum, com moeda comum, para promover o desenvolvimento econômico com expansão contínua e equilibrada, modernizando as estruturas produtivas; melhorar as condições de vida da sua população; estreitar as relações entre os Estados europeus; criar uma organização supranacional para melhorar a competitividade internacional; implantar a tarifa externa comum; abolir a restrição à livre circulação de pessoas e mercadorias e eliminar barreiras comerciais; instituir políticas comuns, como a política agrícola.

b)

A unificação da Alemanha (1990), com a incógnita dos impactos que traria para a economia da Alemanha e de toda a Europa unificada; a transição dos ex-países socialistas para a economia de mercado, já que a evolução dessas economias era incerta e gerou fortes fluxos migratórios, com ressurgimento de nacionalismos; conciliação da soberania nacional com a integração européia.

VESTIBULAR 2007

(Uepb) Para alguns autores, a gênese da globalização está no século XV, com as grandes navegações, porém é na década de 1990 que o processo atinge um estágio jamais imaginado, com a crescente interdependência dos mercados. Este processo que relativiza o tempo e as distâncias só foi possível

I. com a revolução das telecomunicações, em especial com a expansão da internet, que viabiliza a fluidez monetária em escala mundial.

- II. com a difusão da política neoliberal, que restringe o papel do Estado, desregulamenta e privatiza setores da economia.
- III. com a adoção do Keynesianismo por países que optaram por uma política de bem-estar social para garantir o pleno emprego.
- IV. com a expansão da organização fordista, que viabilizou a produção de massa voltada para um consumo também de massa e a grande especialização da mão-de-obra.

Estão corretas **APENAS** as proposições:

- a) I e II
- b) II e III
- c) I e IV
- d) II e IV
- e) I, II e III

(Fei) A alternativa que melhor define o significado de *commodities* é:

- a) Ativos negociados sob a forma de contratos em bolsas de mercadorias, como por exemplo soja, trigo, boi, etc.
- b) Ações de empresas estatais.
- c) Ações de empresas de capital misto.
- d) Ações de produtos industrializados que são negociados em bolsas de valores.
- e) Ações que são negociadas na Bolsa Nasdaq.

(Ufpi) Sobre a economia globalizada:

- () Homogeneizou as culturas e reduziu as discrepâncias econômicas entre os países.
- () Integrou economias e possibilitou a difusão de hábitos dos lugares pelo mundo.
- () Deu visibilidade às minorias, a povos e culturas de recantos isolados do mundo.
- () Quase anulou a xenofobia e os conflitos étnicos e religiosos em todo o Planeta.

Resposta: FVVF

(Ufpi) A organização dos países em blocos econômicos visa facilitar a economia dos países, estimulando as trocas e a produção. Sobre os principais blocos, suas características e finalidades, assinale a alternativa correta.

- a) ALCA – constituída por países africanos, promove a valorização de seus produtos, possibilitando a concorrência com a economia asiática.
- b) MERCOSUL – reúne todos os países da América Latina e visa ampliar as trocas comerciais e o fluxo de pessoas entre os seus membros.
- c) CEI – reúne os países da Europa Ocidental que são liderados pela Inglaterra que, por sua vez, detém a hegemonia econômica desta parte de continente
- d) União Européia – formada por todos os países da Europa, permite a livre circulação, no continente, de pessoas e mercadorias.
- e) NAFTA – formado pelos países da América do Norte, eliminou as barreiras tarifárias entre os seus membros.

(Ufr) Em setembro de 2003 realizou-se a 5ª conferência ministerial da OMC em Cancún, México, e as nações desenvolvidas não avançaram nas negociações sobre o fim dos subsídios agrícolas.

Porém, nesse encontro sobre a liderança do Brasil e da Índia, foi criado um bloco de países em desenvolvimento denominado do:

- a) G-07.
- b) G-08.
- c) G-20.
- d) APEC.
- e) OPEP.

(Ufr) Um dos principais assuntos debatidos dentro da OMC refere-se à política protecionista e de subsídios praticados principalmente pelos países desenvolvidos. Quando um país se sente prejudicado no comércio internacional, tem o direito de apresentar à OMC pedidos de sanções contra o país que está infringindo as regras comerciais. Indique a ação que **NÃO** poderá ser adotada pela OMC, caso não haja acordo entre as partes envolvidas:

- a) Restrições às exportações e importações.
- b) Sanções econômicas.
- c) Retaliação comercial.

- d) Medidas compensatórias.
- e) Intervenção militar.

(Ufam) São características da Globalização:

- a) A adoção do Toyotismo como modelo para a reorganização da produção, a restrição dos mercados e a valorização tecnológica.
- b) O estabelecimento de redes comerciais, com a valorização do capital mercantil e o aumento do controle estatal na economia.
- c) A adoção de políticas neoliberais, a desregulamentação da economia e diminuição dos índices de robotização na indústria.
- d) A dinamização tecnológica com a garantia da ampliação de políticas sociais e direitos trabalhistas.
- e) A formação de blocos econômicos, a integração dos mercados e o avanço do capital financeiro.

(Ufpb) No mundo globalizado, a interligação de mercados faz com que a crise na Bolsa de Valores de um país acabe repercutindo nas bolsas de outros países. O movimento das bolsas de valores, atualmente, representa as transformações do sistema financeiro, composto, de um lado, por empresas tradicionais, medidas pelo índice Dow Jones da Bolsa de Nova York; e por outro, por empresas de alta tecnologia, medidas pela Nasdaq. O índice Dow Jones refere-se à Velha Economia (a exemplo da indústria de automóveis, de tabaco e das companhias de petróleo) e o Nasdaq, às ações da Nova Economia (empresas de informática, eletrônica, telecomunicações e biotecnologia).

Considerando o texto e seus conhecimentos sobre o tema, pode-se afirmar:

- I. Na velha economia, não houve interferência no mercado de trabalho, embora o computador tenha facilitado as transferências de valores via internet.
- II. Na nova economia, alteraram-se o mundo dos negócios e o mercado de trabalho, com a inserção da internet, de empresas de computadores, da internet/telefonia, que internacionalizaram os mercados.
- III. Na maior parte dos países pobres, o acesso à tecnologia de ponta é garantido a todos os cidadãos pelo Estado.
- IV. Na tecnologia avançada, a máquina vem substituindo o homem, mas isso não chega a afetar o mercado de trabalho, porque os computadores são programados pelo homem.

Está (ão) correta(s) apenas:

- a) I
- b) II**
- c) IV
- d) I e II
- e) II e III

(Ufrn) Sobre o Fórum Social Mundial (FSM), realizado pela primeira vez em janeiro de 2001, na cidade de Porto Alegre (RS), é correto afirmar:

- a) É uma entidade, constituída por diversas organizações governamentais e não governamentais, que combate as idéias globalizantes do neoliberalismo.
- b) É uma organização sociopolítica de caráter democrático dos países subdesenvolvidos que faz oposição ao desenvolvimento do capitalismo.
- c) Trata-se de um espaço de debates democrático de idéias e de formulação de propostas opostas ao neoliberalismo e ao processo de globalização comandado pelas grandes corporações.**
- d) Trata-se de um acordo firmado entre as organizações que representam os interesses econômicos da sociedade dos países subdesenvolvidos para combater as ações imperialistas e globalizantes do capitalismo.

(Ufrj)



Adaptado de *Géographie - L'espace mondial*.

Paris: Nathan, 2004 – p.29

O desenho esquemático mostra alguns dos principais agentes do processo de globalização, mas omite os três mais poderosos. Identifique esses agentes.

Resposta:

Os Estados nacionais, as empresas multinacionais e as organizações Internacionais (OMC, ONU, FMI, Banco Mundial, etc.)

(Ufpe) Em relação à atividade do comércio, analise as proposições abaixo.

0-0) Apesar do desenvolvimento dos transportes e das comunicações que marcou o cenário mundial, a partir da segunda metade do Século XX, alguns países da América Latina ainda permanecem isolados, sem participar do comércio internacional.

1-1) Os países desenvolvidos nessa nova regionalização mundial, que teve como critério a expansão e a internacionalização dos mercados, correspondem aos chamados países centrais e mercados emergentes. Os subdesenvolvidos são os denominados países periféricos.

2-2) Apesar da tendência de queda ou mesmo de eliminação das tarifas comerciais, o protecionismo é uma prática adotada por várias nações do planeta, como forma de inibir a livre concorrência dos produtos estrangeiros.

3-3) O superávit da balança comercial de um país é obtido quando as suas exportações, no mercado internacional, são superiores às importações.

4-4) A colocação, no mercado externo, de frutas tropicais, por parte da região Nordeste brasileira, é uma consequência da irrigação desenvolvida nos altos cursos, próximos às nascentes, dos rios São Francisco e Parnaíba.

Resposta: FFVVF

(Ufpe) As exportações do Brasil para a China bateram um recorde histórico em julho de 2006. A balança bilateral reverteu os saldos negativos ou de baixo valor registrados até maio desse ano e atingiu o superávit de US\$ 413 milhões de julho, com exportações de US\$ 1,7 bilhão e importações de US\$ 653 milhões. A maior pauta de exportações, feitas pelo Brasil, para aquele país asiático, refere-se aos seguintes produtos:

- a) petróleo, computadores e medicamentos genéricos.
- b) soja, minério de ferro e petróleo.**
- c) soja, carvão mineral e açúcar.

- (Ufc) O processo de globalização tem, na atualidade, provocado grandes mudanças tanto na esfera econômica, financeira e política quanto na vida social e cultural dos povos e nações, em escala mundial. A esse respeito, é possível afirmar, de modo correto, que:

- (Pucríio-atualizada)



A figura apresentada acima representa:

- a) a Europa no período entreguerras (1919-1939), quando ocorreu o avanço do poderio da Rússia sobre o Leste europeu.
- b) a organização territorial do Mercado Comum Europeu (países “brancos”), iniciado pelo Tratado de Roma, em 1957.
- c) a atual composição da União Européia (U.E., países “brancos”) que, em 2004, estendeu o seu poder em direção ao Leste e Sul europeu e em 2007 passou a ser composta por 27 países.
- d) a clara separação socioeconômica entre a periferia comunitária (“cinzas”) e os países ricos e consolidados na comunidade européia (“brancos”). Essa diferenciação é um dos maiores empecilhos para o sucesso da União Européia (U.E.).
- e) a Comunidade dos Estados Independentes — CEI (países “cinzas”), que mantém próximos seus países membros para a resolução de problemas econômicos comuns existentes desde o tempo da Guerra Fria.

(Mack) As alternativas a seguir sintetizam os principais objetivos de um Tratado de Livre Comércio, como aqueles defendidos, em 2001, na conferência que ficou conhecida como a Rodada de Doha.

A respeito de tais objetivos, assinale a alternativa **INCORRETA**.

- a) Eliminar barreiras alfandegárias somente para países que façam parte de megablocos geoeconômicos já organizados, a exemplo da União Européia, do NAFTA, do MERCOSUL.
- b) Proporcionar, indistintamente, proteção adequada aos direitos da propriedade intelectual.
- c) Promover a cooperação entre países amigos, oferecendo soluções para possíveis controvérsias.
- d) Promover as condições para uma concorrência justa, em todo o mundo.
- e) Estabelecer medidas efetivas para estimular a produção de cada país.

(Cefetsp) *A livre iniciativa* e a abertura de mercados através da flexibilização das fronteiras nacionais são características do neoliberalismo que

- a) é um dos responsáveis pela nova ordem econômica mundial que retira do Estado o papel de regulador da economia.
- b) tem papel destacado na diminuição das crises econômicas que, até a década de 1980, afetavam a estabilidade de vários países do mundo.
- c) amplia o papel do Estado como criador de políticas públicas destinadas a diminuir as desigualdades socioeconômicas da população.
- d) propicia a regulamentação das atividades das transnacionais que devem se submeter às políticas nacionais.

e) promove o processo de globalização e, conseqüentemente, a diminuição das diferenças econômicas entre os países ricos e pobres.

(Fgv-economia) “O maior drama histórico contemporâneo reside no abismo entre a atualidade da necessidade de superação do capitalismo e a regressão nas condições da implantação dessa superação. A passagem, dentro do capitalismo, do modelo regulador para o neoliberal e a passagem do mundo bipolar para o unipolar, com o fim do chamado *campo socialista*, geraram esse abismo.”

(Emir Sader, *Caros Amigos*, julho de 2006. Ano X, n.º 112)

São exemplos do quadro político e econômico descrito nesse parágrafo:

- a) as atuais políticas públicas implantadas por países pobres que, em sua maioria, conseguiram resolver problemas sociais, como os de educação e saúde, resultados que não foram conquistados por países socialistas.
- b) a permanência do modelo centralizador da economia por parte do Estado, por meio das novas agências reguladoras pós-privatizações, tal como ocorre no Brasil nos setores de comunicação e energia, por exemplo.
- c) o fim do mundo bipolar, característico do período da Guerra Fria, considerado como um modelo neoliberal entre os países capitalistas e, com o fim desse período, as economias mais ricas passaram a adotar políticas intervencionistas sobretudo nas grandes corporações financeiras.
- d) a formação do mundo unipolar exemplificado na atualidade pelo acordo entre os países europeus – a União Européia. Prova disso é o ingresso de nações que adotavam o socialismo e que hoje são neoliberais e utilizam a moeda única do bloco – o Euro.
- e) a adoção, por países capitalistas da semi-periferia industrializada, de políticas neoliberais, principalmente na última década do século XX, estratégia que já havia sido adotada pelos países capitalistas mais ricos.

(Fuvest)



Fontes: **Folha de S. Paulo**, 12/12/93 e **Atlas de la diversidad**, 2004.

O mapa acima representa as áreas de cobertura dos satélites utilizados pela CNN, uma das principais redes mundiais de comunicação. Com auxílio do mapa, é possível afirmar que as grandes redes de comunicação

- a) têm como principal meta a divulgação das diferentes perspectivas de compreensão acerca de distintos problemas mundiais.
- b) mantêm independência entre o conteúdo da informação e os interesses geopolíticos dos principais governos do mundo.
- c) contribuem para a criação de uma cultura mundial, desenvolvendo padronização da percepção de conjunturas internacionais.
- d) favorecem a criação de um mercado mundial, permitindo intercâmbio paritário entre culturas.
- e) foram implantadas para se obter livre acesso à informação, resolvendo o problema do isolamento cultural.

VESTIBULAR 2006

(Uesc)

Globalização econômica é o termo utilizado para designar um crescente processo de integração das economias nacionais que vem transformando a superfície do planeta num espaço econômico cada vez mais unitário. Isso significa que os produtos e os capitais transitam entre os países com

liberdade cada vez maior, determinando que a economia assuma um caráter cada vez mais planetário.

(MÉDICI; ALMEIDA, 1999, p. 5).

As informações do texto, da ilustração e os conhecimentos sobre globalização permitem concluir:

- a) A visão do Estado como uma instituição geradora de emprego e protetora do trabalho provocou modificações na estrutura de produção, o que culminou com a democratização do domínio da tecnologia.
- b) O processo de globalização, na década de 90 do século XX, foi marcado pelos princípios neoliberais, pela privatização de empresas estatais e pelo aumento do desemprego.
- c) O avanço nos meios de comunicação tornou o mundo uma aldeia global, sendo os preconceitos e a xenofobia combatidos e desestimulados em todos os países.
- d) A globalização beneficiou o estado do bem-estar social, imprimiu mais autonomia nas nações porque eliminou com o protecionismo no comércio internacional.
- e) A globalização, do ponto de vista geopolítico, favoreceu o desenvolvimento dos países periféricos e desacelerou o imperialismo no planeta.

(Uesc)

Nas últimas décadas, muitos países que tinham uma economia voltada basicamente para o setor primário têm recebido em seus territórios filiais ou subsidiárias de multinacionais, fato que vem modificando profundamente seus perfis econômicos e suas funções dentro da atual divisão internacional do trabalho. (DIT).

(BOLIGIAN; BOLIGIAN, 2004, p. 276).

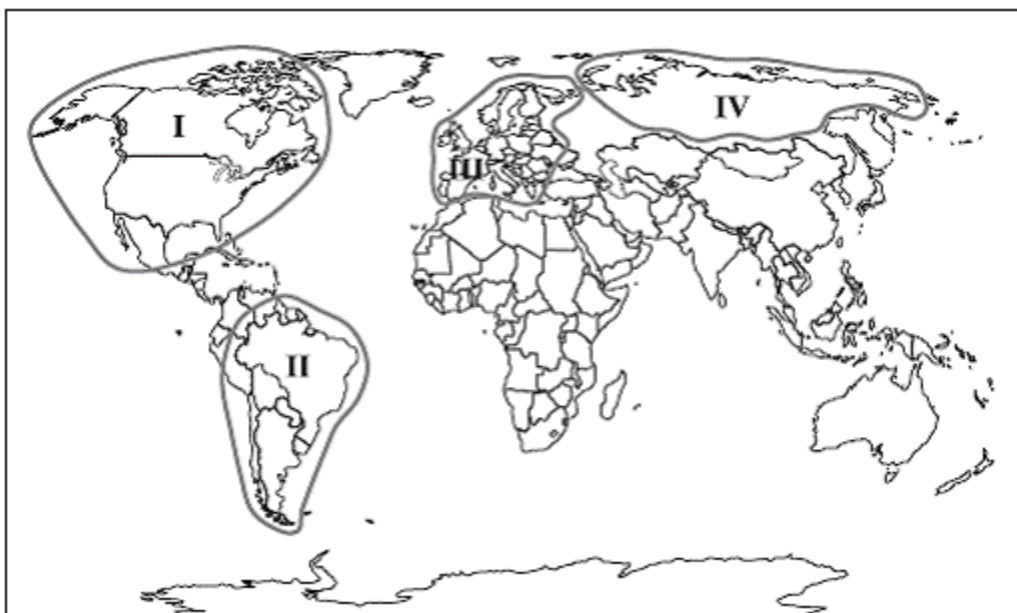
Com base nas informações do texto e nos conhecimentos sobre a DIT e suas implicações, é correto afirmar:

- a) A implantação das multinacionais, nos países periféricos, geraram grandes lucros, porque o lucro era reinvestido no seu território, diversificando o processo produtivo.
- b) A nova DIT não alterou as desigualdades no processo produtivo, mas possibilitou o dinamismo da economia de todos os países do Terceiro Mundo, devido à interferência estatal.

- c) Os países de industrialização clássica, como o Brasil, o México e a Argentina, saíram mais fortalecidos que os demais países periféricos, porque os investimentos externos produtivos priorizam esses mercados.
- d) Essa nova Distribuição Internacional do Trabalho caracteriza-se pela mudança do perfil econômico das nações periféricas e pela diminuição da dependência econômica dessas nações.
- e) Os países centrais, na nova Distribuição Internacional do Trabalho, fornecem produtos e serviços com alto conteúdo tecnológico e os países periféricos, produtos de primeira e segunda geração industrial.

(Unesp) Quanto mais a globalização econômica avança, mais o mundo é marcado pela fragmentação do espaço geográfico por meio de megabloco regionais, como mostra a figura. Em contrapartida, quanto mais abrangente for a integração do bloco, maior a perda de soberania dos Estados participantes.

MEGABLOCOS REGIONAIS



Os blocos I, II, III e IV, representados na figura, são, respectivamente:

- a) Nafta, Comunidade Econômica Européia, Alca e Mercosul.
- b) União Européia, Apec, Aladi e Alca.
- c) CEI, União Européia, Mercosul e Nafta.
- d) Pacto Andino, Comunidade Econômica Européia, CEI e Nafta.
- e) Nafta, Mercosul, União Européia e CEI.

(Espm)

“A globalização se refere a uma mudança ou transformação na escala da organização social que liga comunidades distantes e amplia o alcance das relações de poder nas grandes regiões e continentes do mundo. Mas não deve ser entendida como algo que prenuncia o surgimento de uma sociedade mundial harmoniosa, ou de um processo universal de integração global em que haja uma convergência de culturas e civilizações.”

(HELD, David. Prós e contras da globalização. Jorge Zahar Ed. RJ, 2000)

Na ordem mundial pós-Guerra Fria, a globalização se apresenta ao mesmo tempo

integradora e fragmentadora. São fenômenos que exemplificam esse caráter fragmentador da nova ordem mundial, **EXCETO**:

- a) O aparecimento de políticas reacionárias e movimentos xenófobos em países europeus
- b) O uso político da religião islâmica e a escalada do terrorismo internacional
- c) O ressurgimento de antigos nacionalismos e movimentos separatistas nos Bálcãs e Cáucaso
- d) Os embates crescentes entre países desenvolvidos e em desenvolvimento nos fóruns da Organização Mundial do Comércio
- e) O crescente destaque dado à degradação ambiental do planeta pela mídia internacional

(Espm) No glossário da globalização, novas expressões vão dando a tônica da leitura da geografia econômica do mundo. Dentre elas, está correto:

- a) Tigres Asiáticos: grupos de países com alto potencial natural e demográfico, como Taiwan e Coreia do Sul.
- b) Global Trader: países que concentram seu comércio exterior em um só mercado, como México e Argentina.
- c) Emergentes: países que pertencem ao chamado Primeiro Mundo, estando no centro do sistema capitalista, como Estados Unidos e França.
- d) Baleia econômica: países com grande dimensão territorial e peso demográfico, casos de Austrália e Canadá.
- e) Bric: expressão cunhada pelo Banco Mundial para designar o potencial de Brasil, Rússia, Índia e China.

(Fgv – economia) Observe a tabela para responder à questão.

EVOLUÇÃO DO PIB PER CAPITA (EM US\$)		
	1960/62	2000/02
20 países mais ricos	11 417	32 339
20 países mais pobres	212	267

(Relatório da ONU sobre a situação social do mundo, 2005)

A leitura da tabela e os conhecimentos sobre o contexto econômico mundial permitem afirmar que

- a) a diminuição das desigualdades mundiais deverá ocorrer com a liberalização econômica e o crescimento do comércio entre blocos.
- b) há uma forte relação entre o processo de concentração da produção industrial e o aumento das diferenças sociais no mundo.
- c) o crescimento econômico não é suficiente para promover a distribuição mais eqüitativa da riqueza, pois a China continua apresentando o maior percentual de pobreza do mundo.
- d) atualmente, a teoria neomalthusiana é retomada para explicar os desequilíbrios sociais contemporâneos, pois as populações mais pobres são as de maior crescimento natural.
- e) o processo de globalização é assimétrico e, nestas últimas décadas, tem aumentado a desigualdade socioeconômica mundial.

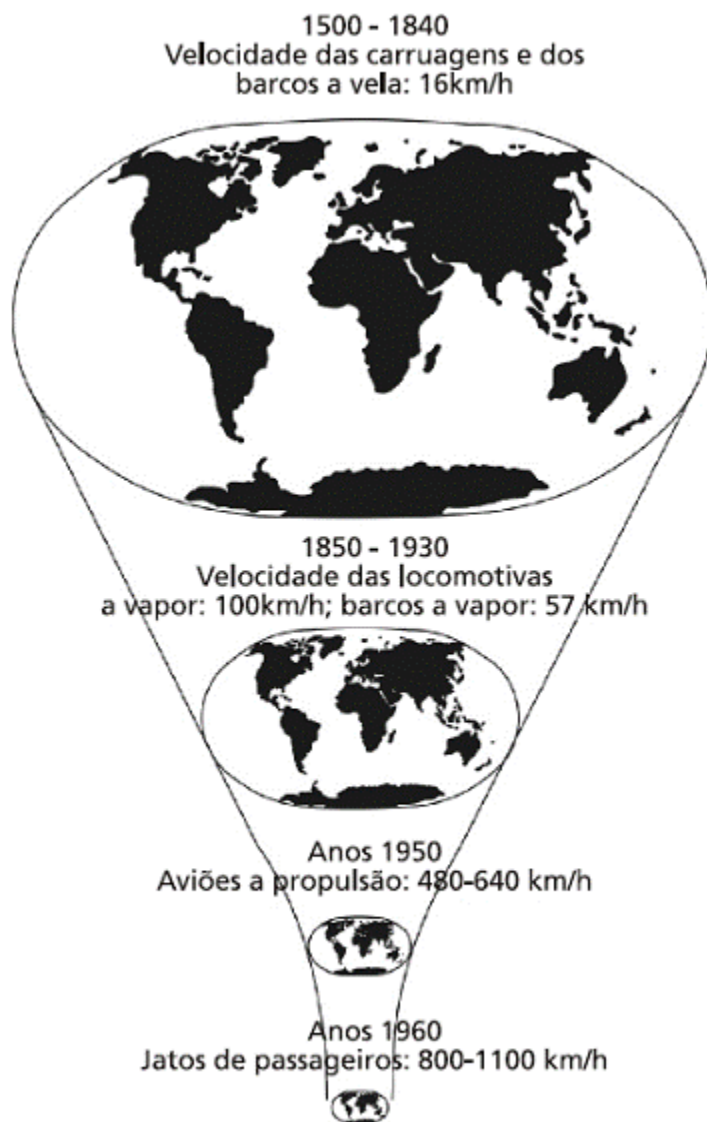
(Mack) O termo globalização expressa um processo, sobretudo de natureza econômica, atualmente em curso, que atinge dimensão planetária. Entre as características principais da globalização, destacam-se:

- I. a descentralização espacial das funções produtivas entre vários países e continentes.
- II. o fortalecimento dos Estados Nacionais, aumentando o papel do Estado como administrador das economias e provedor do bem estar social.
- III. o crescimento das discussões internacionais sobre o meio ambiente, em função de pressões de ONGs e da relativa ampliação da consciência ecológica.

São corretas as características:

- a) I e II, apenas.
- b) I e III, apenas.
- c) apenas II.
- d) II e III, apenas.
- e) I, II e III.

(Unicamp) A imagem ao lado ilustra “o encolhimento do mapa mundo graças a inovações nos transportes que ‘aniquilam o espaço por meio do tempo’”. (David Harvey, *A condição pós-moderna*. São Paulo: Edições Loyola, 1993, p. 220.)



- a) De acordo com a imagem e o texto acima, qual o significado da expressão “encolhimento do mapa mundo”?

- b) Relacione o uso dos barcos a vela com as mudanças na cartografia e no conhecimento geográfico da Terra no início da Idade Moderna.
- c) Além de locomotivas e barcos a vapor, cite um outro meio de transporte introduzido entre 1850 e 1930.

Resposta

a) O desenvolvimento dos meios de transporte, sobretudo o aumento da velocidade e capacidade, encurtou o tempo das viagens, gerando a noção de “encolhimento do mapa do mundo”

b) O uso de barcos a vela, sobretudo as caravelas e velas latinas, no início da Idade Moderna possibilitou viagens mais longas e ultramarinas, resultou em novas rotas para o oriente e descobrimento da América. Assim permitiu o desenvolvimento e aprimoramento dos conhecimentos geográficos e mapas mais precisos e completos a partir de uma nova visão do planeta.

c) Automóvel ou avião.

(Puccamp) Observe a charge e as afirmações abaixo.

I. Atualmente, os habitantes dos países situados no hemisfério Norte têm condições de existência muito superiores àqueles que vivem no hemisfério Sul.

II. A revolução técnico-científica-informacional realizada nos países ricos aprofundou o abismo socioeconômico existente entre o Norte desenvolvido e o Sul subdesenvolvido.

III. A pobreza e a desigualdade social têm origem no sistema capitalista que possibilita a alguns concentrar riqueza.

IV. As pressões exercidas pelas populações do Sul permitirão que, já na próxima década, ocorra um equilíbrio entre o consumo de bens pelos habitantes do Norte e do Sul.



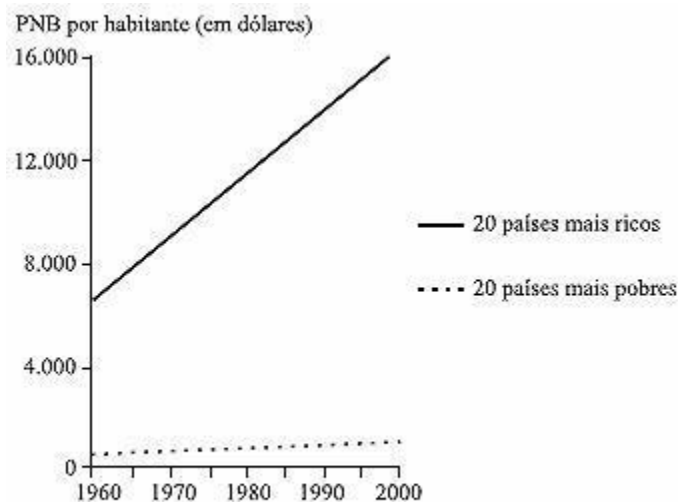
A charge e seus conhecimentos sobre a economia mundial permitem concluir que estão corretas **SOMENTE**

- a) I e II
- b) I e III
- c) I e IV
- d) II e III
- e) III e IV

(Ufrpr) As alternativas a seguir trazem conjuntos de países classificados a partir de algum dos conceitos mais utilizados em geografia econômica. Assinale a afirmativa na qual **TODOS** os países listados **NÃO** condizem com a classificação sugerida.

- a) Brasil, Coréia do Sul e Argentina são países periféricos emergentes.
- b) EUA, Alemanha e Japão são países detentores de tecnologia de ponta.
- c) Bolívia, Cuba e Angola são países cujas economias apóiam-se principalmente no setor secundário.
- d) Iraque, Egito e Guatemala são países considerados dependentes tecnológicos.
- e) Hungria, Polônia e Coréia do Norte industrializaram-se durante o período em que adotaram o sistema de economia planificada.

(Unifesp) O gráfico apresenta a distribuição do Produto Interno Bruto por habitante.



(Banco Mundial e PNUD, 2002.)

Pode-se afirmar que, entre 1960 e 2000, a renda dos vinte países mais ricos

- a) cresceu rapidamente, graças às intervenções militares em países pobres, como as no Vietnã e, mais recentemente, no Afeganistão e no Iraque, que possibilitaram a ampliação de mercado.
- b) desenvolveu-se, independente das economias de países pobres, que não alcançaram níveis de desenvolvimento econômico de excelência, em virtude da presença de governos corruptos e da baixa qualidade de sua mão-de-obra.
- c) teve um crescimento contínuo e duradouro, pela capacidade de investimentos em países pobres, que não souberam manter os lucros em seus territórios, permitindo que a guerra fiscal se instalasse, culminando com a evasão de divisas.
- d) expandiu-se linearmente, graças às facilidades concedidas pelo Conselho de Segurança da ONU, que sempre privilegia os cinco membros permanentes nas decisões econômicas internacionais, em detrimento dos países pobres.
- e) cresceu mais que o dobro, enquanto que a dos mais pobres apresentou crescimento menor, devido ao aumento dos juros da dívida e ao desequilíbrio entre preços de *commodities* e de produtos industrializados.

(Ufal) Desde o final da década de 1980 se utiliza uma nova expressão: Nova ordem mundial na tentativa de esclarecer mudanças que estão ocorrendo no mundo. Observe a charge e analise o teor dessas mudanças



- () A divisão bipolar da Guerra Fria foi substituída por uma nova lógica que é eminentemente econômica; assim o mundo passou a ser dividido em dois conjuntos de países: os desenvolvidos, liderados pelo G7, concentrados sobretudo no hemisfério norte e a periferia, formada por países subdesenvolvidos, localizados, principalmente no hemisfério sul.
- () A multipolaridade que revela ao mundo três grandes núcleos de decisão foi substituída pela unipolaridade: Japão e União Européia, em crise econômica desde os anos de 1990, perderam força e poder econômico e geopolítico, enquanto os Estados Unidos, com crescimento econômico acelerado tornou-se líder absoluto, assumindo mais de 50% do comércio mundial.
- () Na nova ordem mundial surgiram blocos econômicos, que a exemplo do Mercado Comum Europeu, reúnem países para desenvolver atividades econômicas e financeiras em conjunto. O Nafta, na América do Norte, a Apec, na Ásia, reúnem países desenvolvidos que passaram a apresentar intensa atividade que permite a livre circulação de mercadorias, capitais e pessoas entre as fronteiras do bloco.
- () Dentre os países do Sul, alguns deles começaram a assumir posições

de destaque, seja pelo parque industrial, seja pelo volume de exportações; esse grupo passou a ser chamado de emergente. China, Índia, África do Sul e Brasil, embora com níveis de crescimento diferentes, estão nesse grupo.
() A nova ordem mundial não foi capaz de alterar as relações econômicas existentes durante a Guerra Fria. Ainda persistem relações de troca desiguais entre os novos conjuntos Norte e Sul, pois os países mais pobres da periferia continuam exportando matérias-primas de baixo valor para os países ricos do Norte.

Resposta V F F V V

(Urca) Assinale V para as afirmativas verdadeiras e F para as afirmativas falsas, e indique a opção que as apresenta na ordem correta:

- () globalização consiste em uma crescente interdependência das economias de todas as nações;
- () revolução técnico-científica representa uma nova fase do processo de modernização industrial e tecnológica, baseada na informática, na biotecnologia, na robótica e na microeletrônica;
- () costumava-se dividir o espaço mundial em: Primeiro Mundo ou países periféricos; Segundo Mundo ou países capitalistas e Terceiro Mundo ou países socialistas;
- () pode-se dizer que a Guerra Fria intermediava e obscurecia a oposição Norte-Sul, pois os países periféricos eram vistos apenas como um campo de disputas entre o capitalismo e o socialismo;
- () por ser um país de dimensões continentais e distante do continente asiático, o Brasil não foi afetado pelas mudanças econômicas ocorridas com a globalização econômica.

- a) V; V; F; V; F;
- b) V; F; V; V; V;
- c) F; V; F; F; V;
- d) V; F; F; F; V;
- e) F; F; V; V; F.

(Unaerp) O processo de globalização, iniciado com as grandes navegações, atravessa os séculos e apresenta-se hoje, em todo o mundo, sob a égide do neoliberalismo, que **não** se caracteriza corretamente:

- a) pela predominância de interesses eminentemente financeiros.
- b) por uma política estatizante e centralizadora.**
- c) por uma política de privatizações.

- d) pelo abandono do estado de bem-estar social.
- e) pela desregulamentação dos mercados.

(Pucminas)

“Raiva constrangimento e deboche. Esses foram os sentimentos que deram o tom de enfrentamento entre quatro participantes do Fórum Econômico Mundial, que acontecia em Davos, e uma dezena de outros que participavam do Fórum Social Mundial em Porto Alegre.”

PAZZINATO, Alceu de & Senise, Maria Helena V. História Moderna e Contemporânea. São Paulo: Editora Ática. P. 384.

Com relação ao Fórum Social Mundial, é **CORRETO** afirmar que:

- a) motiva o encontro de milhares de pessoas de diferentes origens e culturas para discutir a melhoria das condições de vida da população.
- b) assegura inúmeros privilégios econômicos e políticos aos pequenos agricultores do Movimento dos Sem Terra junto aos dirigentes do G-8.
- c) define a orientação de políticas sociais internacionais a serem seguidas pelos governos latino-americanos.
- d) discute novas diretrizes comerciais que devem ser adotadas pelos países integrantes do Mercosul.

(Ufrj) A Argentina, o Brasil, o Paraguai e o Uruguai formam o Mercosul (Mercado Comum do Sul), o organismo que estabelece as regras e os procedimentos para a integração econômica entre os quatro países. Sobre este bloco econômico, é correto afirmar que

- a) integra países com povoamento, dinâmica econômica e nível de renda muito diferentes.
- b) estabelece “fronteiras abertas” para o livre deslocamento de pessoas, produtos e capitais.
- c) permite a livre circulação dos bens industriais sem restrições e barreiras alfandegárias.
- d) restringe os fluxos migratórios devido às rivalidades históricas existentes dentro do bloco.
- e) amplia a competitividade do setor agropecuário devido à diferença no valor da terra.

(Ufmg) É **INCORRETO** afirmar que a atual política externa brasileira e o papel geopolítico do País, hoje, no mundo, representam

- a) uma aproximação do NAFTA, em razão da necessidade de se concretizarem os tratados comerciais entre esse bloco e o Mercosul,

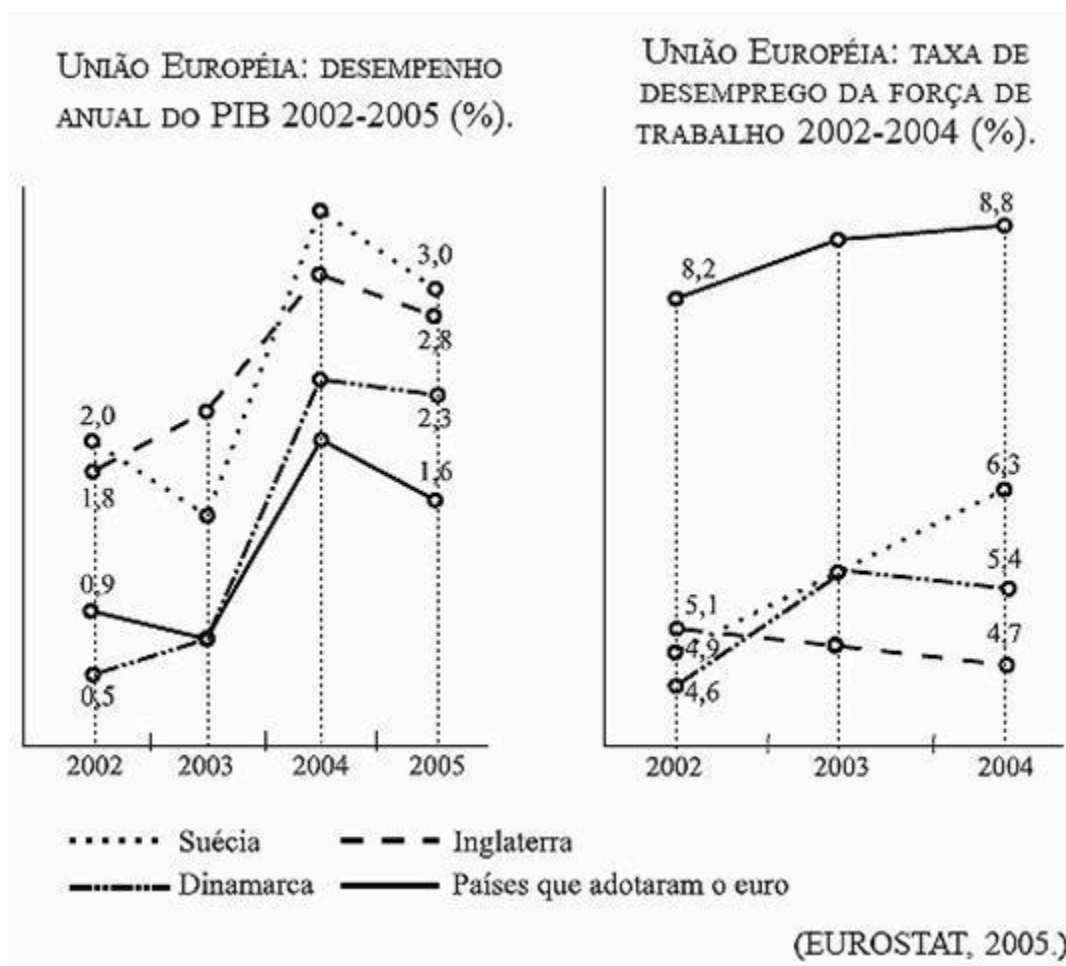
tendo-se em vista a implementação da ALCA.

b) um reforço em sua posição econômica e, possivelmente, um novo papel geopolítico no mundo, graças à qualidade de potência regional do Brasil na América do Sul.

c) um repúdio à ocupação do Iraque e, por outro lado, um apoio à criação do Estado da Palestina, posições formalmente defendidas nos foros internacionais de que o Brasil participa.

d) uma defesa da idéia do perdão, tanto pelo Brasil quanto pelos países centrais, da dívida dos países mais pobres do mundo . especialmente os africanos.

(Unesp) O bloco de países pertencentes à União Européia foi ampliado em 2004 com a entrada de países do leste e do centro europeu, os quais adotaram o euro como moeda comum. Inglaterra, Suécia e Dinamarca, entretanto, não participam da unificação da moeda. Analise os gráficos e assinale a alternativa que exprime o comportamento desses três países no período considerado.



- a) Desempenho econômico e taxas de desemprego superiores às dos países que adotaram o euro.
- b) Melhor desempenho econômico e maiores taxas de desemprego em todo o período.
- c) Pior desempenho econômico e elevadas taxas de desemprego em todo o período.
- d) Melhor desempenho econômico principalmente a partir de 2003 e menores taxas de desemprego em todo o período.
- e) Melhor desempenho econômico apenas a partir de 2003 e, historicamente, maiores taxas de desemprego.

(Ufg) Em janeiro de 1994, passou a vigorar o Acordo Norte-Americano de Livre Comércio (Nafta), entre os Estados Unidos, o Canadá e o México, que formaram um bloco econômico, eliminando barreiras alfandegárias no comércio recíproco. Esse acordo foi contestado na América Latina e também nos Estados Unidos, sobretudo em relação ao México. No que se refere ao aspecto econômico, apresente duas críticas norte-americanas ao acordo com o México.

Resposta

Duas entre as opções abaixo:

- não haveria aumento das exportações porque a moeda mexicana tem valor menor, enquanto a renda mexicana é mais baixa que nos outros dois países;
- ocorreria exportação de empregos para o México com a transferência de empresas norteamericanas atraídas pelos baixos salários daquele país;
- haveria aumento do desemprego nos Estados Unidos e redução nos salários dos operários norteamericanos;
- a eliminação de barreiras abre caminho para a integração econômica, incluindo a integração no uso de mão-de-obra (atração de imigrantes mexicanos para os Estados Unidos constituiria grave problema social).

(Puccamp) A *ALCA* ou o *MERCOSUL*? Essa é uma dúvida que paira sobre as cabeças de milhões de latino-americanos. Sabe-se que no atual estágio do sistema capitalista a integração de países em blocos é necessária como sobrevivência e participação no comércio mundial para muitos países.

Sobre

esses blocos afirma-se:

- I. A maior parte das trocas comerciais entre os membros do MERCOSUL envolve o Brasil e a Argentina.
- II. A criação da ALCA representa um fator de fortalecimento internacional do MERCOSUL.
- III. As recentes relações comerciais do Brasil com a África e a China foram fatores importantes para a atual estagnação do MERCOSUL.
- IV. Mesmo com a integração que será promovida pela ALCA, os Estados Unidos deverão continuar colocando barreiras protecionistas em alguns produtos como os gêneros agrícolas.
- V. Para muitos países como o Chile, o Peru e o México, a consolidação da ALCA é vista como uma oportunidade de ampliação das exportações e atração de investimentos.

Estão corretas SOMENTE as afirmações

- a) I, II e III
- b) I, II e IV
- c) I, IV e V
- d) II, III e IV
- e) III, IV e V

(Ufc) Assim como a dinâmica natural da Terra altera as feições do planeta e a dinâmica demográfica modifica constantemente o contingente, a composição e a distribuição da população pelo Globo, a dinâmica econômica promove a reorganização dos espaços geográficos, separa ou agrupa países em função de seus interesses e divergências, de suas posições hegemônicas ou de subordinação econômica no plano internacional ou continental.

- a) Cite três exemplos de blocos econômicos existentes na atualidade, relacionando os países que os constituem.
- b) Cite dois aspectos que motivam o agrupamento dos países em blocos econômicos

Respostas

a)

- 1.MERCOSUL: Argentina, Brasil, Paraguai, Uruguai
- 2.NAFTA: Canadá, Estados Unidos e México
- 3.COMUNIDADE ANDINA: Bolívia, Colômbia, Equador, Peru e Venezuela

b)

1. Possibilidade de fortalecer a economia dos países participantes pelo estabelecimento de relações comerciais privilegiadas entre os países membros dos blocos econômicos.
2. Possibilidade de ampliar o intercâmbio entre mercadorias, capitais e serviços.
3. Possibilidade de fortalecimento nas relações com países fora do bloco no mercado internacional.

(Urca) Assinale a opção que preenche corretamente os espaços vazios do texto abaixo:

“A formação de _____ significa uma regionalização do _____ mundial. Concomitantemente, acaba sendo uma maneira de incrementar a _____ em escala global, já que existe a tendência de os blocos fazerem _____ de comércio entre si. Assim, pertencer a um bloco significa para um país ter _____ ao mercado consumidor de um bloco aliado.”

- a) países; domínio; independência; restrições; bloqueio;
- b) blocos; espaço; interdependência; alianças; acesso;**
- c) territórios; contexto; divulgação; guerras; contenção;
- d) áreas; mercado; proibição; proibição; indicação;
- e) critérios; traçado; paisagem; lutas; danos.

(Urca) Após a proposta da Área de Livre Comércio das Américas (Alca), surgiram muitas controvérsias envolvendo essa questão, algumas estão listadas abaixo. Leia com atenção e indique a opção correta:

- I) falta de competitividade dos setores rurais brasileiro e argentino, que não têm condições de enfrentar os baixos preços dos produtos agrícolas dos Estados Unidos e do Canadá, viabilizados pelos subsídios governamentais.
- II) A Alca pretende formar uma zona econômica que abrange todos os países das Américas, sem exceção.
- III) propriedade intelectual, relacionada a patentes de plantas ou sementes geneticamente modificadas, que foram desenvolvidas mediante o emprego de biotecnologia.
- IV) nas negociações da Alca, em 2003, os Estados Unidos anunciaram o desejo de discutir a questão anti-*dumping* e os subsídios à agricultura, no intuito de viabilizar o incremento dessas negociações.

- a) As afirmativas II e III estão corretas;
- b) As afirmativas I e IV estão corretas;
- c) As afirmativas III e IV estão corretas;
- d) As afirmativas I e III estão corretas;**
- e) As afirmativas II e IV estão corretas.

(Ufmt) Sobre a União Européia, marque V para as afirmativas verdadeiras e F para as falsas.

- () Qualquer pessoa que tenha a nacionalidade de um Estado-membro é considerada cidadã da União Européia.
- () Reduzir as desigualdades sociais e econômicas entre os países-membros e melhorar as condições de vida e de trabalho dos seus cidadãos são alguns dos objetivos da União Européia.
- () A União Européia pôs fim às barreiras comerciais não só entre os países-membros como também para países integrantes do Mercosul e do Nafta.

Assinale a seqüência correta.

- a) V, F, V
- b) V, F, F
- c) F, V, F
- d) V, V, F**
- e) F, F, V

(Pucsp) Sobre o processo de consolidação e ampliação da União Européia é correto afirmar que

- a) o objetivo da UE é a constituição de bloco militar cuja atuação permita a implementação de uma política externa e de segurança comum entre os membros, como já demonstrou a questão da Guerra no Iraque.
- b) a União Européia é uma das zonas mais ricas do mundo. Entretanto, existem disparidades internas significativas entre as suas regiões, em termos de rendimentos e de oportunidades, que foram agravadas com a recente ampliação de seus membros.**
- c) na União Européia os Estados componentes abrem mão de sua soberania em temas militares e, por isso, passam a cumprir decisões coletivas. Foi como uma entidade única que a UE votou, por exemplo, a favor da invasão do Iraque na ONU.
- d) a UE vem, recentemente, estimulando as nações da Europa do leste (Hungria, Eslováquia, República Checa, Albânia e Romênia, por exemplo) a ingressarem na entidade, por temer que elas caíam sob o controle da

Rússia.

e) por causa de objetivos geopolíticos relacionados ao combate ao terrorismo, a UE está relaxando nas exigências para os países que querem uma vaga no “clube”, tal como no caso atual da candidatura da Turquia, país antidemocrático pelo fato de ser uma república islâmica.

VESTIBULARES ANTERIORES

(Uel) Leia os textos a seguir.

“Estando com apenas quatorze anos, em Paris, onde nasci, eu já tinha visto o surgimento do telefone, do aeroplano, do automóvel, da eletricidade doméstica, do fonógrafo, do cinema, do rádio, dos elevadores, dos refrigeradores, do raio-x, da radioatividade e, ademais, da moderna anestesia.” (Raymond Loewy apud SEVCENKO, Nicolau. *História da vida privada no 1º Brasil*. São Paulo: Companhia das Letras, 1998. v. 3, p. 10.)

“[...] A economia capitalista era, e só podia ser, mundial. Esta feição global acentuou-se continuamente no decorrer do século XIX, à medida que estendia suas operações a partes cada vez mais remotas do planeta e transformava todas as regiões cada vez mais profundamente. Ademais, essa economia não reconhecia fronteiras, pois funcionava melhor quando nada interferia no livre movimento dos fatores de produção.”

(HOBBSBAWM, Eric. *A era dos impérios*. 3 ed. Rio de Janeiro: Paz e Terra, 1988. p. 66.)

Comparando os diferentes olhares, do narrador Raymond Loewy e do historiador Eric Hobsbawm, é correto afirmar:

- a) Na condição de testemunha das transformações tecnológicas, o narrador acentua o seu caráter inovador, enquanto o historiador enfatiza o caráter expansionista e internacionalista do capitalismo.
- b) As citações revelam a preocupação dos autores com os impactos maléficos das indústrias químicas, com o desenvolvimento da medicina e com o controle da natalidade e das moléstias.
- c) O olhar do narrador é determinado pelo distanciamento em relação às mudanças, enquanto o historiador percebe as transformações ao seu redor de forma emocional e alheia aos desdobramentos econômicos, políticos e sociais.
- d) Para ambos, o progresso decorrente das transformações tecnológicas iguala as economias mundiais e preserva o modo de vida das sociedades tradicionais.

e) Para o historiador, as transformações tecnológicas representam uma barreira ao fortalecimento da economia capitalista, enquanto para o narrador, contribuem para manter inalteradas as formas de intimidade e lazer.

(Uel)

“[...] O capitalismo contemporâneo é mundial e integrado porque potencialmente colonizou o conjunto do planeta, porque atualmente vive em simbiose com países que historicamente pareciam ter escapado dele (países do ex-bloco soviético e China) e porque tende a fazer com que nenhuma atividade humana, nenhum setor de produção fique fora de seu controle. [...] O capitalismo mundial integrado não respeita mais os modos de vida tradicional do que os modos de organização social dos conjuntos nacionais que parecem estar melhor estabelecidos. [...]

” (GUATTARI, Felix. *Revolução molecular: pulsações políticas do desejo*. São Paulo: Brasiliense, 1987. p. 211.)

Com base no texto e nos conhecimentos sobre a globalização e seus efeitos, é correto afirmar:

- a) A economia do mundo globalizado privilegia relações de mercado vinculadas à dinâmica da acumulação flexível do capital.
- b) O conhecimento científico reafirma cotidianamente a sua autonomia e independência em relação aos efeitos da globalização.
- c) A globalização manteve a tradicional divisão social do trabalho capitalista fundada à época da revolução industrial na Inglaterra.
- d) A lógica do mercado globalizado fortalece as organizações representativas dos trabalhadores, que resistem com sucesso à desestruturação do mundo do trabalho.
- e) Os sistemas produtivos dos países emergentes protegem-se dos dissabores do mercado, estabelecendo cotas para os seus produtos exportáveis.

(Uel). Analise a tabela a seguir.

ACESSO A NOVAS TECNOLOGIAS E REDES – 2001

PAÍSES	Assinantes de telefone por cabo e de telefones móveis (por 100 pessoas)	Usuários de Internet (por 100 pessoas)	Computadores pessoais em uso (por 100 pessoas)
JAPÃO	117,4	38,4	35,8
EUA	111,8	50,1	62,5
BRASIL	38,5	4,7	6,3
FEDERAÇÃO RUSSA	29,6	2,9	5,0
INDONÉSIA	6,6	1,9	1,1
PAQUISTÃO	2,9	0,3	0,4
NIGÉRIA	0,8	0,1	0,1

Adaptado de: ONU. Indicadores do Desenvolvimento Humano, 2003.

Com base nas informações da tabela e nos conhecimentos sobre redes e globalização, é correto afirmar:

- a) Países como a Indonésia, Paquistão e Nigéria excluíram-se do processo de globalização em virtude do fundamentalismo religioso hegemônico, o qual impôs obstáculos que bloquearam o acesso às novas tecnologias e redes.
- b) Pode-se afirmar que o Brasil e a Rússia, em função de seu grande contingente populacional, figuram entre os países no mundo que mais têm acesso a novas tecnologias e redes. Em números absolutos, seus usuários são equivalentes aos dos EUA e Japão.
- c) As desigualdades no desenvolvimento econômico e social são mundialmente reforçadas e ampliadas no bojo do processo de globalização, pois a difusão das novas tecnologias e redes de circulação se realiza de forma restrita.
- d) O processo de globalização amplia de forma irrestrita a integração cultural entre os países e pessoas, pois a disseminação mundial das novas tecnologias e redes tende a homogeneizar e democratizar o acesso da população do planeta ao mercado, à informação e à cultura.
- e) O processo de globalização, ao ancorar-se no desenvolvimento e na ampla difusão das redes e novas tecnologias, como demonstram os dados da tabela, permite a democratização das relações de poder em escala mundial.

(Fgv) Considerando-se as conseqüências do processo recente de globalização mundial, vale dizer que:

- a) O crescimento econômico vivenciado no mundo ao longo do século XX não aboliu as diferenças entre os países pobres e ricos, principalmente no que se refere às condições sociais.
- b) Um dos aspectos marcantes das relações econômicas entre os países do globo foi o aumento dos fluxos de pessoas entre países e regiões, em detrimento da circulação de mercadorias.
- c) A capacidade de cobrir grandes distâncias em poucas horas fez do transporte aéreo o principal meio de circulação de produtos leves e de média tonelagem nos países ricos do Norte.
- d) A propagação da Síndrome Respiratória Aguda Grave (Sars, na sigla em inglês) serviu para implementar uma rede de saúde pública mais eficiente e eficaz nos países subdesenvolvidos.
- e) Se os mercados de ações do mundo ocidental têm sido influenciáveis por epidemias ou boatos de ataques aéreos, tal tendência não se manifesta no desempenho das bolsas de valores do Oriente, como Cingapura, Taiwan e Hong- Kong.

(Ufsc) A partir dos anos 80, o mundo assistiu a grandes mudanças, emergindo daí uma "nova ordem mundial", abaixo caracterizada.

Assinale a(s) proposição(ões) que estiver(em) DE ACORDO com essa "nova ordem".

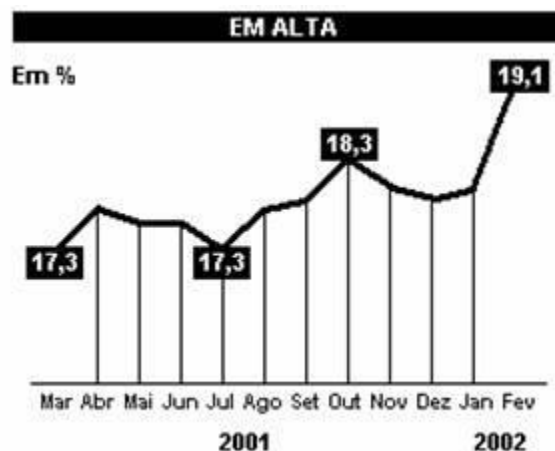
- 01. Formação de blocos econômicos supranacionais, como a União Européia e o Acordo de Livre Comércio da América do Norte.
- 02. Manutenção do bloco soviético e continuidade da Guerra Fria baseada na bipolaridade.
- 04. Expansão das multinacionais como agentes dessa nova fase da evolução capitalista.
- 08. Capacitação econômica como medida de poder no mundo multipolar.
- 16. Expressivo avanço técnico-científico e mais atenção à qualificação profissional.

Resposta: 01 + 04 + 08 + 16 (29)

(Uece) Nascida nos anos 50, essa Associação Internacional foi pioneira no mundo com tendência a agregar todo o Continente, servindo de modelo para outros blocos de países. Tratamos do bloco regional:

- a) Acordo de Livre Comércio da América do Norte - NAFTA
- b) Mercado Comum do Sul - MERCOSUL
- c) Associação de Cooperação Econômica da Ásia e do Pacífico - APEC
- d) União Européia – UE

(Uerj) Nos últimos doze meses, a taxa de desemprego de fevereiro também foi a mais alta. O pico anterior ocorreu em outubro do ano passado, mês seguinte aos atentados terroristas aos EUA.



(Jornal do Brasil, 28/03/2002)

O gráfico indica a variação do desemprego, durante o período assinalado, e estabelece uma relação entre a dinâmica do desemprego na Região Metropolitana de São Paulo e os atentados terroristas de setembro nos EUA. Isso sugere uma possível relação entre os dois processos, num contexto de economia globalizada.

Os EUA têm enorme influência econômica no restante do mundo, fundamentalmente, porque:

- a) exportam armas e veículos de guerra para os países periféricos
- b) importam bens manufaturados das áreas metropolitanas do Hemisfério Sul
- c) centralizam parte significativa do comércio e dos fluxos de capital no mundo
- d) distribuem ajuda humanitária para as economias emergentes do Terceiro Mundo

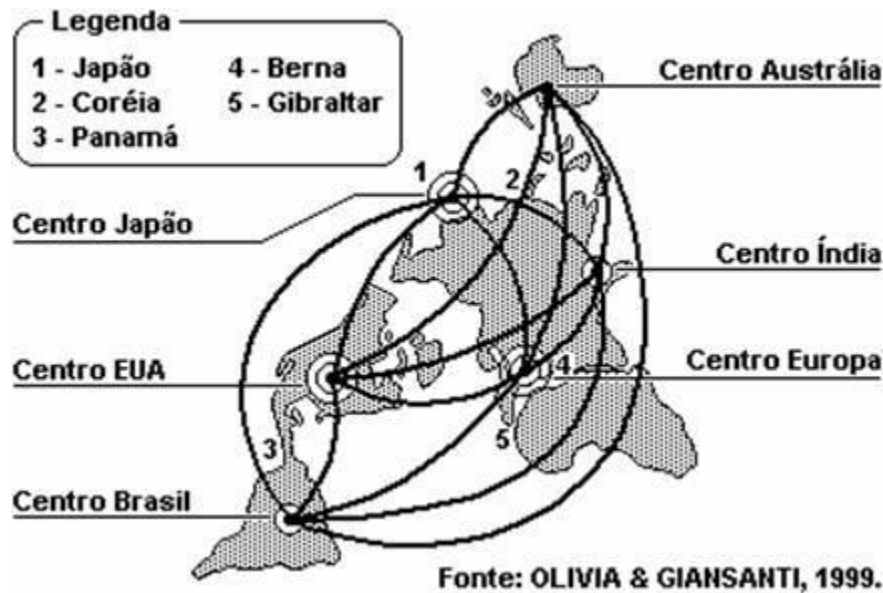
(Unioeste) Em edição especial, a Folha de São Paulo trouxe um guia, feito por especialistas, onde se discutem termos e expressões que orientam sobre temas dominantes da cultura e da ciência na atualidade. Integrante da equipe, o geógrafo Milton Santos assim se expressa: "Nesta passagem de século, as realidades geográficas também se renovam, contribuindo para a emergência de novos conceitos".

Sobre a emergência desses novos conceitos, é correto afirmar que

- 01. na reterritorialização atual do mundo, fortalece-se a idéia de estados nacionais autônomos e soberanos.
- 02. o conceito de desenvolvimento sustentável está consagrado, ainda que a realidade esteja muito longe de modelos ideais, tanto em países com tecnologia avançada quanto nos outros.
- 04. a globalização leva à afirmação de um novo meio geográfico, cuja produção é deliberada e que é tanto mais produtivo quanto maior for o seu conteúdo em ciência, tecnologia e informação.
- 08. as redes são a base da modernidade atual e a condição de realização de economia e da sociedade global, onde fluem as informações, que são, hoje, o motor principal dos dinamismos hegemônicos.
- 16. as tecnologias de informação têm superado todas as expectativas em termos de impacto econômico, mudando o conceito de empresa, de valor, de trabalho e de emprego.
- 32. nos anos 90, além das multinacionais e dos bancos globais, ganham força os processos de liberalização comercial, culminando com a criação da Organização Mundial do Comércio (OMC).

Resposta: 02 + 08 + 16 + 32 (58)

(Fgv) Observe a figura para assinalar a alternativa correta.



Na figura acima estão representados:

- a) Os centros econômicos do capitalismo mundial e os fluxos das maiores rotas aéreas.
- b) Os pontos da rede geográfica global, inseridos em territórios nacionais, e os fluxos econômicos e informacionais que interligam a rede.
- c) Os centros econômicos do capitalismo mundial e os fluxos internacionais conhecidos como "migração de cérebros".
- d) Os pontos da rede geográfica global, inseridos em territórios nacionais, e os fluxos das maiores rotas aéreas.
- e) Os maiores centros operadores de Bolsa de Valores no mundo e os fluxos econômicos e informacionais que interligam a rede.

(Ufmg) Considerando-se a globalização, fase atual da expansão capitalista, é INCORRETO afirmar que ela

- a) promove a crescente vulnerabilidade das economias de muitos países, à medida que sua credibilidade, frente aos investimentos externos, é afetada por relatórios e opiniões de agentes do poder político e econômico internacionais.
- b) amplia a capacidade das nações de realizar investimentos públicos em áreas prioritárias - como na educação, saúde e saneamento básico -, à proporção que cresce o controle do Estado sobre o fluxo de capitais

oriundos de taxas e impostos.

c) retrata a interdependência crescente entre regiões e lugares que, apesar de geograficamente separados por grandes distâncias, podem ser influenciados por eventos ocorridos em qualquer parte do Planeta.

d) propõe uma ruptura com o princípio, até há pouco vigente, de sociedades nacionais a pretexto da necessidade de se considerar a realidade de uma sociedade global, em que são intensas as relações socioeconômicas em escala mundial.

(Ufsc) A economia-mundo foi reforçada quando as empresas transnacionais cruzaram as fronteiras dos Estados Nacionais, deslocando seu capital para regiões que atendiam de forma mais adequada a seus interesses econômicos. Com a globalização, porém, outros problemas, em âmbito mundial, foram se tornando cada vez mais evidentes, exigindo soluções. Abaixo encontram-se proposições relativas a essas questões. Assinale com V (verdadeiro) ou F (falso).

() O acirramento da divisão Norte X Sul, baseada em critérios sócio-econômicos, apresenta como destaque o grande contingente de nações subdesenvolvidas, observando-se que os países emergentes convivem com os da África Subsaariana, marginalizados da economia global.

() A transmissão em tempo real de acontecimentos de qualquer parte da Terra é fruto do avanço das telecomunicações, como ocorreu com a Copa do Mundo de 2002, realizada na Coreia do Sul e no Japão, importante "tigre" asiático e segunda maior economia do planeta, respectivamente.

() A dimensão cultural da globalização é necessária para o estabelecimento das grandes corporações transnacionais, e se manifesta através da música, televisão e filmes, sugerindo ao mundo um padrão de vida e consumo a ser seguido por todos.

() O terrorismo e qualquer outra atividade do crime organizado, como as máfias e o tráfico de drogas, de mulheres e de crianças, encontram mais facilidades para expandir suas ações criminosas graças aos avanços tecnológicos das comunicações, oriundos da Revolução Técnico-Científica e Informacional.

() A globalização da pobreza, a parte cruel da atual fase do capitalismo, caracterizada pelas diferenças cada vez maiores entre ricos e pobres, quer sejam indivíduos, regiões ou países, tem gerado protestos em várias partes do mundo, como ocorreu no Fórum Social Mundial, realizado recentemente em Porto Alegre.

Resposta: Todas são verdadeiras

(Ufc) A globalização é considerada por alguns estudiosos como a expressão máxima das relações do sistema capitalista em nível mundial. A esse respeito, analise as afirmações abaixo.

I. Na ampliação dos investimentos das empresas, não importa a origem do capital, mas as alianças entre empresas e países para a abertura de novos mercados.

II. A globalização ampliou o poder político dos Estados Nacionais e possibilitou o desaparecimento dos conflitos entre países.

III. A modernização tecnológica possibilitou a internacionalização dos sistemas produtivos, financeiros e das comunicações.

Assinale a alternativa correta.

- a) Apenas I é verdadeira.
- b) Apenas III é verdadeira.
- c) Apenas I e II são verdadeiras.
- d) Apenas I e III são verdadeiras.
- e) I, II, e III são verdadeiras.

(Ufc) Em resposta à tendência mundial de formação de blocos de países, constituíram-se o NAFTA, o MERCOSUL, a União Européia, a CEF e a APEC. Marque a alternativa em que há correta correspondência entre o bloco e os países que o constituem.

- a) NAFTA - Canadá, Estados Unidos e México
- b) MERCOSUL - Argentina, Brasil, Equador e Paraguai
- c) União Européia - Alemanha, Espanha, França, Inglaterra, Itália, Portugal e Turquia
- d) CEF - Armênia, Bielo-Rússia, Moldávia, Rússia, Turcomenistão, Ucrânia e Japão
- e) APEC - Brasil, Canadá, China, Filipinas, Japão e Vietnã

(Ufjf) O espaço mundial da era da informação caracteriza-se, em um certo sentido, pela supressão da distância. Os sistemas de computadores, telefonia e satélites de comunicações possibilitaram a troca de informações - sob as formas de textos, dados, voz e imagem - em tempo real através do mundo inteiro. Nesse espaço, as atividades econômicas são estruturadas em redes virtuais.

Marque a alternativa **CORRETA**:

- a) A abrangência espacial das redes revela o poder econômico dos países que detêm reservas de recursos naturais renováveis.

- b) O espaço geográfico se diferencia pelas condições técnicas e organizacionais presentes em cada área.
- c) As redes virtuais são acessadas exclusivamente pelos governantes e empresários dos países desenvolvidos.
- d) O espaço mundial da era da informação não é polarizado, devido à homogeneização econômica promovida pelas redes.
- e) O espaço mundial da era da informação não favorece o desenvolvimento de blocos econômicos supranacionais.

(Ufg)

Quando nascemos fomos programados
A receber o que vocês nos empurraram
Com os enlatados dos USA, de 9 às 6.
Desde pequenos nós comemos lixo
Comercial e industrial
Mas agora chegou nossa vez
Vamos cuspir o lixo em cima de vocês.
Somos os filhos da revolução
Somos burgueses sem religião
Nós somos o futuro da nação
Geração Coca-Cola.
(...)

Renato Russo

O trecho acima, da música "Geração Coca-Cola", evoca uma das principais características do mundo moderno: o consumismo. Com base nos conhecimentos sobre o assunto, julgue os itens.

- () O consumismo se caracteriza como um comportamento social em que o consumo deixa de ser meio e adquire status de finalidade.
- () A globalização da economia fez surgir uma nova geografia do consumo: países e regiões com níveis de desenvolvimento econômico distintos consomem produtos e serviços semelhantes.
- () O modelo de consumo "mundializado" deixa marcas evidentes no espaço das metrópoles, onde proliferam estabelecimentos comerciais de grande porte, como shopping centers, hipermercados, etc.
- () A presença, num mesmo espaço geográfico regional, do consumidor e do produtor do bem de consumo é necessária, porque os circuitos espaciais de produção são demarcados pelas fronteiras regionais.

Resposta: V V V F

(Pucrs) Responder à questão com base no texto a seguir.

"No contexto socioeconômico atual, que envolve a sociedade globalizada, a vida econômica é regida por uma ordem natural formada a partir das livres decisões individuais e cuja mola mestra é o mecanismo de preços. Entretanto, defendem o disciplinamento da economia de mercado, não para asfixiá-la, mas para garantir-lhe a sobrevivência".

Sandroni, P. "Novo Dicionário de Economia". São Paulo: Bestseller, 1994.

O texto refere-se

- a) ao mercantilismo geográfico.
- b) à sociedade de cartéis.
- c) ao socialismo utópico.
- d) ao neoliberalismo.**
- e) ao liberalismo clássico.