

Практикум № 3

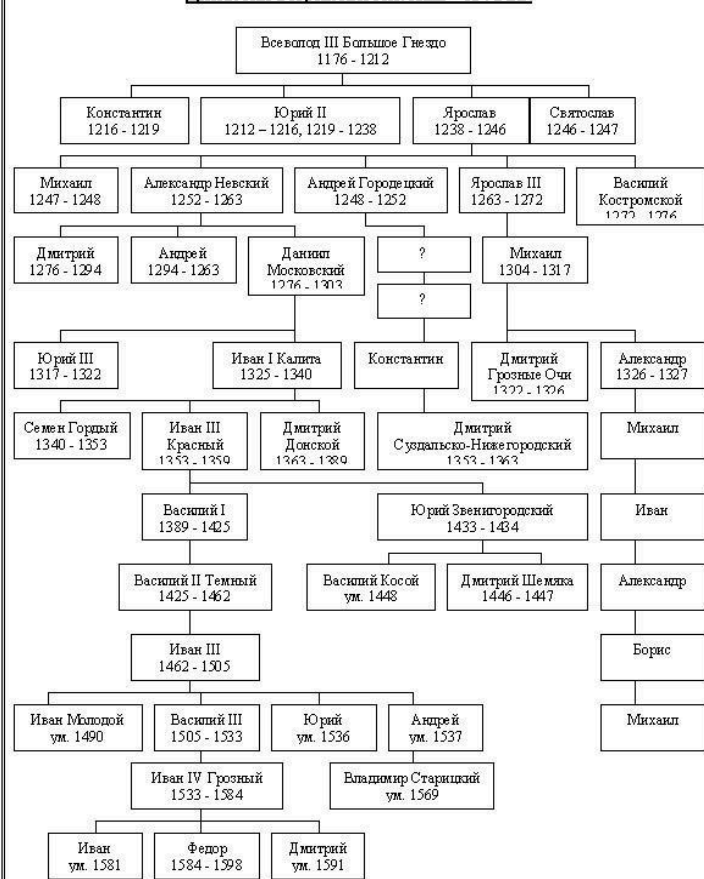
Фамилия, имя:

Класс:

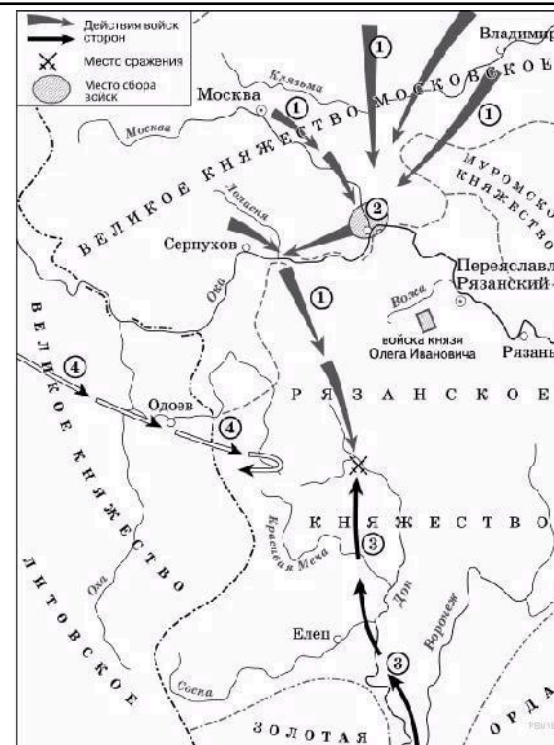
1. Работа со схемой

	Задания:	Выполнение
1.	Закрасьте (заштрихуйте) князей, правящих в Московском княжестве (до Ивана IV)	
2.	Возле имени князя, при котором Москва становится духовным центром Руси, напишите ДЦ	
3.	Обведите имя московского князя, который первый вступил в борьбу за великое княжество Владимирское	
4.	Подчеркните имя князя, который первый передал ярлык на Великое княжение своему сыну без разрешения монголо-татар	
5.	Возле участников феодальной войны поставьте буквы ф.в.	
6.	Возле князя, при котором было свергнуто ордынское иго поставьте крестик , укажите дату свержения.	
7.	Возле князя, при котором был принят первый сборник законов единого централизованного русского государства, поставьте букву С.	

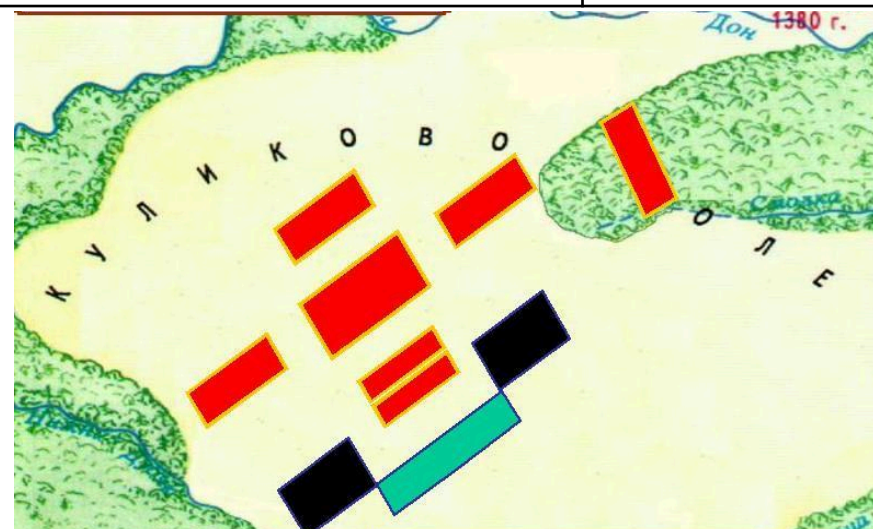
Династия Рюриковичей. XIII – XVI вв.



2. Работа с картой



1. Подпишите город, место сбора русских войск
2. На месте сражения укажите дату Куликовской битвы
3. Обведите синим название реки, где произошло сражение с монголо-татарами в 1378 году
4. Подпишите на карте, чьи войска указаны под цифрами 3 и 4
5. Подчеркните название княжеств, которые выступили на стороне монголо-татар в Куликовской битве



Условные обозначения:

1. Подпишите на карте **название полков** русских дружин и их противника
2. Укажите на схеме и подпишите ставку полководца, возглавившего монголо-татар.
3. Подпишите командующих засадным полком

	4. Стрелками укажите основные удары русских и монголо-татарских войск(не забудьте про условные обозначения)
--	---