

केन्द्रीय विद्यालय संगठन, दिल्ली संभाग
KENDRIYA VIDYALAYA SANGATHAN, DELHI REGION
प्रथम प्री बोर्ड परीक्षा 2025-26
PRE BOARD 1 Examination 2025-26

KVS(DR)/2025/SU

कक्षा-XII
Class-XII
अधिकतम अंक:80
MM:80

विषय-अर्थशास्त्र
Subject-Economics
समय:3 घंटे
Time:3 Hours

सामान्य निर्देश :

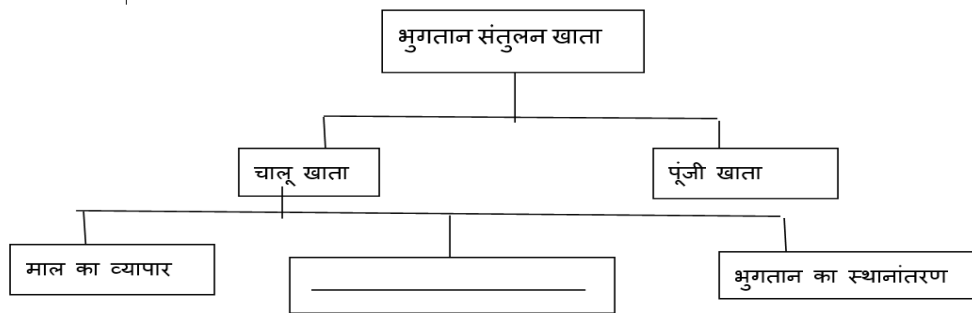
- (i) इस प्रश्न-पत्र में 34 प्रश्न हैं। सभी प्रश्न अनिवार्य हैं।
- (ii) यह प्रश्न-पत्र दो खण्डों में विभाजित है:
खण्ड-क: समष्टि अर्थशास्त्र
खण्ड-ख : भारतीय आर्थिक विकास
- (iii) इस प्रश्न-पत्र में 20 बहुविकल्पीय प्रकार के प्रश्न हैं। प्रत्येक प्रश्न 1 अंक का है।
- (iv) इस प्रश्न-पत्र में 4 लघु-उत्तरीय प्रकार-1 के प्रश्न हैं। प्रत्येक प्रश्न 3 अंकों का है। इन प्रश्नों के उत्तर 60 से 80 शब्दों में लिखे जाने चाहिए।
- (v) इस प्रश्न-पत्र में 6 लघु-उत्तरीय प्रकार-II के प्रश्न हैं। प्रत्येक प्रश्न 4 अंकों का है। इन प्रश्नों के उत्तर 80 से 100 शब्दों में लिखे जाने चाहिए।
- (vi) इस प्रश्न-पत्र में 4 दीर्घ उत्तरीय प्रकार के प्रश्न हैं। प्रत्येक प्रश्न 6 अंकों का है। इन प्रश्नों के उत्तर 100 से 150 शब्दों में लिखे जाने चाहिए।
- (vii) प्रत्येक प्रश्न के सभी भागों के उत्तर एक साथ लिखे जाने चाहिए।
- (viii) इसके अतिरिक्त, ध्यान दें कि दृष्टिबाधित परीक्षार्थियों के लिए चित्र तथा मानचित्र आदि आधारित प्रश्नों के स्थान पर एक अन्य प्रश्न दिया गया है। इन प्रश्नों के उत्तर केवल दृष्टिबाधित परीक्षार्थी ही लिखें।
- (ix) प्रश्न-पत्र में कोई समग्र विकल्प नहीं है। यद्यपि कुछ प्रश्नों में आंतरिक विकल्प का प्रावधान दिया गया है। इन प्रश्नों में से केवल एक ही प्रश्न का उत्तर लिखा जाए।

General Instructions:

- (i) This question paper contains 34 questions. All questions are compulsory.
- (ii) This question paper contains two sections:
SectionA: Macro Economics
Section-B: Indian Economic Development
- (iii) This Question paper contains 20 Multiple Choice type questions. Each question carries 1 mark.
- (iv) This Question paper contains 4 Short Answer Type-I questions. Each question carries 3 marks.
Answer these questions in 60 to 80 words.
- (v) This Question paper contains 6 Short Answer Type-II questions. Each question carries 4 marks.
Answer these questions in 80 to 100 words.
- (vi) This Question paper contains 4 Long Answer type questions. Each question carries 6 marks.
Answer these questions in 100 to 150 words.
- (vii) Attempt all parts of a question together.
- (viii) In addition to this, NOTE that a separate question has been provided for Visually Impaired candidates in lieu of questions having visual inputs, map etc. Such questions are to be attempted by Visually Impaired candidates only.
- (ix) There is no overall choice in the question paper. However, an internal choice has been provided in few questions. Only one of the choices in such questions has to be attempted.

Q. NO.	समष्टि अर्थशास्त्र MACRO ECONOMICS	MAR KS																								
1	<p>वर्ष 2025-26 में वास्तविक सकल घरेलू उत्पाद ₹175 लाख करोड़ के स्तर तक पहुँचने का अनुमान है। इसी वर्ष मौद्रिक सकल घरेलू उत्पाद ₹350 लाख करोड़ रहने का अनुमान है। दिए गए आँकड़ों के आधार पर, GDP अवस्फीतिक का मान _____ होगा।</p> <p>a) 100 b) 200 c) 300 d) 150</p> <p>Real GDP is estimated to attain a level of ₹175 lakh crore in the year 2025-26. The corresponding Nominal GDP is estimated to stand at ₹350 lakh crore in the same year. On the basis of the given data, the value of GDP deflator would be _____.</p> <p>a) 100 b) 200 c) 300 d) 150</p>	1																								
2	<p>दी गई जानकारी के आधार पर, मुद्रा आपूर्ति (M1) ₹ _____ होगी।</p> <table border="1"> <thead> <tr> <th>क्रम संख्या</th><th>घटक</th><th>राशि (करोड़ रुपये में)</th></tr> </thead> <tbody> <tr> <td>i</td><td>जनता द्वारा धारित मुद्रा</td><td>320</td></tr> <tr> <td>ii</td><td>वाणिज्यिक बैंकों के पास शुद्ध मांग जमा</td><td>260</td></tr> <tr> <td>iii</td><td>वाणिज्यिक बैंकों के साथ शुद्ध सावधि जमा</td><td>200</td></tr> </tbody> </table> <p>विकल्प: a) 580 b) 780 c) 520 d) 460</p> <p>On the basis of the given information, Money Supply (M1) would be ₹ _____.</p> <table border="1"> <thead> <tr> <th>S.NO.</th><th>Components</th><th>Amount (in ₹ crore)</th></tr> </thead> <tbody> <tr> <td>i</td><td>Currency held by public</td><td>320</td></tr> <tr> <td>ii</td><td>Net Demand Deposit with Commercial Banks</td><td>260</td></tr> <tr> <td>iii</td><td>Net Time Deposit with Commercial Banks</td><td>200</td></tr> </tbody> </table> <p>Options: a) 580 b) 780 c) 520 d) 460</p>	क्रम संख्या	घटक	राशि (करोड़ रुपये में)	i	जनता द्वारा धारित मुद्रा	320	ii	वाणिज्यिक बैंकों के पास शुद्ध मांग जमा	260	iii	वाणिज्यिक बैंकों के साथ शुद्ध सावधि जमा	200	S.NO.	Components	Amount (in ₹ crore)	i	Currency held by public	320	ii	Net Demand Deposit with Commercial Banks	260	iii	Net Time Deposit with Commercial Banks	200	1
क्रम संख्या	घटक	राशि (करोड़ रुपये में)																								
i	जनता द्वारा धारित मुद्रा	320																								
ii	वाणिज्यिक बैंकों के पास शुद्ध मांग जमा	260																								
iii	वाणिज्यिक बैंकों के साथ शुद्ध सावधि जमा	200																								
S.NO.	Components	Amount (in ₹ crore)																								
i	Currency held by public	320																								
ii	Net Demand Deposit with Commercial Banks	260																								
iii	Net Time Deposit with Commercial Banks	200																								
3	<p>यदि केंद्रीय बैंक वैधानिक आरक्षित अनुपात 20% से बढ़कर 25% कर दिया है तो साख गुणक की गणना कीजिये ।</p> <p>If central bank increases the legal reserve ratio from 20% to 25%, calculate credit multiplier.</p>	1																								
4	<p>निम्नलिखित कथनों को पढ़िए और प्रश्न का उत्तर दीजिए।</p> <p>अभिकथन(A): पूर्ण रोजगार अनैच्छिक बेरोजगारी की अनुपस्थिति को दर्शाता है।</p> <p>कारण (R): पूर्ण रोजगार की स्थिति में, सभी इच्छुक और सक्षम लोगों को प्रचलित मजदूरी दर पर रोजगार मिलता है।</p> <p>(a) अभिकथन (A) और कारण (R) दोनों सत्य हैं और (R), (A) की सही व्याख्या है।</p> <p>(b) अभिकथन (A) और कारण (R) दोनों सत्य हैं, लेकिन (R), (A) की सही व्याख्या नहीं है।</p> <p>(c) अभिकथन (A) सत्य है और कारण (R) असत्य है।</p> <p>(d) अभिकथन (A) असत्य है और कारण (R) सत्य है।</p>	1																								

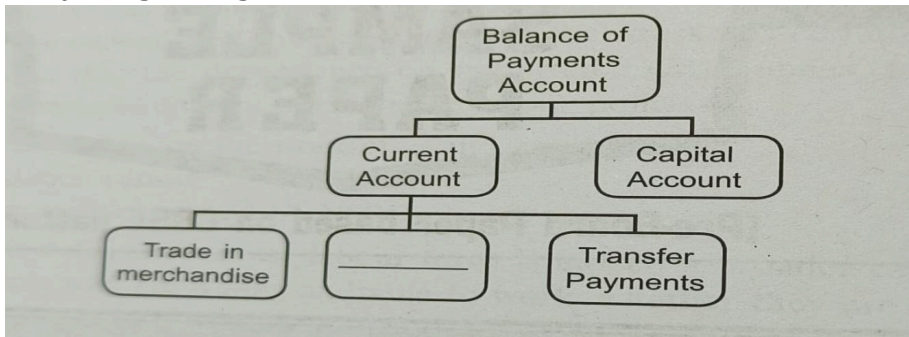
	<p>Read the following statements and answer the question</p> <p>Assertion (A): Full employment refers to absence of involuntary unemployment.</p> <p>Reason (R): Under full employment situation, all the willing and able-bodied people get employment at the prevailing wage rate.</p> <p>(a) Both Assertion (A) and Reason (R) are true and (R) is the correct explanation of (A)</p> <p>(b) Both Assertion (A) and Reason (R) are true but (R) is not the correct explanation of (A)</p> <p>(c) Assertion (A) is true and Reason (R) is false</p> <p>(d) Assertion (A) is false and Reason (R) is true</p>	
5	<p>मुद्रास्फीति अंतराल उस अंतराल को संदर्भित करता है जिससे _____ पूर्ण रोजगार संतुलन स्थापित करने के लिए आवश्यक समग्र मांग से अधिक हो जाता है।</p> <p>a) प्रत्याशित समग्र आपूर्ति b) वास्तविक समग्र मांग</p> <p>c) प्रत्याशित समग्र मांग d) वास्तविक समग्र आपूर्ति</p> <p>Inflationary gap refers to the gap by which _____ exceeds the aggregate demand required to establish full employment equilibrium.</p> <p>a) Ex-ante aggregate supply b) Ex-post aggregate demand</p> <p>c) Ex-ante aggregate demand d) Ex-post aggregate supply</p>	1
6	<p>निम्नलिखित कथनों को ध्यानपूर्वक पढ़ें:</p> <p>कथन 1: सीमांत उपभोग प्रवृत्ति (MPC) का मान सदैव एक से कम या उसके बराबर होता है।</p> <p>कथन 2: जैसे-जैसे किसी अर्थव्यवस्था की आय बढ़ती है, उपभोग के स्तर में आनुपातिक वृद्धि सदैव आय के स्तर में वृद्धि से अधिक होती है।</p> <p>दिए गए कथनों के आधार पर, निम्नलिखित में से सही विकल्प चुनिए:</p> <p>(a) कथन 1 सत्य है और कथन 2 असत्य है।</p> <p>(b) कथन 1 असत्य है और कथन 2 सत्य है।</p> <p>(c) कथन 1 और 2 दोनों सत्य हैं।</p> <p>(d) कथन 1 और 2 दोनों असत्य हैं।</p> <p>Read the following statements carefully:</p> <p>Statement 1: The value of Marginal Propensity to Consume (MPC) is always less than or equal to unity.</p> <p>Statement 2: As the income of an economy increases, the proportionate increase in the level of consumption is always more than the increase in the level of income.</p> <p>In light of the given statements, choose the correct option from the following:</p> <p>(a) Statement 1 is true and Statement 2 is false.</p> <p>(b) Statement 1 is false and Statement 2 is true.</p> <p>(c) Both Statements 1 and 2 are true.</p> <p>(d) Both Statements 1 and 2 are false.</p>	1
7	<p>यदि किसी अर्थव्यवस्था में निवेश गुणक का मूल्य 4 है और स्वायत्त उपभोग ₹30 करोड़ है, तो उपभोग फलन होगा:</p> <p>a) $C = 30 + 0.75 Y$ b) $C = -30 + 0.25 Y$</p> <p>c) $C = 30 - 0.75 Y$ d) $C = 30 - 0.25 Y$</p> <p>If in an economy, the value of investment multiplier is 4 and autonomous consumption is ₹30 crore, the consumption function would be:</p> <p>a) $C = 30 + 0.75 Y$ b) $C = -30 + 0.25 Y$</p> <p>c) $C = 30 - 0.75 Y$ d) $C = 30 - 0.25 Y$</p>	1
8	चित्र में रिक्त स्थान भरने के लिए सही विकल्प चुनिए	1



विकल्प:

- (a) विनियोग (b) सेवाओं का व्यापार
(c) बाह्य उधार (d) बाह्य सहायता

Study the given figure and choose the correct alternative to fill in the blank



Alternatives:

- (a) Investment (b) Trade of services
(c) External borrowings (d) External assistance

नोट: प्रश्न 8 के स्थान पर निम्नलिखित प्रश्न केवल दृष्टिबाधित अभ्यर्थियों के लिए है,।

_____ खाता उस खाते को संदर्भित करता है जो किसी निश्चित अवधि के दौरान वस्तुओं और सेवाओं के निर्यात और आयात तथा एकपक्षिये हस्तांतरण को रिकॉर्ड करता है।

Note: the following question is for the visually impaired candidates only, in lieu of Q.8

_____ account of a country refers to an account which records exports and imports of goods and services and unilateral transfers during a given period of time.

9

कॉलम I और कॉलम II में दिए गए कथनों के सही युग्म की पहचान कीजिए:

कॉलम I	कॉलम II
1. विदेश से धन प्रेषण	i) समायोजित लेनदेन
2. सरकार विदेशी मुद्रा की तुलना में देश की मुद्रा का मूल्य कम कर रही है	ii) अवमूल्यन
3. दृश्य निर्यात और दृश्य आयात के बीच अंतर	iii) भुगतान संतुलन
4. विदेशी विनिमय दरों के निर्धारण का एकमात्र प्राधिकारी सरकार	iv) तिरती विनिमय दर प्रणाली

Identify the correct pair of statements given in Column I and Column II:

1

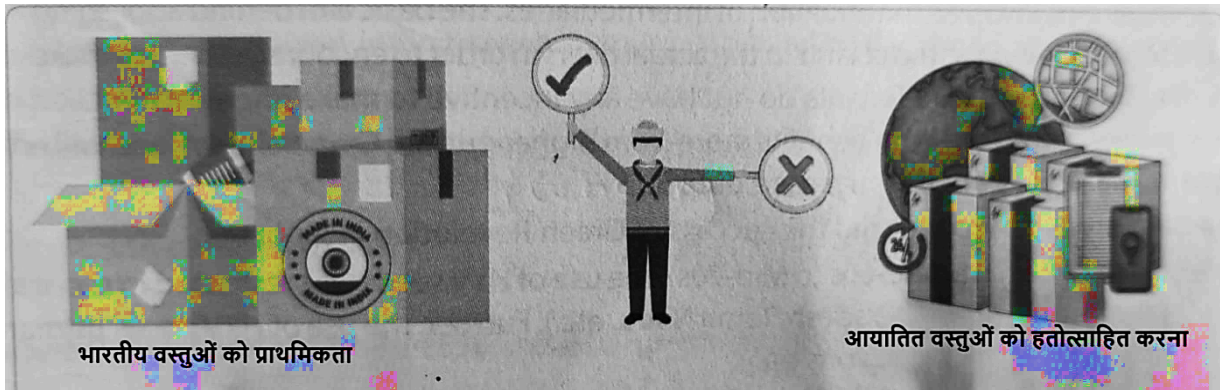
	<table><tr><th>Column I</th><th>Column II</th></tr><tr><td>1.Remittance from abroad</td><td>i) Accommodating transaction</td></tr><tr><td>2. Government decreasing the value of nation's currency against foreign currency</td><td>ii)Devaluation</td></tr><tr><td>3.Difference between visible exports and visible imports.</td><td>iii) Balance of payments</td></tr><tr><td>4.Government as sole authority of determining foreign exchange rates</td><td>iv)Flexible exchange rate system</td></tr></table>	Column I	Column II	1.Remittance from abroad	i) Accommodating transaction	2. Government decreasing the value of nation's currency against foreign currency	ii)Devaluation	3.Difference between visible exports and visible imports.	iii) Balance of payments	4.Government as sole authority of determining foreign exchange rates	iv)Flexible exchange rate system									
Column I	Column II																			
1.Remittance from abroad	i) Accommodating transaction																			
2. Government decreasing the value of nation's currency against foreign currency	ii)Devaluation																			
3.Difference between visible exports and visible imports.	iii) Balance of payments																			
4.Government as sole authority of determining foreign exchange rates	iv)Flexible exchange rate system																			
10	<p>अन्य कारकों को स्थिर रखते हुए, यदि अंतर्राष्ट्रीय बाजार में कच्चे तेल की कीमतों में गिरावट आती है, तो इससे _____ हो सकता है।</p> <p>a) व्यापार घाटे में वृद्धि b) व्यापार घाटे में कमी</p> <p>b) व्यापार घाटे में कोई परिवर्तन नहीं d) विदेशी मुद्रा भंडार में कोई परिवर्तन नहीं</p> <p>Keeping other factors constant, if the price of crude oil falls in the international market, it may lead to _____.</p> <p>a) Increase in trade deficit b) decrease in trade deficit</p> <p>b) No change in trade deficit d) No change in foreign exchange reserve</p>	1																		
11	<p>एक काल्पनिक अर्थव्यवस्था के लिए, मान लीजिए कि केवल दो फर्म (A और B) हैं जिनका सकल मूल्य वर्धन (GVA) समान है।</p> <p>निम्नलिखित आँकड़ों के आधार पर, फर्म A की घरेलू बिक्री का मूल्य अनुमानित कीजिए:</p> <table><tr><th>क्रम संख्या</th><th>मद</th><th>राशि (करोड़ रुपये)</th></tr><tr><td>i</td><td>फर्म B के उत्पादन का मूल्य</td><td>1000</td></tr><tr><td>ii</td><td>फर्म A द्वारा फर्म B से क्रय</td><td>300</td></tr><tr><td>iii</td><td>फर्म A द्वारा निर्यात</td><td>200</td></tr><tr><td>iv</td><td>फर्म B द्वारा फर्म A से क्रय</td><td>250</td></tr><tr><td>v</td><td>फर्म A के स्टॉक में वृद्धि</td><td>150</td></tr></table> <p style="text-align: center;">अथवा</p> <p>विदेश से शुद्ध कारक आय (NFIA) और शुद्ध निर्यात (X-M) के बीच अंतर स्पष्ट करें।</p>	क्रम संख्या	मद	राशि (करोड़ रुपये)	i	फर्म B के उत्पादन का मूल्य	1000	ii	फर्म A द्वारा फर्म B से क्रय	300	iii	फर्म A द्वारा निर्यात	200	iv	फर्म B द्वारा फर्म A से क्रय	250	v	फर्म A के स्टॉक में वृद्धि	150	3
क्रम संख्या	मद	राशि (करोड़ रुपये)																		
i	फर्म B के उत्पादन का मूल्य	1000																		
ii	फर्म A द्वारा फर्म B से क्रय	300																		
iii	फर्म A द्वारा निर्यात	200																		
iv	फर्म B द्वारा फर्म A से क्रय	250																		
v	फर्म A के स्टॉक में वृद्धि	150																		

	<p>For a hypothetical economy, assuming there are only two firms (A and B). Gross Value Added (GVA) of both firms are equal.</p> <p>On the basis of the following data, estimate the value of domestic sales of firm A:</p> <table border="1"> <thead> <tr> <th>S.NO.</th><th>Items</th><th>Amount (₹ crore)</th></tr> </thead> <tbody> <tr> <td>i</td><td>Value of output of firm B</td><td>1000</td></tr> <tr> <td>ii</td><td>Purchase by Firm A from Firm B</td><td>300</td></tr> <tr> <td>iii</td><td>Export by Firm A</td><td>200</td></tr> <tr> <td>iv</td><td>Purchase by Firm B from Firm A</td><td>250</td></tr> <tr> <td>v</td><td>Addition to stocks of Firm A</td><td>150</td></tr> </tbody> </table> <p style="text-align: center;">OR</p> <p>Distinguish between Net Factor Income from Abroad (NFIA) and Net Export (X-M).</p>	S.NO.	Items	Amount (₹ crore)	i	Value of output of firm B	1000	ii	Purchase by Firm A from Firm B	300	iii	Export by Firm A	200	iv	Purchase by Firm B from Firm A	250	v	Addition to stocks of Firm A	150	
S.NO.	Items	Amount (₹ crore)																		
i	Value of output of firm B	1000																		
ii	Purchase by Firm A from Firm B	300																		
iii	Export by Firm A	200																		
iv	Purchase by Firm B from Firm A	250																		
v	Addition to stocks of Firm A	150																		
12	<p>‘विदेशी पोर्टफोलियो विनियोग (FPI) में 2023-24 के दौरान तीव्र बदलाव देखा गया, जिसमें शुद्ध FPI अंतर्वाह US \$32.4billion रहा।’ उपरोक्त लेनदेन किस उप-खाते में और भुगतान संतुलन खाते के किस पक्ष में दर्ज किया जाएगा? अपने उत्तर के समर्थन में कारण बताइए।</p> <p>‘Foreign Portfolio Investment (FPI) witnessed a sharp turnaround during 2023-24 with net FPI inflows of US \$32.4billion.’ In which sub- account and on which side of the Balance of Payments account the above transaction will be recorded? Give reasons to support of your answer.</p>	3																		
13	<p>भारतीय रिजर्व बैंक द्वारा निष्पादित ‘बैंको का बैंक और पर्यवेक्षक’ कार्य की व्याख्या कीजिए।</p> <p>Explain the ‘Banker’s Bank and Supervisor’ function performed by the Reserve Bank of India.</p>	4																		
14	<p>यदि एक अर्थव्यवस्था संतुलन में है तो निम्नलिखित आँकड़ों से निवेश व्यय की गणना कीजिए:</p> <p>राष्ट्रीय आय (Y) = ₹ 10,000 सीमांत उपभोग प्रवृत्ति (MPC) = 0.8 स्वायत्त उपभोग (C) = ₹100 करोड़</p> <p style="text-align: center;">अथवा</p> <p>‘अतिरेक माँग’ क्या है? अतिरेक माँग को सुधारने के लिए ‘रिवर्स रेपो रेट’ की भूमिका को स्पष्ट कीजिये।</p> <p>If an economy is in equilibrium, then calculate investment expenditure from the following data National Income (Y) = ₹ 10,000 Marginal Propensity to Consume (MPC) = 0.8 Autonomous Consumption (C) = ₹100 crore</p> <p style="text-align: center;">OR</p> <p>What is ‘Excess demand’? Explain the role of ‘Reverse Repo Rate’ to correct it?</p>	4																		
15	<p>जब प्रत्याशित बचत प्रत्याशित निवेश से कम हो तो समायोजन तंत्र की व्याख्या कीजिए।</p> <p>Explain the adjustment mechanism when ex-ante savings are less than ex-ante investments.</p>	4																		
16	<p>(A) (i) किसी देश के घरेलू उत्पाद का आकलन करते समय निम्नलिखित मदों को किस प्रकार दर्शाएँगे? अपने उत्तर के लिए कारण बताइए:</p> <p>a) अन्य देशों में SBI की शाखाओं द्वारा अर्जित लाभ। b) दिवाली पर एक नियोक्ता द्वारा अपने कर्मचारियों को दिए गए उपहार। c) विदेशी पर्यटकों द्वारा वस्तुओं की खरीद।</p> <p>(ii) राष्ट्रीय आय के आकलन में दोहरी गणना की समस्या से आप क्या समझते हैं? इस समस्या से बचने के दो वैकल्पिक उपाय बताइए।</p> <p style="text-align: center;">अथवा</p> <p>(B) (i) ‘फ्लाईओवर के निर्माण पर सार्वजनिक निवेश से यातायात की भीड़ कम हो सकती है।’ दिए गए कथन के आधार पर, किसी अर्थव्यवस्था में सकल घरेलू उत्पाद और कल्याण पर संभावित प्रभाव की व्याख्या कीजिए।</p> <p>(ii) आय के वर्तुल प्रवाह की तीन अवस्थाओं का वर्णन कीजिए।</p> <p>(A)(i) How will the following item be treated while estimating domestic product of a country? Give reasons for your answer:</p> <p>a) Profits earned by branches of SBI in other countries. b) Gifts given by an employer to his employees on Diwali</p>	3+3																		

	<p>c) Purchase of goods by foreign tourist.</p> <p>(ii) What do you understand by the problem of double counting in estimating national income? Explain two alternative ways to avoiding this problem.</p> <p style="text-align: center;">OR</p> <p>(B) (i) 'The public investment on the construction of flyover may reduce traffic congestion.' On the basis of the given statement, explain the likely impact on GDP and welfare in an economy.</p> <p>(ii) Describe the three phases of circular flow of Income.</p>	
17	<p>दिए गए अंश को ध्यानपूर्वक पढ़ें:</p> <p>“जीएसटी 2.0: केंद्र ने 5% और 18% के दो मुख्य स्लैब प्रस्तावित किए हैं। केंद्र द्वारा जारी जीएसटी के दूसरे संस्करण के ब्लूप्रिंट में आम उपयोग की वस्तुओं के लिए 5% और अन्य वस्तुओं के लिए 18% के दो मुख्य स्लैब प्रस्तावित हैं, जबकि 12% और 28% के स्लैब को समाप्त करने की योजना है।”</p> <p>स्रोत- टाइम्स ऑफ इंडिया, दिनांक: 15-08-2025</p> <p>दिए गए अंश के आधार पर निम्नलिखित प्रश्नों के उत्तर दीजिए:</p> <p>a) जीएसटी को राजस्व प्राप्ति या पूंजीगत प्राप्ति के रूप में वर्गीकृत करें। अपने उत्तर के समर्थन में कारण बताइए।</p> <p>b) सरकार आय के पुनर्वितरण के उद्देश्य को प्राप्त करने के लिए बजट को एक उपकरण के रूप में कैसे उपयोग कर सकती है?</p> <p>Refer to the given text carefully:</p> <p>“GST 2.0: Centre proposes 2 main slabs of 5% & 18%”</p> <p>The blueprint of the second versions of GST circulated by the Centre proposes two main slabs of 5% for items of common use and 18% for other goods, while planning to scrap the 12% and 28% slabs.”</p> <p>Source- Times of India, Date:15-08-2025</p> <p>On the basis of the given text, answer the following questions:</p> <p>a) Categorise GST as revenue receipt or capital receipt. Give reason to support your answer.</p> <p>b) How can government use budget as a tool to attain the objective of redistribution of income?</p>	3+3
	<p>खंड ख SECTION - B</p> <p>(भारतीय आर्थिक विकास)</p> <p>INDIAN ECONOMIC DEVELOPMENT</p>	
18	<p>निम्नलिखित कथनों को पढ़िए और प्रश्न का उत्तर दीजिए।</p> <p>अभिकथन(A): ब्रिटिश शासन के दौरान भारत एक सुदृढ़ औद्योगिक आधार विकसित नहीं कर सका।</p> <p>कारण (R): अंग्रेजों ने प्रतिबंधात्मक व्यापार नीतियों का पालन किया, जिससे भारतीय हस्तशिल्प उद्योग मजबूत हुआ।</p> <p>a) अभिकथन(A) और कारण (R) दोनों सत्य हैं और कारण (R), अभिकथन (A) की सही व्याख्या है।</p> <p>b) अभिकथन (A) और कारण (R) दोनों सत्य हैं, लेकिन कारण (R), अभिकथन (A) की सही व्याख्या नहीं है।</p> <p>c) अभिकथन (A) सत्य है और कारण (R) असत्य है।</p> <p>d) अभिकथन (A) असत्य है और कारण (R) सत्य है।</p> <p>Read the following statements and answer the question</p> <p>Assertion (A): India could not develop a sound industrial base during the British rule.</p> <p>Reason (R): Britishers followed restrictive trade policies, which strengthened Indian handicraft industries.</p> <p>(a) Both Assertion (A) and Reason (R) are true and Reason (R) is the correct explanation of Assertion (A)</p> <p>(b) Both Assertion (A) and Reason (R) are true but (R) is not the correct explanation of Assertion (A)</p> <p>(c) Assertion (A) is true and Reason (R) is false</p> <p>(d) Assertion (A) is false and Reason (R) is true</p>	1

19 नीचे दी गई छवि में दिखाई गई नीति को _____ व्यापार रणनीति के रूप में जाना जाता है।

1




विकल्प:

- a) अंतर्मुखी व्यापार नीति b) आयात प्रतिस्थापन
c) निर्यात संवर्धन d) a) और b) दोनों

नोट: प्रश्न 19 के स्थान पर निम्नलिखित प्रश्न केवल दृष्टिबाधित अभ्यर्थियों के लिए है:

_____ नीति का उद्देश्य प्रथम सात पंचवर्षीय योजनाओं के दौरान अपनाई गई घरेलू उत्पादन द्वारा आयात के प्रतिस्थापन पर है।

The policy identified in the image below is known as _____ trade strategy.



Options:


- a) Inward looking trade policy b) Import substitution
c) Export promotion d) Both a) & b)

Note: the following question is for the visually impaired candidates only, in lieu of Q.19
_____ policy aims at replacement of imports by domestic production followed during first seven five-year plan.

20 कॉलम II में दिए गए विकल्पों का सही क्रम कॉलम I में दिए गए संबंधित मदों से मिलान करके पहचानिए।

1

कॉलम I	कॉलम II
a) भारत में आर्थिक सुधारों की शुरुआत	1995
b) विश्व व्यापार संगठन की स्थापना	2017
c) भारत में विमुद्रीकरण	2016
d) वस्तु एवं सेवा कर लागू हुआ	1991

	<p>ii) The policy of dual pricing was adopted iii) The government revoked the policy of special economic zones Alternatives: a) Only (i) b) Only (ii) c) Only (i) & (ii) d) Only (i), (ii) & (iii)</p>	
27	<p>निम्नलिखित कथनों को ध्यानपूर्वक पढ़ें: कथन 1: भारत और पाकिस्तान दोनों ने बिना किसी बाहरी दबाव के अपने आर्थिक सुधार शुरू किए। कथन 2: भारत और पाकिस्तान ने मिश्रित अर्थव्यवस्था अपनाई। दिए गए कथनों के आधार पर, निम्नलिखित में से सही विकल्प चुनिए: (a) कथन 1 सत्य है और कथन 2 असत्य है। (b) कथन 1 असत्य है और कथन 2 सत्य है। (c) कथन 1 और 2 दोनों सत्य हैं। (d) कथन 1 और 2 दोनों असत्य हैं।</p> <p>Read the following statements carefully: Statement 1: Both India and Pakistan initiated their economic reforms without any external pressure. Statement 2: India and Pakistan followed mixed economy. In light of the given statements, choose the correct option from the following: (a) Statement 1 is true and Statement 2 is false. (b) Statement 1 is false and Statement 2 is true. (c) Both Statements 1 and 2 are true. (d) Both Statements 1 and 2 are false.</p>	1
28	<p>“अमिता 12 कर्मचारियों वाली एक निजी फर्म में एक नियमित कर्मचारी है।” वह किस क्षेत्र में कार्यरत है, औपचारिक/अनौपचारिक ? अनौपचारिक क्षेत्र की दो विशेषताओं को लिखिए । अथवा सतत पौषणीय विकास से क्या तात्पर्य है? सतत पौषणीय विकास प्राप्त करने के लिए कोई दो रणनीतियाँ बताइए।</p> <p>“Amita is a regular worker in a private firm with 12 hired workers.” Is she working in formal/informal sector? Write two features of informal sector. OR What is meant by sustainable development? State any two strategies to attain sustainable development.</p>	1+2
29	<p>कृषि विविधीकरण किस प्रकार स्थायी आजीविका को बढ़ावा देता है? How does agricultural diversification promote sustainable livelihood?</p>	3
30	<p>a) 1991 में नई आर्थिक नीति (एनईपी) के तहत भारत सरकार द्वारा शुरू किए गए नीतिगत उपाय की पहचान करिए और परिभाषा दीजिए। b) चित्र में दर्शाई गई नीति के अर्थव्यवस्था में किन्हीं दो उपयोगों का वर्णन कीजिये ।</p>  <p>a) Identify and define the policy measure initiated by the Indian government under the New Economic Policy (NEP) in 1991. b) Describe the two ways in which the policy depicted above can be useful for economy.</p> <p>नोट: प्रश्न 30 के स्थान पर निम्नलिखित प्रश्न केवल दृष्टिबाधित अभ्यर्थियों के लिए हैं:</p>	2+2

	<p>Note: The following question is for the visually impaired candidates only, in lieu of Q.30</p> <p>1991 में किए गए किन्हीं चार औद्योगिक क्षेत्र सुधारों का वर्णन कीजिए।</p> <p>Describe any four industrial sector reform undertaken in 1991.</p>																						
31	<p>“निवेश, नवाचार और मेक इन इंडिया का सबसे अच्छा समय: प्रधानमंत्री मोदी” स्रोत: टाइम्स ऑफ इंडिया, 09-10-2025</p> <p>भारत में नियोजन प्रक्रिया के उद्देश्य के रूप में 'आत्मनिर्भरता' को चुनने के पीछे क्या तर्क था? यह आज भी कैसे महत्वपूर्ण है?</p> <p>अथवा</p> <p>भारत में हरित क्रांति के दो गुण और दो अवगुण की व्याख्या कीजिये।</p> <p>“Best time to invest, innovate and Make in India : PM Modi” Source: Times of India, 09-10-2025</p> <p>What was the rationale behind choosing ‘self reliance’ as an objective for the planning process in India? How is it significant even today?</p> <p>OR</p> <p>Describe two merits and two demerits of green revolution in India.</p>	4																					
32	<p>a) स्वतंत्रता-पूर्व भारत में अंग्रेजों द्वारा किए गए व्यवस्थित विऔद्योगीकरण के पीछे दोहरा उद्देश्य क्या था?</p> <p>b) भारत की स्वतंत्रता-पूर्व व्यावसायिक संरचना की प्रमुख विशेषताओं पर प्रकाश डालिए।</p> <p>a) What was the two-fold motive behind the systematic de-industrialisation effected by the British in pre-independent India?</p> <p>b) Highlight the salient features of India’s pre-independence occupational structure.</p>	2+2 =4																					
33	<p>A) i) 'हाल के दिनों में, भारतीय अर्थव्यवस्था ने कार्यबल के अनियतिकरण की समस्या का अनुभव किया है।' क्या आप इस कथन से सहमत हैं? दिए गए कथन का अवलोकन करें और किन्हीं तीन कमियों का उल्लेख कीजिए।</p> <p>ii) सूक्ष्म-ऋण कार्यक्रम (स्वयं सेवी समूह) औपचारिक ऋण प्रणाली में मौजूद कमियों को कैसे पूरा करते हैं?</p> <p>अथवा</p> <p>B) i) औद्योगिक क्रांति के बाद आपूर्ति-माँग संबंध में उलटाव के रूप में पर्यावरणीय क्षरण की व्याख्या कीजिए।</p> <p>ii) विकासशील भारत के सपने को साकार करने के लिए महिला शिक्षा क्यों आवश्यक है?</p> <p>A) i) ‘In recent times, the Indian economy has experienced the problem of casualisation of workforce.’ Do you agree with the statement? Mention any three disadvantages in the light of the given statement.</p> <p>ii) How do micro-credit programmes (Self-Help Groups) help to fill in the gaps in the formal credit system?</p> <p>OR</p> <p>B) i) Explain environmental degradation as reversal of supply-demand relationship after industrial revolution.</p> <p>ii) Why is Women’s education essential to realise the dream of Viksit Bharat?</p>	3+3																					
34	<p>a) दिए गए डेटा की तुलना और विश्लेषण करें।</p> <div><p>कुछ चुने हुए जनांकिकीय संकेतक, 2022</p><table><tr><th>देश</th><th>अनुमानित जनसंख्या (मिलियन में) (2018)</th><th>जनसंख्या की वार्षिक संवृद्धि (2018)</th><th>जनसंख्या का घनत्व (प्रति वर्ग कि.मी.) (2018)</th><th>लिंग अनुपात (2018)</th><th>प्रजनन दर (2017)</th><th>नगरीकरण (2018)</th></tr><tr><td>भारत</td><td>1412</td><td>0.68</td><td>473</td><td>938</td><td>2.0</td><td>36</td></tr><tr><td>चीन</td><td>1417</td><td>-0.01</td><td>150</td><td>959</td><td>1.2</td><td>65</td></tr></table></div>	देश	अनुमानित जनसंख्या (मिलियन में) (2018)	जनसंख्या की वार्षिक संवृद्धि (2018)	जनसंख्या का घनत्व (प्रति वर्ग कि.मी.) (2018)	लिंग अनुपात (2018)	प्रजनन दर (2017)	नगरीकरण (2018)	भारत	1412	0.68	473	938	2.0	36	चीन	1417	-0.01	150	959	1.2	65	3+3
देश	अनुमानित जनसंख्या (मिलियन में) (2018)	जनसंख्या की वार्षिक संवृद्धि (2018)	जनसंख्या का घनत्व (प्रति वर्ग कि.मी.) (2018)	लिंग अनुपात (2018)	प्रजनन दर (2017)	नगरीकरण (2018)																	
भारत	1412	0.68	473	938	2.0	36																	
चीन	1417	-0.01	150	959	1.2	65																	

b) चीन में “एक संतान नीति” के कोई दो आर्थिक निहितार्थ लिखिए।

a) Compare and analyse the given data

Select Demographic Indicators, 2022

Country	Estimated Population (in million)	Annual Growth of Population	Density (per sq. km)	Sex Ratio	Fertility Rate	Urbanisation
India	1412	0.68	473	938	2.0	36
China	1417	-0.01	150	959	1.2	65
Pakistan	236	1.89	300	982	3.4	38

Source: World Development Indicators 2024, <https://datatopics.worldbank.org/world-development-indicators/>

b) Write any two economic implications of One Child Policy' in China?