

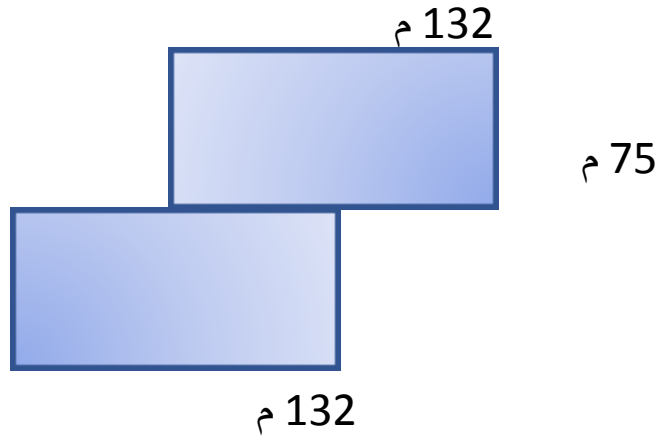
المرببة
إنتصار غريب

أحسب قيس محيط شكل مركب من
مستطيلات ومربعات

المدرسة الإبتدائية
عين مزيف

النشاط عدد1:

يملك فلاح قطعة أرض كما يبينه الرسم التآلي:
أراد وضع سياج لهذه الأرض




- 1- ألون سياج الأرض بالأحمر
- 2- أكمل كتابة قيس الأضلاع
- 3- أحسب طول السياج بالمتر

.....
.....
.....

النشاط عدد1:

يملك فلاح قطعة أرض كما يبينه الرسم التآلي:
أراد وضع سياج لهذه الأرض



- 1- ألون سياج الأرض بالأحمر
- 2- أكمل كتابة قيس الأضلاع
- 3- أحسب طول السياج بالمتر

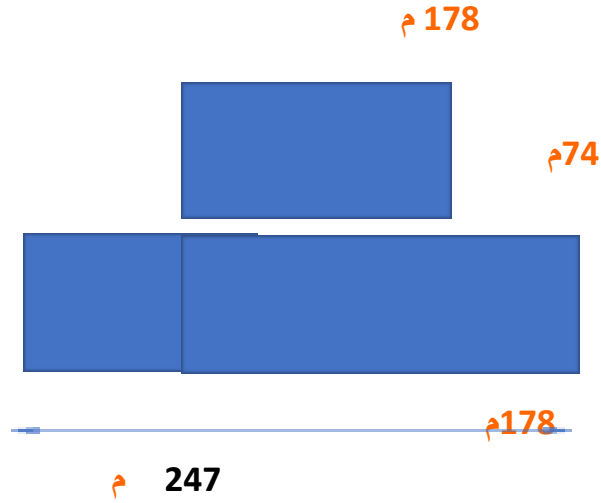
.....

.....

.....

النشاط عدد3:

يملك فلاح قطعة أرض كما يبينه الرسم التالي:
أراد وضع سياج لهذه الأرض



- 1- ألون سياج الأرض بالأحمر
- 2- أكمل كتابة قيس الأضلاع
- 3- أحسب طول السياج بالمتر

.....

.....

.....

