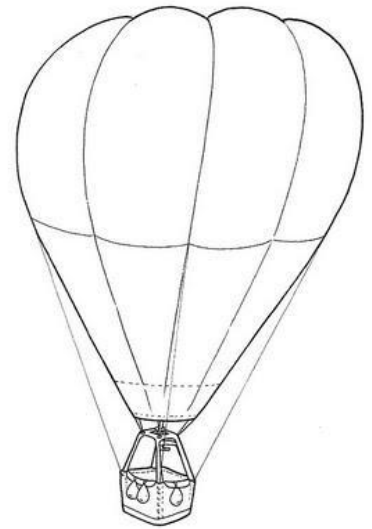
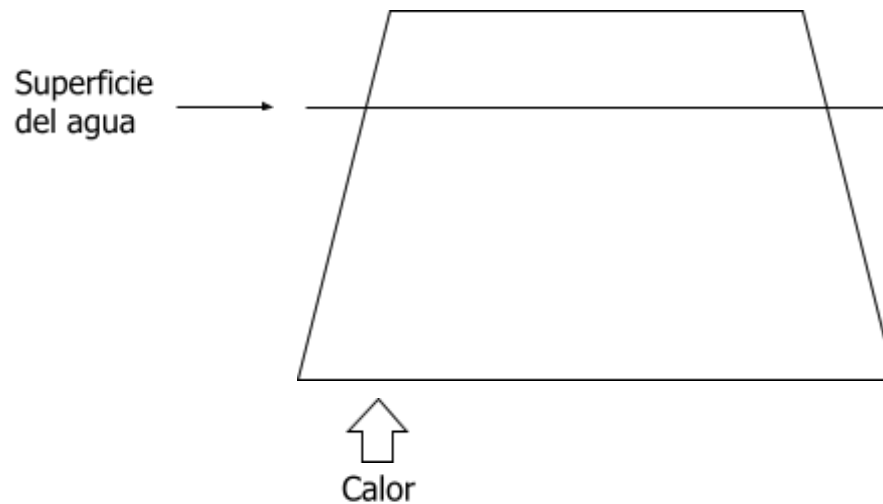


EL MOTOR QUE MUEVE LAS PLACAS

1.- Explica porqué un globo con aire caliente sube hacia arriba

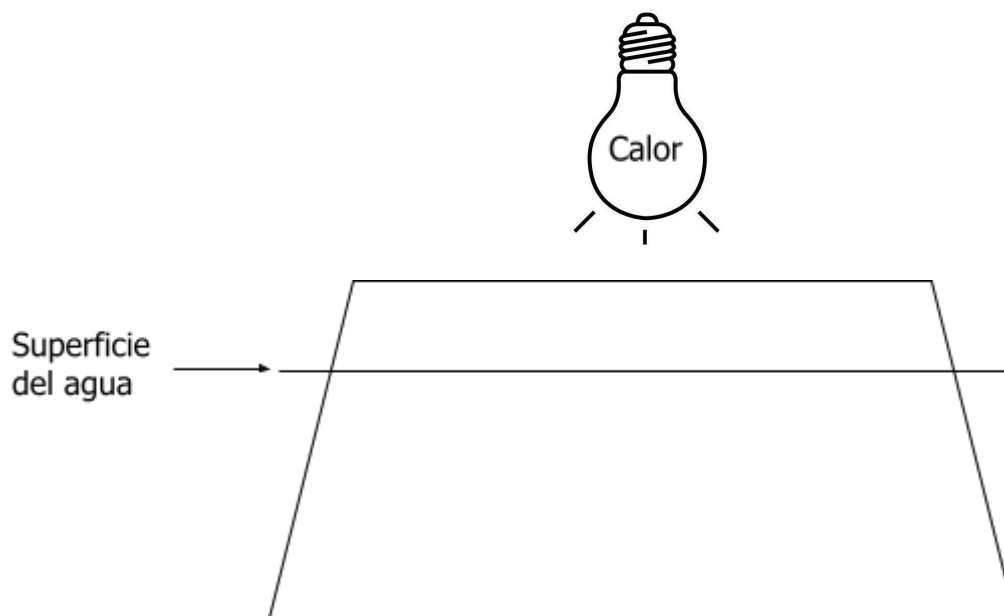


2.- Dibuja la circulación que se produce en un modelo de agua con una llama debajo



3.- ¿Qué relación tienen entre si los dos fenómenos anteriores?

4.- ¿Qué efecto produciría una fuente de calor encima de un recipiente con agua fría?



5.- ¿Qué relación pueden tener estos fenómenos con la Astenosfera y las placas tectónicas?
Haz un dibujo que represente los movimientos que se producen.