





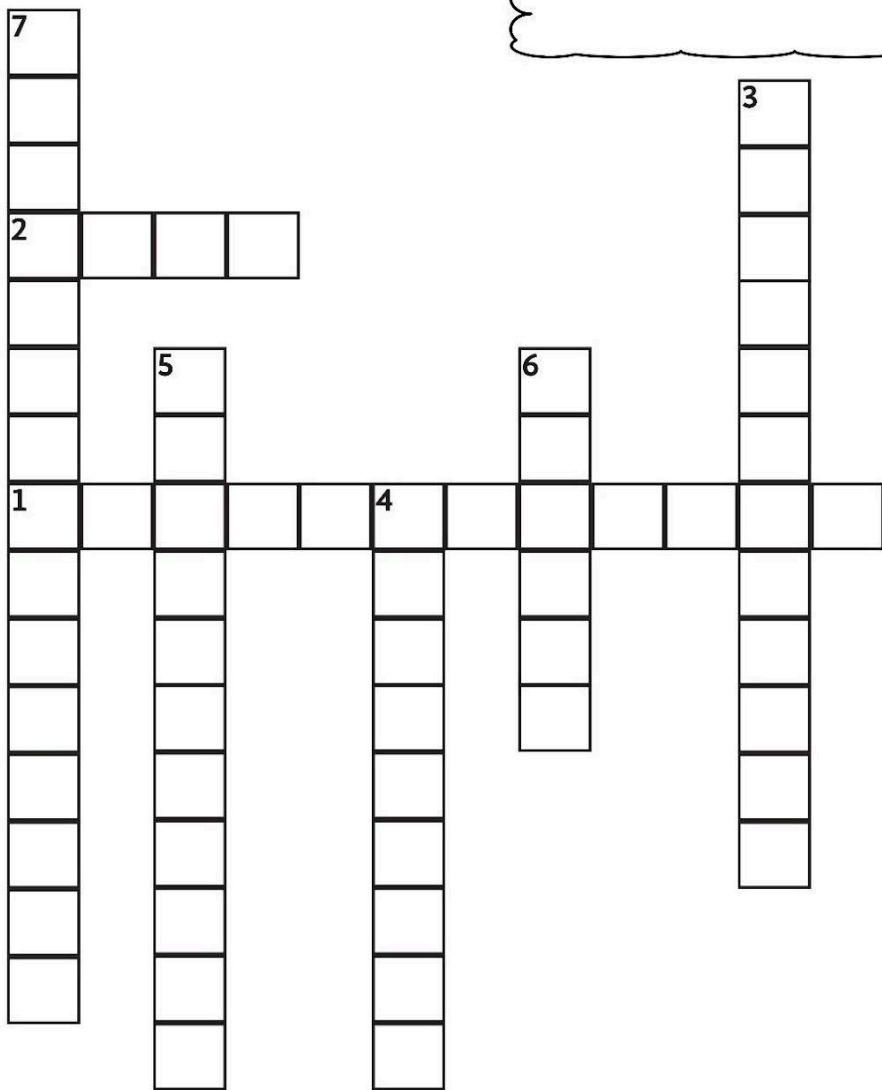
# COMPLETA el siguiente crucigrama.

## Los cuentos de terror

### Horizontal

1. Parte inicial de la historia.
2. Es donde se genera el conflicto.

Para aprender más sobre los cuentos de terror visita el siguiente vídeo:  
<https://www.youtube.com/watch?v=BYHKMZe1WgM>



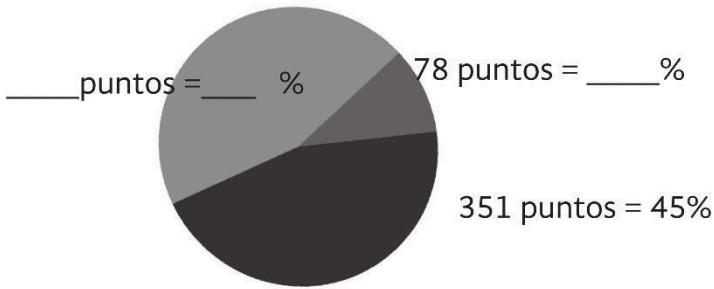
### Vertical

3. Personaje principal.
4. Solución al problema.
5. Se opone al protagonista.
6. Se derivan de los acontecimientos.
7. Sucesos que son narrados en el cuento.

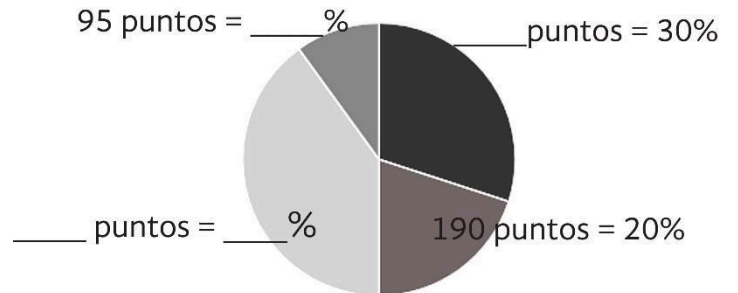


**ANALIZA** las gráficas y completa la información que falta calculando el número de puntos y su equivalencia en porcentaje. Toma en cuenta el total de puntos de cada una de las gráficas.

1. Calcula el número de puntos y su equivalencia en porcentaje en las gráficas según corresponda.

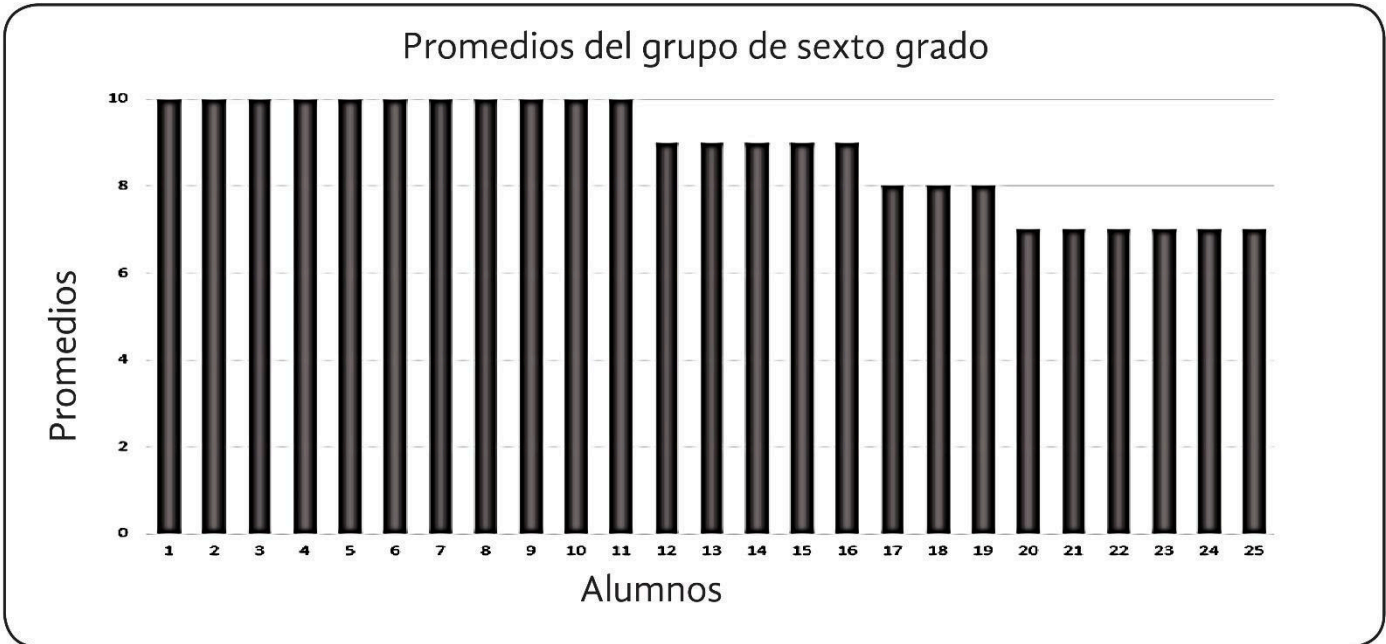


**Total de puntos 780**



**Total de puntos 950**

2. Observa la gráfica detenidamente y contesta las preguntas.



• De acuerdo a la información. ¿Cuál es el promedio final de este grupo?

---

• ¿Cuántos alumnos obtuvieron promedio de 10 y de 7?

---

• ¿Qué porcentaje del salón obtuvo promedio de 8?

---






El "efecto invernadero" es el calentamiento que se produce cuando ciertos gases de la atmósfera de la Tierra retienen el calor. Estos gases dejan pasar la luz pero mantienen el calor como las paredes de cristal de un invernadero. Este efecto invernadero es lo que hace que el clima en la Tierra sea apto para la vida.

<https://www.nationalgeographic.es/medio-ambiente/que-es-el-calentamiento-global>  
Consultado el 21/08/2019

Texto adaptado para fines didácticos MEAD.

 **MARCA dibujando un  en color rojo sobre las principales causas del calentamiento global.**



Excesiva actividad industrial.



Usar otros medios de transporte.



Informa y educa a los demás.



Reciclar



Producción excesiva de residuos.



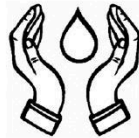
Combustibles fósiles.



Ahorrar energía eléctrica.



Deforestación.



Ahorrar agua.



Sembrar tus propios alimentos.



Uso de fertilizantes químicos.



Compartir el automóvil.

Dentro del ejercicio anterior aparecen algunas acciones que ayudan a conservar el medio ambiente, anótalas a continuación.

Si el efecto invernadero es bueno para la vida, ¿Por qué actualmente es la principal causa del calentamiento global?

¿Cuáles medios de transporte y qué otras opciones podríamos usar para disminuir el uso del combustible?



## “Los océanos en el planeta”

Las aguas oceánicas son las que rodean todos los continentes e islas. Por sus características físicas y biológicas, así como por su ubicación geográfica, esta gran masa de agua se divide en cuatro grandes océanos: Pacífico, Atlántico, Índico y Glaciar Ártico.

Libro de Atlas de Geografía del Mundo. SEP. Sexto grado. Ciclo escolar 2021-2022. p. 36.

**ILUMINA** del mismo color el concepto con su significado, sobre la dinámica de los océanos, puedes apoyarte con el libro de Atlas de Geografía del Mundo en la página 36 y 37.

Corrientes marinas	Son el ascenso y descenso periódico del mar y se debe a la atracción de la Luna y del Sol sobre la Tierra.	Mareas
Bajamar		Pleamar o marea alta
Marea con el nivel máximo de agua.	Consisten en la circulación de grandes masas de agua en el interior de éstas. Se debe a la rotación terrestre y la temperatura de las aguas oceánicas.	Marea con el nivel mínimo de agua.


## RESUELVE el siguiente crucigrama.

### Horizontal

- Zona climática que desde el ecuador hacia los trópicos, sus temperaturas son superiores a los 27°C y presentan lluvias todo el año.
- Zona climática ubicada cerca de los polos y en las partes altas de las montañas y cordilleras, tienen inviernos largos y veranos cortos.
- Se le llama así a la altura que provoca que la temperatura disminuya (haga más frío) o aumente (haga más calor).
- Son extensiones de territorio que comparten características semejantes: clima, fauna, vegetación, agua y relieve.

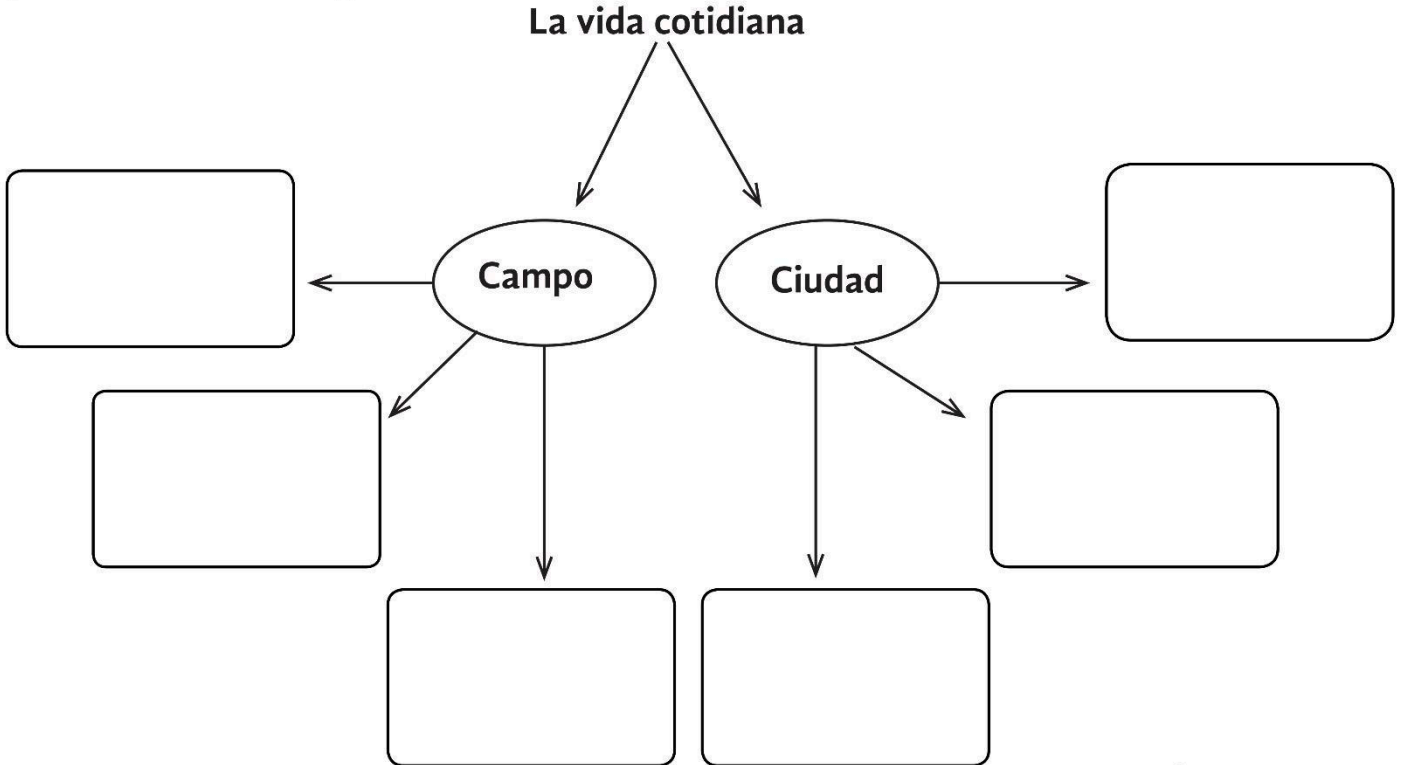
### Vertical

- Zona climática donde sus temperaturas son inferiores a 10°C la mayor parte del año y lluvias durante todos los meses.
- Zona climática con regiones áridas y desérticas, sus temperaturas son altas durante el día y bajas en la noche.
- Zona climática que se localiza en regiones húmedas con lluvias abundantes todo el año.
- Se le llama así al elemento fundamental para la conformación de las regiones naturales.



Puedes consultar tu libro de Geografía en las páginas 46 a la 51.

Completa el esquema escribiendo las características del campo y la ciudad durante la primera mitad del siglo XIX.



A. E. Investiga aspectos de la vida cultural y de la vida cotidiana del pasado y valora su importancia.

Describe brevemente la “Guerra de los pasteles”.



---

---

---

---

---

Apóyate en las siguientes preguntas:  
¿Cuándo sucedió?, ¿Por qué sucedió?, ¿Quiénes participaron?, ¿Dónde sucedió?

Colorea las frases que correspondan al tema: “Los caminos y los bandidos”.

A veces los asaltantes eran protegidos por las autoridades.

En el siglo XIX la mayoría de las personas viajaban poco.

Los caminos eran malos y los transportes incómodos.

Las diligencias eran coches pequeños y muy veloces.

Las mercancías eran transportadas en camiones de carga.

Los viajeros se hospedaban en hoteles de lujo.

En los caminos había bandidos que atacaban a los viajeros.

**VISITA:**

**<https://materialeducativo.org/>**

**&**

**<https://materialeseducativos.m>**

**X**