








**SUMATIF TENGAH SEMESTER (STS) GANJIL**  
**TAHUN PELAJARAN 2024/2025**






Mata Pelajaran	: Informatika
Fase/Semester	: Tujuh (VII)/Ganjil (1)
Hari/Tanggal	: Rabu, 2 Oktober 2024
Waktu	: 90 Menit
Butir Soal	: 50 butir

**Pilihlah jawaban yang paling benar dengan mengeklik huruf A, B, C, atau D di layar Komputer/HP anda!**

- Peralatan pada komputer yang berbentuk fisik, dapat dilihat secara jelas merupakan pengertian dari. . .
  - Software
  - Hardware
  - Storage
  - Brainware
- Di bawah ini yang merupakan bagian-bagian dari perangkat keras, **kecuali** .....
- Perangkat keras yang memberikan perintah dan data ke komputer untuk diolah adalah fungsi dari perangkat .....
- Perangkat keluaran disebut juga sebagai ....
- Merupakan urutan bagian-bagian yang lengkap dari peralatan Hardware adalah. .
- Gambar berikut ini masuk ke dalam bagian Hardware yaitu merupakan peralatan. . .
- Apakah nama perangkat berikut ini yang ditunjukkan oleh gambar adalah. .
- Alat yang digunakan untuk melakukan pemrosesan data pada komputer adalah. .



9. Berikut ini merupakan alat keluaran pada komputer, **kecuali**. . .
- Monitor
  - LCD Proyektor
  - Printer
  - Keyboard
10. Alat keluaran pada komputer yang digunakan untuk menampilkan data pada perangkat komputer adalah. . .
- Mouse
  - Flashdisk
  - Monitor
  - Plotter
11. Alat keluaran pada komputer yang digunakan untuk mengeluarkan suara pada perangkat komputer adalah. . .
- Speaker
  - Mouse
  - Processor
  - Printer
12. Fungsi alat yang ditunjukkan oleh gambar berikut ini adalah. . .
- Memasukkan data pada komputer
  - Mencetak data dari komputer
  - Membuat dokumen baru
  - Menampilkan gambar pada komputer
- 
13. Perangkat keras input device yang digunakan untuk bermain game adalah ..
- Analog
  - Mouse
  - Keyboard
  - Joystick
14. Perangkat keluaran yang menyajikan informasi dari komputer berupa tampilan gambar adalah perangkat ...
- Mouse
  - Flashdisk
  - Monitor
  - Plotter
15. Perangkat utama dari komputer yang bertugas untuk melaksanakan keseluruhan operasi yang dilakukan oleh komputer adalah perangkat .....
- Speaker
  - Mouse
  - CPU
  - Printer
16. Storage merupakan alat yang digunakan untuk. . .
- Menyimpan data pada perangkat komputer
  - Membuat dokumen baru
  - Mencetak data dari komputer
  - Menginputkan data pada komputer
17. Gambar berikut ini yang merupakan peralatan penyimpanan pada komputer adalah. . .
- 
  - 
  - 
  - 
18. Peralatan penyimpanan pada komputer antara lain berikut ini, **kecuali**. . .
- Flashdisk
  - Compact Disk
  - Harddisk
  - Monitor
19. Apakah nama gambar yang ditunjukkan berikut ini. . .
- Harddisk
  - Compact Disk
  - Flashdisk
  - LCD Proyektor
- 
20. Perangkat tambahan pada komputer disebut dengan istilah. . .
- Input device
  - Process device
  - Output device
  - Periferal device
21.  Nama perangkat keras disamping adalah .....
- CD
  - Flash Disk
  - Hard Disk
  - Memory Card
22. Fungsi dari perangkat keras pada soal nomor 21 adalah ...
- Mengeluarkan suara
  - Menyimpan data
  - Memfoto gambar
  - Bermain game
23. Salah satu contoh peralatan tambahan pada komputer adalah. . .
- NIC
  - Mouse
  - Keyboard
  - Monitor
24. Perangkat lunak atau biasa disebut dengan software merupakan. . .
- Peralatan pada komputer yang berbentuk fisik
  - Kumpulan instruksi, data atau program yang digunakan untuk mengoperasikan komputer

- c. Peralatan yang digunakan untuk memproses data di dalam komputer  
d. Orang yang mengoperasikan perangkat computer
25. Berikut ini merupakan pembagian Software berdasarkan lisensinya adalah. . .  
a. Freeware, Shareware, Adware  
b. Freeware, Shareware, Hardware  
c. Sistem Operasi dan Program Aplikasi  
d. Open Source Software dan Close Source Software
26. Berikut ini merupakan pembagian Software berdasarkan fungsinya adalah. . .  
a. Freeware, Shareware, Adware  
b. Freeware, Shareware, Hardware  
c. Sistem Operasi dan Program Aplikasi  
d. Open Source Software dan Close Source Software
27. Berikut ini merupakan pembagian Software berdasarkan sumbernya adalah. . .  
a. Freeware, Shareware, Adware  
b. Freeware, Shareware, Hardware  
c. Sistem Operasi dan Program Aplikasi  
d. Open Source Software dan Close Source Software
28. Perangkat lunak sistem yang pertama kali dijalankan pada saat komputer dihidupkan adalah. . .  
a. Sistem Operasi  
b. Sistem Informasi  
c. Sistem Komputer  
d. Sistem Komunikasi
29. Istilah di dalam komputer yang biasa digunakan untuk menyebutkan Sistem Operasi adalah. . .  
a. AS  
b. AI  
c. OS  
d. OP
30. Merupakan contoh dari sistem operasi yang banyak digunakan oleh pengguna komputer adalah. . .  
a. Linux  
b. Microsoft Word  
c. Microsoft Excel  
d. Windows
31. Gambar berikut yang merupakan logo dari sistem operasi Windows adalah. . .  
a.   
b.   
c.   
d. 
32. Gambar berikut ini merupakan logo dari sistem operasi yaitu. . .  
a. Windows  
b. Linux  
c. Corel Draw  
d. Word
- 
33. Perangkat lunak aplikasi untuk pengolahan kata, pembuatan surat menyurat dan dokumen teks lainnya adalah .....  
a. Microsoft Power Point  
b. Microsoft Excell  
c. Microsoft Word  
d. Microsoft Acces
34. Manusia yang mengoperasikan perangkat komputer disebut dengan istilah. . .  
a. Hardware  
b. Software  
c. Brainware  
d. Storage
35. Bidang ilmu yang mengalami kemajuan yang sangat pesat dan sudah merambah ke semua bidang kehidupan manusia adalah. . .  
a. teknologi informasi dan komunikasi  
b. teknologi listrik  
c. teknologi pertanian  
d. teknologi ekonomi
36. Kemajuan teknologi informasi dan komunikasi telah memungkinkan terjadinya proses belajar mengajar jarak jauh yang dikenal dengan istilah ....  
a. E-Commerce  
b. E-Learning  
c. E-Banking  
d. E-Schooling

37. Salah satu peranan teknologi informasi dan komunikasi dibidang kedokteran dan kesehatan adalah pengambilan gambar organ tubuh untuk di diagnosis. Pengambilan gambar ini dikenal dengan istilah .....
- DSR
  - E-Halth
  - X-Ray
  - Photo
38. Semua orang saat ini dapat bertransaksi dalam menawarkan produk jasa dan barang yang dimilikinya melalui media teknologi informasi dan komunikasi yaitu internet. Kegiatan perdagangan dalam dunia internet ini disebut .....
- E-Commerce
  - E-Learning
  - E-Banking
  - E-Schooling
39. Peralatan teknologi informasi dan komunikasi yang banyak digunakan dalam kehidupan sehari-hari adalah. .
- Handphone, Televisi, Kentongan
  - Televisi, Faksimili, Komputer
  - Asap, Telepon, Radio
  - Kentongan, Asap, Handphone
40. Layanan yang memungkinkan nasabah bank melakukan transaksi perbankan melalui ponsel atau smartphone adalah .....
- M – Banking
  - ATM
  - E – Money
  - E – Commerce
41. Peranan TIK telah membantu pemerintah untuk mengembangkan cara baru dalam pemberian layanan kepada masyarakat (publik). Layanan ini dikenal dengan istilah ....
- E – Commerce
  - E – Learning
  - E – Public
  - E - Government
42. Alat yang berfungsi sebagai penerima informasi yang berupa suara atau sinyal dengan menggunakan gelombang elektromagnetik adalah. . .
- Televisi
  - Komputer
  - Radio
  - Wifi
43. Perangkat elektronik yang mampu menerima, memproses, dan menyimpan data, serta terdiri dari tiga komponen yaitu hardware, software dan brainware adalah...
- Handphone
  - Faksimili
  - Telepon
  - Komputer
44. Alat yang berfungsi untuk menerima informasi berupa gambar dan suara yang dapat menerima transmisi gambar sekaligus suara secara langsung disebut. . .
- Televisi
  - Komputer
  - Wifi
  - Radio
45. Alat komunikasi dua arah yang memungkinkan dua orang atau lebih untuk bercakap-cakap tanpa batas jarak adalah. . .
- Faksimili
  - Telepon
  - Telegraf
  - Komputer
46. Alat untuk mengirim atau menerima informasi melalui telefoto dengan sistem reproduksi fotografi adalah. . .
- Faksimili
  - Telepon
  - Telegraf
  - Komputer
47. Nama kepanjangan dari WiFi adalah. . .
- Wireless Find
  - Wireless Fidelity
  - Wireles Finally
  - Wireless First
48. Berikut ini merupakan alat komunikasi modern antara lain, **kecuali**. . .
- Handphone
  - Internet
  - Radio
  - Prasasti
49. Media komunikasi yang berfungsi sebagai alat penangkap siaran bergambar adalah...
- Telepon
  - Pager
  - Televisi
  - Koran
50. Alat yang mampu mengirimkan dokumen melalui jaringan telepon dengan hasil yang sama persis seperti aslinya adalah...
- Faksimili
  - Koran
  - Telegraf
  - Televisi

\*\*\* Selamat Mengerjakan \*\*\*

***“Berdo’a terlebih dahulu dan Percayalah pada kemampuan Sendiri untuk mengerjakan Soal”***