


## 1 вариант

1. Найди и подчеркни лишнее.



2. Найди в списке тела и вещества. Выпиши номера.

1. Гвоздь. 2. Лимон. 3. Сахар. 4. Железо. 5. Сахарная свёкла. 6. Кислород.  
7. Лимонная кислота. 8. Сосна.

Тела: \_\_\_\_\_ Вещества: \_\_\_\_\_

3. Внимательно прочитай текст. Найди и исправь ошибки.

Весной солнце заметно пригревает. День становится короче. Появляются первые проталины. На реках и озёрах ледостав. Прилетели вестники весны – свиристели.

4. Условными знаками опиши погоду сегодняшнего дня.

Дата	Температура	Облачность	Осадки

5. Кто из учеников правильно перечислил свойства воздуха? Подчеркни имя.

Миша: «Воздух свеж, прохладен и полезен для здоровья».

Даша: «Воздух прозрачен, бесцветен, не имеет запаха, при нагревании расширяется, а при охлаждении сжимается».

Вадим: «Воздух чист и имеет приятный запах».

6. Какие свойства воды и воздуха можно определить с помощью органов чувств?

---

---

7.Этот опыт ученики поставили на уроке. Запиши цель опыта и вывод.

Цель опыта: \_\_\_\_\_

Вывод: \_\_\_\_\_



8.Заполни схему. Допиши в среднюю строку схемы названия групп растений, а в нижнюю строку – их представителей.

РАСТЕНИЯ		
...	КУСТАРНИКИ	ТРАВЫ
...	...	...

9.Прочитай список и закончи составление схемы. В среднюю строку схемы запиши названия групп животных, а в нижнюю строку – их представителей.

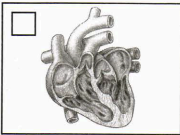
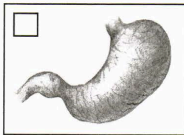
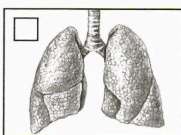
Иволга, ящерица, птицы, скворец, клёт, гадюка, пресмыкающиеся

## Животные

10. Подчеркни в списке особо охраняемые природные территории.

- а) заповедник    б) зоопарк    в) океанариум    г) национальный парк  
д) ботанический сад

11. Какой из этих органов относится к кровеносной системе в организме человека? Закрась квадрат, запиши название органа.



\_\_\_\_\_

1)Пищеварительная система

2) Дыхательная система

3)Кровеносная система

4)Нервная система

12. Подчеркни города Золотого кольца России.

Челябинск, Владимир, Магнитогорск, Ярославль, Сергиев Посад

13. Всё ли правильно Надя рассказала о Финляндии? Проверь, пользуясь картой. Обведи номер правильного ответа.




Финляндия расположена на севере Европы. Это близкий сосед России. Также Финляндия граничит со Швецией и Норвегией. Столица Финляндии – город Хельсинки. Побережье Финляндии омывают воды Балтийского моря.

1. Нет, столица Финляндии – город Турку.
2. Нет, Финляндия не граничит с Норвегией.
3. Да, всё верно.

14. Что нужно сделать, чтобы снизить количество вредных веществ, поступающих в организм? Подчеркни зелёным карандашом.

Пить воду, очищенную бытовым фильтром. Гулять вдоль оживлённой дороги. Тщательно мыть овощи и фрукты. Сбирать ягоды и грибы вдоль дорог и промышленных предприятий. Гулять в парке или в лесу. Пить воду из пруда. Не стоять рядом с автомобилем, у которого работает двигатель.

15. Отметь знак особых предписаний. Напиши название этого знака.



Этот знак называется: \_\_\_\_\_