

## SOAL DAN PEMBAHASAN LATIHAN TWK TIU TKP

### Pembahasan Lihat Bagian Akhir

1. Sebagai ideologi terbuka, maka Pancasila sebaiknya ...
  - A. Disesuaikan dengan ideologi lain
  - B. Dipadukan dengan ideologi lain
  - C. Dibuatkan penafsiran resmi
  - D. Ditafsirkan ulang
  - E. Dikontraskan dengan ideologi lain
2. Di dalam ideologi terdapat tiga unsur esensial, salah satunya adalah bahwa setiap ideologi selalu memuat adanya gagasan-gagasan vital yang sudah diyakini kebenarannya untuk dijadikan dasar dan arah serta bagi tercapainya tujuan yang telah ditentukan. Unsur ini disebut ...
  - A. Keyakinan
  - B. Mitos
  - C. Loyalitas
  - D. Doktrin
  - E. Cita-cita
3. Pancasila adalah sikap mental dan tingkah laku bangsa Indonesia yang mempunyai ciri khas, merupakan kedudukan Pancasila sebagai ...
  - A. Dasar Negara
  - B. Ideologi bangsa
  - C. Cita-cita dan tujuan bangsa Indonesia
  - D. *Way of life*
  - E. Kepribadian Bangsa Indonesia
4. Lambang diyakini sebagai salah satu pendorong keberhasilan suatu cita-cita. Padi dan kapas pada burung Garuda melambangkan ...
  - A. Ketuhanan Yang Maha Esa
  - B. Kemanusiaan yang adil dan beradab
  - C. Persatuan Indonesia
  - D. Kerakyatan yang dipimpin oleh hikmah kebijaksanaan dalam permusyawaratan/perwakilan
  - E. Keadilan sosial bagi seluruh rakyat Indonesia.

5. Hari Kesaktian Pancasila diperingati setiap tanggal ...
  - A. 1 Juni
  - B. 22 Juni
  - C. 30 September
  - D. 1 Oktober
  - E. 10 November
6. UUD 1945 sebelum diamandemen menegaskan bahwa kedaulatan diatur di tangan rakyat dan dilakukan sepenuhnya oleh ...
  - A. MPR
  - B. DPR
  - C. Presiden
  - D. MA
  - E. Perdana Menteri
7. UUD 1945 merupakan konstitusi pertama negara Republik Indonesia yang berlaku mulai tanggal ...
  - A. 17 Agustus 1945 – 17 Agustus 1948
  - B. 17 Agustus 1945 – 17 Agustus 1950
  - C. 18 Agustus 1945 – 27 Desember 1949
  - D. 17 Agustus 1945 – 17 Agustus 1949
  - E. 20 Agustus 1945 – 17 Agustus 1949
8. Alasan kembalinya pada UUD 1945 adalah bahwa UUD 1945 dianggap sebagai ...
  - A. Konstitusi pertama yang berlaku
  - B. Warisan nenek moyang
  - C. Konstitusi yang dianggap mampu menjaga kesatuan dan persatuan bangsa
  - D. Konstitusi yang paling baik saat ini
  - E. Konstitusi yang cocok untuk bangsa Indonesia
9. Tujuan perubahan UUD 1945 yaitu menyempurnakan aturan dasar mengenai jaminan dan perlindungan HAM agar sesuai dengan perkembangan paham HAM dan peradaban umat manusia yang merupakan syarat bagi suatu negara hukum yang tercantum dalam ...
  - A. Hukum Internasional
  - B. UUD 1945
  - C. Kitab Undang-Undang Hukum Pidana
  - D. Perjanjian Internasional
  - E. Pancasila
10. Terbentuknya negara melalui adanya kelebihan dan dominasi seseorang atas orang lain, pemahaman itu merupakan intisari dari ...
  - A. Teori perjanjian
  - B. Teori pemerintahan
  - C. Teori politik
  - D. Teori yuridis
  - E. Teori kekuasaan

11. Suatu negara merdeka dan berdaulat yang memiliki kekuasaan asli para pemerintah pusat, negara tersebut berbentuk ...
  - A. Serikat
  - B. Dominion
  - C. Kesatuan
  - D. Protektorat
  - E. Uni
12. Tokoh yang mengusulkan agar yang menandatangani naskah proklamasi cukup Soekarno dan Hatta atas nama bangsa Indonesia adalah ...
  - A. B.M. Diah
  - B. Ahmad Subardjo
  - C. Chairul Saleh
  - D. Sukarni
  - E. Sayuti Melik
13. Untuk mengenang peristiwa Rengasdengklok tepatnya di markas bekas kompi Peta, dibangun ...
  - A. Gedung Rengasdengklok
  - B. Perpustakaan Rengasdengklok
  - C. Monumen Rengasdengklok
  - D. Sekolah Rengasdengklok
  - E. Taman Rengasdengklok
14. Negara merupakan organisasi kekuasaan yang terdiri dari bermacam-macam suku bangsa, oleh karena itu harus ...
  - A. Memberikan pelayanan terbaik
  - B. Memperhatikan kesempatan berusaha
  - C. Memajukan kesejahteraan umum
  - D. Mengutamakan pembangunan ekonomi
  - E. Melestarikan kehidupan setiap suku
15. Di Indonesia dikenal dengan adanya sistem kekerabatan patrilineal dan matrilineal. Suku yang menganut sistem kekerabatan matrilineal adalah ...
  - A. Batak
  - B. Rejang
  - C. Gayo
  - D. Bali
  - E. Minangkabau
16. Sumpah pemuda merupakan titik balik pemuda Indonesia untuk bersatu demi mewujudkan Indonesia merdeka. Yang membacakan sumpah pemuda adalah ...
  - A. Amir Syafrudin
  - B. Moh. Yamin
  - C. Sugondo Joyopuspito
  - D. Djoko Marsaid
  - E. Rohjani

17. Penanaman modal asing yang diterapkan pemerintah kolonial belanda ternyata mampu membawa perubahan sosial dalam masyarakat Indonesia, yaitu ...
- A. Timbulnya golongan buruh dan pengusaha
  - B. Masyarakat Indonesia mulai mengenal sistem uang
  - C. Tumbuhnya golongan terpelajar
  - D. Terjadinya pengambilalihan tanah pedesaan
  - E. Taraf hidup dan tingkat sosial ekonomi masyarakat meningkat
18. Yang bukan merupakan Tugas MPR sebelum dilakukan amandemen adalah ...
- A. Menetapkan GBHN
  - B. Menetapkan dan mengubah UUD
  - C. Melantik Presiden dan Wakilnya
  - D. Memilih Presiden dan Wakilnya
  - E. Pelaksanaan kedaulatan rakyat
19. Sistem pemerintahan menurut UUD 1945 menegaskan bahwa ..
- A. Kekuasaan kepala negara tak terbatas
  - B. Kekuasaan kepala negara perlu dibatasi
  - C. Kekuasaan kepala negara sangat terbatas
  - D. Kekuasaan kepala negara seumur hidup
  - E. Kekuasaan kepala negara tidak tak terbatas.
20. Dengan adanya prinsip otonomi seluas-luasnya, daerah diberi kewenangan mengatur urusan pemerintahannya sendiri, kecuali di bidang...
- A. Agama
  - B. Perekonomian
  - C. Wilayah
  - D. Sosial Masyarakat
  - E. SDA
21. Pada hakikatnya setiap warga negara berhak atas pekerjaan dan penghidupan yang layak bagi kemanusiaan. Aturan dasar ini tercantum dalam UUD 1945...
- A. Bab X Pasal 27 (1)
  - B. Bab X Pasal 27 (2)
  - C. Bab X Pasal 28 (1)
  - D. Bab XII Pasal 30 (1)
  - E. Bab XII Pasal 30 (2)
22. Hukum yang positif adalah hukum yang ...
- A. Mengatur tata cara melaksanakan dan mempertahankan hukum
  - B. Berisi perintah dan larangan
  - C. Hanya berlaku pada masyarakat tertentu
  - D. Berlaku sekarang
  - E. Berlaku di masa mendatang
23. Menurut aturan yang tercantum dalam UUD 1945, kedaulatan rakyat adalah di tangan rakyat dan dilakukan sepenuhnya oleh MPR yang anggotanya terdiri dari unsur-unsur kecuali...
- A. Utusan daerah
  - B. Utusan golongan

- C. Utusan partai politik
  - D. Utusan TNI
  - E. Utusan pemerintah
24. Setiap negara memiliki sifat tidak tetap dan harus mengalami perubahan. Oleh karena itu, harus dikembangkan pola pemerintahan yang relatif tahan terhadap gejolak yang akan datang. Hal ini disebut juga ...
- A. Kompleksitas
  - B. Keragaman
  - C. Integritas
  - D. Dinamika
  - E. Pluralitas
25. Demokrasi adalah pemerintahan yang berasal dari rakyat, dilakukan oleh rakyat, dan untuk kepentingan rakyat sehingga kedaulatan berada di tangan rakyat. Kedaulatan rakyat sepenuhnya dilakukan oleh ....
- A. DPR dan MPR
  - B. DPA dan BPK
  - C. Presiden
  - D. DPR
  - E. MPR
26. Salah satu Negara dibawah yang masih menganut system demokrasi parlementer hingga saat ini adalah ...
- A. Inggris
  - B. Amerika
  - C. Belgia
  - D. Argentina
  - E. China
27. Masuknya pengaruh Hindu pertama kali dibuktikan dengan adanya penemuan prasasti dari kerajaan...
- A. Kutai
  - B. Sriwijaya
  - C. Tarumanegara
  - D. Mataram Hindu
  - E. Majapahit
28. Gubernur VOC yang memaksa dan memerintahkan rakyat untuk membuat jalan raya Anyer – Panarukan adalah ...
- A. Raffles
  - B. Pieter Both
  - C. Van den Bosch
  - D. Daendels
  - E. Van der Capllen
29. Pada abad pertengahan (6-15 M) kehidupan sosial dan spiritual masyarakat barat dikuasai oleh seorang ...
- A. Paus

- B. Presiden
  - C. Raja
  - D. Misionaris
  - E. Jenderal
30. Upaya USA membendung luasnya komunisme di Asia Tenggara diwujudkan dalam membentuk ...
- A. OAS
  - B. CENTO
  - C. ANZUS
  - D. SEATO
  - E. NATO
31. Kebijakan dunia yang berisi untuk mengurangi emisi gas rumah kaca tertuang dalam...
- A. Protocol Montreal
  - B. The Global Warming Conferency
  - C. Konferensi Greenpeace
  - D. Protocol Tokyo
  - E. Konferensi Lingkungan di Bali

Bacaan untuk soal 32-33

"Secara ekonomis, kelayakan pendanaan proyek ini masih dalam tahap pembicaraan antara pemerintah Jepang dan Indonesia," kata Sutiyoso. "Padahal studi kelayakan bidang teknik untuk proyek "Subway" di Jakarta sudah selesai.

32. Di dalam teks tersebut tidak ada pernyataan ...
- A. Proyek *subway* itu akan didanai oleh negara asing
  - B. Studi kelayakan untuk proyek itu sudah rampung
  - C. Proyek itu akan dilaksanakan di beberapa kota besar
  - D. Apakah proyek ini bernilai ekonomis atau tidak, belum diketahui
  - E. kelayakan pendanaan proyek ini masih dalam tahap pembicaraan
33. Yang dimaksud dengan proyek subway berhubungan dengan ...
- A. Jalan raya
  - B. Lalu lintas
  - C. Perkeretaapian
  - D. Tata kota
  - E. Kemacetan
34. ... sektor pertanian dan transportasi bagi kabupaten Wonogiri sebesar Rp229,8 miliar atau 10,2% dari total kegiatan ekonomi.  
Kata yang tepat untuk melengkapi kalimat di atas adalah ...
- A. Distribusi
  - B. Kontribusi
  - C. Kuantitas
  - D. Komoditas
  - E. Aktifitas

35. Setelah gas pertanian di Porong meledak dan menewaskan serta melukai beberapa orang, pemerintah menyebut luapan lumpur sebagai **disaster**.  
Makna kata *disaster* pada kalimat di atas adalah...
- A. Kecelakaan
  - B. Musibah
  - C. Bencana
  - D. Kelalaian
  - E. Kecerobohan
36. REKOGNISI = \_\_\_\_\_
- A. Pengembalian
  - B. pemberitahuan
  - C. Pengakuan
  - D. Tuntutan
  - E. Pengampunan
37. SABAN = \_\_\_\_\_
- A. Jarang
  - B. Sekali
  - C. Tiap-tiap
  - D. Pernah
  - E. Selalu
38. ANGOT = \_\_\_\_\_
- A. Atau
  - B. Kumat
  - C. Andai
  - D. Kacau
  - E. Sering
39. ULTIMA > < \_\_\_\_\_
- A. Final
  - B. Kesan
  - C. Biasa
  - D. Awal
  - E. Pesan
40. NAAS > < \_\_\_\_\_
- A. Untung
  - B. Celaka
  - C. Rugi
  - D. Baik
  - E. Bangkrut
41. CHAOS > < \_\_\_\_\_
- A. Hancur
  - B. Labil
  - C. Normal
  - D. Kacau

E. Berantakan

42. DANA : PENGGELAPAN = \_\_\_\_: \_\_\_\_

- A. Uang : Brankas
- B. Karya Tulis : Penjiplakan
- C. Deposito : Perbankan
- D. Cek : Akuntansi
- E. Kanvas : Lukisan

43. KARDIOLOGI : JANTUNG = \_\_\_\_: \_\_\_\_

- A. Patologi : Peta
- B. Farmakologi : Obat-Obatan
- C. Akuntansi : Perusahaan
- D. Biologi : Ilmu
- E. Matematika : Kalkulator

44. NELAYAN : PERAHU = \_\_\_\_: \_\_\_\_

- A. Koki : Oven
- B. Penulis : Pena
- C. Fotografer : Kamera
- D. Petani : Traktor
- E. Menjahit : Baju

45. HUMOR : KOMEDIAN = \_\_\_\_: \_\_\_\_

- A. Memori : Amnesia
- B. Heroisme : Epik
- C. Klimaks : Drama
- D. Perceraian : Pernikahan
- E. Surat : Undangan

46. Dion membeli 20 kg beras jenis A seharga Rp 6.000,00/kg dan 30 kg beras jenis B dengan harga Rp. 4.000,00/kg. Kedua jenis beras tersebut kemudian dicampur. Agar Dion mendapat untung 4%, maka beras tersebut dijual seharga ... /kg.

- A. Rp 4.992,00
- B. Rp 5.720,00
- C. Rp 5.992,00
- D. Rp 6.720,00
- E. Rp 6.992,00

47. Pada tahun 2010 sebuah pabrik gula memproduksi gula pasir sebanyak  $\frac{3}{4}$  ton. Jika kebijakan produksi untuk tahun 2011 dan 2012 ditetapkan kenaikannya sebesar 125% dari produksi tahun 2010, berapa ton jumlah produksi gula pasir pabrik tersebut dalam tiga tahun terakhir ini?

- A. Tak dapat ditentukan
- B. 196,48
- C. 282,94
- D. 479,42
- E. 480,57

48. Ukuran sebuah kota pada suatu peta adalah panjang 12 cm dan lebar 9 cm. Apabila peta tersebut mempunyai skala 1 : 200, luas sebenarnya dari kota tersebut adalah ... m<sup>2</sup>.



- A. 108
- B. 216
- C. 420
- D. 432
- E. 430

49. Sebuah mesin dapat memotong sejenis kayu dalam 6 menit dan seorang tukang kayu dengan menggunakan gergaji tangan dapat melakukan pekerjaan tersebut dalam 18 menit. Setelah 4 menit, listrik padam dan kayu tersebut harus dipotong dengan gergaji tangan. Berapa menit yang diperlukan tukang kayu untuk menyelesaikan pemotongan kayu tersebut?

- A. 2 menit
- B. 6 menit
- C. 12 menit
- D. 14 menit
- E. 15 menit

50. Jika  $x$  adalah 27,8% dari 45 dan  $y$  adalah 45% dari 27,8 maka ...

- A.  $x > y$
- B.  $x < y$
- C.  $x = y$
- D. hubungan  $x$  dan  $y$  tidak dapat ditentukan
- E.  $x \neq y$

51. Jika  $p$  sembarang bilangan,  $\{x = 3p^2 + 5\}$  dan  $\{y = 2p^2 + 4\}$ , manakah pernyataan berikut yang benar?

- A.  $x > y$
- B.  $x < y$
- C.  $x = y$
- D. hubungan  $x$  dan  $y$  tidak dapat ditentukan
- E.  $x \neq y$

52. Nilai mata kuliah Tono pada semester I yang lalu adalah: Agama = 80, Pengantar Akuntansi = 85, Bahasa Indonesia = 70, Matematika Ekonomi = 90, Bahasa Inggris = 70, Pancasila = 80, dan Pengantar Perpajakan = 70. Dari data tersebut, berapakah median dari nilai yang diperoleh Tono pada semester I yang lalu?

- A. 70
- B. 78
- C. 80
- D. 90
- E. 85

53. Di dalam suatu kelas terdapat 30 siswa dan nilai rata-rata tes matematika adalah  $p$ . Pak guru matematika mereka menaikkan nilai setiap siswa sebesar 10. Tentukan rata-rata nilai baru siswa tersebut!

- A.  $p + 300$
- B.  $10p$
- C.  $p + 10$
- D.  $p + 30$
- E.  $30p$

54. Aditya dapat mengepak buku sebanyak 112 buah sehari, sedangkan pembantunya hanya dapat mengepak dengan kecepatan  $\frac{1}{4}$  kecepatan Aditya. Berapa lamakah waktu yang diperlukan mereka berdua untuk mengepak 560 buku, jika masing-masing bekerja sendiri-sendiri pada hari-hari yang berbeda?

- A.  $\frac{1}{2}$  hari
- B. 2 hari
- C. 8 hari
- E. 6 hari

C. 4 hari

55. Sebuah mobil dapat menempuh 20 mil per galon bensin jika berjalan dengan kecepatan 50 mil/jam. Dengan kecepatan 60 mil/jam, jarak yang dapat ditempuh berkurang 12%. Berapakah jarak yang dapat ditempuh oleh mobil tersebut dengan 11 galon bensin dan berkecepatan 60 mil/jam?
- A. 195,1 mil                      D. 193,6 mil  
B. 200 mil                        E. 196 mil  
C. 204,3 mil
56. Dari 100 siswa, 39 gemar olahraga. Diantara penggemar olahraga, ada 11 orang siswa juga gemar bermain musik. Jika ada 32 siswa tidak gemar olahraga maupun musik, maka banyaknya penggemar musik dari 100 siswa itu adalah ...
- A. 29                              D. 71  
B. 39                              E. 45  
C. 40
57. Dari 60 orang anak, diketahui bahwa 37 orang diantaranya menyukai sayuran, 19 orang menyukai ikan, dan  $x$  orang tidak menyukai keduanya. Berapa orang anak yang menyukai sayuran dan ikan?
- A.  $x + 4$                       D.  $x + 56$   
B.  $x - 4$                       E.  $x + 65$   
C.  $x - 56$
58. 8, 24, 22, 56, 18, \_\_\_\_
- A. 122  
B. 124  
C. 126  
D. 128  
E. 130
59. D, E, E, F, F, G, \_\_\_\_
- A. H dan I  
B. G dan G  
C. G dan H  
D. G dan I  
E. H dan H
60. Semua menu makanan restoran B diolah dari bahan organik. Semua menu dengan bahan organik diolah dengan cara tidak digoreng.
- A. Sebagian menu makanan diolah tanpa menggunakan minyak (tidak digoreng).  
B. Semua menu yang diolah dengan cara digoreng bukan menu restoran B.  
C. Semua menu restoran B diolah tanpa digoreng dengan minyak.  
D. Sebagian menu restoran B dengan bahan organik diolah dengan cara digoreng.  
E. Semua menu diolah dengan cara digoreng menggunakan bahan organik.
61. Jika Tono lulus kurang dari satu atau sama dengan 4 tahun, maka ia akan diterima berkerja sebagai karyawan di perusahaan A.

Jika Tono sudah bekerja di perusahaan A, maka ayahnya akan membelikan Tono sebuah sepeda motor.

Tono tidak mendapat sepeda motor dari ayahnya.

- A. Tono menyelesaikan studinya kurang dari 4 tahun.
- B. Tono menyelesaikan studinya lebih dari 4 tahun.
- C. Tono bekerja di perusahaan A.
- D. Tono menyelesaikan studinya tepat 4 tahun.
- E. Tono bekerja dengan sepeda motor.


### Teks logika Analitik

Enam orang siswa yaitu Amir, Kiki, Shafira, Ali, Wahyu, Dan Rara ingin mengikuti latihan olahraga. Jadwal olahraga yang tersedia: basket dan karate hari Selasa, badminton dan renang hari Kamis, baseball dan tenis meja hari Jumat.


- ☐ Setiap anak hanya bisa mengikuti paling banyak satu jenis olahraga dalam satu hari.
- ☐ Amir dan Shafira diwajibkan orang tua mereka untuk mengikuti olahraga renang.
- ☐ Rara dan Kiki telah bersepakat untuk memilih olahraga badminton.
- ☐ Hanya Rara dan Wahyu yang tidak mengikuti olah raga basket.
- ☐ Rara tidak memilih tenis meja.

62. Olahraga apa yang bisa dilakukan oleh Rara dan Shafira secara bersamaan?

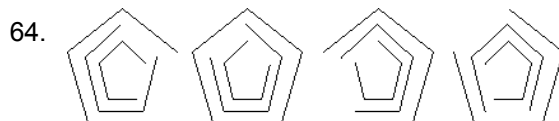
- A. Basket
- B. Badminton
- C. Renang
- D. Baseball
- E. Karate



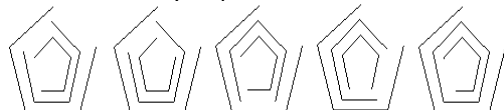
Gambar selanjutnya adalah ...



- A.
- B.
- C.
- D.
- E.



Gambar selanjutnya adalah ...



A.      B.      C.      D.      E.

65.



Gambar selanjutnya adalah ...



A.      B.      C.      D.      E.

66. Kadangkala saya merasa lapar ketika jam kerja, maka yang saya lakukan adalah ...

- A. Menyelesaikan pekerjaan terlebih dahulu kemudian makan
- B. Meminta izin atasan untuk makan
- C. Meminta teman menggantikan kerja sebentar
- D. Ke *pantry* segera membuat makanan
- E. Pergi ke warung terdekat untuk membeli makan

67. Ketika sedang diminta pimpinan untuk bekerja lembur, tiba-tiba ada telepon dari rumah memberi tahu bahwa anak sedang sakit, sikap kita ...

- A. Segera kembali ke rumah
- B. Pekerjaan kantor lebih penting
- C. Meminta istri untuk lembur selesai
- D. Melihat dulu kondisinya, apabila sakit parah segera kembali rumah
- E. Sudah ada istri dan pembantu di rumah

68. Karena lembur kerja kemarin, siang ini saya merasa sangat mengantuk, kerjaan tidak ada yang selesai karena tidak fokus, sebaiknya saya ...

- A. Segera tidur siang
- B. Segera makan siang
- C. Meminta izin atasan untuk istirahat sejenak
- D. Meminta teman untuk memijat
- E. Segera ke musholah untuk tidur

69. Saat ulang tahun pimpinan kantor, teman-teman seruangan berencana memberikan pesta kejutan, tapi kekurangan dana maka kami mengambil dana pembiayaan rapat, mengenai hal ini ...

- A. Tidak apa-apa asalkan sedikit

- B. Menolak rencana ini
- C. Menghimbau agar patungan saja
- D. Tidak ikut-ikutan
- E. Memakai dana sponsor

70. Jika saya sedang mengerjakan sesuatu, kondisi yang dapat mendukung saya bekerja optimal adalah ...

- A. Kondisi tenang dan santai
- B. Saat tidak ada seorangpun dalam ruangan
- C. Dengan ruangan nyaman dan dingin
- D. Apapun kondisinya saya berusaha sekuat tenaga
- E. Saya gunakan pikiran saya agar fokus pekerjaan bukan masalah tempat

71. Target kerja dan beban kerja yang tinggi menurut saya adalah ...

- A. Suatu tantangan yang harus kita hadapi
- B. Merupakan jalan kita untuk melangkah kedepan
- C. Lebih baik saya menbgundurkan diri daripada saya stress
- D. Merupakan jalan saya mencapai tingkat pimpinan tertinggi
- E. Sebagai sarana melatih diri

72. Ditengah proyek besar dan membutuhkan tanggung jawab besar saya mengalami kegagalan besar yang sangat mengancam karir saya, sebaiknya saya ..

- A. Meminta maaf atas kegagalan saya
- B. Bertanggung jawab sepenuhnya atas apa yang saya lakukan
- C. Tidak berputus asa, saya jadikan kegagalan ini sebagai penguat langkah kedepan
- D. Bertanggung jawab dengan segera mengundurkan diri dari pekerjaan
- E. Mencari-cari dalang dibalik kegagalan ini

73. Ada tawaran beasiswa melanjutkan pendidikan di luar negeri, tapi anda telat mengumpulkan syarat pendaftaran sehingga tidak dapat mengikuti tes masuk, mengenai hal ini ...

- A. Saya tetap berusaha agar bisa mengikuti seleksi beasiswa
- B. Tidak berputus asa, berusaha menyiapkan segala persyaratan untuk tahun depan
- C. Meminta pimpinan agar masih diperbolehkan mengikuti tes masuk
- D. Biasa saja karena masih ada tahun depan
- E. Tidak terlalu memusingkan karena saya punya koneksi dalam agar bisa ikut beasiswa

74. Saat sedang rapat bersama seluruh pegawai divisi tempat saya bekerja, saya biasanya memberikan masukan berupa pendapat tetapi beberapa teman saya juga memberikan pendapat, sikap saya akan hal ini ...

- A. Tetap berpegang teguh pada ide saya
- B. Mencoba mempengaruhi yang lain agar setuju terhadap pendapat saya
- C. Saya cukup dekat dengan pimpinan rapat, saya yakin ide saya disetujui
- D. Bersikap terbuka dan menerima semua pendapat yang ada
- E. Mencoba selalu berfikir positif atas segala keputusan rapat

75. Jika ada waktu luang, selama akhir pekan saya biasanya ...
- A. Gunakan untuk tidur siang
  - B. Saya ajak keluarga untuk makan di luar
  - C. Berlatih bermain musik
  - D. Saya gunakan untuk mempelajari hal-hal lain yang sifatnya positif
  - E. Saya gunakan untuk menyelesaikan pekerjaan kantor yang belum selesai
76. Pimpinan menginginkan agar berita-berita yang sedang hangat dibicarakan dibuat sebuah kumpulan berita agar memudahkan dibaca nantinya, maka sebaiknya ...
- A. Saya buat kan klip ing koran dengan jangka waktu tiap bulan
  - B. Saya kumpulkan berita-berita dari internet internet dan saya *bookmark* tiap alamatnya
  - C. Saya kumpulkan berita majalah dan koran yang berisi berita penting
  - D. Saya bersama teman-teman menyimpan tiap koran dan majalah ke rak-rak khusus
  - E. Saya meminta OB untuk mengkliping koran yang penting
77. Anda memiliki beberapa rumah yang disewakan. Salah satu orang yang menyewa rumah anda melaporkan jika rumah anda bocor. Maka yang akan anda lakukan adalah ...
- A. Segera membenahi kebocoran tersebut
  - B. Membebaskan tanggung jawab kepada si penyewa
  - C. Memberikan penawaran rumah anda yang lain untuk ditempati
  - D. Meminta pada penyewa untuk sementara menambalnya sendiri
  - E. Meminta pada penyewa rumah untuk segera meninggalkan rumah tersebut bila sudah tidak nyaman
78. Anda akan kedatangan rekan kerja anda dari luar kota. Dia berencana menginap di rumah anda. Maka yang akan anda lakukan adalah ...
- A. Meminta kantor untuk memfasilitasi kedatangannya selama di rumah anda
  - B. Menolaknya secara halus
  - C. Menyiapkan segala yang diperlukan sesuai dengan kemampuan anda
  - D. Meminta rekan anda untuk membawa perlengkapannya sendiri
  - E. Membolehkannya menginap di rumah asalkan urusan anda dimudahkan
79. Seringkali terjadi kelalaian ketika kita memesan makanan, pelayan tidak langsung memberitahukan bila makanan yang kita pesan tersebut sudah habis. Menurut anda sebagai pelanggan yang perlu ditanggulangi dari hal tersebut adalah ...
- A. Pelayan tersebut segera memberi tahu jika makanan yang anda pesan sudah habis
  - B. Memberikan anda alternatif makanan lain saat anda memesan makanan
  - C. Membrikan catatan dimenu jika makanan tersebut sudah habis
  - D. Dengan inisiatif pribadi pelayan tersebut langsung mengganti menu yang hampir sama
  - E. Memberitahu anda bila anda bertanya
80. Anda berencana untuk mengambil sisa cuti tahunan. Namun, tiba-tiba rekan anda meminta anda agar membatalkan cutinya karena rekan anda ingin menjenguk keluarganya yang sakit di luar kota. Maka reaksi yang anda berikan pada kejadian tersebut adalah ...
- A. Menunda cuti

- B. Tetap cuti karena hak
- C. Meminta maaf karena tidak dapat membantu
- D. Mempertimbangkannya
- E. Cuti bersamaan

81. Tetangga anda sakit dan tidak bisa mengantar anaknya berangkat ke sekolah. Maka yang anda lakukan adalah...

- A. Membelikan obat agar lekas sembuh
- B. Menawarkan diri untuk mengantarkan anaknya ke sekolah
- C. Membawa tetangga ke rumah sakit
- D. Menyarankan agar anak tidak perlu ke sekolah
- E. Menelpon wali kelas dan meminta agar si anak tidak ke sekolah

82. Rekan kerja anda dimarahi oleh atasan karena ada dokumen yang hilang. Maka yang anda lakukan adalah ...

- A. Membiarkannya untuk mengingat dimana dokumen tersebut
- B. Menenangkannya karena dimarahi oleh atasan
- C. Membantu mencari dokumen yang hilang
- D. Ikut menyalahkannya
- E. Pura-pura tidak tahu

83. Sebagai pegawai baru yang akan anda lakukan ...

- A. Bekerja sebaik mungkin
- B. Mengerjakan tugas yang diberikan atasan
- C. Berusaha secepat mungkin mempelajari tugas dan tanggung jawab serta membangun relasi dengan rekan kerja
- D. Banyak bertanya pada rekan kerja tentang pekerjaan
- E. Mengobservasi cara kerja rekan

84. Peraturan baru mengubah sistem 3 *shift* menjadi 2 *shift*, terjadi perubahan waktu kerja. Kebetulan anda bekerja sekaligus kuliah. Cara anda menyikapi peraturan tersebut dengan ...

- A. Mengatur ulang jadwal kuliah agar tidak mengganggu jam kerja
- B. Mengkomunikasikan kepada atasan tentang jadwal kerja dan kuliah agar tidak bentrok
- C. Cuti kuliah sementara waktu sampai anda dapat membagi waktu dengan pekerjaan
- D. Mengundurkan diri dari pekerjaan
- E. Mencari kampus lain yang dapat menyesuaikan jadwal kuliah dengan jam kerja

85. Anda adalah pegawai pusat yang mendapatkan kenaikan jabatan dan ditempatkan di daerah terpencil. Maka anda akan ...

- A. Melakukan negosiasi agar ditempatkan di kota besar
- B. Menolak kenaikan pangkat tersebut dengan alasan belum mampu menjalankan amanat
- C. Mengusulkan teman lain untuk diajukan
- D. Menerima dan menjalankan tugas tersebut dengan penuh tanggung jawab
- E. Meminta dimutasi ke divisi lain

86. Anda baru sadar dompet anda tertinggal padahal anda sudah berada di dalam angkutan umum, maka anda akan ...
- A. Meminjam uang pada penumpang lain
  - B. Segera turun dan kembali ke rumah
  - C. Berkata jujur pada supir angkutan dan meminta maaf
  - D. Panik
  - E. Malu
87. Ketika di dalam lift, anda hanya berdua dengan pejabat, maka anda akan ...
- A. Segera keluar lift
  - B. Salah tingkah
  - C. Menyapa dengan sopan
  - D. Bisa saja
  - E. Pura-pura sibuk bermain gadget
88. Anda sedang ada janji dengan teman-teman anda, tapi teman-teman anda datang terlambat, maka sikap anda ...
- A. Sabar
  - B. Hal itu sudah biasa
  - C. Marah
  - D. Menegur keterlambatan mereka
  - E. Lain kali datang terlambat saja
89. Suatu ketika rekan kerja anda banyak yang lembur, sementara anda sudah menyelesaikan pekerjaan, maka anda akan ...
- A. Ikut lembur karena sungkan
  - B. Izin pulang dan menyerahkan pekerjaan yang sudah anda selesaikan
  - C. Ikut lembur dengan keadaan terpaksa
  - D. Tetap pulang sambil menertawakan teman yang lembur
  - E. Pulang diam-diam
90. Anda adalah seorang Puteri Indonesia sekaligus, suatu ketika anda akan mengikuti karantina *Miss Universe*, sedangkan masih banyak sekali beban pekerjaan kantor yang harus anda selesaikan, maka anda akan ...
- A. Keluar dari PNS
  - B. Meminta izin atasan agar bisa melimpahkan pekerjaan ke rekan yang lain
  - C. Segera menyelesaikan pekerjaan, kalau tidak terkejar, baru meminta izin atasan
  - D. Mengundurkan diri dari kontes *Miss Universe*
  - E. Marah pada keadaan
91. Sebagai seorang artis papan atas, anda sedang menyelesaikan sinetron *stripping* dan sedang kejar tayang, padahal anda sangat lelah dan ingin istirahat beberapa hari, maka sikap anda ...
- A. Memohon izin cuti beberapa hari



- B. Tetap melanjutkan *shooting* karena harus profesional
- C. Mengonsumsi suplemen dan vitamin agar bisa tetap fit untuk menyelesaikan *shooting*
- D. Pura-pura sakit
- E. Bekerja asal-asalan

92. Hari ini anda kehujanan ketika pulang kantor, maka anda akan ...

- A. Menyalahkan ramalan cuaca
- B. Biasa saja
- C. Menyiapkan payung di dalam tas
- D. Membawa baju lebih untuk hari-hari berikutnya
- E. Berdoa agar tidak hujan

93. Suatu ketika anda ditugaskan di *front office* untuk melayani pelanggan, padahal sebelumnya anda tidak pernah bekerja di bagian tersebut, maka anda akan ...

- A. Segera belajar
- B. Asal bekerja
- C. Bekerja sebisanya
- D. Siap belajar dari apa yang nanti didapatkan dalam praktiknya
- E. Takut

94. Bagaimana cara anda bekerja ...

- A. Mengikuti SOP yang ada
- B. Mengikuti cara senior
- C. Dengan cara sendiri
- D. Mengikuti aturan yang ada
- E. Mengikuti SOP dengan menambahkan sedikit modifikasi

95. Ketika banyak anggota tim kerja anda yang berbeda suku dengan anda, maka anda akan ...

- A. Bersikap toleran dan menghormati mereka
- B. Menjaga jarak dengan mereka
- C. Waspada dalam bersikap
- D. Khawatir jika ucapan anda dapat menyinggung mereka
- E. meminta atasan untuk memindahkan anda ke tim kerja yang lain saja

96. ketika banyak anggota tim kerja anda yang berbeda agama dengan anda, maka anda akan ...

- A. bersikap toleran dan menghormati mereka
- B. Menjaga jarak dengan mereka
- C. Waspada dalam bersikap
- D. Khawatir jika ucapan anda dapat menyinggung mereka
- E. Meminta atasan untuk memindahkan anda ke tim kerja yang lain saja

97. Salah seorang rekan kerja dalam tim kerja anda merupakan seorang pegawai baru, maka anda ...

- A. Senang karena dia bisa dijadikan pesuruh
- B. Senang membentunya dalam mempelajari lingkungan kerja
- C. Cuek saja walau ia meminta bantuan pada saya
- D. Berusaha bersikap dengan penuh wibawa di depannya
- E. Meminta atasan untuk menggantinya dengan alasan ia belum siap dilibatkan dalam kerja tim

98. Di kantor saya akan diadakan acara buka puasa bersama, maka saya akan ...

- A. Mengikuti acara tersebut karena merasa tidak enak jika tidak ikut
- B. Pulang sebelum acara tersebut selesai
- C. Izin tidak mengikuti acara tersebut karena anda sudah lelah
- D. Ikut acara tersebut karena banyak rekan saya yang juga mengikutinya
- E. Mengajak rekan-rekan sekantor untuk berpartisipasi dalam acara tersebut

99. Di kantor saya akan diadakan acara sarapan bersama, maka saya akan ...

- A. Mengikuti acara tersebut karena merasa tidak enak jika tidak ikut
- B. Pulang sebelum acara tersebut selesai
- C. Izin tidak mengikuti acara tersebut karena anda sudah sarapan
- D. Ikut acara tersebut karena banyak rekan saya yang juga mengikutinya
- E. Mengajak rekan-rekan sekantor untuk berpartisipasi dalam acara tersebut

100. Jika anak anda marah karena tidak belikan sebuah mainan yang dia inginkan, maka anda akan ...

- A. Memberinya pengertian agar membeli barang yang lebih banyak manfaatnya saja
- B. Menyuruhnya untuk berhenti marah
- C. Memarahinya agar berhenti merengek
- D. Mendingkannya hingga ia tenang
- E. Meninggalkannya di toko mainan tersebut

## PEMBAHASAN SOAL LATIHAN TWK DAN TIU

1. Sebagai ideologi terbuka, maka pancasila sebaiknya disesuaikan dengan ideologi lain. **(A)**
2. Keyakinan merupakan salah satu unsur ideologi yang menjelaskan bahwa setiap ideologi selalu memuat adanya gagasan-gagasan vital yang sudah diyakini kebenarannya untuk dijadikan dasar dan arah serta bagi tercapainya tujuan yang telah ditentukan. **(A)**
3. Pancasila adalah sikap mental dan tingkah laku bangsa Indonesia yang mempunyai ciri khas, merupakan kedudukan pancasila sebagai Kepribadi-an Bangsa Indonesia. **(E)**
4. Sila kelima → keadilan sosial bagi seluruh rakyat indonesia dilambangkan dengan simbol "padi dan kapas". **(E)**
5. 1 Oktober merupakan tanggal bersejarah karena tanggal tersebut, pancasila diperkenalkan berkaita peristiwa G30SPKI ke bangsa indonesia, dan pada tanggal itu disebut hari kesaktian pancasila. **(A)**
6. Kedaulatan rakyat ada di MPR. **(A)**
7. UUD 1945 merupakan konstitusi pertama negara Republik Indonesia yang berlaku mulai tanggal 18 Agustus 1945 – 27 Desember 1949. **(C)**
8. Alasan kembalinya pada UUD 1945 adalah bahwa UUD 1945 dianggap sebagai Konstitusi yang dianggap mampu menjaga kesatuan dan persatuan bangsa **(C)**
9. Tujuan perubahan UUD 1945 tercantum dalam UUD 1945. **(B)**
10. Teori kekuasaan yang bersifat fisik: yaitu yang kuatlah yang berkuasa (ajaran yang dianut oleh Machiaveli). **(E)**
11. Uni adalah gabungan dari beberapa Negara yang dikepalai oleh seorang raja dan memiliki kekuasaan asli pemerintah pusat. **(E)**
12. Perundingan antara golongan muda dan golongan tua dalam penyusunan teks Proklamasi Kemerdekaan Indonesia berlangsung pukul 02.00 - 04.00 dini hari. Teks proklamasi ditulis di ruang makan di laksamana Tadashi Maeda jln Imam Bonjol No 1. Para penyusun teks proklamasi itu adalah Ir. Soekarno, Drs. Moh. Hatta, dan Mr. Ahmad Soebarjo. Konsep teks proklamasi ditulis oleh Ir. Soekarno sendiri. Di ruang depan, hadir B.M Diah Sayuti Melik, Sukarni dan Soediro. Sukarni mengusulkan agar yang menandatangani teks proklamasi itu adalah Ir. Soekarno dan Drs. Moh. Hatta atas nama bangsa Indonesia. Teks Proklamasi Indonesia itu diketik oleh Sayuti Melik. **(D)**
13. **Monumen Kebulatan Tekad Tugu Perjuangan Rengasdengklok** yang berada di Kampung Bojong Tugu, Desa Rengasdengklok Utara, Kecamatan Rengasdengklok, Kabupaten Karawang Provinsi Jawa Barat dibuat dengan tujuan untuk memperingati Perjuangan Pejuang Kemerdekaan dalam mempertahankan Kemerdekaan Republik Indonesia. **(C)**
14. Keanekaragaman suku dan budaya merupakan kekayaan suatu bangsa, maka pemerintah bersama seluruh rakyatnya wajib melestarikan kehidupan setiap suku, agar tidak mengalami kepunahan. **(E)**
15. Sistem kekerabatan matrilineal adalah suatu adat masyarakat yang mengikuti garis keturunan berasal dari pihak ibu. Di Indonesia yang menganut sistem ini adalah suku Minangkabau di Sumatera Barat. **(E)**
16. Sugondo Joyopuspito adalah pemuda yang membacakan sumpah pemuda, ia juga merupakan ketua Kongres Pemuda II. **(C)**
17. Sejak dibukanya Indonesia bagi penanam modal swasta asing, banyak perkebunan yang berdiri dan masyarakat Indonesia mulai mengenal sistem uang. Mereka beralih profesi menjadi buruh pabrik dan perkebunan yang digaji dengan uang, sehingga mereka mengenal sistem uang sebagai alat tukar. **(B)**

18. Sesuai materi tata negara bagian susunan lembaga tinggi negara, telah dijelaskan tugas-tugas MPR. Yang tidak termasuk adalah melantik presiden. (C)
19. Sistem pemerintahan menurut UUD 1945 menegaskan bahwa Kekuasaan kepala negara tidak tak terbatas, yang berarti kekuasaan kepala negara terbatas. (E)
20. Bidang agama tidak diatur dalam otonomi daerah. (A)
21. Bab XII Pasal 30 (1) menjelaskan tentang pada hakikatnya setiap warga negara berhak atas pekerjaan dan penghidupan yang layak bagi kemanusiaan. (D)
22. Hukum yang positif adalah hukum yang berlaku sekarang. (D)
23. Kedaulatan rakyat adalah di tangan rakyat dan dilakukan sepenuhnya oleh MPR yang anggotanya terdiri dari unsur-unsur seperti utusan daerah, golongan, politik, TNI. (E)
24. Sifat tidak tetap dan harus mengalami perubahan ini disebut dinamika. (D)
25. Kedaulatan rakyat sepenuhnya dilakukan oleh DPR dan MPR sebagai lembaga legislatif. (A)
26. Negara yang masih menganut system demokrasi parlementer hingga saat ini contohnya adalah Perancis dan Inggris. (A)
27. Masuknya pengaruh Hindu pertama kali dibuktikan dengan adanya penemuan prasasti dari kerajaan Kutai. (A)
28. Van den Bosch adalah gubernur jenderal Hindia-Belanda penggagas tanam paksa. Van der Capellen adalah penguasa Hindia-Belanda pertama yang memerintah di Hindia setelah dikuasai oleh Kerajaan Inggris selama beberapa tahun. Daendels adalah yang memerintahkan pembangunan jalan tersebut. (D)
29. Pada abad pertengahan (6-15 M) kehidupan sosial dan spiritual masyarakat barat terpusat pada doktrin gereja yang dikuasai oleh seorang Paus. (A)
30. SEATO (*South East Asia Treaty Organization*) merupakan organisasi bentukan USA sebagai upaya USA membendung luasnya komunisme di Asia Tenggara. (D)
31. Protocol Kyoto adalah sebuah amandemen terhadap Konvensi Rangka Kerja PBB tentang Perubahan Iklim (UNFCCC), sebuah persetujuan internasional mengenai pemanasan global. Negara-negara yang meratifikasi protocol ini berkomitmen untuk mengurangi emisi atau pengeluaran karbon dioksida dan lima gas rumah kaca lainnya. (D)
32. Pernyataan yang tidak ada dalam teks adalah *Proyek itu akan dilaksanakan di beberapa kota besar*. (C)
33. Berdasarkan bacaan tersebut, proyek *subway* berhubungan dengan perkereta-apian. (C)
34. **Kontribusi**: sumbangan, **Distribusi**: pembagian, **Kuantitas**: jumlah, **Komoditas**: barang dagangan, **Aktifitas**: tindakan. (B)
35. Kata *Disaster* berarti bencana. (sumber: kamus bahasa Inggris) (C)
36. Rekognisi = (1) hal atau keadaan yang diakui; pengakuan; (2) pengenalan; (3) penghargaan. (C)
37. Saban = berasal dari bahasa daerah (Betawi) yang artinya tiap-tiap. (C)
38. Angot = berasal dari bahasa jawa yang artinya sakit lagi atau kumat lagi; sakit gila; datang lagi penyakitnya. (B)
39. Ultima = (bagian) akhir; final. Jadi, lawannya adalah awal. (D)
40. Naas = sial, nasib (menimpanya dalam suatu kecelakaan). Jadi, lawannya adalah untung. (A)
41. Chaos = abnormal, jadi lawannya adalah normal. (C)
42. Dana digelapkan; karya tulis dijiplak. (B)
43. Kardiologi mempelajari jantung, farmakologi mempelajari obat-obatan. (B)
44. Nelayan menggunakan perahu, petani menggunakan traktor. (D)
45. Humor dihasilkan komedian, heroisme dihasilkan epik. (B)
46. Harga impas

$$\begin{aligned}
 &= [(20 \times 6000) + (30 \times 4.000)] : [20 + 30] \\
 &= [120.000 + 120.000] : 50 \\
 &= \text{Rp } 4.800/\text{kg} \\
 &\text{Harga jual dengan laba 4\%} \\
 &= 4.800 \times (104/100) = \text{Rp } 4.992,00 \quad (\mathbf{A})
 \end{aligned}$$

47. Besarnya produksi dalam 3 tahun terakhir tidak dapat ditentukan karena produksi gula pada tahun 2012 tidak diketahui. **(A)**

$$\begin{aligned}
 48. \text{ Luas} &= (12 \times 200) \text{ cm} \times (9 \times 200) \text{ cm} \\
 &= 2400 \text{ cm} \times 1800 \text{ cm} \\
 &= 4320000 \text{ cm}^2 \\
 &= 432 \text{ cm}^2 \quad (\mathbf{D})
 \end{aligned}$$

$$\begin{aligned}
 49. \text{ Kayu yang telah terpotong menggunakan menggunakan mesin selama 4 menit} &= \frac{4}{6} - \frac{2}{3} \\
 \text{bagian.} \\
 \text{Kayu yang belum terpotong } 1 - \frac{2}{3} &= \frac{1}{3} \text{ bagian.}
 \end{aligned}$$

Jadi, waktu yang dibutuhkan untuk memotong  $\frac{1}{3}$  bagian kayu dengan menggunakan gergaji tangan =  $\frac{1}{3} \times 18$  menit = 6 menit. **(B)**

$$\begin{aligned}
 50. \quad x : y & \qquad \frac{45}{100} \times 27,8 \\
 \frac{\quad}{100} \times 45 &: \frac{45}{100} \times 27,8 \\
 x = y & \quad (\mathbf{C})
 \end{aligned}$$

$$\begin{aligned}
 51. \quad x &= 3p^2 + 5 \quad \parallel y = 2p^2 + 4 \\
 &= (2p^2 + 4) + (p^2 + 1) \quad \parallel \\
 &= y + (p^2 + 1) \\
 \parallel \text{ Jadi, } x &> y \quad (\mathbf{A})
 \end{aligned}$$

52. 70, 70, 70, **80**, 80, 85, 90  
Median = 80 (nilai tengah) **(C)**

$$\begin{aligned}
 53. \quad \frac{10a + 10b + 10c + \dots}{30} &= 10 \qquad \frac{a+b+c+\dots}{30} = p \\
 & \qquad \qquad \qquad \frac{a}{3} + \frac{b}{3} + \frac{c}{3} + \dots = p \\
 & \qquad \qquad \qquad \frac{a+b+c+\dots}{3} = 10p \quad (\mathbf{B})
 \end{aligned}$$

$$54. \quad 560 : 112 + \frac{112}{4} = \frac{\quad}{\quad}$$

$$560 : 140 = 4 \text{ hari (C)}$$

55. Dengan kecepatan 50 mil/jam dapat menempuh 20 mil/galon bensin.  
Dengan kecepatan 60 mil/jam, jarak yang dapat ditempuh berkurang 12%, menjadi:

$$\begin{aligned}
 &= 20 \text{ mil} - 12\% \times 20 \text{ mil} \\
 &= 20 \text{ mil} - 2,4 \text{ mil} \\
 &= 17,6 \text{ mil}
 \end{aligned}$$

Jadi, terdapat 11 galon bensin, maka jarak yang ditempuh =  $11 \times 17,6 \text{ mil} = 193,6 \text{ mil}$  **(D)**

$$\begin{aligned}
 56. \quad &n(S) = 100 \\
 &n(O) = 39 \\
 &n(O \cap m) = 11 \\
 &n(O \cup m) = 32 \\
 &n(m)? \\
 &n(S) - n(O \cup m) = (O) + n(m) - n(O \cap m) \\
 &100 - 32 = 39 + n(m) - 11 \\
 &100 - 32 = 28 + n(m) \\
 &68 = 28 + n(m) \\
 &n(m) = 68 - 28 = 40 \text{ (C)}
 \end{aligned}$$

$$\begin{aligned}
 57. \quad &n(S) = 60 \\
 &n(A) = 37 \\
 &n(B) = 19 \\
 &n(A \cup B) = x \\
 &n(S) - n(A \cup B) = n(A) + n(B) - n(A \cap B) \\
 &60 - x = 37 + 19 - n(A \cap B) \\
 &n(A \cap B) = x + 56 - 60 \\
 &\quad \quad \quad = x - 4 \quad \quad \quad \text{(B)}
 \end{aligned}$$

$$\begin{array}{cccccc}
 58. & 8 & 24 & 22 & 56 & 28 & \underline{124} \\
 & \underbrace{\hspace{1.5cm}} & \underbrace{\hspace{1.5cm}} & \underbrace{\hspace{1.5cm}} & \underbrace{\hspace{1.5cm}} & \underbrace{\hspace{1.5cm}} & \\
 & +16 & -2 & +34 & -38 & +106 & \\
 & \underbrace{\hspace{1.5cm}} & \underbrace{\hspace{1.5cm}} & \underbrace{\hspace{1.5cm}} & \underbrace{\hspace{1.5cm}} & \underbrace{\hspace{1.5cm}} & \\
 & -18 & +36 & -72 & +144 & & \\
 & \underbrace{\hspace{1.5cm}} & \underbrace{\hspace{1.5cm}} & \underbrace{\hspace{1.5cm}} & \underbrace{\hspace{1.5cm}} & & \\
 & x(-2) & x(-2) & x(-2) & & & 
 \end{array}$$

Pola: deret bersusun 3 dengan susunan nomor satu dengan mengalikan (-2). **(B)**

$$\begin{array}{ccccccccc}
 59. & D & E & E & F & F & G & G & H & H \\
 & 4 & 5 & 5 & 6 & 6 & 7 & 7 & 8 & 8 \\
 & \underbrace{\hspace{1.5cm}} & \underbrace{\hspace{1.5cm}} & \underbrace{\hspace{1.5cm}} & \underbrace{\hspace{1.5cm}} & \underbrace{\hspace{1.5cm}} & \underbrace{\hspace{1.5cm}} & \underbrace{\hspace{1.5cm}} & \underbrace{\hspace{1.5cm}} & \underbrace{\hspace{1.5cm}} \\
 & & \text{sama} & & \text{sama} & & \text{sama} & & \text{sama} & \\
 & & \underbrace{\hspace{1.5cm}} & & \underbrace{\hspace{1.5cm}} & & \underbrace{\hspace{1.5cm}} & & \underbrace{\hspace{1.5cm}} & \\
 & & +1 & & +1 & & +1 & & & 
 \end{array}$$

Pola 2 tingkat dapat diselesaikan seperti gambar di atas. **(C)**

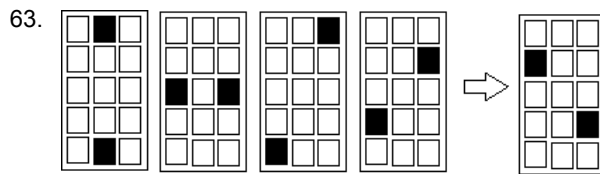
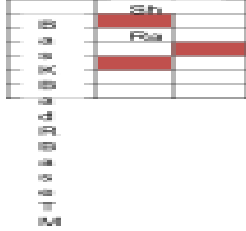
60. Dengan hukum silogisme, maka kesimpulannya adalah: sebagian menu restoran B dengan bahan organik diolah dengan cara tidak digoreng. Artinya, sebagiannya lagi digoreng. **(C)**

61. Kuliah kurang dari 4 tahun  $\rightarrow$  karyawan A.

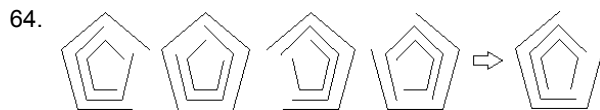
Karyawan A → dibeli motor.

Ternyata Tono tidak dibeli motor. Berarti Tono bukan karyawan A dan kuliah lebih dari 4 tahun. **(B)**

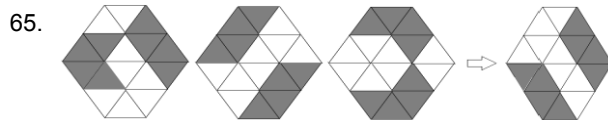
62. Maka jawabannya adalah Baseball. **(D)**



Kotak yang diblok adalah pasangan yang menghubungkan secara vertikal, horisontal, diagonal, dan semi diagonal. Jadi, bila dihubungkan, seluruh pasangan akan menghasilkan sisi kotak yang diblok. **(B)**



Pada gambar terdapat 3 buah segilima yang hilang satu sisinya. Perputaran masing-masing segilima adalah  $72^\circ$ . Segilima terluar berputar searah jarum jam. Segilima tengah dan paling dalam berputar berlawanan dengan arah jarum jam. **(D)**



Masing-masing gambar bergeser searah jarum jam sebanyak 2 segitiga. **(C)**



## PEMBAHASAN SOAL TES TKP (KARAKTERISTIK KEPRIBADIAN)