

Adı Soyadı:.....

NOT: PUAN:

No:.....

..... EĞİTİM ÖĞRETİM YILI İLKOKULU
4/..... SINIFI MATEMATİK DERSİ 2. DÖNEM 2. YAZILI SORULARI

1) Aşağıdaki doğal sayıların okunuşları yanlarında karışık olarak verilmiştir. Doğru olacak şekilde eşleştiriniz.(5 p)

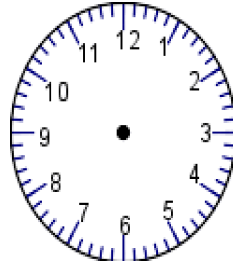
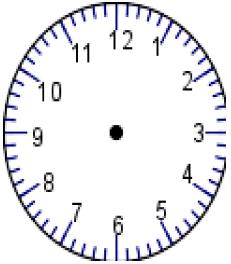
12 on iki
709 yirmi bin elli dokuz
4 401 altı yüz sekiz bin üç
20 059 dört bin dört yüz bir
608 003 yedi yüz dokuz

2) Aşağıdaki toplama ve çıkarma işlemleri yapınız.(5 p)

$$\begin{array}{r} 9\ 148 \\ +\ 5\ 927 \\ \hline \end{array}$$

$$\begin{array}{r} 9\ 407 \\ -\ 5\ 781 \\ \hline \end{array}$$

3) Aşağıdaki saatleri öğleden önce, öğleden sonra ve okunuşunu yaz. (10 p)



Öğleden önce:

Öğleden önce:

Öğleden sonra:

Öğleden sonra:

Okunuşu:

Okunuşu:

4) Aşağıdaki kesirlerle ilgili toplama işlemlerini yapınız. (5p)

$$\frac{9}{18} + \frac{7}{18} = \frac{\dots}{\dots}$$

$$2\frac{6}{20} + 1\frac{3}{20} = \dots \frac{\dots}{\dots}$$

5) Aşağıdaki kesirlerle ilgili çıkarma işlemlerini yapınız. (5p)

$$\frac{5}{12} - \frac{4}{12} = \frac{\dots}{\dots}$$

$$5\frac{7}{7} - 2\frac{3}{7} = \dots \frac{\dots}{\dots}$$

6) Bir işçinin 09.45'te başladığı iş, 6 saat 25 dakika sürmüştür. İşçi işini saat kaçta bitirmiştir?(5 p)

İŞLEM:



7) Aşağıdaki çarpma ve bölme işlemini yapınız. (10 p)

$$\begin{array}{r} 46 \\ \times 83 \\ \hline \end{array}$$

$$\begin{array}{r} 2376 \\ \div 6 \\ \hline \end{array}$$

8) Grafiğe göre, soruları cevaplayınız. (10 p)

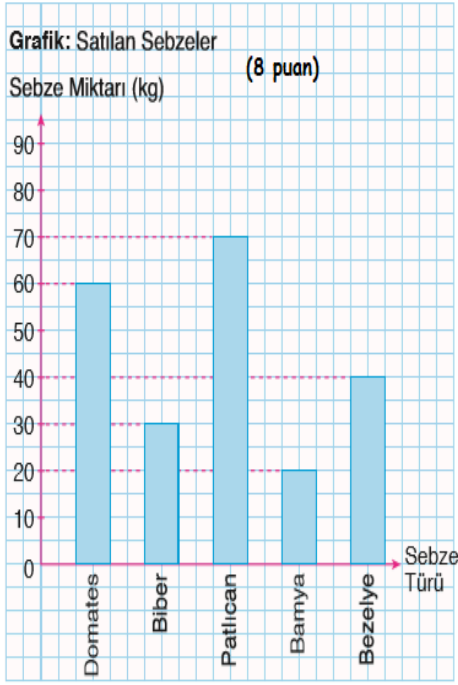
Yandaki sütün grafiđi, bir manavda satılan sebzele-
rin miktarlarını göstermek-
tedir. Grafiđe göre ařađı-
daki soruları cevaplayınız.

a) En fazla satılan sebze
hangisidir?

b) Toplam ka kg domates
ve patlıcan satılmıřtır?

c) Toplam ka kg sebze sa-
tılmıřtır?

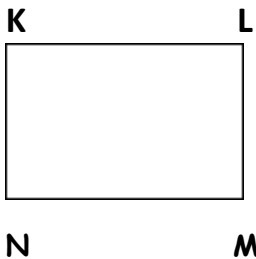
) En az satılan sebze han-
gisidir?



9) Yukarıdaki örüntüde soru işareti olan yere
hangi şekil gelmelidir? (5 p)



10) Ařađıdaki dikdörtgene verilen adlardan
hangisi **yanlıř** olmuřtur?



- A) LMNK
B) NKML
C) MNKL
D) KLMN

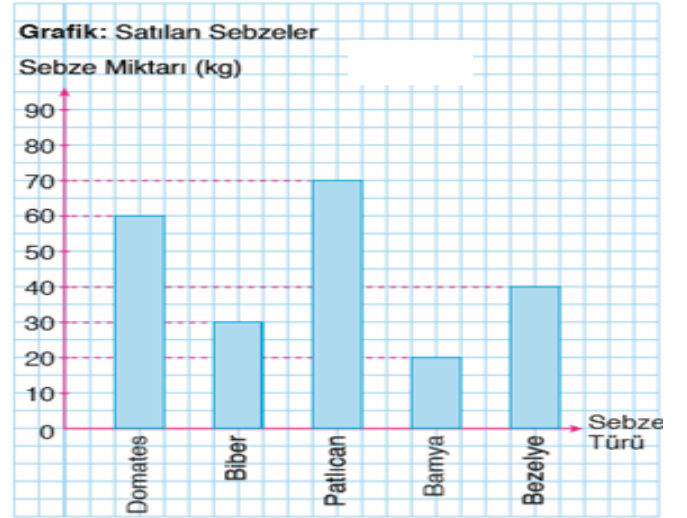
11) Ařađıda verilen üçgene verilebilecek adları
yazınız. (5 p)



12) Ali, 20.08.2012 tarihinde doğmuřtur,
15.05.2022 tarihinde ka yařında olur? (5 p)

İŐLEM:

13) Ařađıdaki sütün grafiđi, bir manavda satılan
sebzele-
rin miktarlarını göstermektedir.(10 p)



**Grafiđe göre ařađıdaki soruları
cevaplandırınız.**

(işlemlerinizi boşluklarda yapabilirsiniz.)

** En az satılan

sebze:.....

** En fazla satılan sebze:.....

** Ka kg domates satılmıř:.....

** Bütün sebzelerden toplam ka kg

satılmıř:.....

14) Bir sınıfta öğrencilerin sevdiđi spor dalları
sorulmuřtur.

Basketbol : 8

Futbol : 10

Voleybol : 5

Hentbol : 3

Yukarıdaki bilgilere göre, Őekil grafiđini, etele tablosunu ve sıklık tablosunu yap.(15 p)