



PROFESSOR(A): ARILSON, ROSANA	4ª ATIVIDADE
ANO DE ESCOLARIDADE: 2º	
COMPONENTES CURRICULARES: MATEMÁTICA E LÍNGUA PORTUGUESA	
EIXO ESTRUTURANTE/OBJETOS DO CONHECIMENTO: OS NÚMEROS E NÓS	
OBJETIVOS/HABILIDADES: (EF01MA08) Resolver e elaborar problemas de adição e de subtração, envolvendo números de até dois algarismos, com os significados de juntar, acrescentar, separar e retirar, com o suporte de imagens e/ou material manipulável, utilizando estratégias e formas de registro pessoais; (EF01MA01) Utilizar números naturais como indicador de quantidade ou de ordem em diferentes situações cotidianas e reconhecer situações em que os números não indicam contagem nem ordem, mas sim código de identificação; (EF01CI03) Discutir as razões pelas quais os hábitos de higiene do corpo (lavar as mãos antes de comer, escovar os dentes, limpar os olhos, o nariz e as orelhas etc.) são necessários para a manutenção da saúde.	

1) OBSERVE OS NÚMEROS PRESENTES NAS IMAGENS A SEGUIR.



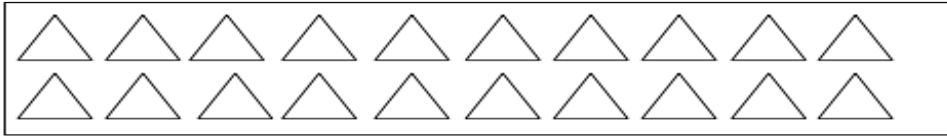
AGORA FAÇA O QUE SE PEDE.

A) CONTORNE AS IMAGENS QUE REPRESENTAM CÓDIGOS.

B) ASSINALE COM X AS IMAGENS QUE OS NÚMEROS REPRESENTAM MEDIDAS.



2) VEJA O GRUPO DE TRIÂNGULOS ABAIXO. FAÇA AGRUPAMENTOS DE 3 EM 3.

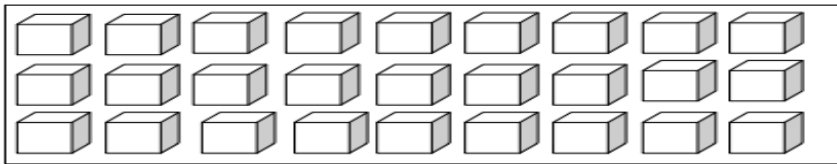


A) QUANTOS GRUPOS FORAM FORMADOS?

\_\_\_\_\_

B) SOBRARAM TRIÂNGULOS SEM GRUPO? \_\_\_\_\_.  
SE SIM, QUANTOS? \_\_\_\_\_.

3) VEJA O GRUPO DE CUBOS ABAIXO. FAÇA AGRUPAMENTOS DE 5 EM 5.



A) QUANTOS GRUPOS FORAM FORMADOS?

\_\_\_\_\_

B) SOBRARAM CUBOS SEM GRUPO? \_\_\_\_\_.  
SE SIM, QUANTOS? \_\_\_\_\_.

4) COMPLETE A COMPOSIÇÃO OU A DECOMPOSIÇÃO EM CADA ITEM.


A)  $54 =$  \_\_\_\_\_ DEZENAS + \_\_\_\_\_ UNIDADES.

B) \_\_\_\_\_ = 2 DEZENAS + 7 UNIDADES.

C)  $41 =$  \_\_\_\_\_ DEZENAS + \_\_\_\_\_ UNIDADE.

D) \_\_\_\_\_ = 6 DEZENAS + 6 UNIDADES.

5) MÔNICA LEU 5 GIBIS PELA MANHÃ E 7 GIBIS A TARDE. QUANTOS GIBIS ELA LEU NO TOTAL?



6) CEBOLINHA E MÔNICA ESTÃO BRINCANDO JUNTOS. ELE TROUXE 13 CARRINHOS E ELA 6 BONECAS. QUANTOS BRINQUEDOS ELES TEM JUNTOS?





ESTADO DO RIO DE JANEIRO  
PREFEITURA MUNICIPAL DE MACAÉ  
SECRETARIA MUNICIPAL DE EDUCAÇÃO  
SECRETARIA MUNICIPAL ADJUNTA DE EDUCAÇÃO  
**ESCOLA MUNICIPAL PROFESSORA SANDRA MARIA DE OLIVEIRA ARAÚJO FRANCO**

- 7) NO SÍTIO DE CHICO BENTO TEM 5 GALINHAS, 3 VACAS, 2 PORCOS E 4 CAVALOS.  
QUANTOS ANIMAIS AO TODO TEM NO SÍTIO DE CHICO BENTO?



Fonte: <https://www.colegioangloavare.com.br/site/wp-content/uploads/2020/03/atividade-mat-portugues-2ano.pdf>