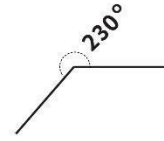
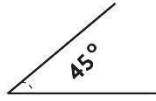
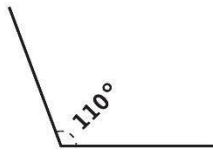


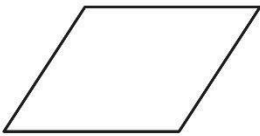
Un triángulo obtusángulo es aquel triángulo que tiene un ángulo mayor a 90°

Ejemplo:

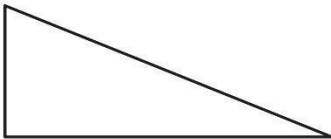


<http://www.matematicasmodernas.com>
Consulta 28/082019
Texto adaptado para fines didácticos MEAD

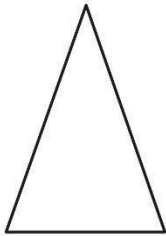
 **UNE con una línea las columnas según corresponda.**



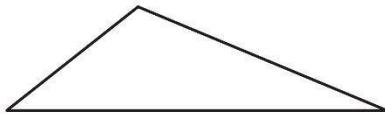
1. Triángulo que tiene un ángulo recto.



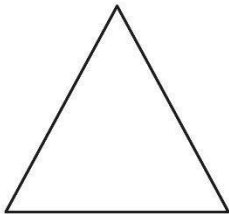
2. Está formado por 3 lados desiguales.



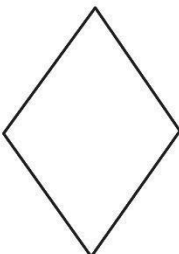
3. Tiene tres lados; dos iguales y uno diferente.



4. Cuadrilátero formado por dos triángulos equiláteros.



5. Cuadrilátero formado por 2 triángulos obtusangulos.



6. Tiene tres lados iguales, tres ángulos iguales, todos de 60° .

 **UNE con una línea los triángulos con el grupo al que pertenecen.**

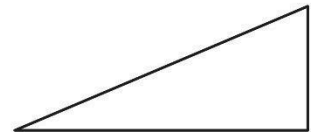
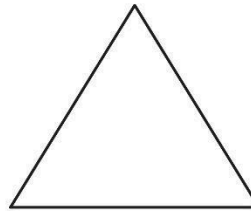
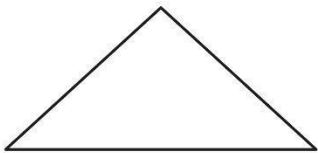
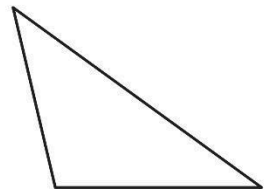
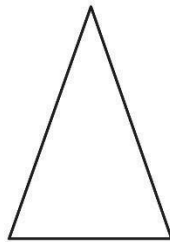
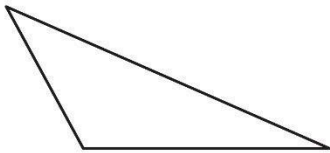
Triángulo escaleno
que es rectángulo

Triángulo isósceles
que es rectángulo



Triángulo isósceles
que no es rectángulo

Triángulo isósceles
que no es rectángulo
ni es equilátero.

Triángulo isósceles
que no es rectángulo
ni equilátero



 **MIDE los ángulos y contesta lo que se te pide.**



¿Cuál de las tres figuras tiene 4 ángulos rectos? _____

¿Cuánto miden los ángulos del rombo? _____

¿Cuánto miden los ángulos del triángulo isósceles? _____





LEE en tu libro de Formación Cívica y Ética, las páginas 18 a la 21, y contesta lo que se pide.

¿Para qué fueron creados los derechos?

Documento que protege los Derechos de las Niñas, Niños y Adolescentes.



INVESTIGA y escribe ejemplos de violencia psicológica, sexual y física.

Psicológica

Sexual

Física



ENCIERRA las imágenes siguiendo el código de colores según el tipo de abuso infantil que corresponde, y escribe debajo de las imágenes el derecho que se está incumpliendo.

explotación - negro

maltrato - amarillo

abuso - rojo

VISITA:

<https://materialeducativo.org/>

&

<https://materialeseducativos.m>

X