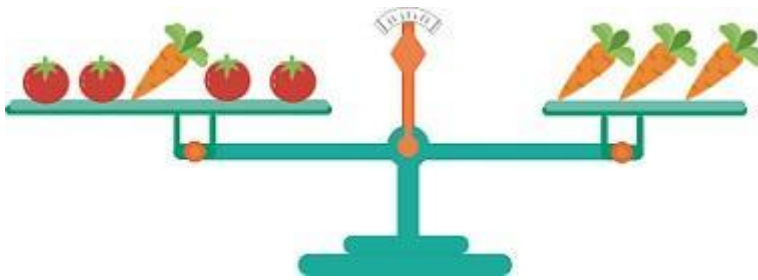



Խնդիր 1.

Քանի՞ լուլիկ է կշռում մեկ գազարը:



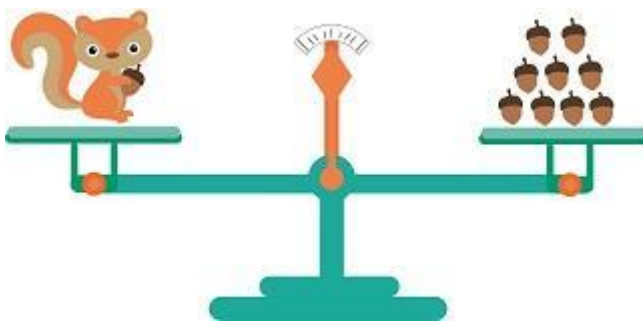
Խնդիր 2.

Որոշել մեկ սնկի զանգվածը:



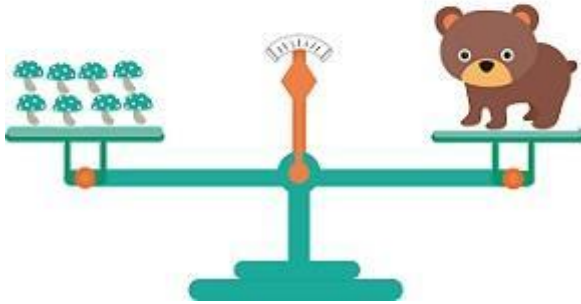
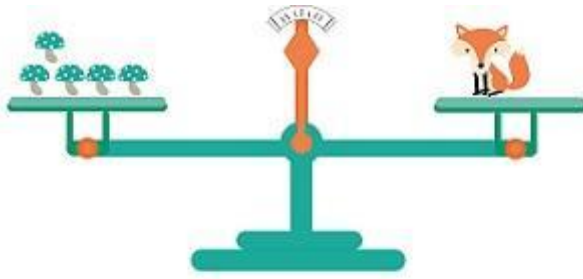
Խնդիր 3

Քանի՞ կաղին է կշռում սկյուռիկը:



Խնդիր 4

Ո՞րն է ավելի ծանր՝ արջուկը, թե՞ աղվեսը:



Խնդիր 5

Քանի՞ խաղող է կշռում մեկ լոլիկը:

