

## ESCOLA MUNICIPAL RITA CARMELINDA ROCHA

PROFESSOR(A): Leidiana da Silva Acres

Ano: 2021

4º Ciclo 9º ano

Atividade Nº19

Disciplina: Geografia

Turno: Manhã

Data: 13/08/2021

Habilidades: EF09GE05

### ORIENTAÇÕES AOS PAIS E RESPONSÁVEIS

Sempre que possível, ajude seu (sua) filho(a), a executar as atividades que estão sendo proposta neste momento de ensino a distância

### DICA PARA O ALUNO(A)

Responda a atividade com seu nome completo, turma e turno.

Após terminar esta atividade, encaminhe no meio de comunicação, disponibilizado para isso.

### QUER SABER MAIS

Dicas de pesquisa e aprofundamento do componente

PARA SABER MAIS

## A globalização e os fluxos econômicos mundiais

A mundialização da economia, um processo também conhecido como globalização econômica, ampliou a circulação planetária de diversos tipos de fluxos: mercadorias, capitais, informações e pessoas. Para se ter uma ideia de sua importância econômica, a circulação de mercadorias movimentou em 2017 aproximadamente 36 trilhões de dólares.

Observe a tabela abaixo, que se refere à evolução das importações e exportações mundiais.

Evolução do comércio de mercadorias no mundo - 1948-2017		
Anos	Exportações (em bilhões de dólares)	Importações (em bilhões de dólares)
1948	59	62
1957	114	121
1967	218	228
1977	1 128	1 171
1987	2 516	2 584
1997	5 592	5 739
2007	14 026	14 331
2017	17 707	18 065

Fonte: WTO (World Trade Organization). Disponível em: <<http://stat.wto.org/StatisticalProgram/WSDBViewData.aspx?Language=E>>. Acesso em: 13 nov. 2018.

## Os fluxos de mercadorias


Os avanços nos meios de transporte e de comunicação ampliaram a circulação de mercadorias no espaço geográfico. Podemos observar isso, por exemplo, por meio da grande quantidade de produtos provenientes dos mais diversos locais do mundo acessíveis em lojas próximo de onde moramos. A criação e o aperfeiçoamento de meios de transporte, como automóveis, caminhões,

trens, aviões, navios cargueiros e petroleiros, deram rapidez e segurança para o transporte de mercadorias entre os países e no interior deles.

Veja exemplos de produtos comuns no nosso dia a dia e que, muitas vezes, são importados.

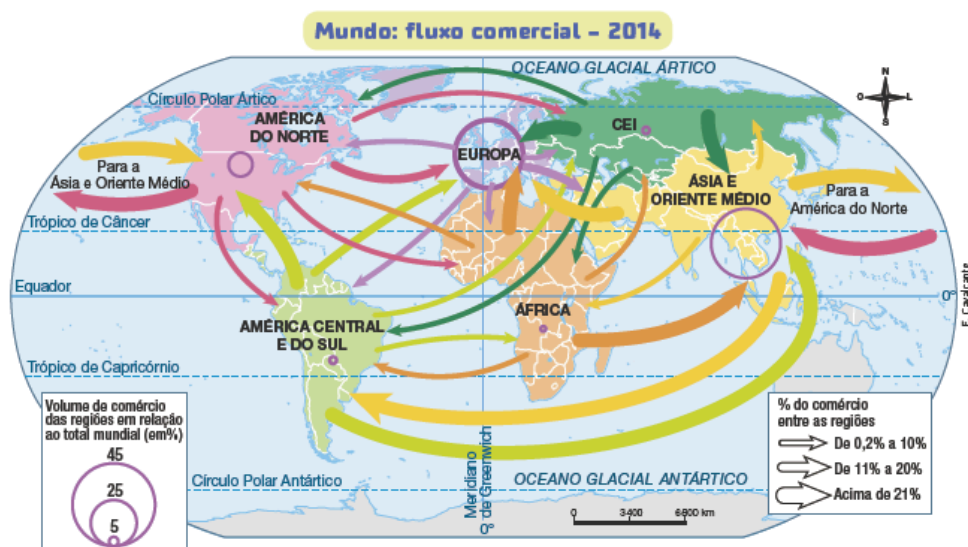


Roupa produzida na Itália.



Componentes de computador fabricados na China.

Atualmente, cerca de 90% do comércio internacional, ou seja, quase sua totalidade, ocorre por via marítima. Estima-se que em 2016 foram transportados no mundo todo cerca de 10 bilhões de toneladas de cargas. Os transportes por via aérea, apesar de estarem em crescimento, ainda são usados, preferencialmente, para o transporte de cargas ou de produtos perecíveis, como alguns alimentos.



Fonte: WTO (World Trade Organization). International Trade Statistics 2015. Disponível em: <[https://www.wto.org/english/res\\_e/statistics/its2015\\_e/its2015\\_e.pdf](https://www.wto.org/english/res_e/statistics/its2015_e/its2015_e.pdf)>. Acesso em: 7 nov. 2018.

Conforme podemos observar no mapa acima, o fluxo mundial de mercadorias e produtos é muito desigual. Com exceção da China, que é uma potência emergente, a maior parte do comércio mundial (importações e exportações) é realizada pelos países desenvolvidos.

Os produtos industrializados que, em geral, têm maior valor econômico e propiciam maiores lucros são exportados, sobretudo, por países como Estados Unidos, Alemanha, Inglaterra, França, Japão e China.

Já a América Latina se destaca pela produção agropecuária, de combustíveis e minérios, enquanto a Rússia e os países do Oriente Médio abastecem o mercado mundial com gás natural e petróleo. O continente africano, por sua vez, possui muitas riquezas minerais em seu subsolo, que representam a maior parte de suas exportações.

O Brasil, além de constituir um grande exportador mundial de produtos agropecuários, exporta produtos com elevada tecnologia, como automóveis e aviões.

## ATIVIDADES

1-O que é globalização?

2- O que os avanços tecnológicos aplicados às telecomunicações e ao setor de transporte possibilitaram?

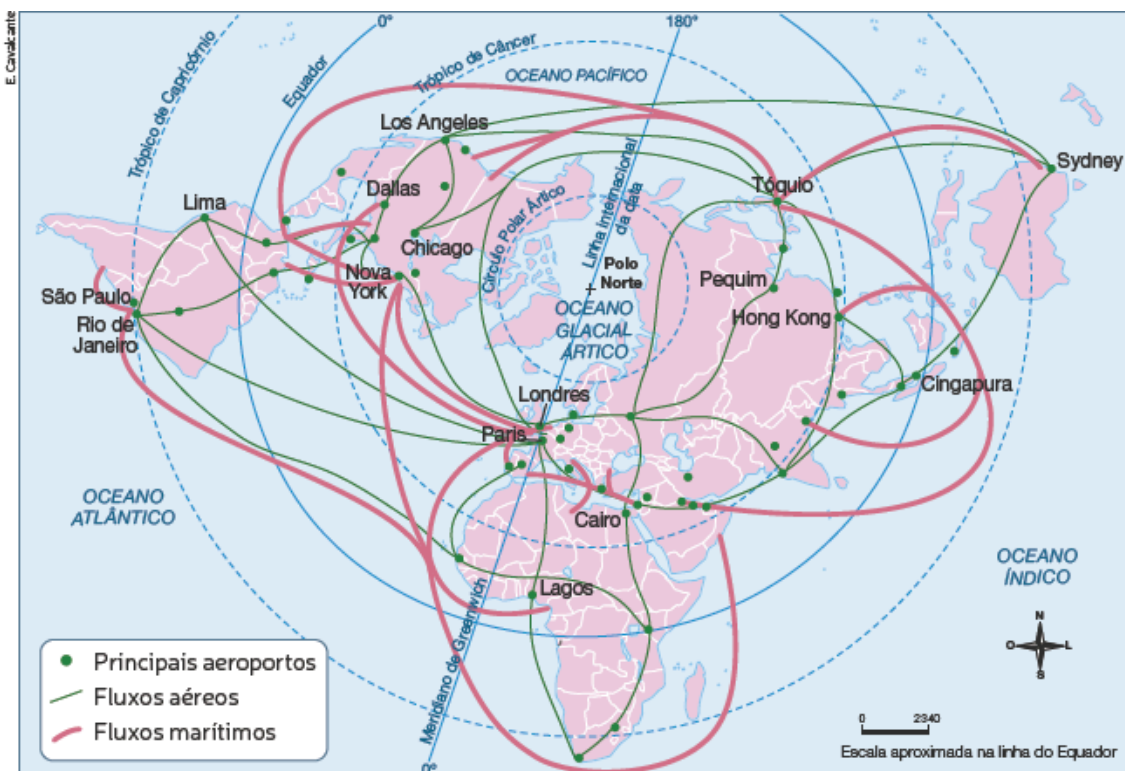
3- O que é OMC?

4- Observe o planisfério abaixo e responda às questões a seguir.

a ) Que aspecto do mundo globalizado é mostrado no planisfério abaixo?

b ) De que maneira o aprimoramento dos meios de transporte contribuiu para o aumento do comércio mundial?

### Mundo: fluxos de transportes - 2009



Fontes: FERREIRA, Graça Maria Lemos. Atlas geográfico espaço mundial. 4. ed. São Paulo: Moderna, 2013. p. 55. IBGE. Atlas geográfico escolar. 7. ed. Rio de Janeiro, 2016. p. 82.