



التقويم التشخيصي الرياضيات

المستوى : الثاني

اسم التلميذ :

1

صل (ي) بخط كل عدد مكتوب بالحروف بالعدد المكتوب بالأرقام الذي يناسبه :

- | | |
|---------------------|---------|
| • 1. ثمانية وأربعون | • أ. 69 |
| • 2. خمسون | • ب. 55 |
| • 3. تسعة وستون | • ج. 50 |
| | • د. 48 |

2

رتب (ي) هذه الأعداد من الأكبر إلى الأصغر:

67 - 54 - 65 - 51 - 76 - 59

□ → □ → □ → □ → □ → □

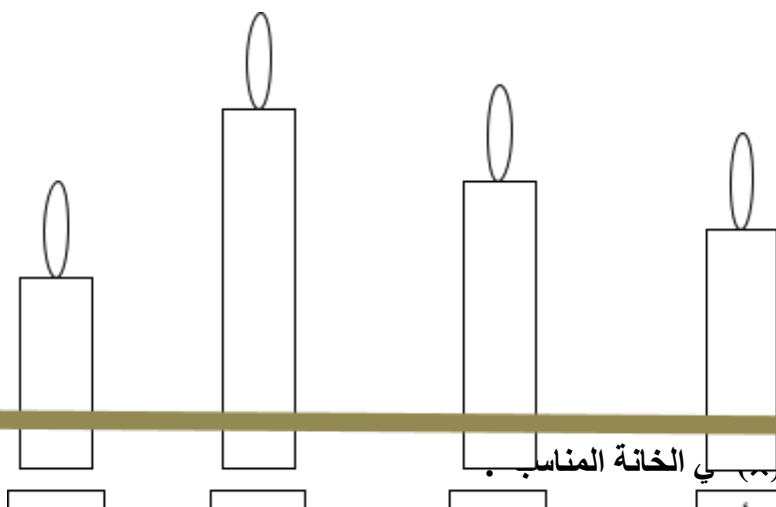
3

احسب (ي) المجموع :

$$\begin{array}{r} 78 \\ + 13 \\ \hline \end{array}$$


4

ضع (ي) علامة (x)



5

ضع (ي) علامة (x) في الخانة المناسبة.




- أ- التفاح أخف من العنب
ب- التفاح أثقل من العنب
ج - التفاح له نفس وزن العنب

☐ ☐
☐ ☐
☐ ☐

6

أى تم تمييز الساعة :



تشير الساعة إلى:

7

لشراء لعبة ثمنها 17 درهما، اختر/اختاري القطع النقدية المناسبة.
ضع (ي) علامة (x) تحت القطع التي ستختارها/ستختارينها:


☐
☐
☐
☐
☐


8

أكمل (ي) كتابة أيام الأسبوع :

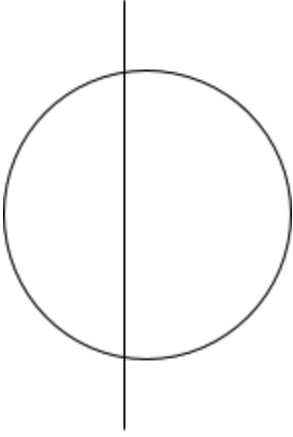
الأحد	الخميس	الثلاثاء
-------	-------	-------	--------	-------	----------	-------

9

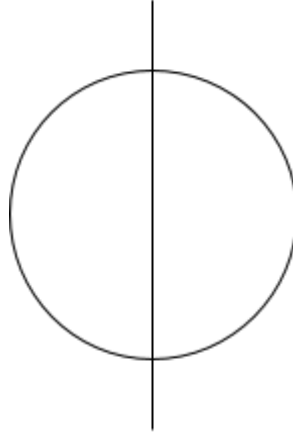
لوّن (ي) ما تحمله عائشة بيدها اليمنى:



ضع (ي) علامة (x) تحت الرسم الذي يمثل تماثلاً :



ب



أ