

الموسم الدراسي: 2022/2023	المراقبة المستمرة -2- الأسدس الأول (الاجتماعيات)	المؤسسة:
التاريخ:		المستوى: السادس ابتدائي
الاسم:		

10

أقرأ النص وأقوم بتحليله بتتبع الخطوات المنهجية الآتية :

"وفي عام اثنين و تسعين و مائة هجرية (808 م) أسس ادريس الثاني عدوة الأندلس... ثم شرع في بناء عدوة القرويين... وبنيت بفاس...دار السكة...الفنادق و الحمامات و الارحاء و الأسواق...و قصد الناس إليها من الأندلس و افريقية... وجميع بلدان المغرب وبنى بها جامع القرويين".

علي بن ابي زرع الفاسي,(المتوفي عام 741 هـ/1340 م) الانيس المطرب بروض القرطاس في أخبار المغرب و تاريخ مدينة فاس, دار المنصور للطباعة و الوراقة, الرباط 1972. ص 37-69 (بتصرف)

(1) أضع النص في اطاره الزمني و المكاني بتعبئة الجدول: (ن2)

ما نوع النص؟	مقتطف من كتاب
ما مصدره؟
من صاحبه؟
ما تاريخ كتابته؟
ما موضوعه؟

(2) أشرح المفردات الآتية بالرجوع الى تعليماتي (ن2)

.....	دار السكة
.....	الحمامات

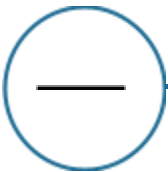
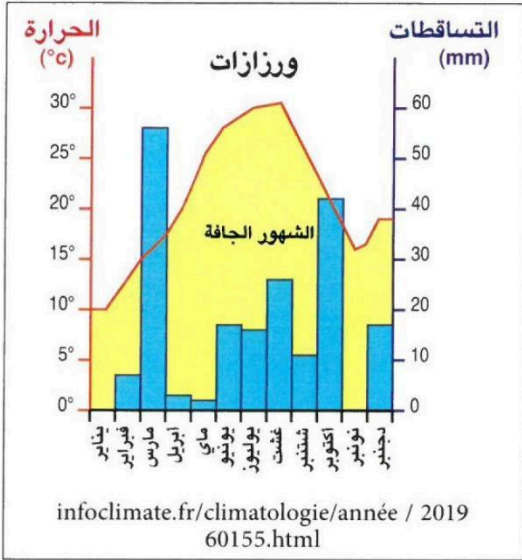
الفنادق

المسكوكات

(3) استخراج معلومات من النص: (3ن)

- من بنى فاس؟.....
- تاريخ التأسيس:.....
- أهم المرافق:.....

(4) أكتب فقرة أبرز فيها الاشعاع التجاري لمدينة فاس في عهد الادارسة: (3ن)



(a) أقرأ المبيان وأقوم بما يلي :
❖ أحدد موقع مدينة ورزازات: (1ن)

.....
❖ أصف تطور درجات الحرارة خلال السنة, وأسمي الأشهر الاعلى حرارة: (2ن)
.....
.....
.....
.....

.....
❖ أحدد الاشهر الجافة و فترة امتدادها: (1ن)
.....
.....

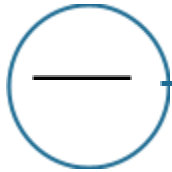
.....
❖ أرصد تطور التساقطات خلال شهور السنة: (5,1ن)
.....
.....

.....
❖ أستنتج خصائص المناخ الصحراوي في المغرب: (1ن)
.....
.....

(b) أكمل الفقرة بملء الفراغات بما يناسب من العبارات الاتية: (3,5 ن)

الغطاء النباتي - أشكال التضاريس - الموقع العرضي - التربة - الحرارة و التساقطات - فرشاة مائية - الجريان .

" المؤهلات الطبيعية هي كل الثروات المتوفرة في مجال جغرافي معين, وتضم مجموعة من المكونات المترابطة فيما بينها, مثلوكيفية انتظامها, و طبيعة المناخ من خلال....., وتأثير ذلك في توزيع وانعكاسها على السطح ك.....والاحواض المائية, أو يختزنه باطنها من و تأثير ذلك في طبيعةومدى خصوبتها و تنوع....."



(1) الحق في احترام الحياة الخاصة :

قام هشام بفتح حساب له في الفيس بوك, و نشر فيه صورة لاصدقائه : محمد, علي, عائشة وسهام الذين حضروا عيد ميلاده. كما أدرج ايضا اسم مدستهم وانشطة تعاونية القسم, دون استشارتهم وطلب الاذن منهم.

✓ أقرأ النص, وأبدي رأيي في ما يلي:

o هل يحق لهشام استخدام معلومات تتعلق بالحياة الخاصة لاصدقائه أم لا؟ وأفسر لماذا؟ (5ن)

.....

.....

.....

o لو استعمل هشام الصور لانشاء ألبوم للصور بحاسوبه الشخصي دون نشرها في الفيس بوك:
a هل في ذلك مساس بالحياة الخاصة لاصدقائه أم لا؟ (5,2ن)

.....

.....

b هل يطبق في حقه قانون حماية المعطيات ذات الطابع الشخصي؟ (5,2ن)

.....