




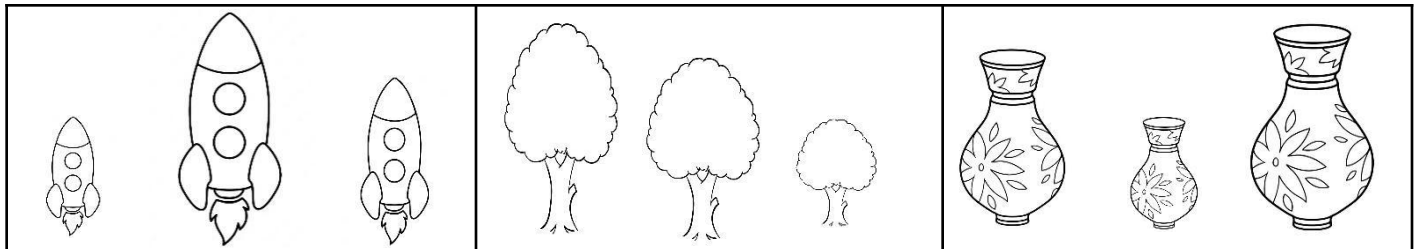
# VUI HỌC TOÁN TUẦN 24

## Bài 1:

a.Đánh dấu X vào hình dài hơn



b.Khoanh tròn vào hình ngắn nhất:



## Bài 2: Khoanh tròn đáp án đúng

Câu 1: xăng – ti- mét viết tắt là:

- A. ctm
- B . cm
- C. CM

Câu 2: Kết quả của phép tính  $8 + 2 - 5$  là:

- A. 5
- B . 10
- C. 8

Câu 3: Số lớn nhất có 2 chữ số khác nhau là:

- A. 99
- B. 98
- C. 97


Câu 4: Dấu cần điền vào  $87 \dots\dots\dots 32$  là:

- A. >
- B. =
- C. <

Câu 5: Số liền sau số tròn chục bé nhất là:

- A. 9
- B. 10
- C. 11

Bài 3: Điền dài hơn, ngắn hơn vào chỗ chấm cho thích hợp:



Đoạn thẳng AB ..... đoạn thẳng CD

Đoạn thẳng CD ..... đoạn thẳng AB

## Bài 5: Tính

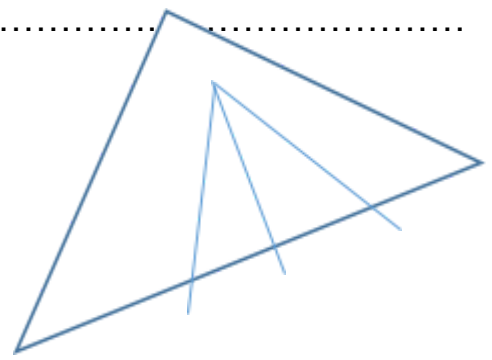
$3 + 10 = \dots\dots\dots$	$8 - 2 = \dots\dots\dots$	$4 \text{ cm} + 3 \text{ cm} = \dots\dots\dots$	$9 \text{ cm} - 3 \text{ cm} = \dots\dots\dots$
$10 + 30 = \dots\dots\dots$	$10 - 7 = \dots\dots\dots$	$5 \text{ cm} + 5 \text{ cm} = \dots\dots\dots$	$7 \text{ cm} - 5 \text{ cm} = \dots\dots\dots$
$4 + 5 = \dots\dots\dots$	$9 - 9 = \dots\dots\dots$	$1 \text{ cm} + 8 \text{ cm} = \dots\dots\dots$	$6 \text{ cm} - 0 \text{ cm} = \dots\dots\dots$

**Bài 4:** Cho 3 số sau: **4, 7, 1**. Hãy lập các số có 2 chữ số:

- a. Lập được .....số. Các số đó là: .....
- b. Số bé nhất trong các số trên là: .....
- c. Sắp xếp các số theo thứ tự từ lớn đến bé: .....

**Bài 5:** Cho hình vẽ sau:

- Có ..... hình tam giác



**Bài 6:** Đ hay S

- a. Số liền trước của 20 là 21:.....
- b. Số lớn nhất có hai chữ số là 99: .....
- c. Số 65 gồm 6 chục và 5 đơn vị: .....
- d. Một chục = 100 đơn vị: .....
- e. Số tròn chục lớn nhất có hai chữ số là 10: .....
- g. Số 78 viết là 87: .....
- k.  $42 < 76 < 98$ : .....