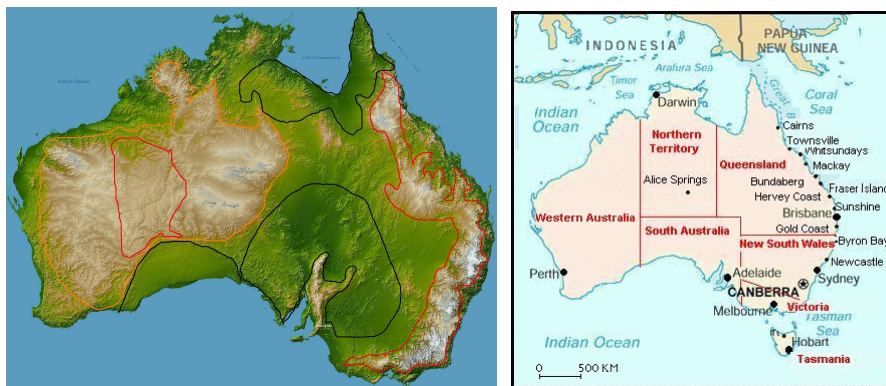


LISTA DE EXERCÍCIOS DE GEOGRAFIA
3º TRIMESTRE – 2011 – 8ª SÉRIE – AULA 1

Este gabarito tem como objetivo apenas mostrar as respostas certas aos alunos, auxiliando-os na correção. Não é para copiar as respostas, mas sim, para corrigir e/ou completar o que já foi feito durante a aula.

1) Escreva as principais características do relevo australiano:

R: Apresenta planaltos nas extremidades e planícies na região central. Suas altitudes variam entre 300 e 600 metros. A Cordilheira Australiana, localizada na porção oriental do país possui o ponto culminante, Monte Kosciusko, com 2230m.



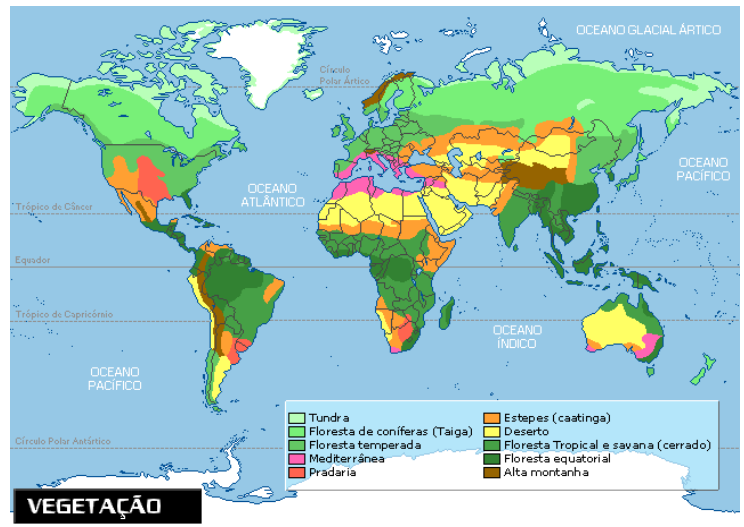
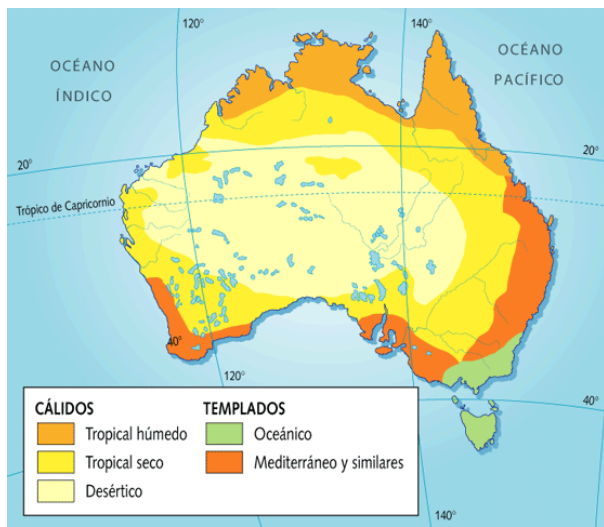
2) Por que podemos dizer que o relevo da Austrália é parecido com o brasileiro?

R: Porque predominam formações antigas com baixas altitudes e grande desgaste erosivo.

3) Caracterize o clima e vegetação da Austrália:

R: Clima: possui grande variedade climática, apresenta climas úmidos, como o tropical, que ocupa a porção norte da ilha, e o temperado que abrange o extremo oriente. Ao sul, ocorre o clima mediterrâneo, com chuva no inverno e verão seco e prolongado. Contudo os tipos climáticos que predominam na Austrália são o desértico e o semiárido.

Vegetação: é condicionada diretamente por fatores climáticos, a maior parte do país é ocupada por vegetação desértica, com poucas espécies e predomínio de plantas adaptadas a situações de extrema seca, as xerófilas. Ainda ocorre a presença de vegetação arbustiva de pequena diversidade. No sul da Austrália encontra-se a vegetação mediterrânea.



4) Por que podemos dizer que, no início do século XIX, a Austrália ajudou a aliviar as situações de pressão no Reino Unido?

R: Nesse período a Austrália passou a ser uma espécie de presídio para pessoas consideradas criminosas no Reino Unido.

5) Qual a relação atual entre a sociedade australiana e os aborígenes?

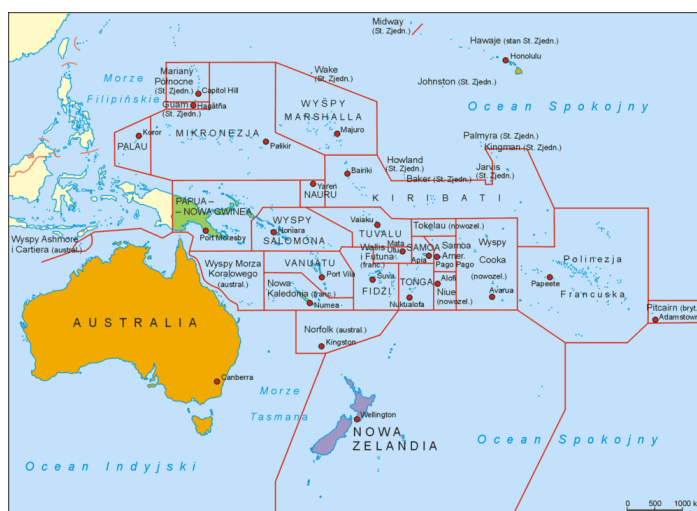
R: Parte da população acredita ser necessária a devolução de terras que foram retiradas a força dos aborígenes, primeiros habitantes do país. A sociedade admite que boa porção do desenvolvimento atual teve origem no sofrimento desses povos.

6) Por que na Austrália existe uma homogeneidade econômica e social entre o campo e a cidade?

R: O desenvolvimento econômico da sociedade australiana se baseou na produção agropecuária e na industrialização desses produtos. Assim, o campo e a cidade se desenvolveram conjuntamente.

7) Explique o processo de colonização da Austrália:

R: Quando os europeus chegaram a Austrália, estima-se que existiam cerca de 250 mil aborígenes na ilha. Os colonizadores utilizaram táticas bastante agressivas contra os nativos, principalmente com o objetivo de conquistar as melhores terras para o cultivo e de arrebatar a mão de obra escrava para o trabalho agrícola.



8) Sobre a Nova Zelândia, caracterize o relevo da porção norte e porção sul do país:

R: Porção Norte: origem vulcânica e recente, possui grande atividade sísmica e apresenta gêiseres. Possui também vastas planícies no litoral do pacífico.

Porção Sul: cortada pelos Alpes Neozelandeses, com altitudes que podem chegar a mais de 3500m, tendo o Monte Cook como ponto culminante do país.

9) Apresente os principais aspectos humanos da Nova Zelândia:

R: O processo de colonização inglesa foi muito violento, levando a morte de muitos maoris. Quase 70% da população neozelandesa é considerada descendentes de europeus, contudo, 8% da população é maori e, atualmente, busca os direitos que lhe foram tirados há cerca de 150 anos.

10) Quais os principais parceiros comerciais da Nova Zelândia?

R: Austrália, China, Estados Unidos e Japão.

Antes da prova, não esqueça de revisar a matéria do seu caderno e os últimos posts do Blog Loucos por Geografia.
E se tiver Facebook, curta e acompanhe a nossa página.

