



ACOMPANHAMENTO DE APRENDIZAGEM

AVALIAÇÃO

NOME: _____

TURMA: _____

DATA: _____

1. Marque com um X a alternativa correta.

- Os continentes e as ilhas são chamados de terras submersas.
- Os oceanos, mares, lagos e rios ocupam apenas um terço da superfície terrestre.
- O Brasil está localizado no continente americano.
- Apenas o Oceano Atlântico banha o continente americano.

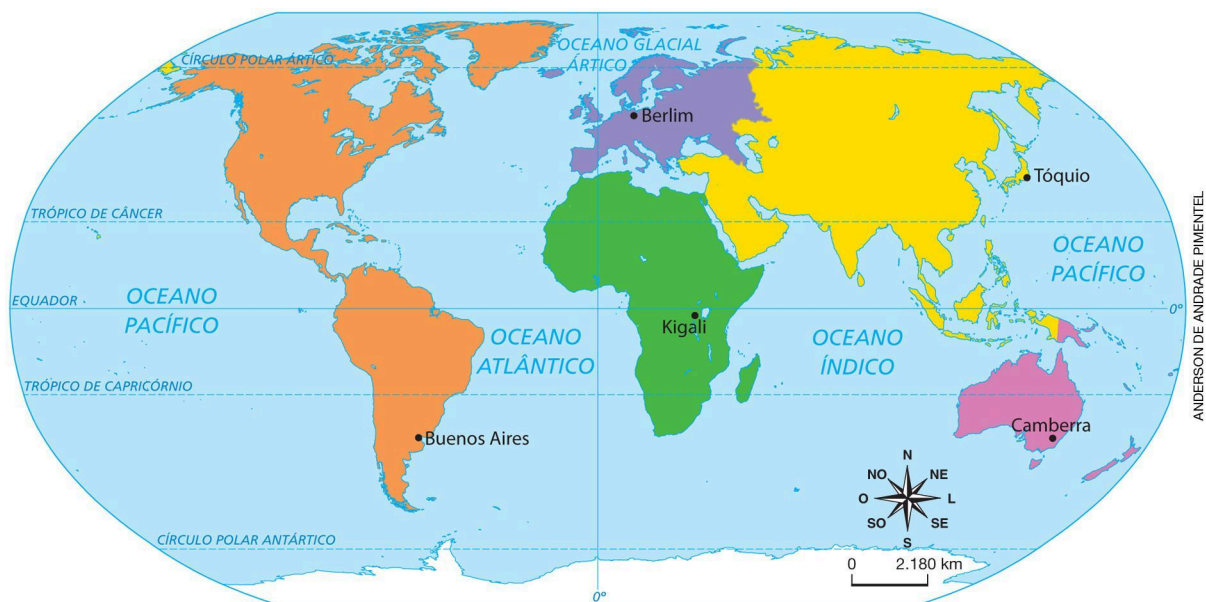
2. Complete as frases a seguir.

- Em relação à Linha do Equador, a maior parte do território brasileiro localiza-se no hemisfério _____.
- Apenas uma pequena porção do território brasileiro localiza-se no hemisfério _____.
- Em relação ao Meridiano de Greenwich, todo o território brasileiro localiza-se no hemisfério _____.



3. Observe o planisfério e complete o quadro indicando os continentes onde se localizam as cidades em destaque.

Planisfério: continentes



Fonte: IBGE. *Atlas geográfico escolar*. 7. ed. Rio de Janeiro: IBGE, 2016.

Cidade	Continente
Kigali	
Berlim	
Camberra	
Buenos Aires	
Tóquio	



4. Observe o mapa abaixo e marque com um X a alternativa correta.

América do Sul: político



Fonte: IBGE. *Atlas geográfico escolar*. 7. ed. Rio de Janeiro: IBGE, 2016.

- a) O Brasil faz fronteira com todos os países da América do Sul.
- b) Os únicos países que não fazem fronteira com o Brasil são Bolívia e Equador.
- c) O país que tem a maior área de fronteira com o Brasil é o Chile.
- d) O Brasil é o maior país da América do Sul em extensão territorial.





5. O planisfério a seguir mostra os cinco países mais extensos. Quais são eles?

Os cinco países mais extensos



Fonte: IBGE. *Atlas geográfico escolar*. 7. ed. Rio de Janeiro: IBGE, 2016.

6. Escreva o que foi o Tratado de Tordesilhas.





8. Marque com um X a alternativa que indica o título correto para o mapa.



ANDERSON DE ANDRADE PIMENTEL

Fonte: IBGE. *Atlas geográfico escolar*. 7. ed. Rio de Janeiro: IBGE, 2016.

- a) Brasil: municípios.
- b) Brasil: unidades federativas.
- c) Brasil: grandes regiões.
- d) Brasil: regiões geoeconômicas.



9. Leia as frases abaixo e escreva V (verdadeiro) ou F (falso) ao final de cada frase.

- Os vereadores elaboram as leis do município e fiscalizam o trabalho do prefeito. ()
- Nos Conselhos Municipais são debatidos os problemas do município e são propostas melhorias. ()
- O prefeito governa uma unidade federativa. ()
- Na Câmara Municipal a população não pode participar ou assistir às sessões em que são votadas as leis municipais. ()

10. Marque com um X a alternativa correta sobre as paisagens do município.

- a) Todos os municípios têm apenas área rural.
- b) Alguns municípios têm apenas área urbana.
- c) Todos os municípios têm área rural e urbana.
- d) Os municípios sem área rural não têm prefeito.

11. Observe a imagem abaixo e marque com um X a alternativa correta.



- a) O banco está localizado na direção norte.
- b) A biblioteca está localizada na direção sul.
- c) A prefeitura está localizada na direção leste.



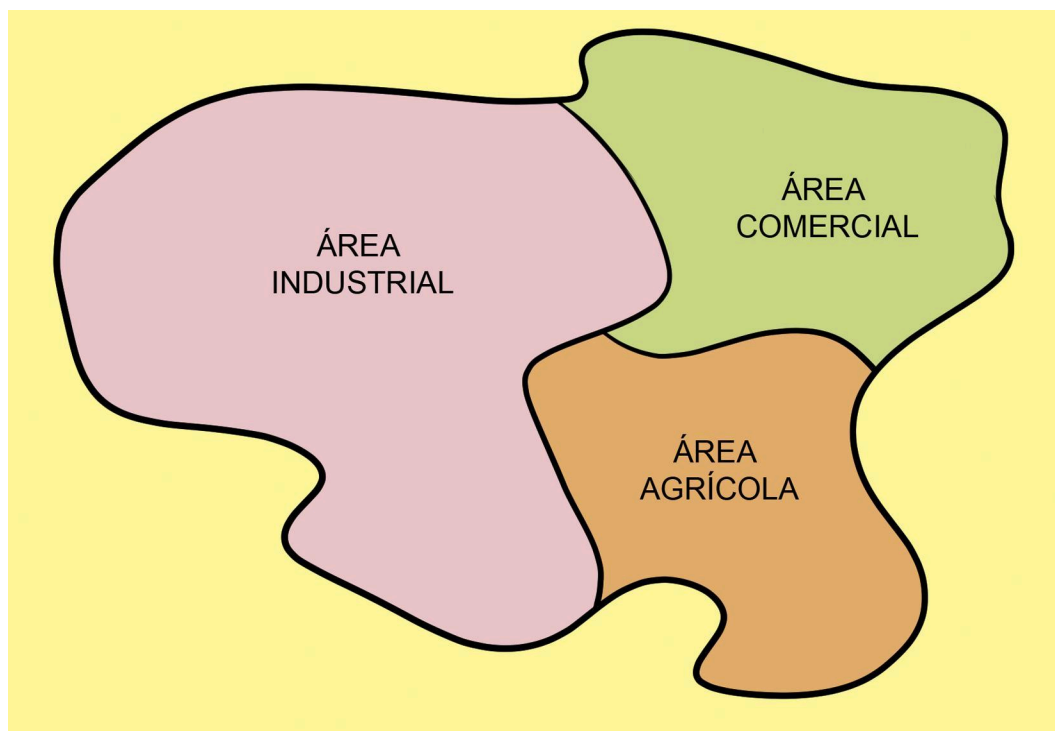
d) A escola está localizada na direção leste.



12. O que significa a sigla IBGE? O que esse órgão faz?

13. Observe a representação abaixo e marque com um X a alternativa que indica o critério utilizado nesta regionalização.

Município Algodoeiro



Representação sem escala para fins didáticos.

- a) Divisão entre paisagens naturais e culturais.
- b) Divisão por atividades econômicas.
- c) Divisão por características naturais.
- d) Divisão por regiões administrativas.



14. De acordo com a divisão regional feita pelo IBGE, pinte, no mapa abaixo, a região brasileira onde você vive. Dê um título ao mapa.

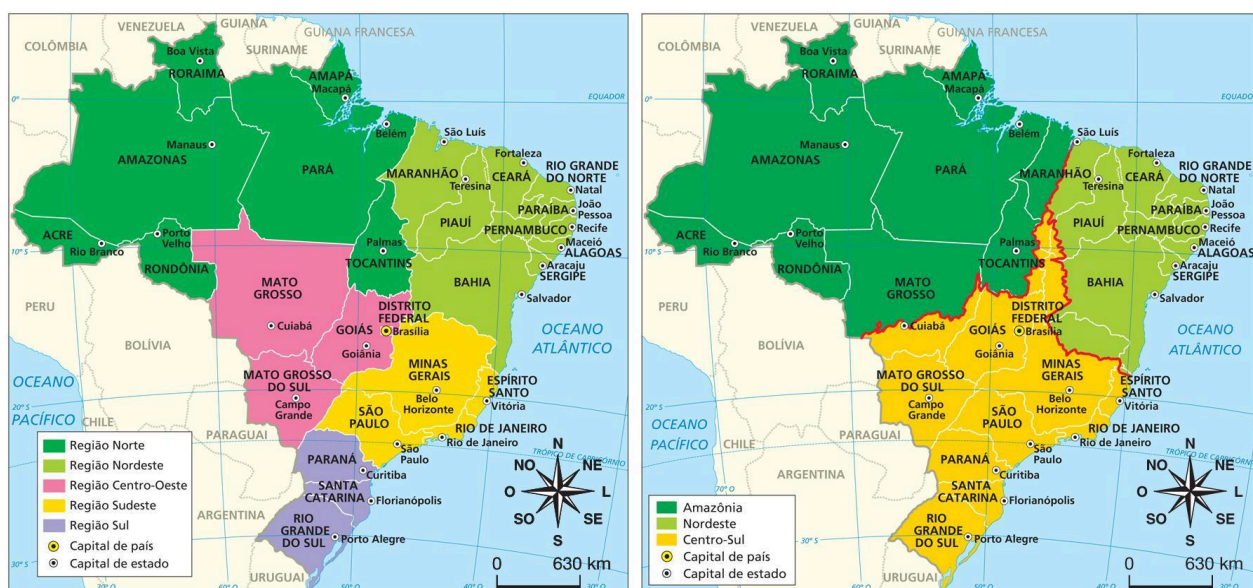


ANDERSON DE ANDRADE PIMENTEL

Fonte: IBGE. *Atlas geográfico escolar*. 7. ed. Rio de Janeiro: IBGE, 2016.



15. Circule o mapa que apresenta as regiões geoeconômicas do Brasil.



ANDERSON DE ANDRADE PIMENTEL

Fonte dos mapas: IBGE. *Atlas geográfico escolar*. 7. ed. Rio de Janeiro: IBGE, 2016.