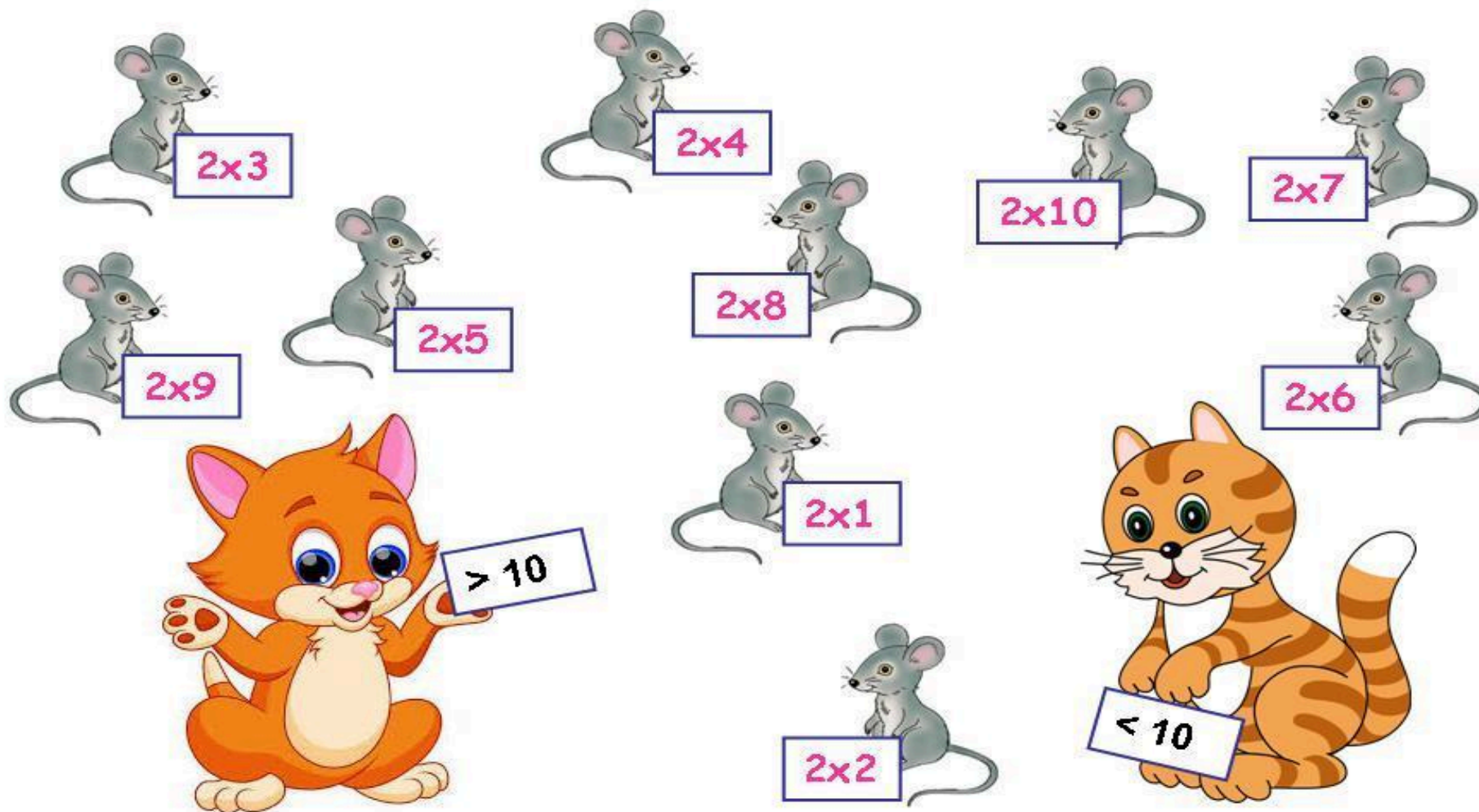


Скільки мишок спіймає кожна кішка?



Відповідь: _____

Відповідь: _____

В якому будинку живе кожна мишка?

2x3

2x4

2x6

2x7

2x5

2x2

2x8

2x9

2x10

2x4

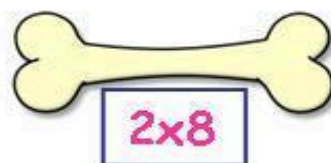
2x5

> 13

< 13

The image shows 12 mice arranged in a grid-like pattern. Each mouse is holding a small white sign with a multiplication problem. The problems are: 2x3, 2x4, 2x6, 2x7, 2x5, 2x2, 2x8, 2x9, 2x10, 2x4, and 2x5. Below the mice are two houses. The house on the left is a yellow log cabin with a red roof and a chimney, with a sign that says '> 13'. The house on the right is a brown log cabin with a thatched roof and a chimney, with a sign that says '< 13'.

Скільки кісточок згризе кожний песик?



Відповідь: _____

Відповідь: _____

На яке дерево впаде сніжинка?



2×1



2×7



2×3



2×9



2×4



2×5



2×2



2×10




2×8



2×6



> 9



< 9

Скільки шматочків сиру надгризла кожна мишка?



2×10



2×9



2×1



2×6



2×3



2×4



2×8




2×7



2×5



2×2



> 13

Відповідь: _____



< 13

Відповідь: _____

Скільки цукерок у кожного казкового героя?



4×2



8×2



3×2



2×2



9×2



1×2



7×2



10×2



6×2



> 9

Відповідь: _____



5×2



< 9

Відповідь: _____