

**PENILAIAN AKHIR SEMESTER (PAS)**  
**TAHUN PELAJARAN 2021/2022**

Mata Pelajaran : SBdP	Nama : .....
Kelas/Semester : III (Tiga) / 1 (Satu)	No.Induk : .....
Hari/Tanggal : .....	Waktu : ..... menit

**A. Berilah tanda silang ( x ) pada salah satu huruf A, B, atau C di depan jawaban yang paling tepat !**

1. “Tek kotak-kotek anak ayam turun berkotek”. Penggalan lagu tersebut berjudul....

- A. Tek kotak-kotek
- B. Anak ayam
- C. Berkotek

2. Dibawah ini merupakan contoh gerakan lemah, yaitu....

- A. Mendorong gerobak
- B. Mengangkat kursi
- C. Memegang kapas

3. Gerakan tangan kanan dan kiri mempunyai jari. Terdapat pada gambar ....



4. Kalimat lagu yang sesuai dengan gerakan pada gambar ialah ....

- A. tangan kanan dan kiri mempunyai jari.
- B. Direntangkan dibengkokkan putar pergelangan
- C. Acung depan dilentikkan, ayo tepuk tangan



5. Perbedaan yang terdapat pada gambar ikan di bawah ini ialah ....

- A. Terdapat pada tampilanny
- B. Terdapat pada badanya
- C. Terdapat pada motifnya



(A)



(B)

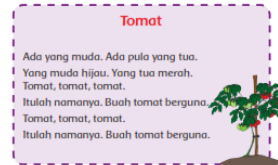
6. Pada gambar dibawah merupakan contoh kerajinan dengan teknik ....

- A. Bunga
- B. Mozaik
- C. Menghias



7. Judul lagu pada gambar di samping ialah ....

- A. Cemara
- B. Pohon
- C. Tomat



8. Gambar tersebut merupakan motif hias berbentuk ....

- A. Hewan
- B. Tumbuhan
- C. Bunga-bunga



9. Gerakan menyerupai angin puting beliung terlihat pada gambar ....

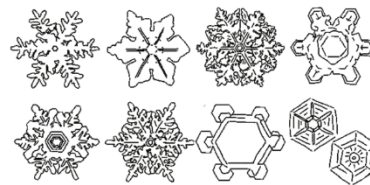


10. Contoh dari bentuk diantaranya ....

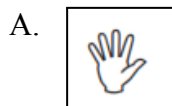
- A. Lurus, lengkung
- B. Merah, hijau
- C. Bulat, persegi

11. Gambar di samping merupakan ....

- A. Butiran salju yang dilihat di bawah mikroskop
- B. Butiran salju yang dilihat di bawah es
- C. Butiran salju yang dilihat di bawah langit



12. Ketukan kuat pada lagu ditandai dengan pola ....



B.



C.

13. Pola ketukan berurutan menurut gambar yang benar ialah ....

- A. Ketukan lemah, kuat, kuat
- B. Ketukan kuat, lemah, lemah
- C. Ketukan kuat, sedang-sedang



14. Memotong kertas bisa dilakukan dengan cara ....

- A. Melipat
- B. Menggunting dan merobek
- C. Menyambung

15. Alat musik ritmis adalah alat musik yang tidak bernada, namun dapat menghasilkan....

- A. Bunyi
- B. Nada
- C. Irama lagu

16. Yang bukan merupakan gambar dekoratif bertemakan matahari yaitu ....

A.



B.



C.



17. Bernyanyi sambil bertepuk tangan bisa melatih ....

- A. Suara
- B. Gerakan
- C. Konsentrasi

18. Kreasi pada gambar di bawah terbuat dari beberapa bentuk ....

- A. Bangun datar
- B. Warna
- C. Garis



19. Topi yang dipakai Dayu pada gambar dibuat menggunakan teknik ....


- A. Lipat
- B. Potong
- C. Sambung



20. Bahan utama yang digunakan untuk membuat topi kreasi ialah ....

- A. Kain bekas
- B. Kertas koran bekas
- C. Plastik bekas

**B. Isilah titik-titik berikut ini dengan jawaban yang benar !**

21.  Bahan-bahan yang digunakan untuk membuat kerajinan disamping adalah ....

22. Warna primer yaitu merah, kuning, dan .....



23. Gerakan siswa pada gambar adalah gerakan berjalan .....



24.  Anak perempuan pada gambar sedang ..... bersama Guru.

25. Cara memainkan gendang yaitu .....

**C. Jawablah pertanyaan-pertanyaan dibawah ini!**

26. Beri tanda  untuk nada pendek pada lagu dan tanda  untuk nada pendek pada lagu di bawah ini !

**Cicak di Dinding**

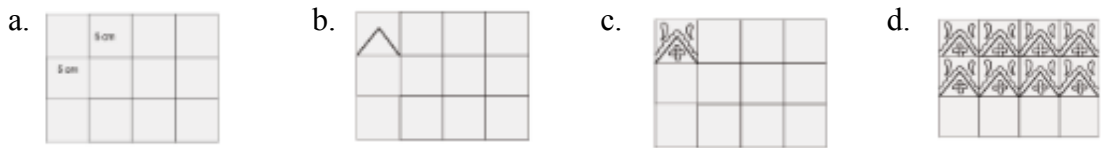
Cicak – cicak di dinding

Diam – diam merayap

Datang seekor nyamuk

Hap ... lalu ditangkap

27. Berikan penjelasan pada setiap urutan gambar yang tepat jika kita akan membuat gambar motif !



.....

.....

.....

.....


28. Anak-anak kelas 3 sedang menirukan gerakan ayam. Sebutkan 2 gerakan yang bisa dilakukan dalam menirukan gerakan ayam!



.....

.....

29. Tuliskan bahan-bahan untuk membuat kerajinan di bawah ini !



.....

.....

30. Urutkan cara melipat pakaian yang benar, dengan cara memberi nomor 1 sampai 5 pada masing-masing gambar di bawah ini !

