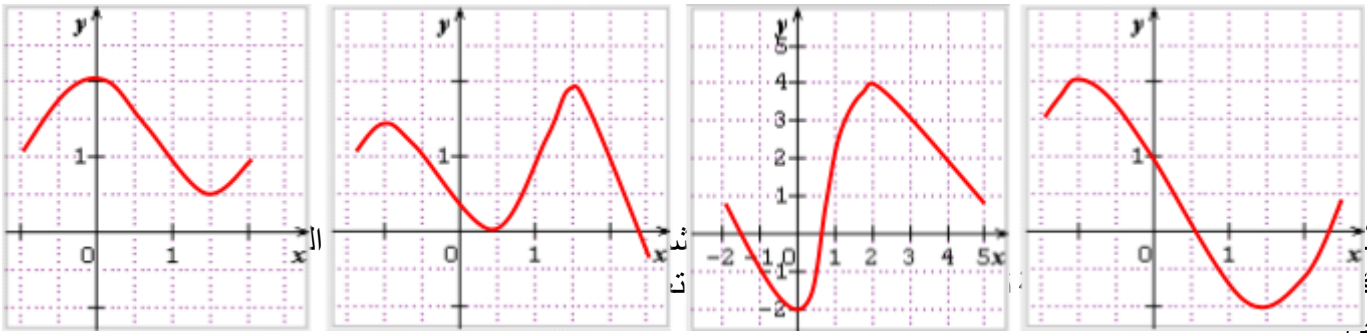


(1) أعط جدول تغيرات كل دالة من الدوال المعرفة بالتمثيلات البيانية أدناه :



(2) اكتب الجواب.

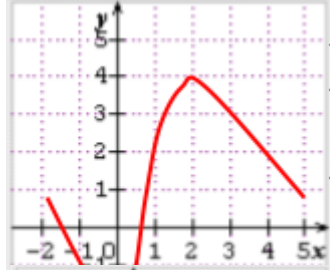
(1) أعط جدول تغيرات كل دالة من الدوال المعرفة بالتمثيلات البيانية أدناه :

الشكل 1



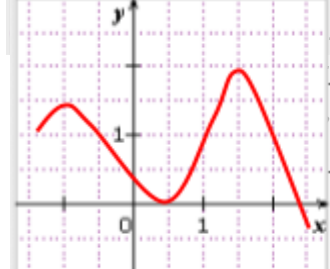
-1	1,5	2,5
2		0,5
	-1	

الشكل 2



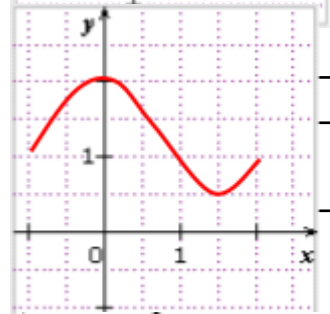
0	2	5
	4	
-2		

الشكل 3



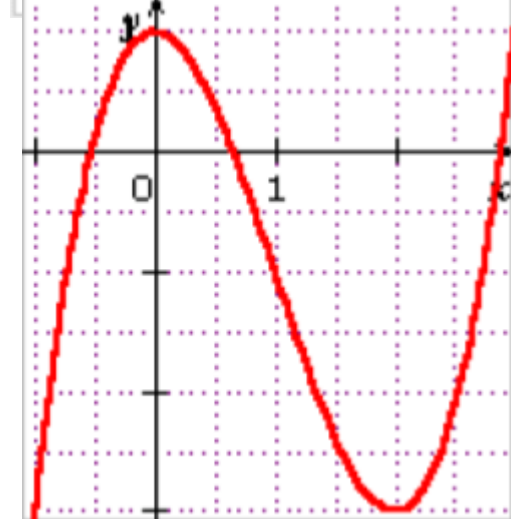
1	0,5	1,5	2,5
5		2	
	0		-0,5

الشكل 4



0	1,5	2
2		1
	0,5	

(2) اقترح مثلاً لدالة معرفة بواسطة تمثيلها البياني و أعط جدول تغيراتها.



2	3
	1
3	