

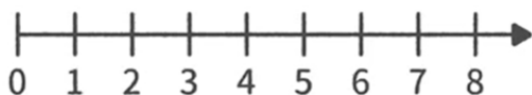


影片標題	【解題】在數線上做數的大小比較與加減		
姓名		座號	



🔑【影片重點】

- 觀察圖片，回答下列問題：



(1.) 數線上數字4右邊的數字，比4 _____ (大/小)。

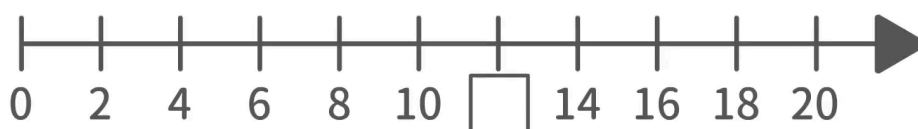
(2.) 數線上數字7左邊的數字，比7 _____ (大/小)。

(3.) 數線上右邊的數字比左邊的數字 _____ (大/小)。

- () 小樹蛙從數字8向左走了3格，可以用哪一個算式表示呢？
(A) $8-3$ (B) $8+3$ (C) $3+8$

🌟【想一想】

- 間格為1單位的數線，數字3在數線上往右邊移動三格，會變成多少呢？
- 觀察下圖並填填看，空格應該填入什麼數字呢？



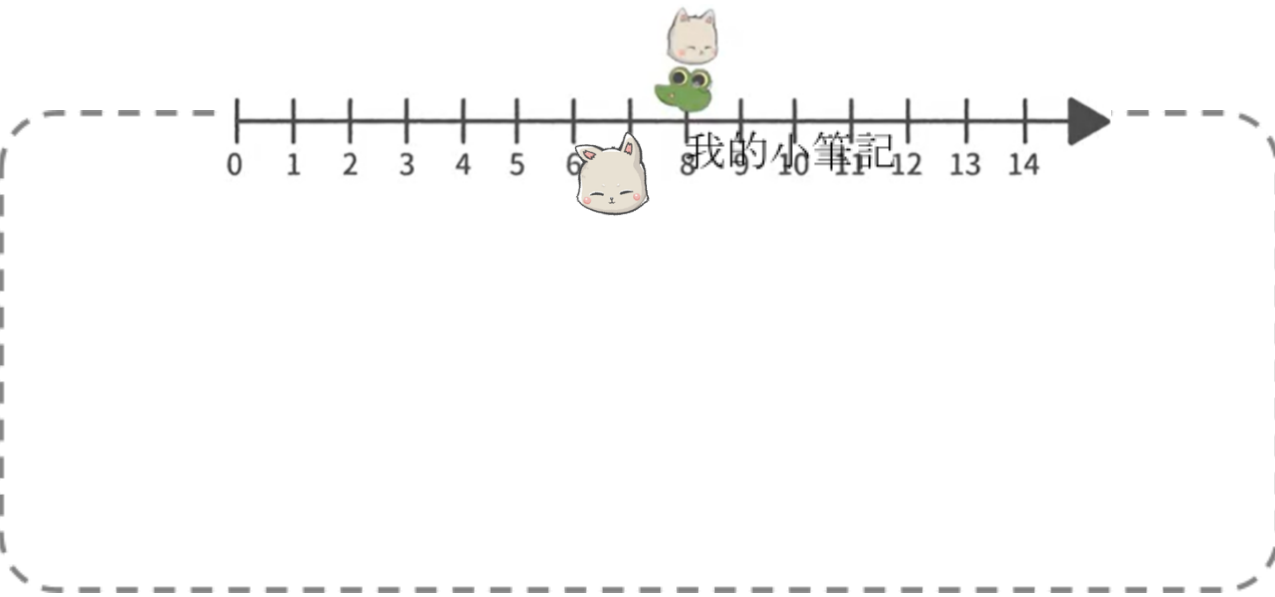
- 請問狐

狸貓從數字7走到數字12，請問走了幾格？



💡【延伸與應用】

- 小樹蛙和狐狸貓向右走了6格後停在8, 請問一開始他們是從哪個數字開始走？



【解答】

影片重點

大、小、大、A

想一想

6、12、5

延伸與應用

2

<計算過程> $8-6=2$

- 【學習單使用指引】

1. 此份學習單搭配的影片連結：

<https://junyiacademy.pse.is/6ec46t>

2. 國小三年級學習單國字含注音。下載學習單前，請先於電腦下載安裝書法中楷注音體。

- 【回饋建議表】

歡迎老師們點選[連結](#)或掃Qrcode提供此份學習單的使用回饋建議，讓我們有機會持續進步與製作更好的學習資源！

