

## PERUBAHAN SOSIAL

1. Perhatikan gambar pengolahan tanah berikut!



Penyebab perubahan yang terjadi pada gambar tersebut adalah faktor ....

- eksternal karena berkembangnya ilmu pengetahuan berpengaruh terhadap pola pikir masyarakat, termasuk penggunaan teknologi pertanian
- eksternal karena adanya *invention* dari kebudayaan masyarakat lain segera diadopsi oleh petani di Indonesia
- eksternal karena teknologi pertanian yang diperoleh dari kebudayaan lain berguna untuk meningkatkan efisiensi dan produksi
- internal karena dengan menggunakan teknologi pertanian, pemerintah membantu petani dalam proses ekstensifikasi pertanian
- internal karena kemauan dari kemampuan dari petani sendiri untuk mengubah teknologi pertanian mereka

2. Perhatikan ilustrasi berikut!

Masyarakat semakin dipermudah dalam memenuhi kebutuhan. Salah satunya melalui situs perdagangan *online (e-commerce)*. Melalui situs ini setiap orang dapat berbelanja produk dari berbagai negara hanya melalui telepon seluler atau komputer. Pada sisi lain, produsen memanfaatkan media massa untuk secara masif mengiklankan produk mereka. Kemudahan memperoleh beragam pilihan barang ditambah gencarnya iklan dapat meningkatkan konsumsi berlebih terhadap produk-produk luar negeri. Deskripsi tersebut menunjukkan adanya dampak negatif globalisasi di bidang ekonomi.

Dari ilustrasi, solusi yang bisa dilakukan untuk memecahkan masalah di atas adalah ....

- memboikot produk luar negeri yang merugikan industri dalam negeri
- mengurangi tayangan iklan di media massa yang terkait dengan produk asing
- menumbuhkembangkan kecintaan dan rasa bangga pada produk dalam negeri
- menerima keunggulan produk luar negeri sebagai bagian dari pengaruh globalisasi
- memaksimalkan pemanfaatan situs perdagangan *online* untuk memperoleh produk luar negeri dengan harga murah

3. Perubahan sosial pada dasarnya merupakan proses perubahan pada nilai-nilai, pola perilaku, dan juga hubungan sosial. Deskripsi tersebut menunjukkan ruang lingkup perubahan sosial bersumber pada...

- Pola perubahan
- Arti perubahan
- Sebab perubahan
- Tujuan perubahan
- Unsur yang berubah

4. Perhatikan gambar pola perubahan sosial ber



Contoh perubahan sosial dalam masyarakat sesuai dengan gambar tersebut adalah ...

- perubahan perkembangan dan pertumbuhan manusia dari bayi ke anak-anak, remaja, dewasa hingga tua dan digantikan oleh generasi keturunannya
- perubahan model pakaian yang berkembang dari pakaian jaman tradisional, modem hingga kembali ke model pakaian zaman dahulu
- perubahan peradaban dari mulai zaman Yunani dan Romawi hingga mengalami masa pertumbuhan sekarang, namun kemudian mengalami kemunduran
- perubahan sistem perdagangan dari mulai perdagangan secara barter, kemudian transaksi konvensional, hingga jual beli secara virtual
- perubahan gaya rambut sederhana hingga gaya rambut yang modern selalu berganti hingga kembali ke tren gaya rambut zaman dahulu

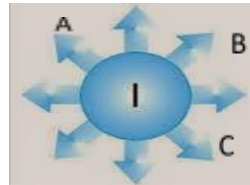
5. Perhatikan skema berikut!



Skema tersebut menunjukkan perubahan sosial berpola

- menyebarkan
- menjalar
- lineal
- memusat
- siklus

6. Perhatikan gambar berikut!



Keterangan gambar:  
I = Penemuan Satelit

A, B, C = Perubahan sosial

Berdasarkan gambar di atas, perubahan sosial yang akan terjadi dalam masyarakat adalah .....

- muncul sikap saling mencurigai antarmasyarakat, penguasaan sumber daya yang tidak seimbang, dan meningkatkan konflik sosial akibat kesalahpahaman berkomunikasi
- beragam pilihan produk dari luar negeri, kemudahan memperoleh jenis kuliner global dan tradisional, dan rentannya kesehatan masyarakat akibat tingkat konsumsi
- hilangnya jati diri bangsa karena globalisasi, menguatnya hubungan sosial secara sekunder, dan mengakibatkan tingginya mobilitas penduduk
- perubahan aktivitas birokrasi yang lebih transparan dan akuntabel, peningkatan partisipasi masyarakat dalam pemilihan umum, dan kompetensi aparat pemerintah
- timbul kesenangan baru masyarakat menonton tayangan sepak bola secara langsung di televisi,

## PERUBAHAN SOSIAL

informasi tentang cuaca dan meningkatnya pengguna kartu kredit

7. Perhatikan pernyataan berikut!

- (1) Fanatik berlebihan pada ideologinya
- (2) Kemiskinan struktural pada masyarakat
- (3) Pengadaan mobil perpustakaan keliling
- (4) Penyediaan beasiswa pendidikan keluar negeri
- (5) Mendirikan sekolah non formal berupa rumah singgah

Dari pernyataan tersebut diatas yang termasuk faktor pendorong perubahan sosial adalah...

- a. (1), (2), dan (3)
- b. (1), (2), dan (4)
- c. (1), (3), dan (5)
- d. (2), (4), dan (5)
- e. (3), (4), dan (5)

8. Perkembangan pesat di bidang teknologi yang memproduksi barang dengan harga terjangkau telah membawa perubahan pola perilaku masyarakat berupa keinginan untuk memenuhi kebutuhan hidupnya yang kian beragam. Kondisi tersebut akan berdampak pada berubahnya tatanan sosial seperti...

- A. Terjadi pergeseran nilai dan norma umum
- B. Terjadinya perubahan budaya secara total
- C. Pergeseran peran teknologi secara nyata
- D. Muncul budaya baru yang disukai remaja
- E. Meningkatnya pola konsumtif masyarakat

9. Perhatikan pernyataan berikut!

- (1) Penggantian rezim orde baru menjadi rezim reformasi.
- (2) Konversi minyak tanah ke gas sebagai bahan bakar rumah tangga.
- (3) Krisis keuangan melanda seluruh negara di benua Eropa.
- (4) Penemuan teknologi dalam meng-obati batu ginjal tanpa operasi.
- (5) Pencarian korban hilang menggunakan teknologi pengindraan.

Berdasarkan pernyataan tersebut, yang termasuk perubahan sosial yang direncanakan ditunjukkan oleh nomor

- a. (1), (2), dan (3)
- b. (1), (2), dan (4)
- c. (1), (3), dan (5)
- d. (2), (4), dan (5)
- e. (3), (4), dan (5)

10. Perhatikan gambar berikut!



Bentuk proses perubahan social seperti gambar adalah...

- A. Evolusi
- B. Linier
- C. Siklus
- D. Revolusi
- E. Unilinear

11. Perhatikan pertanyaan berikut!

- (1) Pewaris pimpinan tertinggi diberikan kepada seseorang yang professional
- (2) Kaum intelektual berperan dalam posisi strategis pemerintah
- (3) Walikota aktif mencalonkan diri menjadi wakil gubernur
- (4) Penduduk yang homogeny menyebabkan ketatnya kompetisi

(5) Penempatan posisi seseorang berdasarkan keturunan

Yang termasuk factor pendorong perubahan sosial karena diterapkannya system stratifikasi sosial terbuka adalah...

- a. (1), (2), dan (3)
- b. (1), (2), dan (4)
- c. (1), (3), dan (5)
- d. (2), (4), dan (5)
- e. (3), (4), dan (5)

12. Harapan masyarakat terhadap sekolah kini semakin tinggi. Sekolah dianggap mampu melakukan terobosan agar pelaksanaan pembelajaran kian menarik. Hal tersebut merupakan indicator penyebab terjadinya perubahan yang mengarah pada...

- A. Modernisasi
- B. Transparansi
- C. Independensi
- D. Demokrarisasi
- E. Gobalisasi

13. Beberapa fenomena!

- (1). Pesatnya perkembangan teknologi informasi
- (2). Musim kemarau panjang yang membakar hutan raya
- (3). Kontak kebudayaan dengan masyarakat lain
- (4). Kebiasaan untuk bersantap siang di restoran cepat saji

Contoh tersebut yang merupakan faktor bagi berlangsungnya perubahan sosial adalah...

- A. 1 dan 2
- B. 1 dan 3
- C. 2 dan 3
- D. 2 dan 4
- E. 3 dan 4

14. Perubahan sosial selalu terjadi pada masyarakat. Perubahan sosial yang merupakan rentetan-rentetan perubahan kecil yang saling berkaitan dan berlangsung dalam jangka waktu yang lama disebut dengan...

- a. Revolusi
- b. Revitalisasi
- c. Evolusi
- d. involusi
- e. transformasi

15. Perhatikan faktor sosial berikut!

- (1) Munculnya gerakan sosial dan pertentangan anti-kelompok dalam masyarakat
- (2) Perang dan pengaruh masyarakat lain dan kebudayaannya
- (3) Penemuan baru dan inovasi oleh anggota masyarakat kelompok/perorangan
- (4) Bencana yang menimbulkan perubahan lingkungan alam

Faktor penyebab perubahan sosial yang bersifat internal

- A. 1 dan 2
- B. 1 dan 3
- C. 2 dan 3
- D. 2 dan 4
- E. 3 dan 4

16. Adanya krisis bahan bakar minyak mendorong masyarakat untuk melakukan terobosan-terobosan baru dengan menciptakan kendaraan bermotor yang hemat energi bahkan mencari alternatif bahan bakar lain. Faktor penyebab perubahan pada wacana tersebut adalah ....

- A. penemuan baru
- B. masalah demografis
- C. konflik dalam masyarakat.
- D. pengaruh kebudayaan lain
- E. terjadinya pemberontakan

PERUBAHAN SOSIAL

17. Perhatikan skema perubahan sosial berikut!



Perubahan sosial pada gambar di samping berlangsung secara evolusi linier yaitu

- A. Sistem ekonomi berubah perlahan seiring kemajuan teknologi
- B. Sistem ekonomi berubah sangat cepat meski tanpa teknologi
- C. Perubahan pola hidup masyarakat berlangsung secara revolusi
- D. Kemampuan masyarakat membangun ekonomi dan teknologi
- E. Perkembangan iptek terkadang menghambat perubahan ekonomi

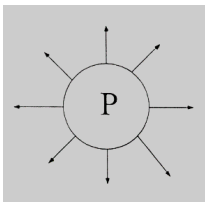
18. Beberapa penyebab perubahan sosial dalam masyarakat:

- (1) Penemuan baru pada peralatan dan perlengkapan hidup masyarakat
- (2) Konflik horizontal diantara kelompok partai politik peserta pilkada
- (3) Bencana alam yang menimbulkan perubahan lingkungan hidup
- (4) Penetrasi atau masuknya unsur budaya asing melalui media massa

Yang tergolong faktor ekstern terjadinya perubahan sosial adalah...

- A. 1 dan 2                      C. 2 dan 3                      E. 3 dan 4
- B. 1 dan 3                      D. 2 dan 4

19. Perhatikan bagan penemuan bam berikut!



Dampak penemuan baru seperti bagan di atas terhadap perubahan sosial adalah ....

- A. adanya berbagai merk televisi dapat memanjakan selera konsumen
- B. penemuan HP, mesin fax, dan kartu pos memudahkan komunikasi
- C. adanya laptop menjadikan komputer yang besar dan berat menjadi ringan
- D. penemuan pesawat tempur mempengaruhi sistem pertahanan negara
- E. penemuan telepon pintar (smartphone) memudahkan akses informasi

20. Beberapa bentuk perubahan:

- 1) membangun panti sosial untuk menampung anak-anak terlantar
- 2) Mendirikan sekolah nonformal yang berupa rumah singgah
- 3) Melokalisasi tempat-tempat yang berpraktik prostitusi
- 4) Menyediakan tempat-tempat hiburan malam

Perubahan social yang tergolong tidak dikehendaki...

- A. 1 dan 2                      C. 2 dan 3                      E. 3 dan 4
- B. 1 dan 3                      D. 2 dan 4

21. Beberapa fenomena dalam masyarakat:

- (1) Sikap masyarakat yang tradisional
- (2) Prasangka terhadap hal-hal yang baru
- (3) Peperangan yang terjadi antar negara
- (4) Perubahan lingkungan fisik/geografis

Dari contoh di atas yang dapat menghambat perubahan social adalah...

- A. 1 dan 2                      C. 2 dan 3                      E. 3 dan 4
- B. 1 dan 3                      D. 2 dan 4

22. Perhatikan pernyataan berikut!

- (1) Sikap masyarakat yang tradisional
- (2) Sikap menghargai terhadap masyarakat lain
- (3) Prasangka masyarakat terhadap hal-hal baru
- (4) Orientas hidup masyarakat pada masa depan
- (5) Memiliki kepentingan yang tertanam kuat

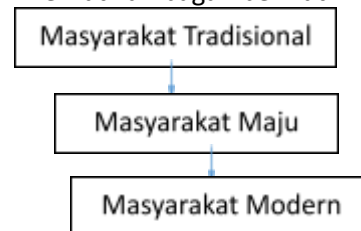
Yang dapat menghambat perubahan sosial adalah...

- A. (1),(2),dan (3)                      D. (2),(4),dan (5)
- B. (1),(2),dan (4)                      E. (3),(4),dan (5)
- C. (1),(3),dan (5)

23. Perubahan dalam masyarakat akan terus terjadi seiring dengan perkembangan jaman. Salah satu faktor yang menyebabkan masyarakat cenderung untuk berubah berkaitan dengan sikap inovatif adalah....

- A. sadar akan kekurangan yang dimiliki
- B. adanya tekanan dari berbagai pihak luar
- C. masyarakat yang memiliki wawasan luas
- D. struktur sosial yang terbuka terhadap perubahan
- E. rasa percaya diri bahwa kesuksesan harus diraih

24. Perhatikan bagan berikut ini !



Berdasarkan bagan teori perkembangan di atas arah perubahan yang terjadi bersifat .....

- a. Progres                      c. Spiral                      e. Besar
- b. Regres                      d. Kecil

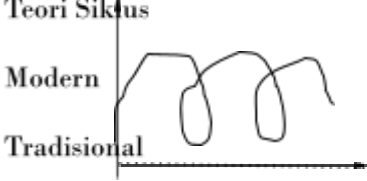
25. Kriminalitas atau kejahatan sebagai dampak perubahan sosial merupakan tindakan yang bertentangan dengan norma hukum. Berikut ini yang merupakan contoh dampak perubahan sosial dalam bentuk kriminalitas adalah ....

- a. Perzinaan
- b. Pencurian
- c. Kumpul kebo
- d. Membuat tato di bagian tubuh
- e. Mengenakan pakaian yang ketat

26. Perhatikan faktor-faktor perubahan berikut !

- (1) Kontak dan komunikasi dengan masyarakat lain
- (2) Adanya kepentingan yang tertanam kuat
- (3) Sikap menghargai karya orang lain dan keinginan untuk maju
- (4) Ikatan adat/tradisi yang kuat dan prasangka terhadap hal baru

## PERUBAHAN SOSIAL

- (5) Prilaku senang menerima masukan dari orang lain Yang merupakan faktor pendorong perubahan sosial adalah ....
- (1), (2), dan (3)
  - (1), (2), dan (4)
  - (1), (3), dan (5)
  - (2), (4), dan (5)
  - (3), (4), dan (5)
27. Perhatikan gejala social berikut!
- Nilai pasrah terhadap keadaan yang ada
  - Kurangnya hubungan dengan masyarakat lain
  - Prasangka buruk terhadap budaya asing
  - Sistem pelapisan masyarakat yang bersifat terbuka
  - Sikap menghargai hasil karya orang lain
- Yang termasuk dalam factor penghambat perubahan sosila adalah ...
- (1), (2), dan (3)
  - (1), (2), dan (4)
  - (1), (3), dan (5)
  - (2), (4), dan (5)
  - (3), (4), dan (5)
28. Perubahan sistem pemerintah akan diikuti dengan perubahan gaya hidup dan perilaku sosial sebagai akibat adanya kebijakan baru. Berdasarkan pernyataan tersebut menyebutkan bahwa perubahan sosial salah satunya dipengaruhi oleh faktor ...
- Geografi
  - Demografi
  - Teknologi
  - kepemimpinan
  - ideology
29. Kementrian Kelautan dan Perikanan tahun 2001 menjadikan lautan dan perikanan sebagai faktor unggulan perekonomian bangsa. Sejak itu lambat laun, para nelayan dan petani ikan serta masyarakat pasisir semakin sejahtera. Kontribusi perikanan semakin besar terhadap pertumbuhan perekonomian nasional nasional. Deskripsi tersebut menjelaskan adanya perubahan sosial dalam masyarakat yang disebabkan oleh ....
- Perubahan lingkungan alam
  - Perubahan aspek demokratis
  - Penemuan pemikiran baru
  - Mencontoh kebudayaan lain
  - Perubahan faktor material
30. Perhatikan skema perubahan sosial berikut !
- Teori Siklus**
- 
- Contoh Perubahan sosial yang sesuai dengan skema di atas adalah....
- Tren mengenakan pakaian dengan model kebaya berkembang lagi
  - Kepadatan penduduk di Jakarta menyebabkan lahan semakin sempit
  - Demonstrasi pada buruh menyebabkan pemerintah menetapkan aturan baru tentang ketenagakerjaan
  - Asap kebakaran hutan menyebabkan gangguan kesehatan masyarakat
- e. Seseorang dapat berbicara jarak jauh dengan menggunakan teknologi komunikasi
31. Transaksi keuangan antar negara kini tidak harus dengan membawa uang tunai, tetapi bisa menggunakan internet banking. Kemudahan transaksi melalui teknologi internet tersebut merupakan akibat dari adanya....
- Demokratisasi
  - Westernisasi
  - sekulerisme
  - Modernisasi
  - Polarisasi
32. Perhatikan gejala-gejala perubahan sosial berikut ini!
- Sikap masyarakat yang cenderung tradisional dan konservatif
  - Kekhawatiran terjadinya kegoyahan dalam integrasi kebudayaan
  - Prasangka terhadap hal-hal yang baru dan dinilai asing
  - Sikap menghargai hasil karya seseorang
  - Toleransi terhadap perbuatan menyimpang berdasarkan pernyataan di atas, yang tergolong faktor penghambat perubahan sosial ditunjukkan oleh nomor...
- (1), (2), dan (3)
  - (1), (2), dan (4)
  - (1), (2), dan (5)
  - (1), (3), dan (4)
  - (1), (4), dan (5)
33. modernisasi dan globalisasi dewasa ini telah terbukti memberikan kesempatan dan kemudahan untuk mendapatkan berbagai barang dan jasa dengan berbagai kualitas. Bagi masyarakat tertentu, perubahan itu membawa dampak positif, yaitu ...
- Membiasakan pola hidup yang mewah
  - Memberikan cara hidup yang nyaman
  - Mengembangkan gaya hidup yang nyaman
  - Menciptakan lingkungan hidup yang sehat
  - Menyediakan perlengkapan hidup yang murah
34. Modernisasi menyebabkan struktur sosial dalam masyarakat menjadi lebih terbuka. Akibatnya, masyarakat modern tidak mau lagi terkait dengan struktur sosial yang ketat dan tradisional. Gejala modernisasi tersebut bertujuan....
- meningkatkan rasa solidaritas bersama antarmasyarakat
  - menjunjung tinggi nilai-nilai persatuan dan keadilan
  - memudahkan masyarakat melakukan pengendalian sosial
  - membatasi otoritas, kekuasaan, dan kewenangan tradisional
  - mendorong individu ke arah yang lebih maju , dan kompetitif

## PERUBAHAN SOSIAL

35. Bangsa Indonesia adalah bangsa yang sangat beragam. Bentuk keanekaragaman bangsa Indonesia dapat dilihat dalam berbagai perbedaan agama, suku bangsa, bahasa, adat istiadat, mata pencaharian, maupun golongan dan kelas sosial. Namun demikian, setiap kelompok yang berbeda tersebut meyakini adanya satu pandangan hidup bangsa yaitu Pancasila, sebagai cerminan kepribadian bangsa Indonesia.

Berdasarkan ilustrasi di atas, akibat yang akan **timbul di masa mendatang** adalah ....

- A. saling menjunjung tinggi dan menghormati perbedaan yang ada di dalam masyarakat
- B. kelompok-kelompok tersebut dapat terintegrasi menjadi satu kesatuan bangsa dengan solidaritas yang tinggi
- C. karakter bangsa Indonesia yang multikultural menjadi panutan bagi bangsa lain dalam berhubungan dengan bangsa lainnya
- D. bangsa Indonesia akan memiliki karakter majemuk yang memiliki simbol persatuan
- E. masyarakat bersatu dengan menghilangkan keragaman budaya kelompok masyarakat

### URAIAN

- 36. Suatu kelompok atau masyarakat mungkin saja sangat terbuka dan menerima suatu bentuk perubahan lainnya. Berikan contoh pernyataan tersebut!
- 37. Bagaimanakah penambahan penduduk dapat mengakibatkan perubahan sosial!
- 38. Jelaskan dampak perubahan sosial terhadap kesenjangan budaya!
- 39. Sebutkan ciri-ciri manusia modern (min 3)
- 40. Jelaskan gejala modernisasi di bidang politik, dan berikan contohnya!

### JAWABAN URAIAN

