


El teatro

“ Un guión teatral es una historia representada por actores en una obra de teatro, ambientada por los elementos de la escenografía como son: iluminación, vestuario, muebles, etcétera.”

Texto creado con fines didácticos MEAD.



 **Dibuja la escenografía y los personajes en la escena 1 y 2 de la siguiente obra de teatro. Puedes ayudarte con tu libro Lengua Materna Español en la página 83.**

La selva silba

ESCENA 1

Entra lluvia y baila por todos lados. Entra hombre con maleta.

– Hombre: No para de llover aquí. Pero que selva tan bella. Me gustaría tenerla para mí.
¿Quién será el dueño?

ESCENA 2

Entran dos Motilones.

– Motilón 1: Nadie es dueño de la selva. Pero todos vivimos aquí. Somos parte de la selva y la selva es parte de nosotros.

– Hombre: ¿Todos? ¿Cuántos serían?

– Motilón 2: Bueno, tenemos muchos hermanos de diferentes tribus. Más o menos un centenar.

– Hombre: ¿Cien tribus? ¡Hmmmmmmm!

Pero la selva es grande. Cabremos todos. ¿Y en cuánto me la vende?

– Motilón 1: Como dije. Nadie es dueño de la selva. Nadie la puede comprar o vender.

– Motilón 2: Sería como vender a nuestra mamá.


(Silencio)

<https://obrasdeteatrocortas.net/la-selva-silba/>
Consultado el 21/Septiembre/2020

ESCENA 1

ESCENA 2

👁️👁️ Observa y escribe a qué personaje corresponde el vestuario. Puedes apoyarte con tu libro de Lengua Materna Español en la página 87.




Elabora un cartel para invitar a la comunidad escolar para ver la obra de “La Cigarra y la Hormiga”. Puedes apoyarte con tu libro de Lengua Materna Español en las páginas 83 a la 91.

Contamos



Cuenta el número de peces que se observan en la imagen y contesta. Puedes ayudarte con tu libro de Matemáticas en las páginas 87 y 88.



¿Cuántos peces hay?

¿Cuántos peces faltan para 50?

Componemos y descomponemos



Calcula la cantidad que falta para completar el total. Ayúdate de tu libro de Matemáticas de las páginas 91 a la 94.

$30 + \boxed{5} = 35$

$45 + \boxed{} = 50$

$13 + \boxed{} = 20$


$32 + \boxed{} = 40$

$26 + \boxed{} = 30$

$7 + \boxed{} = 10$






Dibuja los cohetes espaciales que faltan para completar la cantidad total.



+

=

10



+

=


40



Escribe la descomposición de los siguientes números en la tabla, sigue el ejemplo. Puedes ayudarte de tu libro de Matemáticas en la página 95.

Número	Descomposición	
	Decenas	Unidades
13	10	3
22		
36		
48		

A sumar y restar

 Observa el ejemplo y realiza las operaciones, luego completa la operación escribiendo los signos correspondientes y anota el resultado.



Tengo 50 pesos,
le agrego
cinco y luego
le quito 15.

$$\boxed{50} + \boxed{5} - \boxed{15}$$


El resultado es:

40

El resultado es:

46

Tengo 63 pesos,
le quito 20
y luego le
agrego 3.



El resultado es:

64



Tengo
70 pesos,
le quito 10
y luego le
agrego 4.

VISITA:

<https://materialeducativo.org/>

&

<https://materialeseducativos.m>

X