

PURNAMA MERINDU.MY.ID

**PENILAIAN AKHIR SEMESTER 2
TAHUN PELAJARAN 2023/2024**

Tema : 6. Energi dan Perubahannya Hari/Tanggal :
Kelas / Semester : III/2 Waktu :

A. Pilihlah salah satu huruf A, B, atau C pada jawaban yang kamu anggap benar!

1. Air sangat penting bagi kehidupan kita, sehingga kita harus menggunakan air dengan ...
A. Sesuka hati
B. Hemat
C. Boros
D. terserah

2. Menyiram tanaman dengan air hujan merupakan salah satu penghematan energi...
A. Matahari
B. Air
C. Angin
D. Kimia

3. Berikut contoh perilaku hemat energi adalah
A. Mematikan lampu saat siang hari
B. Membiarkan kran air terbuka
C. Menyalakan TV saat akan tidur
D. Menyiram bunga sambil main air

4. Kegiatan menghemat energi di sekolah merupakan kewajiban ...
A. Penjaga sekolah
B. Siswa
C. Guru
D. Semua warga sekolah

5. Ibu Dayu lupa mematikan kran air setelah mencuci piring. Sikap Dayu sebaiknya...
A. Tidak peduli
B. Mematikan kran air
C. Menyuruh ibu menutupnya
D. Membiarkan kran air

6. Udin suka menyalakan TV walaupun ia tidak menontonnya. Sikap Udin mencerminkan sikap
A. Boros
B. Hemat
C. Sombong
D. Irit
7. Dayu diberi hak oleh ibunya untuk menonton TV, ia juga memiliki kewajiban untuk ...
A. Membiarkannya tetap hidup
B. Menonton sampai malam
C. Menonton dengan suara keras
D. Mematikan jika sudah tidak menonton

8. Membersihkan lingkungan sekitar tempat tinggal adalah kewajiban...
A. Petugas kebersihan
B. Orang tua
C. Semua masyarakat
D. Anak-anak

9. Agar tercipta sekolah yang asri, kewajiban warga sekolah adalah
A. Menanam bunga dan pohon rindang
B. Membiarkan sampah berserakan
C. Membuang-buang air
D. Menyalakan kipas angin dari pagi

10. Manusia berhak menggunakan sumber energi tapi juga memiliki kewajiban untuk
A. Menjualnya
B. Menguasainya
C. Menghabiskannya
D. Melestarikannya

11. Menjemur pakaian memanfaatkan energi yang berasal dari....
A. Matahari
B. Air
C. Angin
D. Tanah

12. Sumber energi yang berasal dari fosil hewan adalah
A. Air
B. Panas bumi
C. Angin
D. Bahan bakar minyak (BBM)

13. Manusia memperoleh energi dari

- A. Matahari
- B. Angin
- C. Makanan
- D. Bensin

14. PLTS merupakan salah satu pembangkit listrik yang memanfaatkan

- A. Angin
- B. Air
- C. Matahari
- D. Listrik

15. Perubahan energi listrik menjadi energi panas terjadi pada

- A. Setrika
- B. Mesin cuci
- C. Kipas angin
- D. Blender

16. Pada saat kipas angin menyala, terjadi perubahan energi listrik menjadi energi

- A. Panas
- B. Gerak
- C. Cahaya
- D. Kimia

17. Memukul kentongan merupakan contoh perubahan energi gerak menjadi energi ...

- A. Bunyi
- B. Cahaya
- C. Panas
- D. Listrik

18. Sumber energi yang dapat menggantikan BBM disebut sumber energi...

- A. Alternatif
- B. Panas
- C. Listrik
- D. Kinetik

19. Energi alternatif yang diperoleh dari kotoran hewan disebut ...

- A. Sel surya
- B. Biogas
- C. Panas bumi
- D. PLTB

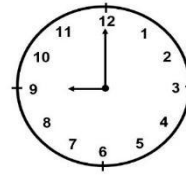
20. Sumber energi terbesar di bumi adalah...

- A. Bulan
- B. Bintang
- C. Matahari
- D. Angin

21. Kegiatan yang membutuhkan waktu yang singkat adalah

- A. Tidur
- B. Menyisir rambut
- C. Mencuci baju
- D. Mandi

22. Gambar jam di bawah menunjukkan pukul ...



- A. 09.00
- B. 09.05
- C. 09.15
- D. 09.30

23. Banyak hari dalam 1 minggu adalah

- A. 7 hari
- B. 8 hari
- C. 9 hari
- D. 10 hari

24. Dayu pergi ke pasar pukul 08.00 dan kembali ke rumah pukul 10.00. Lama Dayu berbelanja di pasar adalah

- A. 1 jam
- B. 2 jam
- C. 3 jam
- D. 4 jam

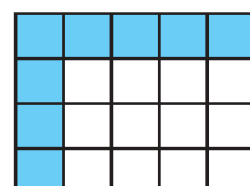
25. Perhatikan minuman kaleng di bawah ini! Minuman di bawah masih dapat dikonsumsi sebelum ...

- A. 20 Januari 2022
- B. 20 Februari 2022
- C. 20 Maret 2022
- D. 20 April 2022



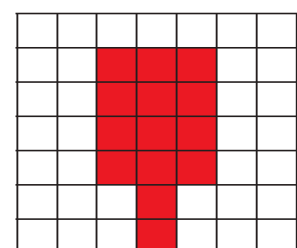
26. Luas bangun yang berwarna di bawah ini adalah ... persegi satuan

- A. 6
- B. 7
- C. 8
- D. 9



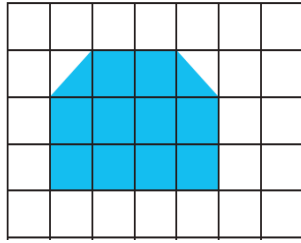
27. Luas dari bangun di bawah ini adalah ... persegi satuan

- A. 11
- B. 12
- C. 13
- D. 14



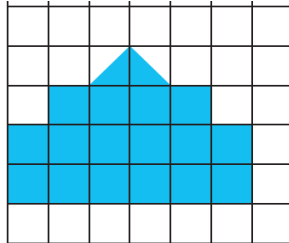
28. Luas dari bangun di bawah ini adalah ... persegi satuan

- A. 10
- B. 11
- C. 12
- D. 13



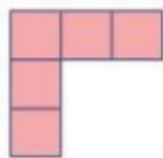
29. Luas kipas Edo di bawah ini adalah ... persegi satuan

- A. 15
- B. 16
- C. 17
- D. 18



30. Keliling dari bangun yang diwarnai pada gambar di bawah ini adalah ... persegi satuan.

- A. 12
- B. 13
- C. 14
- D. 15



31. Karya seni untuk menghias disebut ...

- A. Kriya
- B. Dekoratif
- C. Arsitek
- D. Grafik

32. Dibawah ini yang bukan pola dekoratif adalah ...

- A. Hewan
- B. Manusia
- C. Tumbuhan
- D. Udara

33. Layang-layang diberi hiasan dengan menggunakan titik, garis, dan bidang agar ...

- A. Terlihat aneh
- B. Terlihat indah
- C. Susah terbang
- D. Lama terbang

34. Alat music yang tidak bernada disebut alat musik...

- A. Ritmis
- B. Melodis
- C. Tradisional
- D. Modern

35. Alat musik di bawah ini yang dimainkan dengan cara dipukul adalah ...

- A. Piano
- B. Gitar
- C. Rebana
- D. Marakas

36. Terdapat dua macam gerak kaki dalam tarian yaitu gerak kaki lemah dan gerak kaki ...

- A. Lambat
- B. Cepat
- C. Kuat
- D. Gemulai

37. Jika musik bertempo cepat, maka gerak kaki harus ...

- A. Kuat
- B. Lemah
- C. Tergesa-gesa
- D. Pelan

38. Kincir angin dari kertas digerakkan oleh energi ...

- A. Air
- B. Angin
- C. Matahari
- D. Baterai

39. Jika angin berembus kencang, maka putaran kincir angin akan ...

- A. Semakin cepat
- B. Semakin lambat
- C. Semakin pelan
- D. Semakin lemah

40. Bahan utama yang dipakai untuk membuat layang-layang adalah ...

- A. Karet
- B. Plastik
- C. Kain
- D. Bambu

KUNCI JAWABAN
TEMA 6

1. B	11. A	21. B	31. B
2. B	12. D	22. A	32. D
3. A	13. C	23. A	33. B
4. D	14. C	24. B	34. A
5. B	15. A	25. A	35. C
6. A	16. B	26. C	36. C
7. D	17. A	27. D	37. A
8. C	18. A	28. B	38. B
9. A	19. B	29. C	39. A
10. D	20. C	30. A	40. D

LEMBAR JAWABAN
PENILAIAN AKHIR SEMESTER 2 TP. 2023/2024

Nama :
Kelas : III (Tiga)
Tema : 6. Energi dan Perubahannya

1	A	B	C	D
2	A	B	C	D
3	A	B	C	D
4	A	B	C	D
5	A	B	C	D

21	A	B	C	D
22	A	B	C	D
23	A	B	C	D
24	A	B	C	D
25	A	B	C	D

6	A	B	C	D
7	A	B	C	D
8	A	B	C	D
9	A	B	C	D
10	A	B	C	D

26	A	B	C	D
27	A	B	C	D
28	A	B	C	D
29	A	B	C	D
30	A	B	C	D

11	A	B	C	D
12	A	B	C	D
13	A	B	C	D
14	A	B	C	D
15	A	B	C	D

31	A	B	C	D
32	A	B	C	D
33	A	B	C	D
34	A	B	C	D
35	A	B	C	D

16	A	B	C	D
17	A	B	C	D
18	A	B	C	D
19	A	B	C	D
20	A	B	C	D

36	A	B	C	D
37	A	B	C	D
38	A	B	C	D
39	A	B	C	D
40	A	B	C	D