

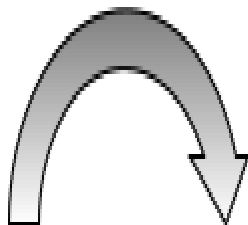
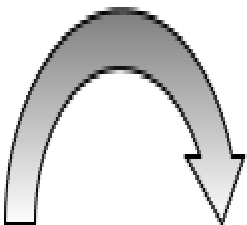
ATASÖZLERİMİ


Verilen atasözlerinin eksik sözcüğünü tamamlayınız.

Gülme	komşuna		başına.
Ağaç	yaş	iken	
Sakla		gelir	zamanı.
Ayağını	yorganına	göre	
Lafla	peynir		yürümez.
	üzüme	baka	
İşleyen		pas	tutmaz.
İnsanoğlu	çiğ		emmiş.
Söz	atasö	ve yaz	ise
			sukut

HARF KUTUSUNDAN BULALIM

Aşağıdaki harf kutusunda verilen kavramlardan hangileri bulunmaktadır? İşaretleyin.





DOĞRU / YANLIŞ

Aşağıda verilen ifadelerden doğru olanların kutusuna D harfi, yanlış olanların kutusuna Y harfi koyunuz.

Para birimimiz dolardır.	1
Bir sayının içinde, başka bir sayının kaç tane bulunduğunu anlamak için bölme işlemi yaparız.	
<input type="checkbox"/> 44 sayısının içinde 2 sayısı 22 defa vardır.	
<input type="checkbox"/> Üzümü, elmayı, muz, terazi ile tartarız.	
<input type="checkbox"/> Sütü terazi ile tartarız.	
<input type="checkbox"/> Bir litresi 800 Kr olan sütün yarım litresi 400 Kr'tur.	
<input type="checkbox"/> Terziler uzunlukları ölçmek için metre kullanır.	
<input type="checkbox"/> Bir sayıyı 10 ile kısa yoldan çarparken sonuna iki sıfır koyarız.	
<input type="checkbox"/> Metre kısaca "m" ile gösterilir.	

BOŞLUK

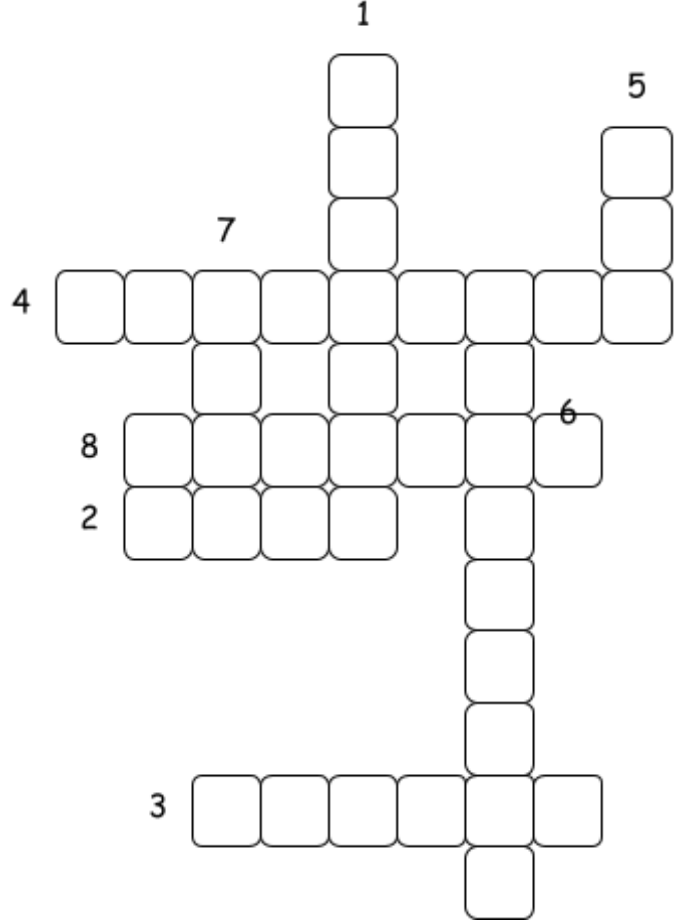
Aşağıdaki ifadelerde bırakılan boşlukları uygun kelime gruplarıyla tamamlayınız.



1. Umut akşam yemeğini
2. Bu tahta çok
3. "Türk, övün, çalış, güven." Cümlesi heceden oluşur.
4. Yalancının mumu yatsıya kadar
5. "Tutumlu" kelimesinin eş anlamlısı'dır.

BULMACA

1. Spor müsabakalarını yöneten kişi.
2. Sağlıklı yaşam için yaptığımız egzersiz hareketlerinin genel adı.
3. Her bir takımda 11 kişinin görev aldığı spor dalı.
4. Her bir takımda 5 kişinin görev aldığı spor dalı.
5. Futbolda bir terim.
6. Oyun alanının ortasında bir file bulunan ve karşılıklı 6'şar kişinin oynadığı spor dalı.
7. Basketbolda bir terim.
8. Futbola benzeyen, ancak elle oynanan spor dalı.



EŞLEŞTİRME

Aşağıdaki problemlerin çözümünün hangi işlemlerle yapılacağını eşleştiriniz.

- 1.) Günde 30 sayfa kitap okuyan Emre, 150 sayfalık bir kitabı kaç günde okur?
- 2.) Bir kutuda 8 tane süt şişesi vardır. 32 kutuda kaç şişe süt vardır?
- 3.) Bir koli yumurtada 30 tane yumurta olduğuna göre, 4 kolide kaç yumurta olur?
- 4.) 100 TL'nin yarısı kaç TL yapar?
- 5.) 70 tane 50 TL kaç lira yapar?
- 6.) 200 TL'nin içinde kaç tane 10 TL vardır?
- 7.) 69 kağıdı 3 arkadaş paylaşıyorlar. Her birine kaç kağıt düşer?



8.) 600 sayfalık kitabı 10 günde bitirmek için her gün kaç sayfa okumalıyım?

EĞLENCELİ BULMACA

S _ _ V G _ _

H _ _ Ş G _ _ R _ _

H _ _ K _ _ K _ _ T

V _ _ R S _ _

D _ _ S T L _ _ K

_ _ R _ _ M _ _ Z D _ _

G _ _ R Ç _ _ K

D _ _ N Y _ _

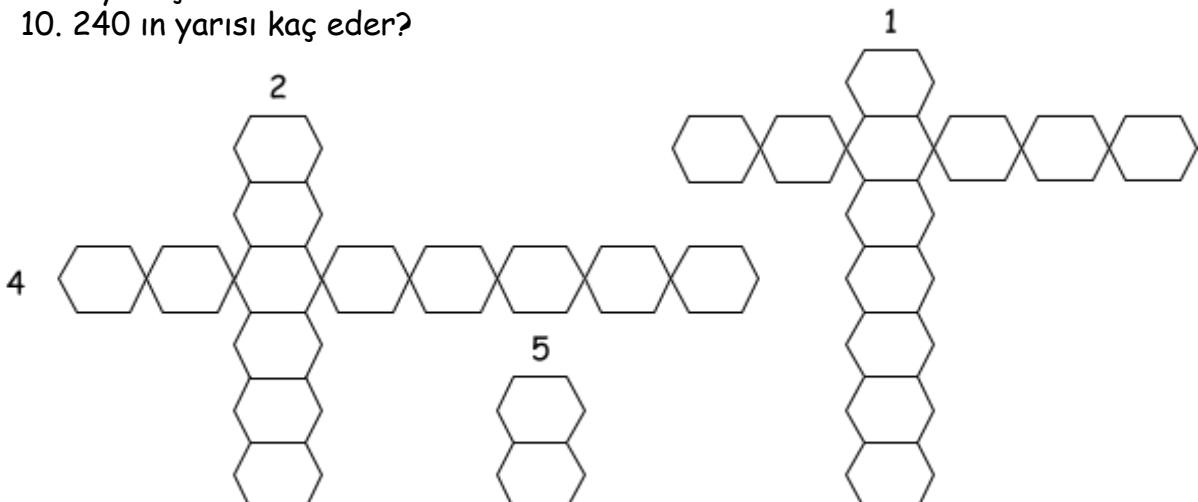
D _ _ Y _ _ N _ _ Ş M _ _

C _ _ N N _ _ T

PROBLEM BULMACA

Aşağıdaki problemlerin cevaplarını bulmacaya yerleştiriniz.

1. Uzun kenarı 12 cm, kısa kenarı 7 cm olan dikdörtgenin çevresi kaç cm dir?
2. Bir çıkarma işleminde eksilen 546, fark 146 ise çıkan kaçtır?
3. Mert 14 yaşındadır. Annesi Mert'ten 32 yaş büyük olduğuna göre annesi ile Mert'in yaşları toplamı kaçtır?
4. Babamın yaşı benim yaşımın 3 katının 7 fazlasıdır. Ben 10 yaşında olduğuma göre ikimizin yaşları toplamı kaçtır?
5. 24 ten başlayarak (24 dahil) 4 er ritmik sayma yaptığımızda 7. saymada hangi sayıyı söyleriz.
6. Bir kutuda bulunan 426 kalemin $\frac{1}{3}$ si kaçtır?
7. Çevresi 66 cm olan dikdörtgenin bir kısa kenarının uzunluğu 6 cm dir. Buna göre uzun kenarın uzunluğu kaç cm dir?
8. Tanesi 17 TL olan 3 ayakkabı aldım. Kaç TL ödemem gerekmektedir?
9. İki sayının toplamı 48 dir. Büyük sayı küçük sayının üç katıdır. Buna göre büyük sayı kaçtır?
10. 240 ın yarısı kaç eder?



DÖGRÜ -

Ailede bulunan bireyler, birbirlerinin haklarına saygı gösterirler.

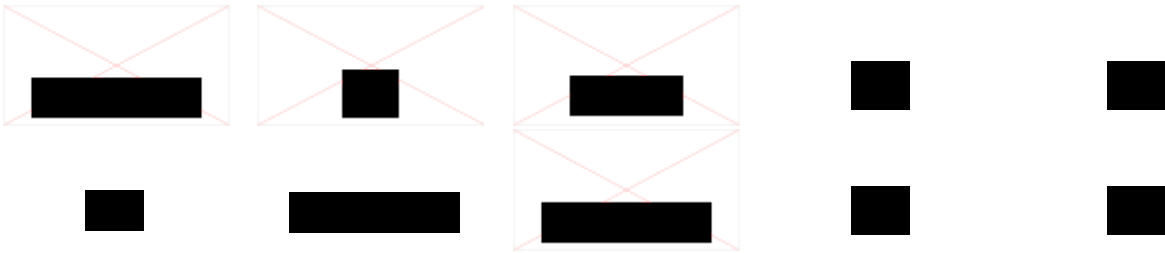
Karıncaların yuvaları ağaçların yapraklarında bulunur.

Reklamlar sadece televizyonlarda yapılır.

Çevremizdeki kişilerle iyi ilişkiler kurduğumuzda olumlu tepkiler alırız.

Lider, bulunduğu gruba tüm şahsi işlerini yaptırır.

DOLDUR DOLDUR ...



1. Kesir çizgisinin üzerinde altında vardır.
2. Paydası eşit olan kesir sayısında payı büyük olan kesir
3. Saatin üzerindeki küçük okun adıtir.
4. Bir gün saat, 7 gün saattir.
5. Romen rakamlarında yirmi sayısı şeklinde gösterilir.
6. Bir deste kalemin ikide biri kalemdir.

7. Bir günün dörtte biri saattir.
8. Alanı 9 birim olan karenin her satırında birim kare vardır.
9. 50 sayısının ikide birinin 4 katı dür.
10. 30 yumurtanın üçte birini yedik geriye yumurta kaldı.

NOKTALAMA

Aşağıda Karadeniz fıkrasındaki kutucuklara uygun noktalama işaretleri koyunuz.



KAFAN ÇALIŞIYOR

Temel bir gün Dursun'a, balık kılıçığı yemenin insan kafasını çalıştırdığını söylemiş
Bu habere sevinen Dursun, yanına Temel'i de alarak hemen bir balık lokantasına girmiş
Az sonra gelen balıkların etini Temel kılıçıklarını Dursun yemiş

Böylece üç porsiyon balık tükettikten sonra Dursun hesabı ödemiş ve dışarıya çıkmışlar

Yolda bir ara Dursun

Baa bak ula Temel sen galiba beni kazuklayusun demiş Temel gülerek cevap vermiş

Bak gördün mü Kafan çalışmaya başladı bile

EŞLEŞTİRME

Aşağıda verilen kavramlarla anlamlarını eşleştiriniz.

- 1) İsteklerimizi, hareketlerimizle veya gözlerimizle anlatmaya denir.
- 2) Sağlığımız konusunda başvurduğumuz kişidir.
- 3) Görsel iletişim aracıdır.
- 4) Evimizde kullandığımız cam, metal, tahta gibi maddelerden yapılır.
- 5) Bir ürünü tanıtmak, beğendirmek için yapılan çalışmaya denir.

- Doktor
- Beden dili
- Eşya
- Reklam
- Televizyon

SAATLER

Aşağıdaki boş saat katranlarına istenen saatleri çiziniz. Çizerken mutlaka cetvel kullanınız. Ayrıca akrebi kırmızı, yelkovanı mavi renkli kalemlerle çiziniz.

Saat 23.12

Saat 19.37

Saat 14.21

Saat 21.49

Saat 17.02

Saat 03.34

Saat 11.28

Saat 07.05

Saat 09.19

Saat 01.15

ÖZEL İSİM

Aşağıdaki boşluklara özel adlar yerleştiriniz.

1

Başkentimiz dır.

2

İstiklal Marşı'nı yazmıştır.

3

Annemin adı, babamın adı dır.

4

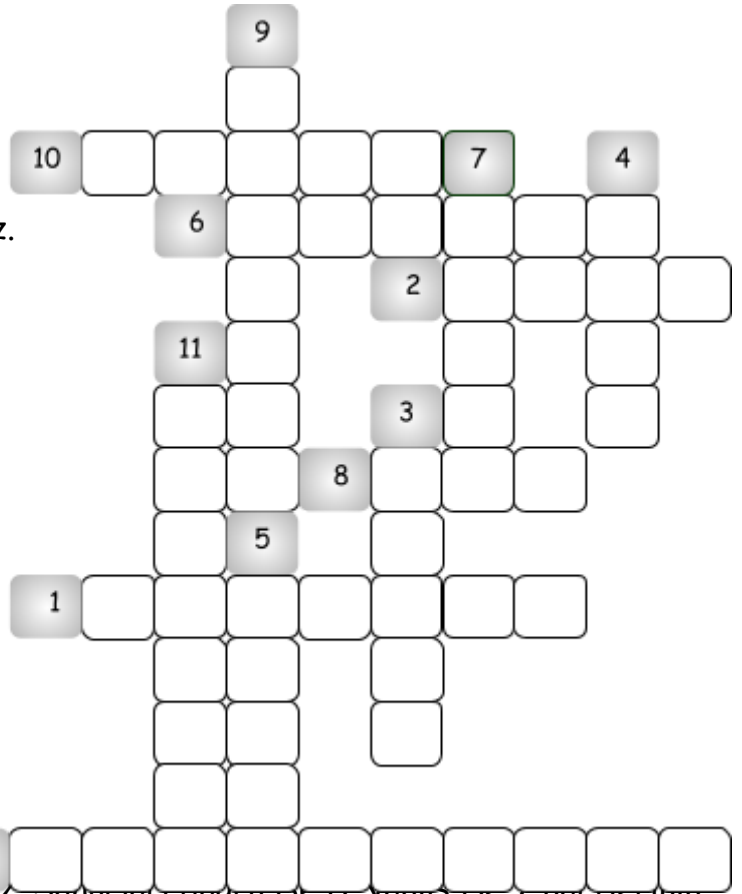
Köpeğimin adını koydum.

5

Ben Okulu'nda okuyorum.

BULMACA

1. Kayısıyla meşhur olan ilimiz.
2. Ana yönlerden biri.
3. Yurt
4. En yüksek dağın bulunduğu ilimiz.
5. Para birimimiz.
6. Yurdumuzun başkenti.
7. Akdeniz bölgesinde bir ilimiz.
8. En büyük gölün bulunduğu ilimiz.
9. "Horon" ile meşhur olan ilimiz.
10. Yaşadığımız ilimiz.
11. En kalabalık ilimiz.
12. Atatürk'ün öldüğü sarayın adı.



ÇARPMA İŞLEMİ

Aşağıdaki çarpma işlemlerini yapınız. Sonuçları doğru ise D, yanlış ise Y harflerini altındaki harfleri işaretleyiniz. İşaretlediğiniz harfleri yukarıdan aşağıya okuyarak şifreyi çözünüz.

	D	Y
28X34=952 <input type="checkbox"/>	Ç	Ç
17X32=564 <input type="checkbox"/>	E	A
16X43=848 <input type="checkbox"/>	V	L
73X12=876 <input type="checkbox"/>	I	C
94X24=188 <input type="checkbox"/>	İ	Ş
16X23=368 <input type="checkbox"/>	K	T
28X33=924 <input type="checkbox"/>	A	N
37X85=757 <input type="checkbox"/>	Ü	N
45X16=720 <input type="checkbox"/>	I	Ö
18X28=604 <input type="checkbox"/>	R	M

EŞ ANLAMLI SÖZCÜKLER

Kutucuklarda verilen sözcüklerin eş anlamlılarını bulmacadan bulup boyayalım.

MEKTEP	SORUN	CÜMLE	BULUŞ	İHTİYAR
SİYAH	ÖĞRETMEN	SONBAHAR	YABANCI	HEDİYE
MİLLET	BEYAZ	VASITA	DOKTOR	YÜZYIL

SÖZCÜK	KARŞIT	SAVAŞ	AL (RENK)	UYARI								
VAKİ T				EV								
İL				YIL								
İLGİ				TÜR								
NUTU K				YURT								
	U	K	Z	İ	T	A	A	C	İ	N	S	G
	L	P	I	O	K	L	U	M	A	K	K	Ü
	U	E	T	İ	H	A	R	P	İ	K	A	Z
	S	L	İ	C	M	K	E	H	A	E	Z	İ
	K	A	R	A	N	A	A	E	M	L	İ	Z
	I	R	İ	T	Z	U	K	E	N	İ	G	İ
	R	M	N	L	E	E	Ş	T	Ü	M	C	E
	M	A	T	İ	H	K	S	E	N	E	M	P
	I	Ğ	R	Y	A	İ	İ	R	B	V	U	R
	Z	A	M	A	N	M	Ö	Y	L	İ	A	O
	I	N	E	Ş	E	C	E	L	D	L	L	B
	O	K	U	L	A	N	H	A	R	A	L	L
	H	A	T	I	O	A	S	I	R	Y	İ	E
	F	A	Z	L	A	T	N	U	Ş	E	M	M
	U	P	A	N	L	A	A	Ş	I	T	R	I
	S	Ö	Y	L	E	V	Z	A	R	A	Ç	